



Staff Selection Commission  
(Government Of India)

REGISTRATION NUMBER : KnowledgePhilic.com

EXAM DATE : 25-January-2017 EXAM

NAME : SSC Examination 2016 TOTAL

MARKS : 200

CANDIDATE NAME : KnowledgePhilic.com

EXAM START TIME : 13:15:00

EXAM DURATION : 01:15 Hrs

TOTAL NO OF QUESTIONS : 100

**QID : 101** - Select the related word/letters/number from the given alternatives.

Screw Gauge : Thickness :: Sphygmomanometer : ?

दिए गए विकल्पों में से संबंधित शब्द/अक्षर/संख्या को चुनिए।

पेचमापनी : मोटाई :: रक्तदाबमापी : ?

**Options:**

1) Blood pressure

रक्त दाब

2) Haemoglobin

हीमोग्लोबिन

3) Keratin

केराटिन

4) Insulin

इंसुलिन

**Correct Answer:** Blood pressure

रक्त दाब

**Candidate Answer:** Blood pressure

रक्त दाब

**QID : 102** - Select the related word/letters/number from the given alternatives.

ENLARGE : EGRALNE :: ? : RETOOC

दिए गए विकल्पों में से संबंधित शब्द/अक्षर/संख्या को चुनिए।

ENLARGE : EGRALNE :: ? : RETOOC

**Options:**

1) TERCSOO

2) SCOOTER

3) SCOTTER

4) REOOTCS

**Correct Answer:** SCOOTER

**Candidate Answer:** REOOTCS

**QID : 103** - Select the related word/letters/number from the given alternatives.

FG : 67 :: UV : ?

दिए गए विकल्पों में से संबंधित शब्द/अक्षर/संख्या को चुनिए।

FG : 67 :: UV : ?

**Options:**

1) 1926

2) 2021

3) 2122

4) 2621

**Correct Answer:** 2122

**Candidate Answer:** 2122

**QID : 104** - Select the related word/letters/number from the given alternatives.

867 : 21 :: 9164 : ?

दिए गए विकल्पों में से संबंधित शब्द/अक्षर/संख्या को चुनिए।

867 : 21 :: 9164 : ?

**Options:**

- 1) 55
- 2) 25
- 3) 20
- 4) 65

**Correct Answer:** 20

**Candidate Answer:** [ NOT ANSWERED ]

**QID : 105** - Find out the odd word/letters/number/number pair from the given alternatives.

दिए गए विकल्पों में से विषम शब्द/अक्षर/संख्या/संख्या युग्म चुनिए।

**Options:**

- 1) Pen drive  
पेनड्राइव
- 2) Floppy disk  
फ्लोपी डिस्क
- 3) CD ROM  
सीडी रोम
- 4) Mouse  
माउस

**Correct Answer:** Mouse

माउस

**Candidate Answer:** Mouse

माउस

**QID : 106** - Find out the odd word/letters/number/number pair from the given alternatives.

दिए गए विकल्पों में से विषम शब्द/अक्षर/संख्या/संख्या युग्म चुनिए।

**Options:**

- 1) BE
- 2) VZ
- 3) QU
- 4) KO

**Correct Answer:** BE

**Candidate Answer:** BE

**QID : 107** - Find out the odd word/letters/number/number pair from the given alternatives.

दिए गए विकल्पों में से विषम शब्द/अक्षर/संख्या/संख्या युग्म चुनिए।

**Options:**

- 1) 992
- 2) 848
- 3) 749
- 4) 777

**Correct Answer:** 777

**Candidate Answer:** 777

**QID : 108** - Find out the odd word/letters/number/number pair from the given alternatives.

दिए गए विकल्पों में से विषम शब्द/अक्षर/संख्या/संख्या युग्म चुनिए।

**Options:**

- 1) 550
- 2) 945
- 3) 963
- 4) 320

**Correct Answer:** 320

**Candidate Answer:** 963

KnowledgePhilic.com  
UPSC – SSC – Bank – Railway – LIC – FCI – DMRC

**QID : 109** - A series is given with one term missing. Choose the correct alternative from the given ones that will complete the series.

Arctic Circle, Tropic of Cancer, ?, Tropic of Capricorn

एक अनुक्रम दिया गया है, जिसमें से एक पद लुप्त है। दिए गए विकल्पों में से वह सही विकल्प चुनिए जो अनुक्रम को पूरा करे।

आर्कटिक सर्कल, कर्क रेखा, ?, मकर रेखा

**Options:**

1) Temperate zone

शीतोष्ण कटिबंध

2) Equator

भूमध्य रेखा

3) Antarctic Circle

अंटार्कटिक रेखा

4) Prime Meridian

प्रधान मध्याह्न रेखा

**Correct Answer:** Equator

भूमध्य रेखा

**Candidate Answer:** Equator

भूमध्य रेखा

**QID : 110** - A series is given with one term missing. Choose the correct alternative from the given ones that will complete the series.

730, 1001, 1332, 1729, ?

एक अनुक्रम दिया गया है, जिसमें से एक पद लुप्त है। दिए गए विकल्पों में से वह सही विकल्प चुनिए जो अनुक्रम को पूरा करे।

730, 1001, 1332, 1729, ?

**Options:**

1) 1236

2) 3256

3) 2910

4) 2198

**Correct Answer:** 2198

**Candidate Answer:** [ NOT ANSWERED ]

**QID : 111** - In the following question, two statements are given each followed by two conclusions I and II. You have to consider the statements to be true even if they seem to be at variance from commonly known facts. You have to decide which of the given conclusions, if any, follows from the given statements.

Statement:

(I) Air purifier is the latest innovation of this decade.

(II) Marketers identified the need and grabbed the opportunity of polluted atmosphere and created a new product for people.

Conclusions:

(I) The reason for invention of air purifier is rising levels of pollution.

(II) The need is created in market about the product and then it is established.

निम्नलिखित प्रश्न में, दो कथन दिए गए हैं जिनके आगे दो निष्कर्ष I और II निकाले गए हैं। आपको मानना है कि कथन सत्य है चाहे वे सामान्यतः ज्ञात तथ्यों से भिन्न प्रतीत होते हों। आपको निर्णय करना है कि दिए गए निष्कर्षों में से कौन सा/कौन से निश्चित रूप से कथनों द्वारा सही निकाला जा सकता है/सकते हैं, यदि कोई हो।

कथन:

(I) वायु शोधक (एअर प्यूरीफायर) इस दशक का नवीनतम उत्पाद है।

(II) बाजार के जानकारों ने प्रदूषित हवा में इस जरूरत को पहचान लिया और लोगों के लिए एक नया उत्पाद तैयार किया।

निष्कर्ष:

(I) प्रदूषण का बढ़ता स्तर वायु शोधक के आविष्कार का कारण है।

(II) बाजार में इस उत्पाद की जरूरत बनाई गई और फिर इसे स्थापित किया गया।

**Options:**

1) Only conclusion II follows

केवल निष्कर्ष II लागू होता है।

2) Conclusion I and II both follow

निष्कर्ष I और II दोनों लागू होता है।

3) Neither I nor II follow

न निष्कर्ष I न ही II लागू होता है।

4) Only conclusion I follows

केवल निष्कर्ष I लागू होता है।

**Correct Answer:** Only conclusion I follows

केवल निष्कर्ष I लागू होता है।

**Candidate Answer:** Neither I nor II follow

न निष्कर्ष I न ही II लागू होता है।

**QID : 112** - A series is given with one term missing. Choose the correct alternative from the given ones that will complete the series.

ABC, ZYX, DEF, WVU, ?

एक अनुक्रम दिया गया है, जिसमें से एक पद लुप्त है। दिए गए विकल्पों में से वह सही विकल्प चुनिए जो अनुक्रम को पूरा करे।

ABC, ZYX, DEF, WVU, ?

**Options:**

1) GHI

2) IJK

3) MNO

4) EFG

**Correct Answer:** GHI

**Candidate Answer:** GHI

**QID : 113** - A series is given with one term missing. Choose the correct alternative from the given ones that will complete the series.

GB, ID, LG, ?

एक अनुक्रम दिया गया है, जिसमें से एक पद लुप्त है। दिए गए विकल्पों में से वह सही विकल्प चुनिए जो अनुक्रम को पूरा करे।

GB, ID, LG, ?

**Options:**

1) NO

2) BA

3) PK

4) XY

**Correct Answer:** PK

**Candidate Answer:** PK

**QID : 114** - There are 150 residents in a society. Out of them, 50 residents own a motorcycle, 60 residents own a car and 20 residents own both a car and a motorcycle. How many residents neither own a motorcycle nor a car?

एक सोसाइटी में रहनेवाले निवासियों की कुल संख्या 150 है। उनमें से, 50 निवासियों के पास मोटरसाइकल है, 60 निवासियों के पास कार है, और 20 निवासियों के पास कार और मोटरसाइकल दोनों है। कितने निवासी ऐसे हैं जिनके पास न कार और न ही मोटरसाइकल है?

**Options:**

1) 20

2) 30

3) 60

4) 10

**Correct Answer:** 60

**Candidate Answer:** 60

**QID : 115** - Arrange the given words in the sequence in which they occur in the dictionary.

- i. Hunger
- ii. Horse
- iii. Hungry
- iv. Handmade

निम्नलिखित शब्दों को शब्दकोश में आने वाले क्रम के अनुसार लिखें।

- i. Hunger
- ii. Horse
- iii. Hungry
- iv. Handmade

**Options:**

1) iv, ii, i, iii

2) iii, iv, ii, i

3) iv, iii, i, ii

4) i, iv, ii, iii

**Correct Answer:** iv, ii, i, iii

**Candidate Answer:** i, iv, ii, iii

**QID : 116** - In a certain code language, "ENERGETIC" is written as "ETICGENER". How is "CARTRIDGE" written in that code language?

एक विशिष्ट कोड भाषा में "ENERGETIC" को "ETICGENER" लिखा जाता है। इस कोड भाषा में "CARTRIDGE" को किस प्रकार लिखा जाएगा?

**Options:**

1) IDGESCART

2) IDGERCRAT

3) IDEGRCART

4) IDGERCART

**Correct Answer:** IDGERCART

**Candidate Answer:** IDGERCART

**QID : 117 -**

In the following question, select the missing number from the given series.

निम्नलिखित प्रश्न में दिए गए विकल्पों में से लुप्त अंक ज्ञात कीजिए।

64	56	46
32	20	36
9	29	?

**Options:**

1) 45

2) 23

3) 20

4) 51

**Correct Answer:** 23

**Candidate Answer:** [ NOT ANSWERED ]

**QID : 118 -** If "A" denotes "added to", "C" denotes "divided by", "D" denotes "multiplied by" and "B" denotes "subtracted from", then

81 C 9 D 11 B 4 A 6 = ?

यदि "A" का अर्थ "जोड़" है, "C" का अर्थ "भाग" है, "D" का अर्थ "गुणा" है और "B" का अर्थ "घटाव" है, तो

81 C 9 D 11 B 4 A 6 = ?

**Options:**

1) 101

2) 150

3) 102

4) 132

**Correct Answer:** 101

**Candidate Answer:** 101

**QID : 119 -** In the following question, which one set of letters when sequentially placed at the gaps in the given letter series shall complete it?

t\_vw\_u\_w\_uvww

निम्नलिखित प्रश्न में अक्षरों का कौन सा समूह खाली स्थानों पर क्रमवार रखने से दी गई अक्षर श्रृंखला को पूरा करेगा?

t\_vw\_u\_w\_uvww

**Options:**

1) ttvt

2) vttt

3) utvt

4) uttt

**Correct Answer:** utvt

**Candidate Answer:** utvt

**QID : 120 -** Ram cycles 5 km in the south, and turns left to travel 5 km further. From there, he takes a right turn and travels 5 km more. How far is he from his original position?

राम दक्षिण दिशा में 5 कि.मी. साइकल चलाता है, फिर बाएं मुड़कर 5 कि.मी. जाता है। वहाँ से, वह दाएं मुड़कर 5 कि.मी. और जाता है। वह अब अपने मूल स्थान से कितनी दूरी पर है?

**Options:**

1) 5 km

5 कि.मी.

2)  $5\sqrt{5}$  km

$5\sqrt{5}$  कि.मी.

3) 10 km

10 कि.मी.

4) 6 km

6 कि.मी.

**Correct Answer:** 5√5 km  
5√5 कि.मी.

**Candidate Answer:** 10 km  
10 कि.मी.

**QID : 121 -**

A word is represented by only one set of numbers as given in any one of the alternatives. The sets of numbers given in the alternatives are represented by two classes of alphabets as shown in the given two matrices. The columns and rows of Matrix-I are numbered from 0 to 4 and that of Matrix-II are numbered from 5 to 9. A letter from these matrices can be represented first by its row and next by its column, for example, 'N' can be represented by 21, 67 etc. and 'R' can be represented by 66, 57 etc. Similarly, you have to identify the set for the word 'PUMP'.

एक शब्द केवल एक संख्या-समूह द्वारा दर्शाया गया है, जैसा कि विकल्पों में से किसी एक में दिया गया है। विकल्पों में दिए गए संख्या-समूह अक्षरों के दो वर्गों द्वारा दर्शाए गए हैं, जैसा कि दिए गए दो आव्यूहों में है। आव्यूह-I के स्तम्भ और पंक्ति की संख्या 0 से 4 और आव्यूह-II की 5 से 9 है। इन आव्यूहों में से एक अक्षर को पहले उसकी पंक्ति और बाद में स्तम्भ संख्या द्वारा दर्शाया जा सकता है। उदाहरण के लिए 'N' को 21, 67 आदि द्वारा दर्शाया जा सकता है तथा 'R' को 66, 57 आदि द्वारा दर्शाया जा सकता है। इसी तरह से आपको प्रश्न में दिए शब्द 'PUMP' के लिए समूह को पहचानना है।

**Matrix-I**  
**आव्यूह - I**

	0	1	2	3	4
0	P	R	A	N	B
1	W	U	N	H	L
2	E	N	S	G	O
3	N	Y	P	O	M
4	M	T	O	F	A

**Matrix-II**  
**आव्यूह - II**

	5	6	7	8	9
5	Z	M	R	I	Q
6	X	R	N	W	P
7	C	S	Y	E	U
8	S	N	P	M	S
9	P	B	E	R	P

**Options:**

1) 23, 57, 11, 88

2) 69, 11, 40, 99

3) 32, 02, 11, 87

4) 00, 99, 87, 32

**Correct Answer:** 69, 11, 40, 99

**Candidate Answer:** 69, 11, 40, 99

**QID : 122 -** Introducing a man, a woman says, "He is the son-in-law of the wife of my father and I am the only child of my parents". How is the man related to the woman?

एक व्यक्ति का परिचय करते हुए एक महिला कहती है, "वह, मेरे पिता की पत्नी का दामाद है और मैं अपने माता-पिता की इकलौती संतान हूँ।" तो वह व्यक्ति उस महिला से कैसे संबंधित है?

**Options:**

1) Nephew

भांजा

2) Husband

पति

3) Brother-in-law

बहनोई

4) Cousin

चचेरा भाई

**Correct Answer:** Husband

पति

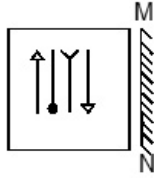
**Candidate Answer:** Husband

पति

QID : 123 -

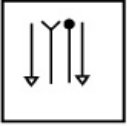
If a mirror is placed on the line MN, then which of the answer figures is the right image of the given figure?

यदि एक दर्पण को MN रेखा पर रखा जाए, तो दी गई उत्तर आकृतियों में से कौन सी आकृति प्रश्न आकृति की सही प्रतिबिम्ब होगी?

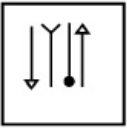


Options:

1)



2)



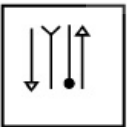
3)



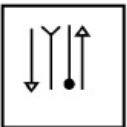
4)



Correct Answer:



Candidate Answer:



QID : 124 - Identify the diagram that best represents the relationship among the given classes.

Search engines, Google, Bing, Yahoo

वह आरेख चुनिए जो नीचे दिए गए वर्गों के बीच के संबंध का सही निरूपण करता है।

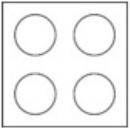
सर्च इंजन, गूगल, बिंग, याहू

KnowledgePhilic.com

UPSC – SSC – Bank – Railway – LIC – FCI – DMRC

Options:

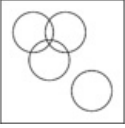
1)



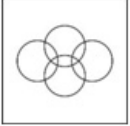
2)



3)



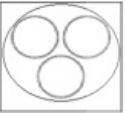
4)



Correct Answer:



Candidate Answer:



KnowledgePhilic.com

QID : 125 -

A piece of paper is folded and punched as shown below in the question figures. From the given answer figures, indicate how it will appear when opened.

नीचे प्रश्न आकृतियों में दर्शाये अनुसार कागज को मोड़कर छेदने तथा खोलने के बाद वह किस उत्तर आकृति जैसा दिखाई देगा?





Options:

1)



2)



3)



4)



Correct Answer:



Candidate Answer:



KnowledgePhilic.com

QID : 126 - Buland Darwaza is the main entrance to the palace at?

बुलंद दरवाजा किस स्थान के महल का मुख्य प्रवेश द्वार है?

Options:

1) Amer Fort

आमेर का किला

2) Gwalior Fort

ग्वालियर का किला

3) Fatehpur Sikri

फतेहपुर सीकरी

4) Agra Fort

आगरे का किला

Correct Answer: Fatehpur Sikri

फतेहपुर सीकरी

Candidate Answer: Fatehpur Sikri

फतेहपुर सीकरी

QID : 127 - Highest Civilian Honour received by Dilip Kumar is

दिलीप कुमार द्वारा प्राप्त सर्वोच्च नागरिक सम्मान है

Options:

1) Padma Shri

पद्मश्री

2) Padma Bhushan

पद्म भूषण

3) Padma Vibhushan

पद्म विभूषण

4) Bharat Ratna

भारत रत्न

Correct Answer: Padma Vibhushan

पद्म विभूषण

Candidate Answer: Padma Bhushan

पद्म भूषण

QID : 128 - Which of the following organs produces the enzyme lipase?

निम्नलिखित में से कौन सा अंग लायपेज एंजाइम उत्पन्न करता है?

Downloaded From [www.KnowledgePhilic.com](http://www.KnowledgePhilic.com)

**Options:**

- 1) Pancreas  
अम्याशय
- 2) Large Intestine  
बड़ी आंत
- 3) Liver  
जिगर
- 4) Small Intestine  
छोटी आंत

**Correct Answer:** Pancreas  
अम्याशय

**Candidate Answer:** Liver  
जिगर

**QID : 129** - A \_\_\_\_\_ is a long internode forming the basal part or the whole of a peduncle.

एक \_\_\_\_\_ एक लंबा इंटरनोड है, जो निचला हिस्सा या संपूर्ण डंठल बनाता है।

**Options:**

- 1) rhizome  
प्रकंद
- 2) rachis  
मेरुदण्ड
- 3) floral axis  
पुष्प अक्ष
- 4) scape  
भगदड़

**Correct Answer:** scape  
भगदड़

**Candidate Answer:** rhizome  
प्रकंद

**QID : 130** - Which of the following organisms are considered to be both Living and Non-living?

निम्नलिखित में से कौनसे जीवाणुओं को जीवित और अजीवित दोनों माना जाता है?

**Options:**

- 1) Bacteria  
बैक्टीरिया
- 2) Fungi  
कवक
- 3) Algae  
शैवाल
- 4) Virus  
वायरस

**Correct Answer:** Virus  
वायरस

**Candidate Answer:** Algae  
शैवाल

**QID : 131** - The Chemical formula of Ammonium oxalate is \_\_\_\_\_.

अमोनियम ऑक्जलेट का रासायनिक सूत्र \_\_\_\_\_ है।

**Options:**

- 1)  $\text{NH}_4\text{C}_2\text{O}_4$
- 2)  $(\text{NH}_4)_2\text{CO}_4$
- 3)  $(\text{NH}_4)_2\text{C}_2\text{O}_4$
- 4)  $(\text{NH}_4)_2\text{C}_2\text{O}_3$

**Correct Answer:**  $(\text{NH}_4)_2\text{C}_2\text{O}_4$

**Candidate Answer:** [ NOT ANSWERED ]

**QID : 132** - Benzene is \_\_\_\_\_ in ethyl alcohol.

बेंजीन एथिल अल्कोहल में \_\_\_\_\_ है।

**Options:**

- 1) soluble  
घुलनशील
- 2) solute  
विलेय
- 3) insoluble  
अघुलनशील
- 4) insoluate  
धूप में सुखाना

**Correct Answer:** insoluble  
अघुलनशील

KnowledgePhilic.com

UPSC – SSC – Bank – Railway – LIC – FCI – DMRC

**Candidate Answer:** insoluble  
अघुलनशील

**QID : 133** - VoIP in computer science stands for?

कंप्यूटर विज्ञान के क्षेत्र में वीओआईपी का विस्तारित रूप क्या है?

**Options:**

1) Virtual over Identifier Protocol

वर्चुअल ओवर आइडेंटिफायर प्रोटोकॉल

2) Voice over Internet Protocol

वॉईस ओवर इंटरनेट प्रोटोकॉल

3) Voice over Interface Protocol

वॉईस ओवर इंटरफ़ेस प्रोटोकॉल

4) Voice over Instruction Protocol

वॉईस ओवर इंस्ट्रक्शन प्रोटोकॉल

**Correct Answer:** Voice over Internet Protocol

वॉईस ओवर इंटरनेट प्रोटोकॉल

**Candidate Answer:** Voice over Internet Protocol

वॉईस ओवर इंटरनेट प्रोटोकॉल

**QID : 134** - The Indian musical instrument 'Surbahar' is of which type?

भारतीय संगीत वाद्य "सुरबहार" किस प्रकार का वाद्य है?

**Options:**

1) Impact

प्रहार वाद्य

2) Wind

वायु वाद्य

3) String

तंतुवाद्य

4) Percussion

आघात-वाद्ययंत्र

**Correct Answer:** String

तंतुवाद्य

**Candidate Answer:** Wind

वायु वाद्य

**QID : 135** - For a certain shoe factory the fixed costs are Rs 200,000, selling price is Rs 2000 per pair of shoes and variable cost is Rs 1200 per pair, what is the breakeven quantity?

एक विशेष जूता फैक्टरी के लिए निर्धारित लागत 200,000 रु हैं, जूते की प्रति जोड़ी बिक्री मूल्य 2000 रु है और परिवर्तनीय लागत 1200 रु प्रति जोड़ी है, तो लाभ-अलाभ (ब्रेकइवन) मात्रा क्या है?

**Options:**

1) 100

2) 62.5

3) 167

4) 250

**Correct Answer:** 250

**Candidate Answer:** [ NOT ANSWERED ]

**QID : 136** - Which of the following will cause an increase in the demand for coffee?

निम्न में से कौन सा कॉफी के लिए मांग में वृद्धि होने का कारण होगा?

**Options:**

1) Price of coffee falling in foreign markets

विदेशी बाजारों में कॉफी की कीमत गिर रही है

2) Coffee prices are expected to fall rapidly in domestic markets

कॉफी की कीमतों की घरेलू बाजार में तेजी से गिरावट होने की उम्मीद की जा रही है

3) Average income falls in the country

देश में औसत आय कम हो जाती है

4) Increase in price of tea

चाय की कीमत में वृद्धि होती है

**Correct Answer:** Increase in price of tea

चाय की कीमत में वृद्धि होती है

**Candidate Answer:** Coffee prices are expected to fall rapidly in domestic markets

कॉफी की कीमतों की घरेलू बाजार में तेजी से गिरावट होने की उम्मीद की जा रही है

**QID : 137** - Which of the following countries has the highest population density?

निम्नलिखित में से किस देश में सबसे घनी आबादी है?

**Options:**

1) China

चीन

2) India

भारत

3) Phillipines

फिलीपिंस

4) United Kingdom

यूनाइटेड किंगडम

**Correct Answer:** India

भारत

**Candidate Answer:** India

भारत

**QID : 138** - Which of the following constitutes highest percentage of Green House gases?

निम्नलिखित में से कौन ग्रीनहाउस गैसों के योगदान का सर्वाधिक प्रतिशत बनाता है?

**Options:**

1) Ethane

ईथेन

2) Methane

मीथेन

3) Carbon Dioxide

कार्बन डाय ऑक्साइड

4) Propane

प्रोपेन

**Correct Answer:** Carbon Dioxide

कार्बन डाय ऑक्साइड

**Candidate Answer:** Carbon Dioxide

कार्बन डाय ऑक्साइड

**QID : 139** - \_\_\_\_\_ was a philosopher and theologian from India during early 8th century who consolidated the doctrine of Advaita Vedanta.

\_\_\_\_\_ प्रारंभी 8 वीं सदी के दौरान भारत के एक दार्शनिक और धर्मशास्त्री थे, जिन्होंने अद्वैत वेदांत के सिद्धांत को समेकित किया था।

**Options:**

1) Adi Shankara

आदी शंकराचार्य

2) Dyaneshwar

ज्ञानेश्वर

3) Eknath

एकनाथ

4) Madhvacharya

माधवाचार्य

**Correct Answer:** Adi Shankara

आदी शंकराचार्य

**Candidate Answer:** Adi Shankara

आदी शंकराचार्य

**QID : 140** - In terms of size, Earth ranks no. \_\_\_\_ in our Solar System.

आकार के संदर्भ में पृथ्वी हमारे सौर मंडल में \_\_\_\_\_ क्रमांक पर आती है।

**Options:**

1) 5

2) 6

3) 7

4) 8

**Correct Answer:** 5

**Candidate Answer:** 5

**QID : 141** - Which city is located on the banks of the river Ganges?

गंगा नदी के तट पर कौन सा शहर स्थित है?

**Options:**

1) Mathura

मथुरा

2) Agra

आगरा

3) Kanpur

कानपूर

4) Kota

कोटा

**Correct Answer:** Kanpur

कानपूर

**Candidate Answer:** Mathura  
मथुरा

**QID : 142** - Who was the first ruler of Pala dynasty?

पाल साम्राज्य का प्रथम शासक कौन था?

**Options:**

- 1) Gopala  
गोपाल
- 2) Vivyanathan  
विवयनाथन
- 3) Dharmapala  
धर्मपाल
- 4) Bhaskaran  
भास्करन

**Correct Answer:** Gopala  
गोपाल

**Candidate Answer:** Dharmapala  
धर्मपाल

**QID : 143** - Which empire is regarded as the Golden Age of Hinduism?

किस साम्राज्य को हिंदुत्व का स्वर्ण युग माना जाता है?

**Options:**

- 1) Maurya  
मौर्या
- 2) Mughal  
मुगल
- 3) Gupta  
गुप्त
- 4) Chola  
चोला

**Correct Answer:** Gupta  
गुप्त

**Candidate Answer:** Gupta  
गुप्त

**QID : 144** - Who Invented Post-it note?

पोस्ट-इट नोट का अविष्कार किसने किया?

**Options:**

- 1) William Friese-Greene  
विलियम फ्रीज-ग्रीन
- 2) Arthur Fry  
आर्थर फ्राय
- 3) Gordon Gould  
गॉर्डन गोल्ड
- 4) Otto von Guericke  
ओटो वॉन ग्युरिक

**Correct Answer:** Arthur Fry  
आर्थर फ्राय

**Candidate Answer:** [ NOT ANSWERED ]

**QID : 145** - \_\_\_\_\_ states that the ratio of the potential difference across a conductor to the current flowing through it, is a constant, provided that its physical conditions, such as temperature, remain constant.

\_\_\_\_\_ कहता है कि किसी संधारित्र के माध्यम से बहने वाली धारा के साथ उसके विभवान्तर का अनुपात एक स्थिरांक होता है, बशर्ते कि उसकी भौतिक स्थितियां जैसे तापमान इत्यादि स्थिर रहते हैं।

**Options:**

- 1) Lenz's Law  
लेंज का नियम
- 2) Hooke's Law  
हुक का नियम
- 3) Ohm's Law  
ओम का नियम
- 4) The coulomb's law  
कूलंब का नियम

**Correct Answer:** Ohm's Law  
ओम का नियम

**Candidate Answer:** [ NOT ANSWERED ]

**QID : 146** - \_\_\_\_\_ mirror is used in the headlights of cars.

\_\_\_\_\_ दर्पण कारों की हेडलाइट में प्रयोग किया जाता है।

- Options:**  
1) Semi-circular  
अर्द्ध वृत्तीय  
2) Conical  
शंक्वाकार  
3) Convex  
उत्तल  
4) Concave  
अवतल

**Correct Answer:** Concave  
अवतल

**Candidate Answer:** Convex  
उत्तल

**QID : 147** - What is the full form of the Indian Political Party "NCP"?

भारतीय राजनीतिक पार्टी "एनसीपी" (NCP) का पूरा नाम क्या है ?

- Options:**  
1) Nationalist Congress Party  
नेशनलिस्ट कांग्रेस पार्टी  
2) National Congress Party  
नेशनल कांग्रेस पार्टी  
3) National Communist Party  
नेशनल कम्युनिस्ट पार्टी  
4) Nationalist Communist Party  
नेशनलिस्ट कम्युनिस्ट पार्टी

**Correct Answer:** Nationalist Congress Party  
नेशनलिस्ट कांग्रेस पार्टी

**Candidate Answer:** National Congress Party  
नेशनल कांग्रेस पार्टी

**QID : 148** - United Progressive Alliance was founded in?

संयुक्त प्रगतिशील गठबंधन में स्थापना कब हुई थी?

- Options:**  
1) 1951  
2) 1998  
3) 2004  
4) 1980

**Correct Answer:** 2004

**Candidate Answer:** 1998

**QID : 149** - In which country, 13th South Asian games will be held?

13वें दक्षिण एशियाई खेलों का आयोजन किस देश में किया जायेगा?

- Options:**  
1) India  
भारत  
2) Australia  
ऑस्ट्रेलिया  
3) Nepal  
नेपाल  
4) Pakistan  
पाकिस्तान

**Correct Answer:** Nepal  
नेपाल

**Candidate Answer:** Australia  
ऑस्ट्रेलिया

**QID : 150** - Who is the author of "The Immortals of Meluha (Shiva Trilogy)"?

"द इमोर्टल्स ऑफ मेलुहा (शिवा ट्राइलोजी)" के लेखक कौन है?

- Options:**  
1) Amish Tripathi  
अमीश त्रिपाठी  
2) Durjoy Datta  
दुर्जोय दत्ता  
3) Keshav Aneel  
केशव अनील  
4) Savi Sharma  
सावी शर्मा

**Correct Answer:** Amish Tripathi  
अमीश त्रिपाठी

Downloaded From [www.KnowledgePhilic.com](http://www.KnowledgePhilic.com)

**Candidate Answer:** [ NOT ANSWERED ]

**QID : 151** - If  $\operatorname{cosec} 135^\circ = x$ , then the value of  $x$  is

यदि  $\operatorname{cosec} 135^\circ = x$ , तो  $x$  का क्या मान है?

**Options:**

1)  $\sqrt{2}$

2) 2

3)  $-\sqrt{2}$

4)  $1/\sqrt{3}$

**Correct Answer:**  $\sqrt{2}$

**Candidate Answer:** [ NOT ANSWERED ]

**QID : 152** - If  $4(x + 1) - 3 < 3 - x < 2x + 5$ ; then the value of  $x$  is

यदि  $4(x + 1) - 3 < 3 - x < 2x + 5$ ; तो  $x$  का क्या मान है?

**Options:**

1) -1

2) 0

3) -2

4) 3

**Correct Answer:** 0

**Candidate Answer:** [ NOT ANSWERED ]

**QID : 153** - A cone is hollowed out of a solid wooden cube of side 7 cm. The diameter and height of the cone is same as the side of the cube. What is the volume of the remaining cube?

एक शंकु को 7 से.मी. की भुजा वाले एक लकड़ी के टोस घन को खोखला कर के बनाया जाता है। शंकु की ऊंचाई और व्यास घन के भुजा के बराबर ही है। बचे हुए घन का आयतन क्या है?

**Options:**

1) 253.17 cubic cms

253.17 घन से.मी.

2) 228.84 cubic cms

228.84 घन से.मी.

3) 143.26 cubic cms

143.26 घन से.मी.

4) 257.68 cubic cms

257.68 घन से.मी.

**Correct Answer:** 253.17 cubic cms

253.17 घन से.मी.

**Candidate Answer:** 257.68 cubic cms

257.68 घन से.मी.

**QID : 154** - Of the 3 numbers whose average is 72, the first is  $2/7$  times the sum of other 2. The first number is

3 संख्याओं का औसत 72 है, उनमें से पहली संख्या अन्य 2 संख्याओं के योग का  $2/7$  गुना है। वह पहली संख्या क्या है?

**Options:**

1) 48

2) 72

3) 32

4) 96

**Correct Answer:** 48

**Candidate Answer:** 72

**QID : 155** - If  $\sqrt{1 + \cot^2 A} = x$ , then the value of  $x$  is

यदि  $\sqrt{1 + \cot^2 A} = x$ , तो  $x$  का क्या मान है?

**Options:**

1)  $\sec A$

2)  $\sin A$

3)  $\operatorname{cosec} A$

4)  $\cos A$

**Correct Answer:**  $\operatorname{cosec} A$

**Candidate Answer:**  $\sec A$

**QID : 156** - What is the value of  $\tan^4 A + \tan^2 A$ ?

$\tan^4 A + \tan^2 A$  का क्या मान है?

**Options:**

- 1)  $\sec^4 A - \sec^2 A$
- 2)  $\sec 4A + \sec^2 A$
- 3)  $\operatorname{cosec}^4 A - \sec^2 A$
- 4)  $\sec^4 A + \operatorname{cosec}^2 A$

**Correct Answer:**  $\sec^4 A - \sec^2 A$

**Candidate Answer:**  $\sec 4A + \sec^2 A$

**QID : 157** - The point R(a,b) is first reflected in origin to R1 and R1 is reflected in x-axis to (-3,4). The co-ordinates of point R are

बिंदु R(a,b) प्रथम मूल पर R1 पर प्रतिबिंबित होता है और फिर R1 x-अक्ष पर (-3,4) पर प्रतिबिंबित होता है। बिंदु R के निर्देशांक क्या हैं?

**Options:**

- 1) (3,4)
- 2) (-3,-4)
- 3) (-3,4)
- 4) (3,-4)

**Correct Answer:** (3,4)

**Candidate Answer:** (-3,-4)

**QID : 158** - Expand and simplify  $(x + 5)^2 + (x - 3)^2$

$(x + 5)^2 + (x - 3)^2$  को विस्तारित कीजिये और हल कीजिये।

**Options:**

- 1)  $2(x^2 + 2x - 17)$
- 2)  $2(x^2 - 2x + 17)$
- 3)  $2(x^2 - 2x - 17)$
- 4)  $2(x^2 + 2x + 17)$

**Correct Answer:**  $2(x^2 + 2x + 17)$

**Candidate Answer:**  $2(x^2 + 2x - 17)$

**QID : 159** - The simplest form of  $3565/1495$  is

$3565/1495$  का सरलीकृत रूप क्या है?

**Options:**

- 1) 31/13

- 2) 43/19

- 3) 23/13

- 4) 31/23

**Correct Answer:** 31/13

**Candidate Answer:** 31/13

**QID : 160** - When a number is increased by 42, it becomes 121% of itself. What is the number?

किसी संख्या में जब 42 का योग किया जाये, तो वह अपने आप की 121% हो जाती है। वह संख्या क्या है?

**Options:**

- 1) 504
- 2) 200
- 3) 630
- 4) 378

**Correct Answer:** 200

**Candidate Answer:** 378

**QID : 161** - Rizvan walks at 15 km/hr and Ruchitha cycles at 20 km/hr towards each other. What was the distance between them when they started if they meet after 42 minutes?

रिजवान 15 कि.मी./घंटा की गति से चल कर और रुचिता 20 कि.मी./घंटा की गति से साइकिल चलाते हुए एक दूसरे की तरफ आते हैं। यदि वे 42 मिनट के बाद मिलते हैं, तो शुरुआत में उनके बीच कितनी दूरी थी?

**Options:**

- 1) 36.8 kms
- 36.8 कि.मी.
- 2) 30.6 kms
- 30.6 कि.मी.
- 3) 24.5 kms
- 24.5 कि.मी.
- 4) 18.4 kms
- 18.4 कि.मी.

**Correct Answer:** 24.5 kms

24.5 कि.मी.



**Candidate Answer:** [ NOT ANSWERED ]

**QID : 162** - The third proportional of two numbers 7 and 21 is

दो संख्याओं 7 और 21 का तृतीय अनुपात क्या होगा?

**Options:**

1) 35

2) 63

3) 42

4) 21

**Correct Answer:** 63

**Candidate Answer:** 35

**QID : 163** - 30% discount is offered on an item. By applying a promo code the customer wins 5% cash back. What is the effective discount?

एक वस्तु पर 30% छूट की पेशकश की गई है। एक प्रोमो कोड लागू करके ग्राहक 5% नकद वापस जीतता है। उसको मिली प्रभावी छूट क्या है?

**Options:**

1) 33.5 percent

33.5 प्रतिशत

2) 35.175 percent

35.175 प्रतिशत

3) 35 percent

35 प्रतिशत

4) 6.5 percent

6.5 प्रतिशत

**Correct Answer:** 33.5 percent

33.5 प्रतिशत

**Candidate Answer:** 33.5 percent

33.5 प्रतिशत

**QID : 164** - A sum fetched a total simple interest of Rs. 7056 at the rate of 8 percent per year in 7 years. What is the sum?

7 वर्षों में 8% वार्षिक दर से एक राशि पर 7056 रु का साधारण ब्याज बन जाता है। यह राशि कितनी है?

**Options:**

1) Rs 12600

12600 रु

2) Rs 15120

15120 रु

3) Rs 10080

10080 रु

4) Rs 7560

7560 रु

**Correct Answer:** Rs 12600

12600 रु

**Candidate Answer:** [ NOT ANSWERED ]

**QID : 165** - A mason can build a wall in 18 hours. After 9 hours he takes a break. What fraction of the wall is yet to be built?

एक मिस्त्री एक दीवार को 18 घंटे में बनाता है। 9 घंटे बाद वह विराम लेता है। दीवार का कितना भाग अभी भी बनाना है?

**Options:**

1) 0.9

2) 0.25

3) 0.5

4) 0.2

**Correct Answer:** 0.5

**Candidate Answer:** 0.5

**QID : 166** - For triangle ABC, find equation of median AD if co-ordinates of A, B and C are (-1,-3), (5,-4) and (3,2) respectively?

त्रिभुज ABC के लिए, यदि बिंदु A, B और C के निर्देशांक क्रमशः (-1, -3), (5, -4) और (3,2) हैं, तो माध्य AD का समीकरण क्या है?

**Options:**

1)  $2x - 5y = 17$

2)  $2x - 5y = 13$

3)  $2x + 5y = 13$

4)  $2x + 5y = 17$

**Correct Answer:**  $2x - 5y = 13$

**Candidate Answer:** [ NOT ANSWERED ]

**QID : 167** - A shopkeeper by selling 8 iphones, earns a profit equal to the selling price of 3 iphones. His profit percentage is

एक दुकानदार को 8 आईफोन बेच कर, 3 आईफोन की बिक्री कीमत के बराबर लाभ होता है। उसका लाभ प्रतिशत कितना होगा?

**Options:**

- 1) 60 percent  
60 प्रतिशत
- 2) 37.5 percent  
37.5 प्रतिशत
- 3) 75 percent  
75 प्रतिशत
- 4) 15 percent  
15 प्रतिशत

**Correct Answer:** 60 percent

60 प्रतिशत

**Candidate Answer:** 37.5 percent

37.5 प्रतिशत

**QID : 168** - If  $a + b = 10$  and  $ab = 24$ , then the value of  $a^3 + b^3$  is

यदि  $a + b = 10$  और  $ab = 24$ , तो  $a^3 + b^3$  का मान क्या है?

**Options:**

- 1) 280
- 2) 370
- 3) 520
- 4) 730

**Correct Answer:** 280

**Candidate Answer:** 730

**QID : 169** - An angle is greater than its complementary angle by  $40^\circ$ . Find the measure of the angle?

एक कोण अपने पूरक कोण की तुलना में  $40^\circ$  अधिक है। कोण का माप क्या है?

**Options:**

- 1)  $25^\circ$
- 2)  $65^\circ$
- 3)  $130^\circ$
- 4)  $50^\circ$

**Correct Answer:**  $65^\circ$

**Candidate Answer:**  $65^\circ$

**QID : 170** - In a rhombus \_\_\_\_\_.

एक सम चतुर्भुज में \_\_\_\_\_।

**Options:**

- 1) opposite angles are supplementary  
विपरीत कोण अनुपूरक होते हैं
- 2) diagonals form two congruent triangles  
विकर्ण दो संगत त्रिकोण बनाते हैं
- 3) diagonals are congruent  
विकर्ण संगत होते हैं
- 4) diagonals do not bisect opposite angles  
विकर्ण विपरीत कोणों के समद्विभाजक नहीं होते हैं

**Correct Answer:** diagonals form two congruent triangles

विकर्ण दो संगत त्रिकोण बनाते हैं

**Candidate Answer:** diagonals are congruent

विकर्ण संगत होते हैं

**QID : 171** - The sum of thrice a number and twice its reciprocal is  $97/4$ . What is the number?

एक संख्या का तीन गुना और उसके व्युत्क्रम के दुगने का योग  $97/4$  है। वह संख्या क्या है?

**Options:**

- 1) 9
- 2) 10
- 3) 8
- 4) 7

**Correct Answer:** 8

**Candidate Answer:** [ NOT ANSWERED ]

KnowledgePhilic.com

UPSC – SSC – Bank – Railway – LIC – FCI – DMRC

**QID : 172 -**

Refer the below data table and answer the following Question.

नीचे दिये गए डेटा तालिका के आधार पर निम्नलिखित प्रश्न का उत्तर दें।

	Number of employees कर्मचारियों की संख्या	Annual salary (in lakhs) वार्षिक वेतन (लाखों में)	Bonus as percent of annual salary वार्षिक वेतन के प्रतिशत के रूप में बोनस
Manager / प्रबंधक	2	30	40%
Executive / कार्यकारी	12	8	20%
Trainee / प्रशिक्षु	1	4	10%

What is the average bonus (in rupees)?

औसत बोनस (रुपये में) कितना है?

**Options:**

1) 4360005

2) 280000

3) 290667

4) 140000

**Correct Answer:** 290667

**Candidate Answer:** [ NOT ANSWERED ]

**QID : 173 -**

Refer the below data table and answer the following Question.

नीचे दिये गए डेटा तालिका के आधार पर निम्नलिखित प्रश्न का उत्तर दें।

	2011	2012	2013	2014	2015
Company A / कंपनी A	1000	1000	1000	3000	1000
Company B / कंपनी B	5000	1000	3000	2000	4000
Company C / कंपनी C	1000	3000	2000	4000	4000

For which of the following pairs of years the total exports from the three Companies together are equal?

(Note: Figures given are in lakh rupees)

निम्न में से वर्षों की कौन सी जोड़ी के लिए तीनों कंपनियों का कुल निर्यात बराबर है?

(नोट: दिए गए आँकड़े लाख रुपए में हैं)

**Options:**

1) 2011 & 2013

2011 एवं 2013

2) 2013 & 2015

2013 एवं 2015

3) 2011 & 2012

2011 एवं 2012

4) 2014 & 2015

2014 एवं 2015

**Correct Answer:** 2014 & 2015

2014 एवं 2015

**Candidate Answer:** 2014 & 2015

2014 एवं 2015

QID : 174 -

Refer the below data table and answer the following Question.

नीचे दिये गए डेटा तालिका के आधार पर निम्नलिखित प्रश्न का उत्तर दें।

Year वर्ष	Profit or (-Loss) in Rs Crore करोड़ रूपये में लाभ या (-नुकसान)
2011	10
2012	-25
2013	20
2014	-20
2015	25

What was the total Profit or loss of the company in last 5 years?

पिछले पांच वर्षों में कंपनी का कुल लाभ या नुकसान कितना था?

**Options:**

- 1) Profit of Rs 10 crores  
10 करोड़ रु का लाभ
- 2) Profit of Rs 20 crores  
20 करोड़ रु का लाभ
- 3) Loss of Rs 10 crores  
10 करोड़ रु का नुकसान
- 4) Loss of Rs 20 crores  
20 करोड़ रु का नुकसान

**Correct Answer:** Profit of Rs 10 crores  
10 करोड़ रु का लाभ

**Candidate Answer:** [ NOT ANSWERED ]

KnowledgePhilic.com

QID : 175 -

Refer the below data table and answer the following Question.

नीचे दिये गए डेटा तालिका के आधार पर निम्नलिखित प्रश्न का उत्तर दें।

India's exports in 2015 वर्ष 2015 में भारत का निर्यात	Value in million US\$ मिलियन डॉलर में मूल्य
Jewellery / जेवर	625
Software / सॉफ्टवेयर	550
Cotton / कपास	850
Steel / इस्पात	850
Electronics / इलेक्ट्रॉनिक्स	525

Jewellery was what percent of total exports?

जेवर का निर्यात भारत के कुल निर्यात का कितना प्रतिशत था?

**Options:**

- 1) 20.88 percent  
20.88 प्रतिशत
- 2) 18.38 percent  
18.38 प्रतिशत
- 3) 23.38 percent  
23.38 प्रतिशत
- 4) 15.88 percent  
15.88 प्रतिशत

**Correct Answer:** 18.38 percent  
18.38 प्रतिशत

**Candidate Answer:** 18.38 percent  
18.38 प्रतिशत

UPSC - SSC - Bank - Railway - LIC - FCI - DMRC

**QID : 176** - In the following question, out of the four alternatives, select the alternative which best expresses the meaning of the idiom/phrase.

**at the drop of a hat**

**Options:**

- 1) to challenge someone
- 2) to give up very easily
- 3) to pick a fight for small reasons
- 4) without hesitation or good reason

**Correct Answer:** without hesitation or good reason

**Candidate Answer:** to challenge someone

**QID : 177** - Rearrange the parts of the sentence in correct order.

**There must be more oversight**

**P-which this is done**

**Q-and much more accountability**

**R-in the manner in**

**Options:**

- 1) RQP
- 2) QRP
- 3) PRQ
- 4) PQR

**Correct Answer:** QRP

**Candidate Answer:** PRQ

**QID : 178** - In the following question, some part of the sentence may have errors. Find out which part of the sentence has an error and select the appropriate option. If a sentence is free from error, select 'No Error'.

**Sorry to have(A)/troubled you; since(B)/it couldn't be helped.(C)/No error(D)**

**Options:**

- 1) A
- 2) B
- 3) C
- 4) D

**Correct Answer:** B

**Candidate Answer:** C

**QID : 179** - In the following question, a sentence has been given in Direct/Indirect speech. Out of the four alternatives suggested, select the one, which best express the same sentence in Indirect/Direct speech.

**Rohit said, "Leela, when is the next bus?"**

**Options:**

- 1) Rohit asked Leela when the next bus was supposed to come.
- 2) Rohit asked Leela when was the next bus coming.
- 3) Rohit asked Leela when the next bus was.
- 4) Rohit asked Leela when the next bus was coming.

**Correct Answer:** Rohit asked Leela when the next bus was.

**Candidate Answer:** Rohit asked Leela when the next bus was.

**QID : 180** - In the following question, out of the four alternatives, select the alternative which best expresses the meaning of the idiom/phrase.

**apple of my eye**

**Options:**

- 1) every thing looks enticing to a hungry person
- 2) a very pleasant thing to watch
- 3) someone that one cherishes above all others
- 4) the ugliest child is still pretty for a mother

**Correct Answer:** someone that one cherishes above all others

**Candidate Answer:** a very pleasant thing to watch

**QID : 181** - In the following question, some part of the sentence may have errors. Find out which part of the sentence has an error and select the appropriate option. If a sentence is free from error, select 'No Error'.

**Could you(A)/like to read(B)/his speech?(C)/No error(D)**

**Options:**

- 1) A
- 2) B
- 3) C
- 4) D

**Correct Answer:** A

**Candidate Answer:** A

**QID : 182** - Select the antonym of

**atheist**

- Options:**  
1) skeptic  
2) pagan  
3) disciple  
4) agnostic

**Correct Answer:** disciple

**Candidate Answer:** agnostic

**QID : 183** - In the following question, the sentence given with blank to be filled in with an appropriate word. Select the correct alternative out of the four and indicate it by selecting the appropriate option.

It was hard to \_\_\_\_\_ him involved with anything illegal.

**Options:**

- 1) snap
- 2) draw
- 3) photo
- 4) picture

**Correct Answer:** picture

**Candidate Answer:** draw

**QID : 184** - Select the word with the correct spelling.

**Options:**

- 1) cabinets
- 2) basoons
- 3) sprinckle
- 4) esposes

**Correct Answer:** cabinets

**Candidate Answer:** cabinets

**QID : 185** - In the following question, out of the four alternatives, select the alternative which is the best substitute of the phrase.

To proclaim widely or loudly.

**Options:**

- 1) to trumpet
- 2) to herald
- 3) to manifest
- 4) to blazon

**Correct Answer:** to trumpet

**Candidate Answer:** to trumpet

**QID : 186** - Select the word with the correct spelling.

**Options:**

- 1) rosetes
- 2) reaffirm
- 3) estimat
- 4) lunchon

**Correct Answer:** reaffirm

**Candidate Answer:** estimat

**QID : 187** - Select the synonym of

ominous

**Options:**

- 1) secure
- 2) auspicious
- 3) apocalyptic
- 4) propitious

**Correct Answer:** apocalyptic

**Candidate Answer:** auspicious

**QID : 188** - In the following question, out of the four alternatives, select the alternative which is the best substitute of the phrase.

A substance that has no therapeutic effect, used as a control in testing new drugs.

**Options:**

- 1) sedentary
- 2) placebo
- 3) lax
- 4) torpid

**Correct Answer:** placebo

**Candidate Answer:** torpid

**QID : 189** - Rearrange the parts of the sentence in correct order.

**This is where clear,  
P-well-publicized editorial guidelines are  
Q-precisely formulated, and  
R-badly needed in Indian newsrooms**

**Options:**

- 1) QPR
- 2) RQP
- 3) PQR
- 4) PRQ

**Correct Answer:** QPR

**Candidate Answer:** PQR

**QID : 190** - In the following question, the sentence given with blank to be filled in with an appropriate word. Select the correct alternative out of the four and indicate it by selecting the appropriate option.

**The officer walked in front, leaning on a stick and \_\_\_\_\_ limping.**

**Options:**

- 1) marginally
- 2) imperceptibly
- 3) slightly
- 4) a little

**Correct Answer:** slightly

**Candidate Answer:** slightly

**QID : 191** - Improve the bracketed part of the sentence.

**The driver gave (advice) at the court during the murder trial.**

**Options:**

- 1) evidence
- 2) proof
- 3) witness
- 4) no improvement

**Correct Answer:** evidence

**Candidate Answer:** witness

**QID : 192** - Improve the bracketed part of the sentence.

You can always count (**at me**) in difficult times.

**Options:**

- 1) upon me
- 2) on me
- 3) on I
- 4) no improvement

**Correct Answer:** on me

**Candidate Answer:** on me

**QID : 193** - Select the antonym of

**to scowl**

**Options:**

- 1) to glower
- 2) to smirk
- 3) to grimace
- 4) to grin

**Correct Answer:** to grin

**Candidate Answer:** to smirk

**QID : 194** - Select the synonym of

**repentance**

**Options:**

- 1) intransigent
- 2) obdurate
- 3) resolute
- 4) remorse

**Correct Answer:** remorse

**Candidate Answer:** [ NOT ANSWERED ]

**QID : 195** - In the following question, a sentence has been given in Active/Passive voice. Out of four alternatives suggested, select the one, which best expresses the same sentence in Passive/Active voice.

**The baby really enjoys that music.**

**Options:**

- 1) That music was really enjoyed by the baby.
- 2) That music was really being enjoyed by the baby.
- 3) That music is really enjoyed by the baby.
- 4) This music was really enjoyed by the baby.

**Correct Answer:** That music is really enjoyed by the baby.

**Candidate Answer:** That music was really enjoyed by the baby.

**QID : 196** - In the following passage, some of the words have been left out. Read the passage carefully and select the correct answer for the given blank out of the four alternatives.

**Worldwide, journalism and the news industry are struggling, in this digital age, to \_\_\_\_\_ their relevance and value under profoundly changed and \_\_\_\_\_ circumstances. In response \_\_\_\_\_ the challenge, a strong view is forming within the profession that one way to ensure that the activities that \_\_\_\_\_ journalism will continue to matter is to hone, strengthen, and develop its professional capabilities to perform certain \_\_\_\_\_ tasks.**

Worldwide, journalism and the news industry are struggling, in this digital age, to \_\_\_\_\_

**Options:**

- 1) veto
- 2) reassert
- 3) withhold
- 4) renounce

**Correct Answer:** reassert

**Candidate Answer:** withhold

**QID : 197** - In the following passage, some of the words have been left out. Read the passage carefully and select the correct answer for the given blank out of the four alternatives.

**Worldwide, journalism and the news industry are struggling, in this digital age, to \_\_\_\_\_ their relevance and value under profoundly changed and \_\_\_\_\_ circumstances. In response \_\_\_\_\_ the challenge, a strong view is forming within the profession that one way to ensure that the activities that \_\_\_\_\_ journalism will continue to matter is to hone, strengthen, and develop its professional capabilities to perform certain \_\_\_\_\_ tasks.**

relevance and value under profoundly changed and \_\_\_\_\_ circumstances.

**Options:**

- 1) stagnant
- 2) plethora of
- 3) variety
- 4) changing

**Correct Answer:** changing

**Candidate Answer:** plethora of

**QID : 198** - In the following passage, some of the words have been left out. Read the passage carefully and select the correct answer for the given blank out of the four alternatives.

**Worldwide, journalism and the news industry are struggling, in this digital age, to \_\_\_\_\_ their relevance and value under profoundly changed and \_\_\_\_\_ circumstances. In response \_\_\_\_\_ the challenge, a strong view is forming within the profession that one way to ensure that the activities that \_\_\_\_\_ journalism will continue to matter is to hone, strengthen, and develop its professional capabilities to perform certain \_\_\_\_\_ tasks.**

In response \_\_\_\_\_ the challenge

**Options:**

- 1) to
- 2) of
- 3) for
- 4) about

**Correct Answer:** to

**Candidate Answer:** of

**QID : 199** - In the following passage, some of the words have been left out. Read the passage carefully and select the correct answer for the given blank out of the four alternatives.

**Worldwide, journalism and the news industry are struggling, in this digital age, to \_\_\_\_\_ their relevance and value under profoundly changed and \_\_\_\_\_ circumstances. In response \_\_\_\_\_ the challenge, a strong view is forming within the profession that one way to ensure that the activities that \_\_\_\_\_ journalism will continue to matter is to hone, strengthen, and develop its professional capabilities to perform certain \_\_\_\_\_ tasks.**

activities that \_\_\_\_\_ journalism

**Options:**

- 1) make
- 2) manufacture
- 3) constitute
- 4) collect

**Correct Answer:** constitute

**Candidate Answer:** make



**QID : 200** - In the following passage, some of the words have been left out. Read the passage carefully and select the correct answer for the given blank out of the four alternatives.

**Worldwide, journalism and the news industry are struggling, in this digital age, to \_\_\_\_\_ their relevance and value under profoundly changed and \_\_\_\_\_ circumstances. In response \_\_\_\_\_ the challenge, a strong view is forming within the profession that one way to ensure that the activities that \_\_\_\_\_ journalism will continue to matter is to hone, strengthen, and develop its professional capabilities to perform certain \_\_\_\_\_ tasks.**

develop its professional capabilities to perform certain \_\_\_\_\_ tasks.

**Options:**

- 1) trivial
- 2) core
- 3) trite
- 4) frivolous

**Correct Answer:** core

**Candidate Answer:** trite

# KnowledgePhilic.com

UPSC – SSC – Bank – Railway – LIC – FCI – DMRC