



Staff Selection Commission  
(Government Of India)

REGISTRATION NUMBER : KnowledgePhilic.com

EXAM DATE : 24-January-2017

EXAM NAME : SSC Examination 2016

TOTAL MARKS : 200

CANDIDATE NAME : KnowledgePhilic.com

EXAM START TIME : 16:15:00

EXAM DURATION : 01:15 Hrs

TOTAL NO OF QUESTIONS : 100

**QID : 201** - Select the related word/letters/number from the given alternatives.

School: Study :: Laboratory: ?

दिए गए विकल्पों में से संबंधित शब्द/अक्षर/संख्या को चुनिए।

विद्यालय : अध्ययन :: प्रयोगशाला : ?

**Options:**

- 1) Play  
खेलना
- 2) Experiment  
परीक्षण
- 3) Solve  
हल करना
- 4) Pray  
प्रार्थना

**Correct Answer:** Experiment  
परीक्षण

**Candidate Answer:** Experiment  
परीक्षण

**QID : 202** - Select the related word/letters/number from the given alternatives.

COMMANDER : REDNAMMOG :: MANAGEMENT : ?

दिए गए विकल्पों में से संबंधित शब्द/अक्षर/संख्या को चुनिए।

COMMANDER : REDNAMMOG :: MANAGEMENT : ?

**Options:**

- 1) TNEMEGANAM
- 2) TNEMEGAMAN
- 3) TENMEGANAM
- 4) TNEMEPANAM

**Correct Answer:** TNEMEGANAM

**Candidate Answer:** TNEMEGANAM

**QID : 203** - Select the related word/letters/number from the given alternatives.

WEFHY : DVUSB :: SFCLD : ?

दिए गए विकल्पों में से संबंधित शब्द/अक्षर/संख्या को चुनिए।

WEFHY : DVUSB :: SFCLD : ?

**Options:**

- 1) HUXOW
- 2) SUSWL
- 3) SUSLW
- 4) SUSCL

**Correct Answer:** HUXOW

**Candidate Answer:** HUXOW

**QID : 204** - Select the related word/letters/number from the given alternatives.

8 : 32 : : 6 : ?

दिए गए विकल्पों में से संबंधित शब्द/अक्षर/संख्या को चुनिए।

8 : 32 : : 6 : ?

[Downloaded From www.KnowledgePhilic.com](http://www.KnowledgePhilic.com)

**Options:**

- 1) 31
- 2) 22
- 3) 18
- 4) 21

**Correct Answer:** 18**Candidate Answer:** 18**QID : 205** - Select the odd word/letters/number/number pair from the given alternatives.

दिए गए विकल्पों में से विषम शब्द/अक्षर/संख्या/संख्या युग्म को चुनिए।

**Options:**

- 1) Tonne  
टन
- 2) Quintal  
क्विक्टल
- 3) Kilogram  
किलोग्राम
- 4) Gallon  
गैलन

**Correct Answer:** Gallon

गैलन

**Candidate Answer:** Gallon

गैलन

**QID : 206** - Select the odd word/letters/number/number pair from the given alternatives.

दिए गए विकल्पों में से विषम शब्द/अक्षर/संख्या/संख्या युग्म को चुनिए।

**Options:**

- 1) XTD
- 2) TSE
- 3) MDI
- 4) SOD

**Correct Answer:** TSE**Candidate Answer:** XTD

KnowledgePhilic.com

UPSC I SSC I Bank I Railway I Lic I Fci I DMRC

**QID : 207** - Select the odd word/letters/number/number pair from the given alternatives.

दिए गए विकल्पों में से विषम शब्द/अक्षर/संख्या/संख्या युग्म को चुनिए।

**Options:**

- 1) 1232
- 2) 1188
- 3) 1320
- 4) 1050

**Correct Answer:** 1050**Candidate Answer:** 1050**QID : 208** - Select the odd word/letters/number/number pair from the given alternatives.

दिए गए विकल्पों में से विषम शब्द/अक्षर/संख्या/संख्या युग्म को चुनिए।

**Options:**

- 1) 4832
- 2) 7855
- 3) 6742
- 4) 5735

**Correct Answer:** 7855**Candidate Answer:** [ NOT ANSWERED ]**QID : 209** - A series is given with one term missing. Choose the correct alternative from the given ones that will complete the series.

Gamma rays, X-rays, Ultraviolet rays, ?, Infrared rays

एक अनुक्रम दिया गया है, जिसमें से एक पद लुप्त है। दिए गए विकल्पों में से वह सही विकल्प चुनिए, जो अनुक्रम को पूरा करे।

गामा किरणें, एक्स-रेज़, अल्ट्रावायलेटकिरणें,?, इन्फ्रारेडकिरणें

[Downloaded From www.KnowledgePhilic.com](http://www.KnowledgePhilic.com)

**Options:**

- 1) Microwaves  
माइक्रोवेव
- 2) Radio waves  
रेडियो तरंगें
- 3) Visible light  
दृश्य प्रकाश
- 4) Sonic waves  
ध्वनितरंगों

**Correct Answer:** Visible light  
दृश्य प्रकाश

**Candidate Answer:** Visible light  
दृश्य प्रकाश

**QID : 210** - A series is given with one term missing. Choose the correct alternative from the given ones that will complete the series.

XT, YU, BX, GC, ?

एक अनुक्रम दिया गया है, जिसमें से एक पद लुप्त है। दिए गए विकल्पों में से वह सही विकल्प चुनिए, जो अनुक्रम को पूरा करे।

XT, YU, BX, GC, ?

**Options:**

- 1) NO
- 2) NJ
- 3) NM
- 4) MN

**Correct Answer:** NJ

**Candidate Answer:** NJ

**QID : 211** - A series is given with one term missing. Choose the correct alternative from the given ones that will complete the series.

OP, ST, XY, DE, ?

एक अनुक्रम दिया गया है, जिसमें से एक पद लुप्त है। दिए गए विकल्पों में से वह सही विकल्प चुनिए, जो अनुक्रम को पूरा करे।

OP, ST, XY, DE, ?

**Options:**

- 1) KN
- 2) KL
- 3) GI
- 4) WE

**Correct Answer:** KL

**Candidate Answer:** KL

**QID : 212** - A series is given with one term missing. Choose the correct alternative from the given ones that will complete the series.

76, 38, 19, 9.5, ?

एक अनुक्रम दिया गया है, जिसमें से एक पद लुप्त है। दिए गए विकल्पों में से वह सही विकल्प चुनिए, जो अनुक्रम को पूरा करे।

76, 38, 19, 9.5, ?

**Options:**

- 1) 4.25
- 2) 4.15
- 3) 4.69
- 4) 4.75

**Correct Answer:** 4.75

**Candidate Answer:** 4.75

**QID : 213** - In the following question, two statements are given each followed by two conclusions I and II. You have to consider the statements to be true even if they seem to be at variance from commonly known facts. You have to decide which of the given conclusions, if any, follows from the given statements.

Statement:

- (I) In the GST Model in India, it would be dual tax (GST) with the center and states simultaneously levying tax on a common base tax.  
(II) The central and state GST would be levied on every transaction of supply of goods and services simultaneously.

Conclusions:

- (I) This new tax regime would benefit common man of country.  
(II) There would be more clarity on state and central component.

निम्नलिखित प्रश्न में, दो कथन दिए गए हैं जिनके आगे दो निष्कर्ष I और II निकाले गए हैं। आपको मानना है कि कथन सत्य है चाहे वे सामान्यतः ज्ञात तथ्यों से भिन्न प्रतीत होते हों। आपको निर्णय करना है कि दिए गए निष्कर्षों में से कौन सा/कौन से निश्चित रूप से कथनों द्वारा सही निकाला जा सकता है/सकते हैं, यदि कोई हो।

कथन:

- (I) भारत में जीएसटी मॉडल में, यह एक दोहरा कर (जीएसटी) होगा जिसमें केंद्र और राज्य सरकारें उभयनिष्ट आधार पर एक साथ कर लगाएंगी। (II) केंद्र और राज्य जीएसटी सामानों की हर आपूर्ति और सेवाओं के लेनदेन पर एक साथ लगाया जाएगा।

निष्कर्ष:

- (I) यह नई कर व्यवस्था देश के आम आदमी को लाभ देगी।  
(II) राज्य और केंद्रीय घटकों की अधिक स्पष्टता होगी।

Options:

- 1) Only conclusion II follows  
केवल निष्कर्ष II लागू होता है।  
2) Conclusion I and II both follow  
निष्कर्ष I और II दोनों लागू होता है।  
3) Neither I nor II follow  
न निष्कर्ष I न ही II लागू होता है।  
4) Only conclusion I follows  
केवल निष्कर्ष I लागू होता है।

**Correct Answer:** Neither I nor II follow  
न निष्कर्ष I न ही II लागू होता है।

**Candidate Answer:** Only conclusion II follows  
केवल निष्कर्ष II लागू होता है।

**QID : 214** - Rajan and Manu went to a market. Rajan bought 3 erasers and 5 pens for Rs 105 and Manu bought 4 erasers and 6 pens for Rs 130. What is the price of one eraser?

राजन और मनु बाजार जाते हैं। राजन 105 रु में 3 रबड़ और 5 कलम खरीदता है, जबकि मनु 130 रु में 4 रबड़ और 6 कलम खरीदता है। एक रबड़ का मूल्य क्या है?

Options:

- 1) Rs 25  
25 रु  
2) Rs 20  
20 रु  
3) Rs 10  
10 रु  
4) Rs 19  
19 रु

**Correct Answer:** Rs 10  
10 रु

**Candidate Answer:** Rs 10  
10 रु

**QID : 215** - Arrange the given words in the sequence in which they occur in the dictionary.

- i. Agent  
ii. Argentine  
iii. Assiduous  
iv. Accentuate

निम्नलिखित शब्दों को शब्दकोश में आने वाले क्रम के अनुसार लिखें।

- i. Agent  
ii. Argentine  
iii. Assiduous  
iv. Accentuate

Options:

- 1) iii, ii, i, iv  
2) iv, iii, i, ii  
3) iv, ii, i, iii  
4) iv, i, ii, iii

**Correct Answer:** iv, i, ii, iii

**Candidate Answer:** iv, i, ii, iii

**QID : 216** - In a certain code language, "FIRST" is written as "@#\\$!?" and "EYE" is written as "^\*^". How is "TYRE" written in that code language?

एक विशिष्ट कोड भाषा में "FIRST" को "@#\\$!?" लिखा जाता है और "EYE" को "^\*^" लिखा जाता है। इस कोड भाषा में "TYRE" को किस प्रकार लिखा जाएगा?

[Downloaded From www.KnowledgePhilic.com](http://www.KnowledgePhilic.com)

**Options:**

- 1) ?\*^\$^
- 2) ?\*^\$
- 3) ?\*\*^
- 4) ?\*^^

**Correct Answer:** ?\*^\$^**Candidate Answer:** ?\*^\$^**QID : 217 -**

In the following question, select the missing number from the given series.

निम्नलिखित प्रश्न में दिए गए विकल्पों में से लुप्त अंक ज्ञात कीजिए।

12	13	11
16	17	?
400	458	221

**Options:**

- 1) 10
- 2) 91
- 3) 17
- 4) 81

**Correct Answer:** 10**Candidate Answer:** 10**QID : 218 -** If "A" means "subtraction", "B" means "division", "C" means "addition" and "D" means "multiplication", then

411 B 3 A 29 C 53 D 20 = ?

यदि "A" का अर्थ "घटाना" है, "B" का अर्थ "भाग" है, "C" का अर्थ "जोड़" है और "D" का अर्थ "गुणा" है, तो

411 B 3 A 29 C 53 D 20 = ?

**Options:**

- 1) 1169
- 2) 1156
- 3) 1168
- 4) 1163

**Correct Answer:** 1168**Candidate Answer:** 1168**QID : 219 -** In the following question, which one set of letters when sequentially placed at the gaps in the given letter series shall complete it?

PE NP ON EO \_

निम्नलिखित प्रश्न में अक्षरों का कौन सा समूह खाली स्थानों पर क्रमवार रखने से दी गई अक्षर श्रृंखला को पूरा करेगा?

PE NP ON EO \_

**Options:**

- 1) PEEN
- 2) OPEN
- 3) OEPN
- 4) OPNE

**Correct Answer:** OEPN**Candidate Answer:** OEPN**QID : 220 -** Heera starts walking towards the east from her home to go to her college. She walks for 10 km in the east, takes a left turn, walks 20 km further and reaches her college. In which direction is her home with respect to her college?

हीरा अपने घर से कॉलेज जाने के लिए पूर्व दिशा में चलना शुरू करती है। वह पूर्व दिशा में 10 कि.मी. चलती है, फिर बाएँ मुड़ती है, आगे 20 कि.मी. चलती है और अपने कॉलेज पहुँच जाती है। उसके कॉलेज से उसका घर किस दिशा में है?

**Options:**

- 1) North-West  
उत्तर-पश्चिम
- 2) West  
पश्चिम
- 3) North  
उत्तर
- 4) South-West  
दक्षिण-पश्चिम

**Correct Answer:** South-West**Candidate Answer:** दक्षिण-पश्चिम[Downloaded From www.KnowledgePhilic.com](http://www.KnowledgePhilic.com)

**Candidate Answer:** North

उत्तर

**QID : 221 -**

A word is represented by only one set of numbers as given in any one of the alternatives. The sets of numbers given in the alternatives are represented by two classes of alphabets as shown in the given two matrices. The columns and rows of Matrix-I are numbered from 0 to 4 and that of Matrix-II are numbered from 5 to 9. A letter from these matrices can be represented first by its row and next by its column, for example, 'W' can be represented by 21, 23 etc. and 'J' can be represented by 79, 97 etc. Similarly, you have to identify the set for the word 'GERM'.

एक शब्द केवल एक संख्या-समूह द्वारा दर्शाया गया है, जैसा कि विकल्पों में से किसी एक में दिया गया है। विकल्पों में दिए गए संख्या-समूह अक्षरों के दो वर्गों द्वारा दर्शाए गए हैं, जैसा कि दिए गए दो आव्यूहों में है। आव्यूह-I के स्तम्भ और पंक्ति की संख्या 0 से 4 और आव्यूह-II की 5 से 9 है। इन आव्यूहों से एक अक्षर को पहले उसकी पंक्ति और बाद में स्तम्भ संख्या द्वारा दर्शाया जा सकता है। उदाहरण के लिए 'W' को 21, 23 आदि द्वारा दर्शाया जा सकता है तथा 'J' को 79, 97 आदि द्वारा दर्शाया जा सकता है। इसी तरह से आपको प्रश्न में दिए शब्द 'GERM' के लिए समूह को पहचानना है।

Matrix-I

आव्यूह - I

	0	1	2	3	4
0	M	A	R	E	G
1	G	E	M	Q	H
2	U	W	R	W	P
3	G	V	A	P	O
4	M	A	R	Y	I

Matrix-II

आव्यूह - II

	5	6	7	8	9
5	V	M	P	G	M
6	R	P	E	D	U
7	P	M	G	E	J
8	N	R	E	A	K
9	M	U	J	S	L

**Options:**

1) 10, 11, 02, 59

2) 04, 87, 31, 76

3) 30, 67, 44, 40

4) 77, 96, 12, 95

**Correct Answer:** 10, 11, 02, 59

**Candidate Answer:** 10, 11, 02, 59

**QID : 222 -** Introducing a girl, a boy says, "She is the daughter of my father's only brother-in-law". How is the girl related to the boy?

एक लड़की का परिचय कराते हुए, एक लड़का कहता है, "वह मेरे पिता के इकलौते साले/बहनोई की बेटी है।" लड़की, लड़के से कैसे संबंधित है?

**Options:**

1) Sister-in-law

भाभी

2) Granddaughter

पोती

3) Cousin

ममेरी/फुफेरी बहन

4) Daughter

बेटी

**Correct Answer:** Cousin

ममेरी/फुफेरी बहन

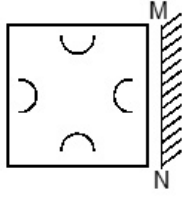
**Candidate Answer:** Cousin

ममेरी/फुफेरी बहन

**QID : 223 -**

If a mirror is placed on the line MN, then which of the answer figures is the right image of the given figure?

यदि एक दर्पण को MN रेखा पर रखा जाए, तो दी गई उत्तर आकृतियों में से कौन सी आकृति प्रश्न आकृति का सही प्रतिबिम्ब होगी?

**Options:**

1)



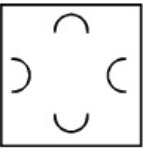
2)



3)



4)

**Correct Answer:****Candidate Answer:****QID : 224 -** Identify the diagram that best represents the relationship among the given classes.

Science, Physics, Chemistry

वह आरेख चुनिए जो नीचे दिए गए वर्गों के बीच के संबंध का सही निरूपण करता है।

विज्ञान, भौतिकी, रसायनशास्त्र

# KnowledgePhilic.com

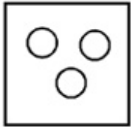
UPSC | SSC | Bank | Railway | Lic | Fci | DMRC

Options:

1)



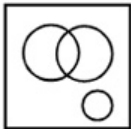
2)



3)



4)



Correct Answer:



Candidate Answer:



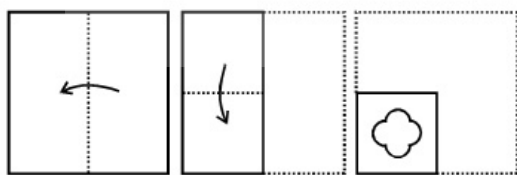
KnowledgePhilic.com

UPSC I SSC I Bank I Railway I Lic I Fci I DMRC

QID : 225 -

A piece of paper is folded and punched as shown below in the question figures. From the given answer figures, indicate how it will appear when opened.


नीचे के प्रश्न आकृतियों में दर्शाये अनुसार कागज को मोड़कर छेदने तथा खोलने के बाद वह किस उत्तर आकृति जैसा दिखाई देगा?






**Options:**


1)





2)



3)



4)

**Correct Answer:****Candidate Answer:**

# KnowledgePhilic.com

UPSC | SSC | Bank | Railway | Lic | Fci | DMRC

**QID : 226** - Diwane-i-khas is in which of these monuments?

दीवान-ए-खास इन स्मारकों में से किसमें स्थित है?

**Options:**

1) Humayun's Tomb

हुमायूँ का मकबरा

2) Mahabodhi Temple Complex

महाबोधि मंदिर समूह

3) Qutub Minar

कुतुब मीनार

4) Red Fort Complex

लाल किला परिसर

**Correct Answer:** Red Fort Complex

लाल किला परिसर

**Candidate Answer:** Red Fort Complex

लाल किला परिसर

**QID : 227** - Who won the 2016 men's singles Wimbledon Championship?

2016 की विंबल्डन प्रतियोगिता में पुरुष एकल का खिताब किसने जीता?

**Options:**

1) Novak Djokovic

नोवाक जोकोविच

2) Andy Murray

एंडी मरे

3) Roger Federer

रोजर फेडरर

4) Milos Raonic

मिलोस रॉनिक

**Correct Answer:** Andy Murray

एंडी मरे

**Candidate Answer:** Novak Djokovic

नोवाक जोकोविच

**QID : 228** - Deficiency of which vitamin causes night blindness?

किस विटामिन की कमी के कारण रतौंधी होता है?

[Downloaded From www.KnowledgePhilic.com](http://www.KnowledgePhilic.com)

**Options:**

- 1) Vitamin K  
विटामिन K
- 2) Vitamin C  
विटामिन C
- 3) Vitamin B1  
विटामिन B 1
- 4) Vitamin A  
विटामिन A

**Correct Answer:** Vitamin A  
विटामिन A

**Candidate Answer:** Vitamin A  
विटामिन A

**QID : 229** - The flower with the world's largest bloom is \_\_\_\_\_.

दुनिया का सबसे बड़ा खिलने वाला फूल \_\_\_\_\_ है।

**Options:**

- 1) Pando  
पान्डो
- 2) Posidonia  
पोसीडोनिया
- 3) Rafflesia arnoldii  
रिफ्लेशिया अर्नोल्डी
- 4) Helianthus annuus  
हेलिअन्थस एन्नुअस

**Correct Answer:** Rafflesia arnoldii  
रिफ्लेशिया अर्नोल्डी

**Candidate Answer:** Rafflesia arnoldii  
रिफ्लेशिया अर्नोल्डी

**QID : 230** - Name the scientist who proposed the cell theory

कोशिका सिद्धांत का प्रस्ताव देने वाले वैज्ञानिक का नाम बताइए

**Options:**

- 1) Schleiden and Schwann  
शिल्डन और श्वान
- 2) Lamarck  
लेमार्क
- 3) Treviranus  
ट्रेवायरेनस
- 4) Whittaker and Stanley  
व्हीटकर और स्टेनले

**Correct Answer:** Schleiden and Schwann  
शिल्डन और श्वान

**Candidate Answer:** Schleiden and Schwann  
शिल्डन और श्वान

**QID : 231** - \_\_\_\_\_ decreases the rate of setting of cement.

\_\_\_\_\_ सीमेंट के जमने की दर को घटाता है।

**Options:**

- 1) Alumina  
एल्युमिना
- 2) Silica  
सिलिका
- 3) Gypsum  
जिप्सम
- 4) Magnesium oxide  
मैग्नेशियम ऑक्साइड

**Correct Answer:** Gypsum  
जिप्सम

**Candidate Answer:** [ NOT ANSWERED ]

**QID : 232** - Alkenes were earlier known as \_\_\_\_\_.

अल्किंस पहले \_\_\_\_\_ के रूप में जाने जाते थे।

**Options:**

- 1) Paraffins  
पैराफिन्स
- 2) Titoffins  
टिटोफिन्स
- 3) Olefins  
ओलिफिन्स
- 4) Meloffins  
मेलोफिन्स

**Correct Answer:** Olefins  
ओलिफिन्स

**Candidate Answer:** Paraffins  
पैराफिन्स

KnowledgePhilic.com

UPSC | SSC | Bank | Railway | Lic | Fci | DMRC

[Downloaded From www.KnowledgePhilic.com](http://www.KnowledgePhilic.com)

**QID : 233** - A language used to control the tasks of the computer itself, such as starting other programs, is \_\_\_\_\_.

कंप्यूटर के ही कार्यों, जैसे अन्य प्रोग्रामों को शुरू करना, को नियंत्रित करने के लिए इस्तेमाल की जाने वाली एक भाषा कौन सी है?

**Options:**

- 1) Command Language  
कमांड लैंग्वेज
- 2) Machine Language  
मशीन लैंग्वेज
- 3) Markup Language  
मार्कअप लैंग्वेज
- 4) Style Sheet Language  
स्टाइल शीट लैंग्वेज

**Correct Answer:** Command Language  
कमांड लैंग्वेज

**Candidate Answer:** Machine Language  
मशीन लैंग्वेज

**QID : 234** - Munda is a folk dance of \_\_\_\_\_.

मुंडा \_\_\_\_\_ का लोक नृत्य है।

**Options:**

- 1) Arunachal Pradesh  
अरुणाचल प्रदेश
- 2) Jharkhand  
झारखंड
- 3) Chhattisgarh  
छत्तीसगढ़
- 4) Haryana  
हरियाणा

**Correct Answer:** Jharkhand  
झारखंड

**Candidate Answer:** Jharkhand  
झारखंड

**QID : 235** - In 2015, the nominal rate of interest in a country was 8% and the inflation rate then was 2.5%. So real rate of interest in 2015 was

वर्ष 2015 में, एक देश में ब्याज की नाममात्र की दर 8% थी और उस समय मुद्रास्फीति की दर 2.5% थी। तो 2015 में ब्याज की असली दर क्या थी?

**Options:**

- 1) 3.2 percent  
3.2 प्रतिशत
- 2) 10.5 percent  
10.5 प्रतिशत
- 3) 8 percent  
8 प्रतिशत
- 4) 5.5 percent  
5.5 प्रतिशत

**Correct Answer:** 5.5 percent  
5.5 प्रतिशत

**Candidate Answer:** 5.5 percent  
5.5 प्रतिशत

**QID : 236** - Macro economics deals with

समष्टि अर्थशास्त्र इससे संबंधित है

**Options:**

- 1) the circular flow of income  
आय का वृत्ताकार प्रवाह
- 2) the decision making of a single economic variable like demand  
मांग की तरह एक ही आर्थिक चर का निर्णय लेना
- 3) resource allocation at firm level  
फर्म के स्तर पर संसाधनों के आवंटन
- 4) equilibrium prices and quantities  
संतुलन कीमतें और मात्राएँ

**Correct Answer:** the circular flow of income  
आय का वृत्ताकार प्रवाह

**Candidate Answer:** [ NOT ANSWERED ]

**QID : 237** - The Ozone layer is present in which atmospheric layer?

ओज़ोन की परत वायुमंडल की किस परत में होती है?

**Options:**

- 1) Lithosphere  
लिथोस्फीयर
- 2) Ionosphere  
आयनोस्फीयर
- 3) Stratosphere  
स्ट्रैटोस्फीयर
- 4) Biosphere  
बायोस्फीयर

[Downloaded From www.KnowledgePhilic.com](http://www.KnowledgePhilic.com)

**Correct Answer:** Stratosphere

स्ट्रेटोस्फीयर

**Candidate Answer:** Stratosphere

स्ट्रेटोस्फीयर

**QID : 238** - Organisms that use light to prepare food are known as \_\_\_\_\_.

जो जीव प्रकाश का उपयोग कर भोजन तैयार करते हैं, उन्हें \_\_\_\_\_ के रूप में जाना जाता है।

**Options:**

1) Autotrophs

स्वपोषी

2) Heterotrophs

विषमपोषज

3) Omnivores

सर्वाहारी

4) Decomposers

विघटन करने वाला

**Correct Answer:** Autotrophs

स्वपोषी

**Candidate Answer:** Autotrophs

स्वपोषी

**QID : 239** - Which of the following will not be traded in a commodity market?

निम्नलिखित में से किसका कमोडिटी बाजार में व्यापार नहीं किया जायेगा?

**Options:**

1) Crude oil

कच्चा तेल

2) Silver

चांदी

3) Currency

मुद्रा

4) Gold

सोना

**Correct Answer:** Currency

मुद्रा

**Candidate Answer:** Currency

मुद्रा

KnowledgePhilic.com

**QID : 240** - Panaji is the capital of which Indian State?

पणजी किस भारतीय राज्य की राजधानी है?

**Options:**

1) Chattisgarh

छत्तीसगढ़

2) Goa

गोवा

3) Himachal Pradesh

हिमाचल प्रदेश

4) Jharkhand

झारखंड

**Correct Answer:** Goa

गोवा

**Candidate Answer:** Goa

गोवा

UPSC | SSC | Bank | Railway | Lic | Fci | DMRC

**QID : 241** - Lucknow is the Capital City of \_\_\_\_\_.

लखनऊ \_\_\_\_\_ की राजधानी है।

**Options:**

1) Uttarakhand

उत्तराखंड

2) Uttar Pradesh

उत्तरप्रदेश

3) Tripura

त्रिपुरा

4) Arunachal Pradesh

अरुणाचल प्रदेश

**Correct Answer:** Uttar Pradesh

उत्तरप्रदेश

**Candidate Answer:** Uttar Pradesh

उत्तरप्रदेश

**QID : 242** - During the Independence Movement, Subhash Chandra Bose revamped the Indian National \_\_\_\_\_.

स्वतंत्रता आंदोलन के दौरान सुभाषचंद्र बोस ने भारतीय राष्ट्रीय \_\_\_\_\_ का पुनरोत्थान किया था।

Downloaded From [www.KnowledgePhilic.com](http://www.KnowledgePhilic.com)

**Options:**

- 1) Navy  
नौसेना
- 2) Army  
थलसेना
- 3) Defence  
सुरक्षा
- 4) Air Force  
वायुसेना

**Correct Answer:** Army  
थलसेना

**Candidate Answer:** Army  
थलसेना

**QID : 243** - Aurangzeb was the son of \_\_\_\_\_.

औरंगजेब \_\_\_\_\_ का पुत्र था।

**Options:**

- 1) Babur  
बाबर
- 2) Humayun  
हुमायूँ
- 3) Akbar  
अकबर
- 4) Shah Jahan  
शाह जहाँ

**Correct Answer:** Shah Jahan  
शाह जहाँ

**Candidate Answer:** Shah Jahan  
शाह जहाँ

**QID : 244** - World Wide Web was invented by \_\_\_\_\_.

वर्ल्ड वाइड वेब का \_\_\_\_\_ द्वारा आविष्कार किया गया था।

**Options:**

- 1) John Barber  
जॉन बार्बर
- 2) Tim Berners-Lee  
टिम बर्नर्स-ली
- 3) Alan Blumlein  
ऐलन ब्लूमलीन
- 4) David Brewster  
डेविड ब्र्युस्टर

**Correct Answer:** Tim Berners-Lee  
टिम बर्नर्स-ली

**Candidate Answer:** Tim Berners-Lee  
टिम बर्नर्स-ली

**QID : 245** - Which among the following is false about viscosity?

श्यानता के बारे में निम्नलिखित में से क्या असत्य है?

**Options:**

- 1) Viscosity of gases is less than that of liquids  
गैसों की श्यानता द्रवों से कम होती है।
- 2) Viscosity of gases increases with rise in temperature  
तापमान में वृद्धि के साथ गैसों की श्यानता बढ़ती है।
- 3) Viscosity of liquid decreases with rise in temperature  
तापमान में वृद्धि के साथ द्रवों की श्यानता घटती है।
- 4) Viscosity of liquid decreases with increase in pressure  
दबाव में वृद्धि के साथ द्रवों की श्यानता घटती है।

**Correct Answer:** Viscosity of liquid decreases with increase in pressure  
दबाव में वृद्धि के साथ द्रवों की श्यानता घटती है।

**Candidate Answer:** Viscosity of liquid decreases with rise in temperature  
तापमान में वृद्धि के साथ द्रवों की श्यानता घटती है।

**QID : 246** - Weight (W) of a body can be given by the formula

किसी शरीर के भार (डब्ल्यू) को इस सूत्र द्वारा बताया जा सकता है

**Options:**

- 1)  $W=mv$
- 2)  $W=mf$
- 3)  $W=ms$
- 4)  $W=mg$

**Correct Answer:**  $W=mg$

**Candidate Answer:**  $W=mg$

KnowledgePhilic.com

UPSC | SSC | Bank | Railway | Lic | Fci | DMRC

Downloaded From [www.KnowledgePhilic.com](http://www.KnowledgePhilic.com)

**QID : 247** - Narendra Modi is the \_\_\_ Prime Minister of India.

नरेंद्र मोदी भारत के \_\_\_\_\_ प्रधानमंत्री है।

**Options:**

- 1) 5th  
5 वें
- 2) 10th  
10 वें
- 3) 14th  
14 वें
- 4) 18th  
18 वें

**Correct Answer:** 14th

14 वें

**Candidate Answer:** 14th

14 वें

**QID : 248** - Who was the first Speaker of Lok Sabha?

लोकसभा के पहले स्पीकर कौन थे?

**Options:**

- 1) G. V. Mavalankar  
जी.वी.मावलंकर
- 2) Sarvepalli Radhakrishnan  
सर्वपल्ली राधाकृष्णन
- 3) M. Ananthasayanam Ayyangar  
एम अनंथसायनम अय्यंगर
- 4) Dr P V Cheria  
डॉ पी वी चेरियन

**Correct Answer:** G. V. Mavalankar

जी.वी.मावलंकर

**Candidate Answer:** G. V. Mavalankar

जी.वी.मावलंकर

**QID : 249** - Who is the winner of the first Indian Super League football?

प्रथम भारतीय सुपर लीग फूटबॉल के विजेता कौन है?

**Options:**

- 1) Atletico de Kolkata  
एटलेटिको डी कोलकाता
- 2) Kerala Blasters  
केरला ब्लास्टर्स
- 3) FC Goa  
एफसी गोवा
- 4) Delhi Dynamos FC  
देलही डायनेमोज एफसी.

**Correct Answer:** Atletico de Kolkata

एटलेटिको डी कोलकाता

**Candidate Answer:** Kerala Blasters

केरला ब्लास्टर्स

**QID : 250** - Who wrote the book "Walking with Lions"?

"वाकिंग विद लॉयंस" पुस्तक को किसने लिखा था?

**Options:**

- 1) K Natwar Singh  
के नटवर सिंह
- 2) Kapil Dev  
कपिलदेव
- 3) Kiran Bedi  
किरण बेदी
- 4) Sarojini Naidu  
सरोजिनी नायडू

**Correct Answer:** K Natwar Singh

के नटवर सिंह

**Candidate Answer:** K Natwar Singh

के नटवर सिंह

**QID : 251** - Of the 3 numbers whose average is 112, the first is 3/13 times the sum of other 2. The first number is \_\_\_\_\_.

3 संख्याओं का औसत 112 है, उनमें से पहली संख्या अन्य 2 संख्याओं के योग का 3/13 गुना है। वह पहली संख्या \_\_\_\_\_ है।

**Options:**

- 1) 63
- 2) 95
- 3) 42
- 4) 126

**Correct Answer:** 63

[Downloaded From www.KnowledgePhilic.com](http://www.KnowledgePhilic.com)

**Candidate Answer:** 63

**QID : 252** - If a merchant offers a discount of 20% on the list price, then he makes a loss of 10%. What % profit or % loss will she make if he sells at a discount of 5% of the list price?

यदि एक व्यापारी सूची मूल्य पर 20% की छूट प्रदान करता है, तो उसे 10% का नुकसान होता है। अगर वह सूची मूल्य पर 5 % की छूट पर माल बेचती है तो उसे कितने % लाभ या कितने % हानि होगी?

**Options:**

- 1) 6.875 percent profit  
6.875 प्रतिशत लाभ
- 2) 20 percent profit  
20 प्रतिशत लाभ
- 3) 14 percent profit  
14 प्रतिशत लाभ
- 4) 30 percent loss  
30 प्रतिशत हानि

**Correct Answer:** 6.875 percent profit  
6.875 प्रतिशत लाभ

**Candidate Answer:** 6.875 percent profit  
6.875 प्रतिशत लाभ

**QID : 253** - Coefficient of x in  $(x + 11)(3 - 5x)$  is \_\_\_\_\_.

$(x + 11)(3 - 5x)$  में x के गुणांक है।

**Options:**

- 1) 33
- 2) -5
- 3) 3
- 4) -52

**Correct Answer:** -52

**Candidate Answer:** -52

**QID : 254** - A does 80% of a work in 20 days. He then calls in B and they together finish the remaining work in 3 days. How long B alone would take to do the whole work?

A एक काम का 80% 20 दिन में करता है। फिर वह B को बुलाता है तथा वे दोनों मिलकर बचा हुआ काम 3 दिन में पूरा करते हैं। पूरा काम अकेले करने में B को कितना समय लगेगा?

**Options:**

- 1) 75 days  
75 दिन
- 2) 37.5 days  
37.5 दिन
- 3) 17.5 days  
17.5 दिन
- 4) 35 days  
35 दिन

**Correct Answer:** 37.5 days  
37.5 दिन

**Candidate Answer:** 37.5 days  
37.5 दिन

**QID : 255** - What is the HCF (highest common factor) of 77 and 275?

77 और 275 का महत्तम समापवर्तक क्या होगा?

**Options:**

- 1) 12
- 2) 11
- 3) 7
- 4) 25

**Correct Answer:** 11

**Candidate Answer:** 11

**QID : 256** - To travel 648 km, an Express train takes 12 hours more than Rajdhani. If however, the speed of the Express train is doubled, it takes 6 hours less than Rajdhani. The speed of Rajdhani is \_\_\_\_\_.

648 कि.मी. की यात्रा करने के लिए, एक एक्सप्रेस ट्रेन राजधानी से 12 घंटे अधिक लेती है। यदि एक्सप्रेस ट्रेन की गति दुगुनी कर दी जाती है, तो वह राजधानी की तुलना में 6 घंटे कम समय लेती है। राजधानी की गति क्या है?

**Options:**

- 1) 36 km/hr  
36 कि.मी./घंटा
- 2) 18 km/hr  
18 कि.मी./घंटा
- 3) 45 km/hr  
45 कि.मी./घंटा
- 4) 27 km/hr  
27 कि.मी./घंटा

**Correct Answer:** 27 km/hr  
27 कि.मी./घंटा

**Candidate Answer:** [ NOT ANSWERED ]

**QID : 257** - A trader had 16 quintals of wheat. He sold a part of it at 17% profit and the rest at 27% profit, so that he made a total profit of 21%. How much wheat did he sell at 27% profit?

एक व्यापारी के पास 16 क्विंटल गेहूं था। उसने कुछ हिस्सा 17% लाभ और बाकी का हिस्सा 27% लाभ पर बेच दिया, इस प्रकार उसे कुल 21% लाभ हुआ। उसने 27% लाभ पर कितना गेहूं बेचा?

**Options:**

- 1) 960 kg  
960 कि.ग्रा.
- 2) 640 kg  
640 कि.ग्रा.
- 3) 320 kg  
320 कि.ग्रा.
- 4) 1280 kg  
1280 कि.ग्रा.

**Correct Answer:** 640 kg  
640 कि.ग्रा.

**Candidate Answer:** 1280 kg  
1280 कि.ग्रा.

**QID : 258** - The brother is elder to his sister by 6 years. Seven years ago the product of their ages was 72. What is the age of the brother?

एक भाई अपनी बहन से 6 साल बड़ा है। सात साल पहले उनकी उम्र का गुणनफल 72 था। भाई की उम्र क्या है?

**Options:**

- 1) 13 years  
13 वर्ष
- 2) 12 years  
12 वर्ष
- 3) 6 years  
6 वर्ष
- 4) 19 years  
19 वर्ष

**Correct Answer:** 19 years  
19 वर्ष

**Candidate Answer:** 19 years  
19 वर्ष

**QID : 259** - If Girish's salary is 4/9 times of Harishankar's and Shirish's salary is 5/6 times of Harishankar's, what is the ratio of Girish's salary to Shirish's.

यदि गिरीश का वेतन हरिशंकर के वेतन से 4/9 गुना है और शिरीष का वेतन हरिशंकर के वेतन से 5/6 गुना है, तो गिरीश और शिरीष के वेतन का अनुपात क्या होगा?

**Options:**

- 1) 27:10
- 2) 10:27
- 3) 8:15
- 4) 15:8

**Correct Answer:** 8:15

**Candidate Answer:** 8:15

**QID : 260** - If  $5 - x > 1 + 3x$  and  $5 + 5x \geq 2 + 2x$ ; then x can take which of the following values?

यदि  $5 - x > 1 + 3x$  और  $5 + 5x \geq 2 + 2x$ ; फिर x का क्या मान है?

**Options:**

- 1) 2
- 2) -2
- 3) 3
- 4) 0

**Correct Answer:** 0

**Candidate Answer:** -2

**QID : 261** - Find the value of p, if  $2x - 4$ ,  $4x + p$  and  $6x - 12$  are in arithmetic progression.

यदि  $2x - 4$ ,  $4x + p$  और  $6x - 12$  समांतर श्रेणी में हैं, तो p के मान का पता लगाएं।

KnowledgePhilic.com

UPSC | SSC | Bank | Railway | Lic | Fci | DMRC



**Options:**

- 1) -9
- 2) -10
- 3) -11
- 4) -8

**Correct Answer:** -8**Candidate Answer:** -8

**QID : 262** - Points P and Q lie on side AB and AC of triangle ABC respectively such that segment PQ is parallel to side BC. If the ratio of areas of triangle APQ: triangle ABC is 16:25. Then the ratio of AP:PB is?

बिंदु P और Q त्रिभुज ABC की भुजा क्रमशः AB और AC पर इस तरह से हैं कि रेखाखंड PQ भुजा BC के समानांतर है। यदि त्रिभुज APQ और त्रिभुज ABC के क्षेत्रफल 16:25 के अनुपात में हैं, तो भुजा AP और PB का अनुपात ज्ञात करें।

**Options:**

- 1) 4:5
- 2) 1:4
- 3) 5:1
- 4) 4:1

**Correct Answer:** 4:1**Candidate Answer:** 4:1

**QID : 263** - Which of the following points lies on the line  $3x - 4y = -13$ ?

निम्नलिखित बिन्दुओं में से कौन सा बिंदु रेखा  $3x - 4y = -13$  पर स्थित है?

**Options:**

- 1) (-5,-7)
- 2) (5,7)
- 3) (-5,7)
- 4) (5,-7)

**Correct Answer:** (5,7)**Candidate Answer:** (5,7)

**QID : 264** - A man spends 59% of his income and saves the rest. What percentage of his expenditure does he save?

एक आदमी अपनी आय का 59% खर्च करता है और बाकी की बचत करता है। वह अपने खर्च का कितनी प्रतिशत बचत करता है?

**Options:**

- 1) 72.57 percent  
72.57 प्रतिशत
- 2) 83.19 percent  
83.19 प्रतिशत
- 3) 89.09 percent  
89.09 प्रतिशत
- 4) 69.49 percent  
69.49 प्रतिशत

**Correct Answer:** 69.49 percent

69.49 प्रतिशत

**Candidate Answer:** [ NOT ANSWERED ]

**QID : 265** - Line segment AB is parallel to line segment CD. AD intersects BC in E. If lengths of AE, BC and ED are 12 cm, 12 cm and 18 cm respectively, what is the length of EC?

रेखाखंड AB, रेखाखंड CD के समानांतर है। AD, BC को बिंदु E पर काटती है। यदि AE, BC और ED की लंबाई क्रमशः 12 से.मी., 12 से.मी. और 18 से.मी. हैं, तो EC की लंबाई क्या है?

**Options:**

- 1) 4.8 cm  
4.8 से.मी.
- 2) 9.3 cm  
9.3 से.मी.
- 3) 8.1 cm  
8.1 से.मी.
- 4) 7.2 cm  
7.2 से.मी.

**Correct Answer:** 7.2 cm

7.2 से.मी.

**Candidate Answer:** 4.8 cm

4.8 से.मी.

**QID : 266** - In a triangle the length of the side opposite the angle which measures  $60^\circ$  is 15 cm, what is the length of the side opposite to the angle which measures  $90^\circ$ ?

एक त्रिभुज में उस कोण के विपरीत वाली भुजा की लंबाई 15 से.मी. है, जिसके कोण माप  $60^\circ$  है। उस कोण के विपरीत वाली भुजा की लंबाई क्या है, जिसके कोण का माप  $90^\circ$  है?

**Options:**

- 1) 15 cm  
15 से.मी.
- 2)  $(15\sqrt{3})/2$  cm  
 $(15\sqrt{3})/2$  से.मी.
- 3)  $10\sqrt{3}$  cm  
 $10\sqrt{3}$  से.मी.
- 4) 10 cm  
10 से.मी.

**Correct Answer:**  $10\sqrt{3}$  cm  
 $10\sqrt{3}$  से.मी.

**Candidate Answer:** 15 cm  
15 से.मी.

**QID : 267** - A sum fetched a total simple interest of Rs 5320 at the rate of 7% per year in 5 years. What is the sum?

5 वर्षों में 7% वार्षिक दर से एक राशि पर 5320 रु का साधारण ब्याज बन जाता है। यह राशि कितनी है?

**Options:**

- 1) Rs 18240  
18240 रु
- 2) Rs 12160  
12160 रु
- 3) Rs 15200  
15200 रु
- 4) Rs 9120  
9120 रु

**Correct Answer:** Rs 15200  
15200 रु

**Candidate Answer:** Rs 15200  
15200 रु

**QID : 268** - Curved surface area of a cylinder is 660 sq cm. If circumference of its base is 44 cm, find the volume of the cylinder?

किसी बेलनाकार वस्तु के वक्र सतह का क्षेत्रफल 660 वर्ग से.मी. है। यदि इसके आधार की परिधि 44 से.मी. है, तो उस वस्तु की आयतन ज्ञात करें।

**Options:**

- 1) 4620 cubic cm  
4620 घन से.मी.
- 2) 2310 cubic cm  
2310 घन से.मी.
- 3) 6930 cubic cm  
6930 घन से.मी.
- 4) 1155 cubic cm  
1155 घन से.मी.

**Correct Answer:** 2310 cubic cm  
2310 घन से.मी.

**Candidate Answer:** 2310 cubic cm  
2310 घन से.मी.

**QID : 269** - What is the value of  $\cos 11\pi/6$ ?

$\cos 11\pi/6$  का मान क्या है?

**Options:**

- 1)  $-1/\sqrt{2}$
- 2)  $-\sqrt{3}/2$
- 3)  $2/\sqrt{3}$
- 4)  $\sqrt{3}/2$

**Correct Answer:**  $\sqrt{3}/2$

**Candidate Answer:**  $\sqrt{3}/2$

**QID : 270** -  $3\cos A$  is equal to

$3\cos A$  किसके बराबर है?

**Options:**

- 1)  $4\cos^3 A + \cos 3A$
- 2)  $4\cos^3 A - \cos 3A$
- 3)  $3\cos^3 A - \cos 3A$
- 4)  $3\cos^3 A + \cos 3A$

**Correct Answer:**  $4\cos^3 A - \cos 3A$

**Candidate Answer:**  $4\cos^3 A - \cos 3A$

**QID : 271** -  $\cos A/(1 - \sin A)$  is equal to

$\cos A/(1 - \sin A)$  किसके बराबर है?

**Options:**

- 1)  $(\sec A - \tan A)$
- 2)  $(\sec A + \tan A)$
- 3)  $\sqrt{[(\sec A + \tan A)]}$
- 4)  $\sqrt{[(\sec A - \tan A)]}$

**Correct Answer:**  $(\sec A + \tan A)$

KnowledgePhilic.com

UPSC | SSC | Bank | Railway | Lic | Fci | DMRC

Downloaded From [www.KnowledgePhilic.com](http://www.KnowledgePhilic.com)

**Candidate Answer:** (secA + tanA)

**QID : 272 -**

Refer the below data table and answer the following Question.

नीचे दिये गए डेटा तालिका के आधार पर निम्नलिखित प्रश्न का उत्तर दें।

	Weight (kg) वजन (किलोग्राम)	Height in meter ऊँचाई (मीटर)
Sunita / सुनीता	60	1.5
Anjali / अंजलि	55	1.2
Vimla / विमला	75	1.6
Preeti / प्रीति	70	1.4

Who has the least weight to height ratio?

वजन और ऊँचाई का अनुपात किसका सबसे कम है?

**Options:**

1) Sunita

सुनीता

2) Anjali

अंजलि

3) Vimla

विमला

4) Preeti

प्रीति

**Correct Answer:** Sunita

सुनीता

**Candidate Answer:** Sunita

सुनीता

**QID : 273 -**

Refer the below data table and answer the following Question.

नीचे दिये गए डेटा तालिका के आधार पर निम्नलिखित प्रश्न का उत्तर दें।

Year वर्ष	Company's % Profit कंपनी का लाभ %
2011	5
2012	15
2013	25
2014	10
2015	10

What was the Revenue of the company if its Expenditure was Rs 200 crore in the year when its % profit was the least?

यदि एक कंपनी का व्यय उस वर्ष में 200 करोड़ रूपए था जिसमें उसका लाभ % सबसे कम था, तो कंपनी का राजस्व कितना था?

**Options:**

1) 210

2) 220

3) 230

4) 200

**Correct Answer:** 210

**Candidate Answer:** [ NOT ANSWERED ]

**QID : 274 -**

The following table shows the number of children in each house of a society.

निम्न तालिका एक समाज के प्रत्येक घर में बच्चों की संख्या दर्शाती है।

Number of Children बच्चों की संख्या	Number of Houses घरों की संख्या
0	3
1	13
2	18
3	3

What is the average number of children per house?

प्रत्येक घर में बच्चों की औसत संख्या क्या है?

**Options:**

1) 2.07

2) 1.82

3) 1.57

4) 1.32

**Correct Answer:** 1.57**Candidate Answer:** 2.07**QID : 275 -**

Refer the below data table and answer the following Question.

नीचे दिये गए डेटा तालिका के आधार पर निम्नलिखित प्रश्न का उत्तर दें।

Partners भागीदार	Present % share वर्तमान % हिस्सा
Anand / आनंद	25
Basu / बसु	5
Chinmay / चिन्मय	25
Dhiraj / धीरज	20
Ejaz / एजाज	25

If the company has issued six lakh shares between its five partners and if Anand offers to sell 15,000 of his shares to Ejaz, then Ejaz will have how many shares?

यदि एक कंपनी ने अपने पांच भागीदारों के बीच छः लाख शेयर जारी किए हैं और अगर आनंद एजाज को अपने शेयरों में से 15,000 बेचने का प्रस्ताव करता है, तो एजाज के पास कितने शेयर होंगे?

**Options:**

1) 165000 shares

165000 शेयर

2) 150000 shares

150000 शेयर

3) 180000 shares

180000 शेयर

4) 135000 shares

135000 शेयर

**Correct Answer:** 165000 shares

165000 शेयर

**Candidate Answer:** [ NOT ANSWERED ]

**QID : 276 -** In the following question, the sentence given with blank to be filled in with an appropriate word. Select the correct alternative out of the four and indicate it by selecting the appropriate option.

The student body met the Principal to have their \_\_\_\_\_ heard.

**Options:**

1) griefs

2) disdain

3) woes

4) sorrows

**Correct Answer:** woes

[Downloaded From www.KnowledgePhilic.com](http://www.KnowledgePhilic.com)

**Candidate Answer:** disdain

**QID : 277** - Select the word with the correct spelling.

**Options:**

- 1) excusing
- 2) begared
- 3) redulent
- 4) imortal

**Correct Answer:** excusing

**Candidate Answer:** excusing

**QID : 278** - In the following question, out of the four alternatives, select the alternative which best expresses the meaning of the idiom/phrase.

**All in the same boat.**

**Options:**

- 1) staying together is the secret to successfully navigating the ups and downs of life
- 2) In a group, one's situation is tied up with the situation of the rest.
- 3) There is false sense of safety in a large group
- 4) To be in the same unpleasant situation as other people

**Correct Answer:** To be in the same unpleasant situation as other people

**Candidate Answer:** To be in the same unpleasant situation as other people

**QID : 279** - Select the antonym of

**antique**

**Options:**

- 1) obsolete
- 2) superannuated
- 3) current
- 4) ancient

**Correct Answer:** current

**Candidate Answer:** obsolete

**QID : 280** - Select the word with the correct spelling.

**Options:**

- 1) feriest
- 2) meditate
- 3) diuratic
- 4) farments

**Correct Answer:** meditate

**Candidate Answer:** meditate

**QID : 281** - Select the antonym of

**void**

**Options:**

- 1) destitute
- 2) scant
- 3) bereft
- 4) adequate

**Correct Answer:** adequate

**Candidate Answer:** adequate

**QID : 282** - In the following question, the sentence given with blank to be filled in with an appropriate word. Select the correct alternative out of the four and indicate it by selecting the appropriate option.

**Nations work to expand justice in the society and provide infrastructure to \_\_\_\_\_ commerce.**

**Options:**

- 1) pass
- 2) contribute
- 3) popularize
- 4) promote

**Correct Answer:** promote

**Candidate Answer:** promote

**QID : 283** - In the following question, a sentence has been given in Direct/Indirect speech. Out of the four alternatives suggested, select the one, which best express the same sentence in Indirect/Direct speech.

**"Please give me something to eat. I am hungry" the beggar said to them.**

**Options:**

- 1) The beggar requested them to give him something to eat and said that he was hungry.
- 2) The beggar requested them to give him something to eat and said he was hungry.
- 3) The beggar while requesting them to give him something to eat and says he was hungry.
- 4) The beggar while requesting them to give him something to eat and says he is hungry.

**Correct Answer:** The beggar requested them to give him something to eat and said that he was hungry.

**Candidate Answer:** The beggar requested them to give him something to eat and said that he was hungry.

KnowledgePhilic.com

UPSC | SSC | Bank | Railway | Lic | Fci | DMRC

[Downloaded From www.KnowledgePhilic.com](http://www.KnowledgePhilic.com)

**QID : 284** - In the following question, out of the four alternatives, select the alternative which is the best substitute of the phrase.

**to make (someone) anxious or unsettled.**

**Options:**

- 1) to pester
- 2) to perturb
- 3) to bug
- 4) to ruffle

**Correct Answer:** to perturb

**Candidate Answer:** to perturb

**QID : 285** - In the following question, some part of the sentence may have errors. Find out which part of the sentence has an error and select the appropriate option. If a sentence is free from error, select 'No Error'.

**Had anybody(A)/ ever told you(B)/ that you're beautiful?(C)No error(D)**

**Options:**

- 1) A
- 2) B
- 3) C
- 4) D

**Correct Answer: A**

**Candidate Answer: C**

**QID : 286** - Select the synonym of

**to scam**

**Options:**

- 1) to cluster
- 2) to array
- 3) to convene
- 4) to scoot

**Correct Answer:** to scoot

**Candidate Answer:** [ NOT ANSWERED ]

**QID : 287** - In the following question, out of the four alternatives, select the alternative which best expresses the meaning of the idiom/phrase.

**All Greek to me**

**Options:**

- 1) The new person in a group gets the most attention
- 2) Learning a new language is very difficult
- 3) Saying that one does not understand something that is said or written
- 4) Everything is new when one is in a new country

**Correct Answer:** Saying that one does not understand something that is said or written

**Candidate Answer:** Saying that one does not understand something that is said or written

**QID : 288** - Improve the bracketed part of the sentence.

There is no more (**accommodation**) for you in this bus.

**Options:**

- 1) room
- 2) seat
- 3) space
- 4) no improvement

**Correct Answer:** seat

**Candidate Answer:** room

**QID : 289** - Select the synonym of

**to gnaw**

**Options:**

- 1) to drool
- 2) to slaver
- 3) to nibble
- 4) to spit

**Correct Answer:** to nibble

**Candidate Answer:** to nibble

**QID : 290** - Rearrange the parts of the sentence in correct order.

**Despite this high-level political**

**P-have achieved little**

**Q-these summits**

**R-attention, and fanfare,**

**Options:**

- 1) QRP
- 2) RQP
- 3) PRQ
- 4) PQR

**Correct Answer:** RQP

[Downloaded From www.KnowledgePhilic.com](http://www.KnowledgePhilic.com)

**Candidate Answer:** RQP

**QID : 291** - Improve the bracketed part of the sentence.

By the end of this decade, doctors surely (**must have discover**) a cure for cancer.

**Options:**

- 1) would have discovered
- 2) could discover
- 3) have discovered
- 4) no improvement

**Correct Answer:** would have discovered

**Candidate Answer:** have discovered

**QID : 292** - In the following question, out of the four alternatives, select the alternative which is the best substitute of the phrase.

**to depart from an established course**

**Options:**

- 1) to deviate
- 2) to whirl
- 3) to err
- 4) to wander

**Correct Answer:** to deviate

**Candidate Answer:** to wander

**QID : 293** - Rearrange the parts of the sentence in correct order:

**They also need help**

**P-rains have failed, and**

**Q-agricultural production will fall drastically**

**R-just now, because**

**Options:**

- 1) RPQ
- 2) RQP
- 3) PQR
- 4) QPR

**Correct Answer:** RPQ

**Candidate Answer:** RPQ

KnowledgePhilic.com

**QID : 294** - In the following question, some part of the sentence may have errors. Find out which part of the sentence has an error and select the appropriate option. If a sentence is free from error, select 'No Error'.

**Go up the beach and watch for tourists (A)/so you could warn anyone(B)/before they get to the water.(C)No error(D)**

**Options:**

- 1) A
- 2) B
- 3) C
- 4) D

**Correct Answer:** B

**Candidate Answer:** B

**QID : 295** - In the following question, a sentence has been given in Active/Passive voice. Out of four alternatives suggested, select the one, which best expresses the same sentence in Passive/Active voice.

**My father decorated the entire house.**

**Options:**

- 1) The entire house was decorated by my father.
- 2) The entire house was being decorated by my father.
- 3) The entire house has been decorated by my father.
- 4) The entire house had been decorated by my father.

**Correct Answer:** The entire house was decorated by my father.

**Candidate Answer:** The entire house was decorated by my father.

**QID : 296** - In the following passage, some of the words have been left out. Read the passage carefully and select the correct answer for the given blank out of the four alternatives.

**This argument is completely \_\_\_\_\_ and shows very little understanding \_\_\_\_\_ education. The costs quoted for private schools, one, have no reliable source of data and, \_\_\_\_\_, they discount two kinds of hidden costs — to the family and \_\_\_\_\_ the nation. Often the cost of education in private schools is \_\_\_\_\_ with the fee per child.**

This argument is completely \_\_\_\_\_

**Options:**

- 1) incredible
- 2) spurious
- 3) amazing
- 4) inadequate

**Correct Answer:** spurious

**Candidate Answer:** incredible

Downloaded From [www.KnowledgePhilic.com](http://www.KnowledgePhilic.com)

**QID : 297** - In the following passage, some of the words have been left out. Read the passage carefully and select the correct answer for the given blank out of the four alternatives.

**This argument is completely \_\_\_\_\_ and shows very little understanding \_\_\_\_\_ education. The costs quoted for private schools, one, have no reliable source of data and, \_\_\_\_\_, they discount two kinds of hidden costs — to the family and \_\_\_\_\_ the nation. Often the cost of education in private schools is \_\_\_\_\_ with the fee per child.**

shows very little understanding \_\_\_\_\_ education.

**Options:**

- 1) of
- 2) for
- 3) with
- 4) toward

**Correct Answer:** of

**Candidate Answer:** of

**QID : 298** - In the following passage, some of the words have been left out. Read the passage carefully and select the correct answer for the given blank out of the four alternatives.

**This argument is completely \_\_\_\_\_ and shows very little understanding \_\_\_\_\_ education. The costs quoted for private schools, one, have no reliable source of data and, \_\_\_\_\_, they discount two kinds of hidden costs — to the family and \_\_\_\_\_ the nation. Often the cost of education in private schools is \_\_\_\_\_ with the fee per child.**

one, have no reliable source of data and, \_\_\_\_\_, they discount two kinds of hidden costs

**Options:**

- 1) twice
- 2) both
- 3) two
- 4) secondly

**Correct Answer:** two

**Candidate Answer:** secondly

**QID : 299** - In the following passage, some of the words have been left out. Read the passage carefully and select the correct answer for the given blank out of the four alternatives.

**This argument is completely \_\_\_\_\_ and shows very little understanding \_\_\_\_\_ education. The costs quoted for private schools, one, have no reliable source of data and, \_\_\_\_\_, they discount two kinds of hidden costs — to the family and \_\_\_\_\_ the nation. Often the cost of education in private schools is \_\_\_\_\_ with the fee per child.**

to the family and \_\_\_\_\_ the nation.

**Options:**

- 1) to
- 2) of
- 3) for
- 4) about

**Correct Answer:** to

**Candidate Answer:** for

**QID : 300** - In the following passage, some of the words have been left out. Read the passage carefully and select the correct answer for the given blank out of the four alternatives.

**This argument is completely \_\_\_\_\_ and shows very little understanding \_\_\_\_\_ education. The costs quoted for private schools, one, have no reliable source of data and, \_\_\_\_\_, they discount two kinds of hidden costs — to the family and \_\_\_\_\_ the nation. Often the cost of education in private schools is \_\_\_\_\_ with the fee per child.**

Often the cost of education in private schools is \_\_\_\_\_ with the fee per child.

**Options:**

- 1) equation
- 2) equates
- 3) equating
- 4) equated

**Correct Answer:** equated

**Candidate Answer:** equated