



Staff Selection Commission
(Government Of India)

REGISTRATION NUMBER : KnowledgePhilic.com

EXAM DATE : 24-January-2017

EXAM NAME : SSC Examination 2016

TOTAL MARKS : 200

CANDIDATE NAME : KnowledgePhilic.com

EXAM START TIME : 13:15:00

EXAM DURATION : 01:15 Hrs

TOTAL NO OF QUESTIONS : 100

QID : 101 - Select the related word/letters/number from the given alternatives.

Rajasthan: Jaipur : : Meghalaya : ?

दिए गए विकल्पों में से संबंधित शब्द/अक्षर/संख्या को चुनिए।

राजस्थान : जयपुर : : मेघालय : ?

Options:

1) Mizoram

मिजोरम

2) Shillong

शिलॉंग

3) Gangtok

गंगटोक

4) Shimla

शिमला

Correct Answer: Shillong

शिलॉंग

Candidate Answer: Shillong

शिलॉंग

KnowledgePhilic.com

QID : 102 - Select the related word/letters/number from the given alternatives.

DHL : WSO : : CFI : ?

दिए गए विकल्पों में से संबंधित शब्द/अक्षर/संख्या को चुनिए।

DHL : WSO : : CFI : ?

Options:

1) YWU

2) ZXV

3) LOR

4) XUR

Correct Answer: XUR

Candidate Answer: LOR

QID : 103 - Select the related word/letters/number from the given alternatives.

EJO : FKP : : KPU : ?

दिए गए विकल्पों में से संबंधित शब्द/अक्षर/संख्या को चुनिए।

EJO : FKP : : KPU : ?

Options:

1) JOT

2) LQV

3) QRS

4) RPN

Correct Answer: LQV

Candidate Answer: LQV

Downloaded From www.KnowledgePhilic.com

QID : 104 - Select the related word/letters/number from the given alternatives.

13 : 48 :: 17 : ?

दिए गए विकल्पों में से संबंधित शब्द/अक्षर/संख्या को चुनिए।

13 : 48 :: 17 : ?

Options:

1) 68

2) 63

3) 64

4) 59

Correct Answer: 64

Candidate Answer: 64

QID : 105 - Select the odd word/letters/number/number pair from the given alternatives.

दिए गए विकल्पों में से विषम शब्द/अक्षर/संख्या/संख्या युग्म को चुनिए।

Options:

1) Meghalaya

मेघालय

2) Shillong

शिलॉंग

3) Dispur

दिसपुर

4) Gangtok

गंगटोक

Correct Answer: Meghalaya

मेघालय

Candidate Answer: Meghalaya

मेघालय

KnowledgePhilic.com

QID : 106 - Select the odd word/letters/number/number pair from the given alternatives.

दिए गए विकल्पों में से विषम शब्द/अक्षर/संख्या/संख्या युग्म को चुनिए।

Options:

1) HOC

2) KMB

3) FSA

4) PDW

Correct Answer: PDW

Candidate Answer: [NOT ANSWERED]

QID : 107 - Select the odd word/letters/number/number pair from the given alternatives.

दिए गए विकल्पों में से विषम शब्द/अक्षर/संख्या/संख्या युग्म को चुनिए।

Options:

1) 343

2) 357

3) 352

4) 371

Correct Answer: 352

Candidate Answer: 352

QID : 108 - Select the odd word/letters/number/number pair from the given alternatives.

दिए गए विकल्पों में से विषम शब्द/अक्षर/संख्या/संख्या युग्म को चुनिए।

Options:

1) 2356

2) 1232

3) 4268

4) 2270

Downloaded From www.KnowledgePhilic.com

Correct Answer: 2270

Candidate Answer: 2270

QID : 109 - A series is given with one term missing. Select the correct alternative from the given ones that will complete the series.

Universe, Galaxy, Solar system, ?

एक अनुक्रम दिया गया है, जिसमें से एक पद लुप्त है। दिए गए विकल्पों में से वह सही विकल्प चुनिए, जो अनुक्रम को पूरा करे।

ब्रह्माण्ड, आकाशगंगा, सौर्य प्रणाली, ?

Options:

1) World

विश्व

2) India

भारत

3) Continent

महाद्वीप

4) Sub-continent

उप-महाद्वीप

Correct Answer: World

विश्व

Candidate Answer: World

विश्व

QID : 110 - A series is given with one term missing. Select the correct alternative from the given ones that will complete the series.

ADG, ILO, QTW, ?

एक अनुक्रम दिया गया है, जिसमें से एक पद लुप्त है। दिए गए विकल्पों में से वह सही विकल्प चुनिए, जो अनुक्रम को पूरा करे।

ADG, ILO, QTW, ?

Options:

1) YBE

2) ZBD

3) PRT

4) BCD

Correct Answer: YBE

Candidate Answer: YBE

QID : 111 - A series is given with one term missing. Select the correct alternative from the given ones that will complete the series.

BMX, DNW, FOV, ?

एक अनुक्रम दिया गया है, जिसमें से एक पद लुप्त है। दिए गए विकल्पों में से वह सही विकल्प चुनिए, जो अनुक्रम को पूरा करे।

BMX, DNW, FOV, ?

Options:

1) HPU

2) HPV

3) HIV

4) TPU

Correct Answer: HPU

Candidate Answer: HPU

QID : 112 - A series is given with one term missing. Select the correct alternative from the given ones that will complete the series.

5, 10, 30, 120, ?

एक अनुक्रम दिया गया है, जिसमें से एक पद लुप्त है। दिए गए विकल्पों में से वह सही विकल्प चुनिए, जो अनुक्रम को पूरा करे।

5, 10, 30, 120, ?

KnowledgePhilic.com

UPSC | SSC | Bank | Railway | Lic | Fci | DMRC

Options:

1) 624

2) 600

3) 626

4) 670

Correct Answer: 600**Candidate Answer:** 600

QID : 113 - In the following question, two statements are given each followed by two conclusions I and II. You have to consider the statements to be true even if they seem to be at variance from commonly known facts. You have to decide which of the given conclusions, if any, follows from the given statements.

Statement:

(I) Petrol prices are increasing in the economy.

(II) The price of crude oil in international market has not shown reasonable increase.

Conclusions:

(I) The inflation has hit various commodities like petrol in the country.

(II) Demand for petrol is increasing but supply has not picked up with the same rate, hence resulting into hike in prices.

निम्नलिखित प्रश्न में, दो कथन दिए गए हैं जिनके आगे दो निष्कर्ष I और II निकाले गए हैं। आपको मानना है कि कथन सत्य है चाहे वे सामान्यतः ज्ञात तथ्यों से भिन्न प्रतीत होते हों। आपको निर्णय करना है कि दिए गए निष्कर्षों में से कौन सा/कौन से निश्चित रूप से कथनों द्वारा सही निकाला जा सकता है/सकते हैं, यदि कोई हो।

कथन:

(I) अर्थव्यवस्था में पेट्रोल की कीमतें बढ़ रही हैं।

(II) अंतरराष्ट्रीय बाजार में कच्चे तेल की कीमत में तर्कसंगत विकास नहीं देखा गया है।

निष्कर्ष:

(I) मुद्रास्फीति की दर ने देश में पेट्रोल की तरह विभिन्न वस्तुओं पर असर डाला है।

(II) पेट्रोल के लिए मांग बढ़ रही है, लेकिन आपूर्ति में उस दर से इजाफ़ा नहीं हुआ, परिणाम कीमतों में इजाफ़ा के रूप में है।

Options:

1) Only conclusion II follows

केवल निष्कर्ष II लागू होता है।

2) Conclusion I and II both follow

निष्कर्ष I और II दोनों लागू होता है।

3) Neither I nor II follow

न निष्कर्ष I न ही II लागू होता है।

4) Only conclusion I follows

केवल निष्कर्ष I लागू होता है।

Correct Answer: Only conclusion I follows

केवल निष्कर्ष I लागू होता है।

Candidate Answer: [NOT ANSWERED]

QID : 114 - A has more money than E but less of that than B. C has more money than D but less of that than E. Who among them is the richest?

A के पास E से ज्यादा लेकिन B से कम पैसे हैं। C के पास D से ज्यादा लेकिन E से कम पैसे हैं। इन सबमे से सबसे धनी कौन है?

Options:

1) B

2) C

3) D

4) A

Correct Answer: B**Candidate Answer:** C

QID : 115 - Arrange the given words in the sequence in which they occur in the dictionary.

i. Serious

ii. Senior

iii. Senate

iv. Statesman

निम्नलिखित शब्दों को शब्दकोश में आने वाले क्रम के अनुसार लिखें।

i. Serious

ii. Senior

iii. Senate

iv. Statesman

Options:

- 1) iii, ii, i, iv
- 2) i, ii, iii, iv
- 3) iv, i, ii, iii
- 4) i, iii, ii, iv

Correct Answer: iii, ii, i, iv**Candidate Answer:** iii, ii, i, iv**QID : 116** - In a certain code language, "OCEAN" is written as "PEHES". How is "RIVER" written in that code language?

किसी विशिष्ट कोड भाषा में "OCEAN" को "PEHES" लिखा जाता है। इस कोड भाषा में "RIVER" को किस प्रकार लिखा जाएगा?

Options:

- 1) SKIYW
- 2) SKYIW
- 3) SKYIV
- 4) SKYEV

Correct Answer: SKYIW**Candidate Answer:** SKYIW**QID : 117** - If "+" means "minus", "x" means "divided by", "÷" means "plus" and "-" means "multiplied by", then $240 \times 12 - 6 + 29 \div 42 = ?$ यदि "+" का अर्थ "घटाना" है, "x" का अर्थ "भाग" है, "÷" का अर्थ "जोड़" है और "-" का अर्थ "गुणा" है, तो $240 \times 12 - 6 + 29 \div 42 = ?$ **Options:**

- 1) 133
- 2) 147
- 3) 154
- 4) 176

Correct Answer: 133**Candidate Answer:** 133**QID : 118** - If "S" denotes "multiplied by", "V" denotes "subtracted from", "M" denotes "added to" and "L" denotes "divided by", then $36 L 9 S 8 V 7 M 5 = ?$ यदि S, गुणा का सूचक है, "V", "घटाना" का सूचक है, "M" जोड़ का सूचक है, "L" भाग का सूचक है तो $36 L 9 S 8 V 7 M 5 = ?$ **Options:**

- 1) 32
- 2) 25
- 3) 37
- 4) 30

Correct Answer: 30**Candidate Answer:** 30**QID : 119** - In the following question, which one set of letters when sequentially placed at the gaps in the given letter series shall complete it?

b_a_c_bc_b_a

निम्नलिखित प्रश्न में अक्षरों का कौन सा समूह खाली स्थानों पर क्रमवार रखने से दी गई अक्षर श्रृंखला को पूरा करेगा?

b_a_c_bc_b_a

Options:

- 1) baacc
- 2) ababc
- 3) cbaac
- 4) cbaab

Correct Answer: cbaac**Candidate Answer:** cbaac**QID : 120** - Vedit is facing the east. He turns right and walks for 50 m, then he again turns right and walks for 25 m, then walks 10 m to the north and from there again 20 m to the east. In which direction is he from his original position?

वेदित पूर्व के तरफ मुँह किए हुए है। तत्पश्चात वह दाएं मुड़कर 50 मीटर चलता है, वहाँ से फिर दाएं मुड़कर 25 मीटर चलता है, फिर वह 10 मीटर उत्तर की ओर चलता है और फिर 20 मीटर पूर्व दिशा में जाता है। वह अपने मूल स्थान से किस दिशा में है?

Downloaded From www.KnowledgePhilic.com

Options:

- 1) South-east
दक्षिण-पूर्व
- 2) South-west
दक्षिण-पश्चिम
- 3) East
पूर्व
- 4) West
पश्चिम

Correct Answer: South-west
दक्षिण-पश्चिम

Candidate Answer: South-west
दक्षिण-पश्चिम

QID : 121 -

A word is represented by only one set of numbers as given in any one of the alternatives. The sets of numbers given in the alternatives are represented by two classes of alphabets as shown in the given two matrices. The columns and rows of Matrix-I are numbered from 0 to 4 and that of Matrix-II are numbered from 5 to 9. A letter from these matrices can be represented first by its row and next by its column, for example, 'G' can be represented by 76, 67 etc. and 'S' can be represented by 21, 32 etc. Similarly, you have to identify the set for the word 'BOARD'.

एक शब्द केवल एक संख्या-समूह द्वारा दर्शाया गया है, जैसा कि विकल्पों में से किसी एक में दिया गया है। विकल्पों में दिए गए संख्या-समूह अक्षरों के दो वर्गों द्वारा दर्शाए गए हैं, जैसा कि नीचे दिए गए दो आव्यूहों में है। आव्यूह-I के स्तम्भ और पंक्ति की संख्या 0 से 4 में दी गई है और आव्यूह-II की 5 से 9 में दी गई है। इन आव्यूहों से एक अक्षर को पहले उसकी पंक्ति और बाद में स्तम्भ संख्या द्वारा दर्शाया जा सकता है। उदाहरण के लिए 'G' को 76, 67 आदि द्वारा दर्शाया जा सकता है तथा 'S' को 21, 32 आदि द्वारा दर्शाया जा सकता है। इसी तरह से आपको प्रश्न में दिए शब्द 'BOARD' के लिए समूह को पहचानना है।

Matrix-I
आव्यूह - I

	0	1	2	3	4
0	E	D	T	U	O
1	A	E	T	O	U
2	A	S	O	D	V
3	P	A	S	O	V
4	P	A	T	S	O

Matrix-II
आव्यूह - II

	5	6	7	8	9
5	Q	Q	R	Y	Y
6	J	B	G	R	C
7	I	G	B	C	R
8	D	I	F	B	C
9	H	H	H	F	B

Options:

- 1) 66, 04, 12, 85, 23
- 2) 77, 13, 20, 57, 85
- 3) 88, 44, 31, 57, 01
- 4) 98, 44, 41, 68, 85

Correct Answer: 77, 13, 20, 57, 85

Candidate Answer: 88, 44, 31, 57, 01

QID : 122 - Pointing to a photograph of a girl Rajesh says, "She is the only daughter of my father." How is Rajesh related to the girl?

एक फोटोग्राफ में एक लड़की की ओर इशारा करते हुए राजेश कहता है, "वह मेरे पिता की इकलौती बेटी है।" राजेश उस लड़की से कैसे संबंधित है?

Options:

- 1) Son
बेटा
- 2) Brother
भाई
- 3) Father
पिता
- 4) Uncle
चाचा

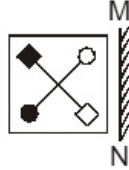
Correct Answer: Brother
भाई

Candidate Answer: Brother
भाई

QID : 123 -

If a mirror is placed on the line MN, then which of the answer figures is the right image of the given figure?

यदि एक दर्पण को MN रेखा पर रखा जाए, तो दी गई उत्तर आकृतियों में से कौन सी आकृति प्रश्न आकृति की सही प्रतिबिम्ब होगी?



Options:

1)



2)



3)



4)



Correct Answer:



Candidate Answer:



KnowledgePhilic.com

UPSC | SSC | Bank | Railway | Lic | Fci | DMRC

QID : 124 - Identify the diagram that best represents the relationship among the given classes.

Sports, Football, Baseball

वह आरेख चुनिए जो नीचे दिए गए वर्गों के बीच के संबंध का सही निरूपण करता है।

खेल-कूद, फुटबॉल, बेसबॉल

Options:

1)



2)



3)



4)



Correct Answer:



Candidate Answer:



QID : 125 -

A piece of paper is folded and punched as shown below in the question figures. From the given answer figures, indicate how it will appear when opened.

नीचे के प्रश्न आकृतियों में दिखाए अनुसार कागज को मोड़कर छेदने तथा खोलने के बाद वह किस उत्तर आकृति जैसा दिखाई देगा?



Options:

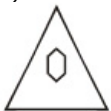
1)



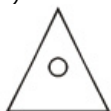
2)



3)



4)



Correct Answer:



KnowledgePhilic.com

UPSC | SSC | Bank | Railway | Lic | Fci | DMRC

Downloaded From www.KnowledgePhilic.com

Candidate Answer:**QID : 126** - Khas Mahal and the Shish Mahal are built in which World Heritage Monument?

खास महल और शीश महल का निर्माण किस विश्व धरोहर स्मारक में किया गया है?

Options:

- 1) Humayun's Tomb
हुमायूँ का मकबरा
- 2) Mahabodhi Temple Complex
महाबोधि मंदिर परिसर
- 3) Qutub Minar
कुतुब मीनार
- 4) Agra Fort
आगरे का किला

Correct Answer: Agra Fort
आगरे का किला**Candidate Answer:** Humayun's Tomb
हुमायूँ का मकबरा**QID : 127** - Bhalchandra Nemade won Jnanpith Award for work in which language?

भालचंद्र नेमाडे को किस भाषा क्षेत्र में काम करने के लिए ज्ञानपीठ पुरस्कार मिला था?

Options:

- 1) Gujarati
गुजराती
- 2) Marathi
मराठी
- 3) Hindi
हिंदी
- 4) Telugu
तेलुगु

Correct Answer: Marathi
मराठी**Candidate Answer:** [NOT ANSWERED]

KnowledgePhilic.com

UPSC | SSC | Bank | Railway | Lic | Fci | DMRC

QID : 128 - Which of the following scientists is also known as the Father of Biology?

निम्नलिखित में से किस वैज्ञानिक को "जीव विज्ञान के जनक" के नाम से भी जाना जाता है?

Options:

- 1) Herbert Spencer
हर्बर्ट स्पेंसर
- 2) Aristotle
अरस्तु
- 3) Lamarck
लेमार्क
- 4) Darwin
डार्विन

Correct Answer: Aristotle
अरस्तु**Candidate Answer:** Darwin
डार्विन**QID : 129** - Which cells give rise to various organs of the plant and keep the plant growing?

कौन सी कोशिकाएं पौधे के विभिन्न अंगों को जन्म देती हैं, और पौधे को बढ़ने में मदद करती हैं?

Options:

- 1) Permanent
स्थायी
- 2) Dermal
त्वचीय
- 3) Meristematic
मेरिस्टेमेटिक
- 4) Mature
प्रीढ़

Correct Answer: Meristematic
मेरिस्टेमेटिक**Candidate Answer:** Meristematic
मेरिस्टेमेटिक

Downloaded From www.KnowledgePhilic.com

QID : 130 - Rodentia Muridae is the scientific name of

रोडेंशिया म्यूरीडी _____ का वैज्ञानिक नाम है।

Options:

- 1) Mouse
चूहा
- 2) Squirrel
गिलहरी
- 3) Monkey
बंदर
- 4) Lizard
छिपकली

Correct Answer: Mouse

चूहा

Candidate Answer: Monkey

बंदर

QID : 131 - The Chemical formula of Aluminium Chloride is _____.

एल्युमीनियम क्लोराइड का रासायनिक सूत्र _____ है।

Options:

- 1) AlCl
- 2) AlCl₂
- 3) AlCl₃
- 4) Al₂Cl₃

Correct Answer: AlCl₃

Candidate Answer: AlCl₃

QID : 132 - Plastic bottles are made of a polymer called PET. The expanded form of PET is

प्लास्टिक की बोतलें एक बहुलक की बनी होती हैं जिसे पीईटी कहा जाता है। पीईटी का विस्तारित रूप है

Options:

- 1) Polyethylene terephthalate
पॉलिइथिलिन टेरीफ्थेलेट
- 2) Polyethyl terelene
पॉलिइथाइल टेरीलीन
- 3) Polyethylene triphosphate
पॉलिइथिलिन ट्रायफॉस्फेट
- 4) Polyethyl tetrachloride
पॉलिइथाइल टेट्राक्लोराइड

Correct Answer: Polyethylene terephthalate

पॉलिइथिलिन टेरीफ्थेलेट

Candidate Answer: Polyethylene triphosphate

पॉलिइथिलिन ट्रायफॉस्फेट

QID : 133 - HTTP in computer science stands for?

कंप्यूटर विज्ञान में एचटीटीपी का विस्तारित रूप क्या है?

Options:

- 1) HyperText Transmission Protocol
हाइपरटेक्स्ट ट्रांसमिशन प्रोटोकॉल
- 2) HyperText Transfer Protocol
हाइपरटेक्स्ट ट्रांसफ़र प्रोटोकॉल
- 3) HyperText Technology Protocol
हाइपरटेक्स्ट टेक्नोलॉजी प्रोटोकॉल
- 4) HyperText Total Protocol
हाइपरटेक्स्ट टोटल प्रोटोकॉल

Correct Answer: HyperText Transfer Protocol

हाइपरटेक्स्ट ट्रांसफ़र प्रोटोकॉल

Candidate Answer: HyperText Transfer Protocol

हाइपरटेक्स्ट ट्रांसफ़र प्रोटोकॉल

QID : 134 - The leaning temple of Huma is dedicated to _____.

हुमा का झुकता हुआ मंदिर _____ को समर्पित किया गया है।

Options:

- 1) Hanuman
हनुमान
- 2) Shiva
शिव
- 3) Rama
राम
- 4) Krishna
कृष्ण

Correct Answer: Shiva

शिव

Candidate Answer: Krishna

कृष्ण

QID : 135 - If the average total cost are Rs 2400, average variable cost is Rs 1700 and quantity produced is 75 units, find the total fixed costs of the firm?

यदि औसत कुल लागत 2400 रु हैं, औसत परिवर्तनीय लागत Rs 1700 रु है और उत्पादन की मात्रा 75 इकाइयाँ हैं, तो उस फर्म की कुल निर्धारित लागत ज्ञात करें।

Options:

- 1) Rs 52500
52500 रु
- 2) Rs 127500
127500 रु
- 3) Rs 180000
180000 रु
- 4) Rs 60000
60000 रु

Correct Answer: Rs 52500

52500 रु

Candidate Answer: [NOT ANSWERED]**QID : 136** - Which of following is true if the Government monetized part of its deficit?

निम्न में से कौन सा सही है, यदि सरकार अपने घाटे का कुछ हिस्सा मुद्रिकृत कर दे?

Options:

- 1) Money supply in the economy will increase.
अर्थव्यवस्था में मुद्रा आपूर्ति में वृद्धि होगी।
- 2) Interest rate will increase.
ब्याज दर में वृद्धि होगी।
- 3) Government revenue will decrease.
सरकार के राजस्व में कमी होगी।
- 4) Government expenditure will increase.
सरकारी व्यय में वृद्धि होगी।

Correct Answer: Money supply in the economy will increase.

अर्थव्यवस्था में मुद्रा आपूर्ति में वृद्धि होगी।

Candidate Answer: Money supply in the economy will increase.

अर्थव्यवस्था में मुद्रा आपूर्ति में वृद्धि होगी।

QID : 137 - Non-green plants lack which of the following?

गैर-हरित वनस्पति में निम्नलिखित में से किसकी कमी होती है?

Options:

- 1) Chlorophyll
क्लोरोफिल
- 2) Lycophyll
लायकोफिल
- 3) Cyanophyll
सायनोफिल
- 4) Phototropism
फोटोट्रोपिज्म

Correct Answer: Chlorophyll

क्लोरोफिल

Candidate Answer: Chlorophyll

क्लोरोफिल

QID : 138 - Melghat Tiger Reserve is in which state?

मेलघाट टाइगर रिजर्व किस राज्य में है?

Options:

- 1) Maharashtra
महाराष्ट्र
- 2) Rajasthan
राजस्थान
- 3) Arunachal Pradesh
अरुणाचल प्रदेश
- 4) Uttarakhand
उत्तराखंड

Correct Answer: Maharashtra

महाराष्ट्र

Candidate Answer: Uttarakhand

उत्तराखंड

QID : 139 - Which institution in India acts as 'lender of the last resort'?

कौन सी संस्था भारत में 'अंतिम उधारदाता के उपाय' (लेंडर ऑफ द लास्ट रिज़ोर्ट) के रूप में कार्य करती है?

Options:

- 1) Finance Ministry
वित्त मंत्रालय
- 2) Reserve Bank of India
भारतीय रिज़र्व बैंक
- 3) Treasury
राज्य-कोष
- 4) Currency Printing Presses
मुद्रा प्रिंटिंग प्रेस

Correct Answer: Reserve Bank of India

भारतीय रिज़र्व बैंक

Candidate Answer: Reserve Bank of India

भारतीय रिज़र्व बैंक

QID : 140 - Name the international treaty designed to protect the ozone layer from CFCs.

सीएफसी में से ओज़ोन परत को बचाने के लिए तैयार की गई अंतर्राष्ट्रीय संधि का नाम बताइए।

Options:

- 1) Sigma protocol
सिग्मा प्रोटोकॉल
- 2) Montreal protocol
मोंट्रियल प्रोटोकॉल
- 3) Ozone protocol
ओज़ोन प्रोटोकॉल
- 4) Green protocol
ग्रीन प्रोटोकॉल

Correct Answer: Montreal protocol

मोंट्रियल प्रोटोकॉल

Candidate Answer: Ozone protocol

ओज़ोन प्रोटोकॉल

QID : 141 - _____ is the time taken by the earth to return to a given point in its orbit with reference to a fixed star.

_____ एक स्थिर तारे के संदर्भ में पृथ्वी द्वारा अपनी कक्षा में दिए गये बिंदु पर लौटने के लिए लिया गया समय है।

Options:

- 1) Lunar year
चांद्र-वर्ष
- 2) Sidereal year
नाक्षत्र वर्ष
- 3) Solar year
सौर वर्ष
- 4) Tropical year
उष्णकटिबंधीय वर्ष

Correct Answer: Sidereal year

नाक्षत्र वर्ष

Candidate Answer: Tropical year

उष्णकटिबंधीय वर्ष

QID : 142 - Who were the first among the following to establish trade relations with India?

निम्नलिखित में से किसने सर्वप्रथम भारत के साथ व्यापार संबंध स्थापित किये थे?

Options:

- 1) Dutch
डच
- 2) French
फ्रेंसिसी
- 3) English
इंग्लिश
- 4) Portuguese
पुर्तगाली

Correct Answer: Portuguese

पुर्तगाली

Candidate Answer: Portuguese

पुर्तगाली

QID : 143 - Kargil War against Pakistan started in the year?

पाकिस्तान के खिलाफ कारगिल युद्ध किस वर्ष शुरू हुआ?

Options:

- 1) 1961
- 2) 1965
- 3) 1972
- 4) 1999

Correct Answer: 1999**Candidate Answer:** 1999**QID : 144** - Who Invented FM Radio?

एफएम रेडियो का आविष्कार किसने किया?

Options:

- 1) Edwin Howard Armstrong
एडविन हावर्ड आर्मस्ट्रॉंग
- 2) John Barber
जॉन बार्बर
- 3) Edwin Beard Budding
एडविन बिपर्ड बुडिंग
- 4) Nicholas Callan
निकोलस कालन

Correct Answer: Edwin Howard Armstrong

एडविन हावर्ड आर्मस्ट्रॉंग

Candidate Answer: Edwin Beard Budding

एडविन बिपर्ड बुडिंग

KnowledgePhilic.com

UPSC | SSC | Bank | Railway | Lic | Fci | DMRC

QID : 145 - _____ refers to the superposing of two or more coherent waves to produce regions of maxima and minima in space, according to the principle of superposition.

सुपरपोजिशन (Superposition) के सिद्धांत के अनुसार _____ का संदर्भ अंतरिक्ष में मैक्सिमा और मिनीमा के क्षेत्रों का उत्पादन करने के लिए दो या अधिक सुसंगत तरंगों के एक दूसरे के ऊपर रखने (superposing) से होता है।

Options:

- 1) Interference
हस्तक्षेप
- 2) Rectification
शोधन
- 3) Intensity
तीव्रता
- 4) Diffraction
विवर्तन

Correct Answer: Interference

हस्तक्षेप

Candidate Answer: Rectification

शोधन

QID : 146 - What is the value of acceleration due to gravity at the centre of earth?

पृथ्वी के केंद्र में गुरुत्वाकर्षण के कारण त्वरण का मूल्य क्या होता है?

[Downloaded From www.KnowledgePhilic.com](http://www.KnowledgePhilic.com)

Options:

1) -1

2) 0

3) 1

4) Infinity

अनंत

Correct Answer: 0**Candidate Answer:** Infinity

अनंत

QID : 147 - What is the full form of the Indian Political Party "CPI-M"?

भारतीय राजनीतिक पार्टी "सीपीआई-एम" (CPI-M) का पूरा नाम क्या है?

Options:

1) Common Party of India (Marxist)

कॉमन पार्टी ऑफ़ इंडिया (मार्क्सवादी)

2) Common Party of India (Movement)

कॉमन पार्टी ऑफ़ इंडिया (मूवमेंट)

3) Communist Party of India (Movement)

कॉमनिस्ट पार्टी ऑफ़ इंडिया (मूवमेंट)

4) Communist Party of India (Marxist)

कॉमनिस्ट पार्टी ऑफ़ इंडिया (मार्क्सवादी)

Correct Answer: Communist Party of India (Marxist)

कॉमनिस्ट पार्टी ऑफ़ इंडिया (मार्क्सवादी)

Candidate Answer: Communist Party of India (Marxist)

कॉमनिस्ट पार्टी ऑफ़ इंडिया (मार्क्सवादी)

QID : 148 - Rajya Sabha is assisted by the Secretary-General, who holds the rank equivalent to?

महासचिव राज्यसभा को सहायता प्रदान करता है, जिसका पद किसके बराबर होता है?

Options:

1) Cabinet Minister of the Government of India

भारत सरकार के कैबिनेट मंत्री

2) Member of Parliament

संसद के सदस्य

3) Member of Legislature

विधानमंडल के सदस्य

4) Cabinet Secretary to the Government of India

भारत सरकार के कैबिनेट सचिव

Correct Answer: Cabinet Secretary to the Government of India

भारत सरकार के कैबिनेट सचिव

Candidate Answer: Cabinet Minister of the Government of India

भारत सरकार के कैबिनेट मंत्री

QID : 149 - _____ won the 2016 Formula One Rolex Australian Grand Prix.

वर्ष 2016 में _____ ने फॉर्मूला वन रोलेक्स ऑस्ट्रेलियन ग्रा.प्री. जीता था।

Options:

1) Michael Phelps

मायकल फेल्स

2) Lewis Hamilton

लुईस हेमिल्टन

3) Novak Djokovic

नोवैक जोकोविक

4) Nico Rosberg

निको रोजबर्ग

Correct Answer: Nico Rosberg

निको रोजबर्ग

Candidate Answer: Michael Phelps

मायकल फेल्स

QID : 150 - Who is the Author of the book "You are the Best Wife: A True Love Story"?

"यू आर द बेस्ट वाइफ: ए टू लव स्टोरी" का लेखक कौन है?

Options:

- 1) Durjoy Datta
दुर्जय दत्ता
- 2) Savi Sharma
सावी शर्मा
- 3) Ajay K Pandey
अजय के पांडेय
- 4) Preeti Shenoy
प्रीती शेनोय

Correct Answer: Ajay K Pandey
अजय के पांडेय

Candidate Answer: [NOT ANSWERED]

QID : 151 - A factory buys 8 machines. 3 Machine-A, 4 Machine-B and rest Machine-C. Prices of the machines are Rs 45000, Rs 25000 and Rs 35000 respectively. Calculate the average cost (in Rs) of these machines?

एक कारखाने में 8 मशीनों को खरीदा जाता है। इनमें 3 मशीन-A, 4 मशीन-B और बाकी की मशीन-C हैं। इन मशीनों के दाम क्रमशः 45000 रु, 25000 रु और 35000 रु हैं। इन मशीनों की औसत लागत (रु में) क्या है?

Options:

- 1) 33750
- 2) 35000
- 3) 36250
- 4) 32250

Correct Answer: 33750

Candidate Answer: 33750

QID : 152 - The ratio of present ages of Rangitha and Shaheen is 6:5. After 12 years the ratio of their ages will be 7:6. What is Rangitha's present age?

रंगिथा और शाहीन की वर्तमान आयु का अनुपात 6:5 है। 12 वर्षों बाद उनकी आयु का अनुपात 7:6 होगा। रंगिथा की वर्तमान आयु कितनी है?

Options:

- 1) 60
- 2) 55
- 3) 72
- 4) 28

Correct Answer: 72

Candidate Answer: 72

QID : 153 - If $\operatorname{cosec} 240^\circ = x$, then the value of x is

यदि $\operatorname{cosec} 240^\circ = x$, तो x का क्या मान है?

Options:

- 1) $\sqrt{2}$
- 2) 2
- 3) $-2/\sqrt{3}$
- 4) $-\sqrt{2}$

Correct Answer: $-2/\sqrt{3}$

Candidate Answer: $-2/\sqrt{3}$

QID : 154 - $2 * [-0.3(1.3 + 3.7)]$ of $0.8 = ?$

0.8 का $2 * [-0.3(1.3 + 3.7)] = ?$

Options:

- 1) -1.92
- 2) -0.72
- 3) -2.16
- 4) -2.4

Correct Answer: -2.4

Candidate Answer: -2.4

QID : 155 - 9 hrs after a goods train passed a station, another train travelling at a speed of 72 km/hr following that goods train passed through that station. If after passing the station the train overtakes the goods train in 3 hours. What is the speed of the goods train?

एक मालगाड़ी के द्वारा स्टेशन पार करने के 9 घंटे बाद, उसका पीछा करते हुए एक और रेलगाड़ी ने 72 कि.मी. घंटा की गति से यात्रा करते हुए उसी स्टेशन को पार किया। यदि स्टेशन पार करने के 3 घंटे के बाद रेलगाड़ी मालगाड़ी से आगे निकल जाती है, तो मालगाड़ी की गति क्या होगी?

KnowledgePhilic.com

UPSC | SSC | Bank | Railway | Lic | Fci | DMRC

Downloaded From www.KnowledgePhilic.com

Options:

- 1) 21.6 km/hr
21.6 कि.मी./घंटा
- 2) 27 km/hr
27 कि.मी./घंटा
- 3) 18 km/hr
18 कि.मी./घंटा
- 4) 14.4 km/hr
14.4 कि.मी./घंटा

Correct Answer: 18 km/hr

18 कि.मी./घंटा

Candidate Answer: [NOT ANSWERED]**QID : 156** - A shopkeeper, sold cocoa seeds at the rate Rs 1,230 a kg and bears a loss of 5%. Now if he decides to sell it at Rs 1,353 per kg, what will be the result?

एक दुकानदार 1,230 रु प्रति कि.ग्रा. की दर से कोको बीज बेचता है और 5% हानि वहन करता है। अब उसने 1,353 रु प्रति कि.ग्रा. से बेचने का फैसला किया है, तो इसका क्या परिणाम होगा?

Options:

- 1) 4.5 percent gain
4.5 प्रतिशत लाभ
- 2) 9 percent gain
9 प्रतिशत लाभ
- 3) 4.5 percent loss
4.5 प्रतिशत हानि
- 4) 9 percent loss
9 प्रतिशत हानि

Correct Answer: 4.5 percent gain

4.5 प्रतिशत लाभ

Candidate Answer: 4.5 percent gain

4.5 प्रतिशत लाभ

QID : 157 - If $1/\sqrt{1 - \sin^2 A} = x$, then the value of x isयदि $1/\sqrt{1 - \sin^2 A} = x$, तो x का क्या मान है?**Options:**

- 1) tanA
- 2) cosecA
- 3) secA
- 4) cosA

Correct Answer: secA**Candidate Answer:** secA**QID : 158** - A can do a work in 15 days and B in 20 days. If they work on it together for 6 days, then what fraction of work is left?

A एक काम 15 दिन में और B 20 दिन में करता है। यदि वे दोनों 6 दिन साथ मिलकर काम करें, तो काम का कितना भाग बाकी रह जायेगा?

Options:

- 1) 1/4
- 2) 2/9
- 3) 1/5
- 4) 3/10

Correct Answer: 3/10**Candidate Answer:** 3/10**QID : 159** - What is the value of $(1+\cos A)/(1-\cos A)$? $(1+\cos A)/(1-\cos A)$ का मान क्या है?**Options:**

- 1) $(\operatorname{cosec} A - \cot A)^2$
- 2) $(\operatorname{cosec} A + \cot A)^2$
- 3) $(\sec A + \cot A)^2$
- 4) $(\sec A - \cot A)^2$

Correct Answer: $(\operatorname{cosec} A + \cot A)^2$ **Candidate Answer:** $(\operatorname{cosec} A + \cot A)^2$ [Downloaded From www.KnowledgePhilic.com](http://www.KnowledgePhilic.com)

QID : 160 - What are the co-ordinates of the mid point of the segment joining points C(5,-2) and D(-1,8).

बिंदु C (5, -2) और D(-1,8) को जोड़ने वाली रेखा खंड के मध्य-बिंदु के निर्देशांक क्या हैं?

Options:

1) (-2, -3)

2) (2, 3)

3) (-2, 3)

4) (2, -3)

Correct Answer: (2, 3)

Candidate Answer: (2, 3)

QID : 161 - The line passing through (-3,4) and (0,3) is perpendicular to the line passing through (5,7) and (4,x). What is the value of x?

बिंदु (-3,4) और (0,3) से गुजरने वाली रेखा (5,7) और (4,x) से गुजरने वाली रेखा पर अभिलंब है। x का क्या मान है?

Options:

1) 4

2) -2

3) 2

4) -4

Correct Answer: 4

Candidate Answer: [NOT ANSWERED]

QID : 162 - If $2(3x - 4) - 2 < 4x - 2 \geq 2x - 4$; then the value of x is

यदि $2(3x - 4) - 2 < 4x - 2 \geq 2x - 4$; तो x का क्या मान है?

Options:

1) 2

2) 5

3) -4

4) -5

Correct Answer: 2

Candidate Answer: 2

QID : 163 - Expand and simplify $(3x + 2)^2(4x - 3) - (2x^3 - 9x^2 + 12x - 24)$

$(3x + 2)^2(4x - 3) - (2x^3 - 9x^2 + 12x - 24)$ को विस्तारित कीजिये और हल कीजिये।

Options:

1) $34x^3 + 30x^2 - 32x - 12$

2) $34x^3 + 30x^2 - 32x + 12$

3) $34x^3 - 30x^2 - 32x + 12$

4) $34x^3 - 30x^2 + 32x - 12$

Correct Answer: $34x^3 + 30x^2 - 32x + 12$

Candidate Answer: $34x^3 + 30x^2 - 32x + 12$

QID : 164 - An angle is smaller than its supplementary angle by 50° . What is the measure of the angle?

एक कोण अपने अनुपूरक कोण की तुलना में 50° छोटा है। कोण का माप क्या है?

Options:

1) 115°

2) 60°

3) 30°

4) 65°

Correct Answer: 65°

Candidate Answer: 65°

QID : 165 - A bank offers 10% compound interest per half year. A customer deposits Rs. 2000 each on 1st January and 1st July of a year. At the end of the year, the amount he would have gained by way of interest is

एक बैंक अर्द्ध वार्षिक रूप से 10% चक्रवृद्धि ब्याज की पेशकश करता है। एक ग्राहक एक वर्ष में 1 जनवरी और 1 जुलाई को 2000 रु जमा करता है। वर्ष के अंत में ब्याज के माध्यम से उसे कितनी राशि का लाभ होगा?

[Downloaded From www.KnowledgePhilic.com](http://www.KnowledgePhilic.com)

Options:

- 1) Rs 1240
1240 रु
- 2) Rs 310
310 रु
- 3) Rs 155
155 रु
- 4) Rs 620
620 रु

Correct Answer: Rs 620

620 रु

Candidate Answer: Rs 310

310 रु

QID : 166 - A cylindrical vessel of radius 7 cm is partially filled with water. By how much will the water level rise if a sphere of radius 6 cm is completely immersed in this water?

7 से.मी. की त्रिज्या के एक बेलनाकार बर्तन को आंशिक रूप से पानी से भरा जाता है। यदि पानी में 6 से.मी. की त्रिज्या के एक गोले को पूरी तरह से डुबाया जाता है, तो पानी के स्तर में कितनी वृद्धि होगी?

Options:

- 1) 11.76 cm
11.76 से.मी.
- 2) 17.64 cm
17.64 से.मी.
- 3) 23.52 cm
23.52 से.मी.
- 4) 5.88 cm
5.88 से.मी.

Correct Answer: 5.88 cm

5.88 से.मी.

Candidate Answer: [NOT ANSWERED]**QID : 167** - In a rhombus _____.

एक सम चतुर्भुज में _____।

Options:

- 1) Diagonals are equal and perpendicular
विकर्ण एक बराबर और लंबवत होते हैं
- 2) Consecutive angles are equal
लगातार कोण एक बराबर होते हैं
- 3) Consecutive angles are supplementary
लगातार कोण अनुपूरक होते हैं
- 4) Adjacent sides are not equal
आसन्न भुजा एक बराबर नहीं होती हैं

Correct Answer: Consecutive angles are supplementary

लगातार कोण अनुपूरक होते हैं

Candidate Answer: Consecutive angles are supplementary

लगातार कोण अनुपूरक होते हैं

QID : 168 - If $a - b = 3$ and $ab = 28$, then $a^3 - b^3$ isयदि $a - b = 3$ और $ab = 28$, तो $a^3 - b^3$ का मान क्या है?**Options:**

- 1) 279
- 2) 387
- 3) 513
- 4) 91

Correct Answer: 279**Candidate Answer:** 279**QID : 169** - Daily local train ticket costs Rs 30 and Monthly Pass costs Rs 670.8. If I buy the Monthly Pass and travel for 26 days in a month than I save?

लोकल ट्रेन के दैनिक टिकट का मूल्य 30 रु है और मासिक पास का मूल्य 670.80 रु है। यदि मैं मासिक पास खरीदता हूँ, और एक महीने में 26 दिन यात्रा करता हूँ, तो मेरी कितनी बचत होगी?

KnowledgePhilic.com

UPSC | SSC | Bank | Railway | Lic | Fci | DMRC

Downloaded From www.KnowledgePhilic.com

Options:

- 1) 12 percent
12 प्रतिशत
2) 14 percent
14 प्रतिशत
3) 25 percent
25 प्रतिशत
4) 10 percent
10 प्रतिशत

Correct Answer: 14 percent

14 प्रतिशत

Candidate Answer: 12 percent

12 प्रतिशत

QID : 170 - When a number is increased by 18, it becomes 106% of itself. What is the number?

किसी संख्या में जब 18 का योग किया जाये, तो वह संख्या अपने आप की 106% हो जाती है। वह संख्या क्या है?

Options:

- 1) 300
2) 216
3) 270
4) 162

Correct Answer: 300**Candidate Answer:** 300**QID : 171** - Two fractions are such that their product is $-2/5$ and sum is $1/15$. What are the two fractions.दो भिन्न इस प्रकार हैं कि उनका गुणनफल $-2/5$ है और योग $1/15$ है। वह दो भिन्न क्या हैं?**Options:**

- 1) $4/3, -3/10$
2) $2/7, -7/5$
3) $4/7, -7/10$
4) $2/3, -3/5$

Correct Answer: $2/3, -3/5$ **Candidate Answer:** $2/3, -3/5$

KnowledgePhilic.com

QID : 172 -

UPSC | SSC | Bank | Railway | Lic | Fci | DMRC

Refer the below data table and answer the following Question.

नीचे दिये गए डेटा तालिका के आधार पर निम्नलिखित प्रश्न का उत्तर दें।

	Number of employees कर्मचारियों की संख्या	Annual salary (in lakhs) वार्षिक वेतन (लाखों में)	Bonus as percent of annual salary वार्षिक वेतन के प्रतिशत के रूप में बोनस
Manager / प्रबंधक	2	60	50%
Executive / कार्यकारी	8	20	20%
Trainee / प्रशिक्षु	4	4	10%

What is the average bonus (in rupees)?

औसत बोनस (रुपये में) कितना है?

Options:

- 1) 9359994
2) 668571
3) 280000
4) 344000

Correct Answer: 668571**Candidate Answer:** [NOT ANSWERED]Downloaded From www.KnowledgePhilic.com

QID : 173 -

Refer the below data table and answer the following Question.

नीचे दिये गए डेटा तालिका के आधार पर निम्नलिखित प्रश्न का उत्तर दें।

	2011	2012	2013	2014	2015
Company A / कंपनी A	2000	5000	4000	4000	4000
Company B / कंपनी B	5000	2000	3000	2000	5000
Company C / कंपनी C	1000	4000	3000	4000	4000

For which of the following pairs of years the total exports from the three Companies together are equal?

(Note: Figures given are in lakh rupees)

निम्न में से वर्षों की कौन सी जोड़ी के लिए तीनों कंपनियों का कुल निर्यात बराबर है?

(नोट: दिए गए आँकड़े लाख रुपए में हैं)

Options:

1) 2011 & 2013

2011 एवं 2013

2) 2013 & 2014

2013 एवं 2014

3) 2011 & 2012

2011 एवं 2012

4) 2014 & 2015

2014 एवं 2015

Correct Answer: 2013 & 2014

2013 एवं 2014

Candidate Answer: 2013 & 2014

2013 एवं 2014

KnowledgePhilic.com

QID : 174 -

Refer the below data table and answer the following Question.

नीचे दिये गए डेटा तालिका के आधार पर निम्नलिखित प्रश्न का उत्तर दें।

Year वर्ष	Profit or (-Loss) in Rs Crore करोड़ रूपये में लाभ या (-नुकसान)
2011	5
2012	-15
2013	-15
2014	15
2015	-10

What was the total Profit or loss of the company in last 5 years?

पिछले पांच वर्षों में कंपनी का कुल लाभ या नुकसान कितना था?

Options:

1) Loss of Rs 30 crores

30 करोड़ रु का नुकसान

2) Loss of Rs 20 crores

20 करोड़ रु का नुकसान

3) Profit of Rs 20 crores

20 करोड़ रु का लाभ

4) Profit of Rs 30 crores

30 करोड़ रु का लाभ

Correct Answer: Loss of Rs 20 crores

20 करोड़ रु का नुकसान

Candidate Answer: Loss of Rs 20 crores

20 करोड़ रु का नुकसान

Downloaded From www.KnowledgePhilic.com

QID : 175 -

Refer the below data table and answer the following Question.

नीचे दिये गए डेटा तालिका के आधार पर निम्नलिखित प्रश्न का उत्तर दें।

India's exports in 2015 वर्ष 2015 में भारत का निर्यात	Value in million US\$ मिलियन डॉलर में मूल्य
Jewellery / ज़ेवर	750
Software / सॉफ्टवेयर	725
Cotton / कपास	700
Steel / इस्पात	700
Electronics / इलेक्ट्रॉनिक्स	725

Steel was what percent of total exports?

इस्पात का निर्यात भारत के कुल निर्यात का कितना प्रतिशत था?

Options:

- 1) 24.44 percent
24.44 प्रतिशत
- 2) 21.94 percent
21.94 प्रतिशत
- 3) 19.44 percent
19.44 प्रतिशत
- 4) 16.94 percent
16.94 प्रतिशत

Correct Answer: 19.44 percent
19.44 प्रतिशत**Candidate Answer:** 16.94 percent
16.94 प्रतिशत

KnowledgePhilic.com

QID : 176 - Select the synonym of

UPSC I SSC I Bank I Railway I Lic I Fci I DMRC

meadow**Options:**

- 1) metro
- 2) pasture
- 3) borough
- 4) civic

Correct Answer: pasture**Candidate Answer:** civic**QID : 177 -** Select the word with the correct spelling.**Options:**

- 1) paginat
- 2) carosel
- 3) escalate
- 4) skewwered

Correct Answer: escalate**Candidate Answer:** [NOT ANSWERED]**QID : 178 -** In the following question, the sentence given with blank to be filled in with an appropriate word. Select the correct alternative out of the four and indicate it by selecting the appropriate option.**People came out on the streets and _____ firecrackers to celebrate the victory.****Options:**

- 1) burst
- 2) heated
- 3) burnt
- 4) ignited

Correct Answer: burst**Candidate Answer:** burnt**QID : 179 -** In the following question, some part of the sentence may have errors. Find out which part of the sentence has an error and select the appropriate option. If a sentence is free from error, select 'No Error'.**I could scarcely think(A) / what I was saying (B) / what was being said to me. (C) / No error (D)**

Downloaded From www.KnowledgePhilic.com

Options:

- 1) A
- 2) B
- 3) C
- 4) D

Correct Answer: D

Candidate Answer: C

QID : 180 - Rearrange the parts of the sentence in correct order.

However the major drawback

P-of this process is that

Q-there is no legally binding

R-outcome at the end of six years

Options:

- 1) QRP
- 2) RPQ
- 3) PRQ
- 4) PQR

Correct Answer: PQR

Candidate Answer: PQR

QID : 181 - In the following question, some part of the sentence may have errors. Find out which part of the sentence has an error and select the appropriate option. If a sentence is free from error, select 'No Error'.

When you have(A)/gone through my notes, (B)/give the same to me.(C)/No error(D)

Options:

- 1) A
- 2) B
- 3) C
- 4) D

Correct Answer: C

Candidate Answer: B

KnowledgePhilic.com

QID : 182 - In the following question, the sentence given with blank to be filled in with an appropriate word. Select the correct alternative out of the four and indicate it by selecting the appropriate option.

I don't have a big budget, I just need a place which provides bed and _____.

Options:

- 1) drinks
- 2) breakfast
- 3) food
- 4) eatables

Correct Answer: breakfast

Candidate Answer: food

QID : 183 - Improve the bracketed part of the sentence.

What time are we **(going to leave)** tomorrow?

Options:

- 1) going to go to leave
- 2) going to be leaving
- 3) going to have left
- 4) no improvement

Correct Answer: no improvement

Candidate Answer: going to be leaving

QID : 184 - Select the synonym of

to superimpose

Options:

- 1) to overlap
- 2) to adjoin
- 3) to juxtapose
- 4) to continue

Correct Answer: to overlap

Candidate Answer: [NOT ANSWERED]

QID : 185 - In the following question, out of the four alternatives, select the alternative which best expresses the meaning of the idiom/phrase.

an arm and a leg

[Downloaded From www.KnowledgePhilic.com](http://www.KnowledgePhilic.com)

Options:

- 1) a large, possibly exorbitant, amount of money
- 2) a highly motivated person can succeed even with few resources
- 3) one loves a person so much that one is willing to sacrifice his most precious things for them
- 4) all children are equal for a mother. She can't sacrifice anyone.

Correct Answer: a large, possibly exorbitant, amount of money

Candidate Answer: [NOT ANSWERED]

QID : 186 - Select the word with the correct spelling.

Options:

- 1) tusocky
- 2) lampereys
- 3) rebeled
- 4) atrocity

Correct Answer: atrocity

Candidate Answer: [NOT ANSWERED]

QID : 187 - In the following question, a sentence has been given in Active/Passive voice. Out of four alternatives suggested, select the one, which best expresses the same sentence in Passive/Active voice.

The professor always answers my questions.

Options:

- 1) My questions were always answered by the professor.
- 2) My questions are always answered by the professor.
- 3) My questions were always being answered by the professor.
- 4) My questions had always been answered by the professor.

Correct Answer: My questions are always answered by the professor.

Candidate Answer: My questions are always answered by the professor.

QID : 188 - Select the antonym of

to inundate

Options:

- 1) to underwhelm
- 2) to glut
- 3) to deluge
- 4) to engulf

Correct Answer: to underwhelm

Candidate Answer: [NOT ANSWERED]

KnowledgePhilic.com

UPSC I SSC I Bank I Railway I Lic I Fci I DMRC

QID : 189 - In the following question, out of the four alternatives, select the alternative which best expresses the meaning of the idiom/phrase.

an axe to grind

Options:

- 1) preparing for a fight
- 2) to have a problem with something or someone
- 3) some important task to do
- 4) one's skill should always be practiced or their edge becomes blunt

Correct Answer: to have a problem with something or someone

Candidate Answer: [NOT ANSWERED]

QID : 190 - In the following question, out of the four alternatives, select the alternative which is the best substitute of the phrase.

a piece of living tissue that is transplanted surgically.

Options:

- 1) hybrid
- 2) bud
- 3) scion
- 4) graft

Correct Answer: graft

Candidate Answer: graft

QID : 191 - Improve the bracketed part of the sentence.

When he arrived at the party, he (**had been dressed**) in a black suit.

Options:

- 1) dressed
- 2) had dressed
- 3) was dressed
- 4) no improvement

Correct Answer: was dressed

[Downloaded From www.KnowledgePhilic.com](http://www.KnowledgePhilic.com)

Candidate Answer: was dressed

QID : 192 - Select the antonym of

to reveal

Options:

- 1) to concede
- 2) to repudiate
- 3) to avow
- 4) to divulge

Correct Answer: to repudiate

Candidate Answer: to divulge

QID : 193 - Rearrange the parts of the sentence in correct order.

No democracy

P-can survive without the

Q-philosophical imagination

R-roots of such an ethical and

Options:

- 1) RPQ
- 2) QRP
- 3) PRQ
- 4) QPR

Correct Answer: PRQ

Candidate Answer: PRQ

QID : 194 - In the following question, a sentence has been given in Direct/Indirect speech. Out of the four alternatives suggested, select the one, which best express the same sentence in Indirect/Direct speech.

Anita said, "I bought a phone yesterday".

Options:

- 1) Anita said she had bought a phone the day before.
- 2) Anita said that she had bought a phone the day before.
- 3) Anita said she has bought a phone the day before.
- 4) Anita said she has bought a phone yesterday.

Correct Answer: Anita said that she had bought a phone the day before.

Candidate Answer: Anita said she had bought a phone the day before.

QID : 195 - In the following question, out of the four alternatives, select the alternative which is the best substitute of the phrase.

to cut up (food, especially meat) into very small pieces

Options:

- 1) to crumble
- 2) to chop
- 3) to mince
- 4) to grind

Correct Answer: to mince

Candidate Answer: to chop

QID : 196 - In the following passage, some of the words have been left out. Read the passage carefully and select the correct answer for the given blank out of the four alternatives.

In its _____ phase, the big telco monopolies tried to levy a "tax" on all Internet content _____. The Internet companies were then the new kids on the _____. They and the Internet user community fought back such attempts. This was the first net neutrality war, and it _____ the principle of _____ on the Internet between different types of content or sites.

In its _____ phase

Options:

- 1) nascent
- 2) potential
- 3) fresh
- 4) promising

Correct Answer: nascent

Candidate Answer: [NOT ANSWERED]

QID : 197 - In the following passage, some of the words have been left out. Read the passage carefully and select the correct answer for the given blank out of the four alternatives.

In its _____ phase, the big telco monopolies tried to levy a "tax" on all Internet content _____. The Internet companies were then the new kids on the _____. They and the Internet user community fought back such attempts. This was the first net neutrality war, and it _____ the principle of _____ on the Internet between different types of content or sites.

all Internet content _____.

Options:

- 1) stakeholders
- 2) providers
- 3) manufacturers
- 4) coders

Correct Answer: providers

Candidate Answer: [NOT ANSWERED]

QID : 198 - In the following passage, some of the words have been left out. Read the passage carefully and select the correct answer for the given blank out of the four alternatives.

In its _____ phase, the big telco monopolies tried to levy a "tax" on all Internet content _____. The Internet companies were then the new kids on the _____. They and the Internet user community fought back such attempts. This was the first net neutrality war, and it _____ the principle of _____ on the Internet between different types of content or sites.

The Internet companies were then the new kids on the _____.

Options:

- 1) slab
- 2) bar
- 3) block
- 4) square

Correct Answer: block

Candidate Answer: [NOT ANSWERED]

QID : 199 - In the following passage, some of the words have been left out. Read the passage carefully and select the correct answer for the given blank out of the four alternatives.

In its _____ phase, the big telco monopolies tried to levy a "tax" on all Internet content _____. The Internet companies were then the new kids on the _____. They and the Internet user community fought back such attempts. This was the first net neutrality war, and it _____ the principle of _____ on the Internet between different types of content or sites.

This was the first net neutrality war, and it _____.

Options:

- 1) established
- 2) establishes
- 3) was establishing
- 4) were establishing

Correct Answer: established

Candidate Answer: [NOT ANSWERED]

QID : 200 - In the following passage, some of the words have been left out. Read the passage carefully and select the correct answer for the given blank out of the four alternatives.

In its _____ phase, the big telco monopolies tried to levy a "tax" on all Internet content _____. The Internet companies were then the new kids on the _____. They and the Internet user community fought back such attempts. This was the first net neutrality war, and it _____ the principle of _____ on the Internet between different types of content or sites.

the principle of _____ on the Internet between different types of content or sites.

Options:

- 1) suffrage
- 2) quota
- 3) non-alignment
- 4) non-discrimination

Correct Answer: non-discrimination

Candidate Answer: [NOT ANSWERED]