



Staff Selection Commission  
(Government Of India)

REGISTRATION NUMBER :

KnowledgePhilic.com

EXAM DATE : 23-January-2017

EXAM NAME : SSC Examination

2016 TOTAL MARKS : 200

CANDIDATE NAME :

KnowledgePhilic.com

EXAM START TIME : 16:15:00

EXAM DURATION : 01:15 Hrs

TOTAL NO OF QUESTIONS : 100

**QID : 201** - Select the related word/letters/number from the given alternatives.

Brave : Coward :: Culprit : ?

दिए गए विकल्पों में से संबंधित शब्द/अक्षर/संख्या को चुनिए।

बहादुर : कायर :: अपराधी : ?

**Options:**

1) Hungry

भूखा

2) Innocent

मासूम

3) Accused

अभियुक्त

4) Indicted

अभियोगी

**Correct Answer:** Innocent

मासूम

**Candidate Answer:** Innocent

मासूम

KnowledgePhilic.com

**QID : 202** - Select the related word/letters/number from the given alternatives.

LOGIC : OLTRX :: SOUND : ?

दिए गए विकल्पों में से संबंधित शब्द/अक्षर/संख्या को चुनिए।

LOGIC : OLTRX :: SOUND : ?

**Options:**

1) HOFMW

2) HLFWM

3) HFLMW

4) HLFMW

**Correct Answer:** HLFMW

**Candidate Answer:** HLFWM

**QID : 203** - Select the related word/letters/number from the given alternatives.

BOTTOM : 85 :: DRUM : ?

दिए गए विकल्पों में से संबंधित शब्द/अक्षर/संख्या को चुनिए।

BOTTOM : 85 :: DRUM : ?

**Options:**

1) 58

2) 54

3) 56

4) 59

**Correct Answer:** 56

**Candidate Answer:** 56

**QID : 204** - Select the related word/letters/number from the given alternatives.

523 : 325 :: 603 : ?

दिए गए विकल्पों में से संबंधित शब्द/अक्षर/संख्या को चुनिए।

523 : 325 :: 603 : ?

**Options:**

- 1) 415
- 2) 426
- 3) 306
- 4) 436

**Correct Answer:** 306

**Candidate Answer:** 306

**QID : 205** - Select the odd word/letters/number/number pair from the given alternatives.

दिए गए विकल्पों में से विषम शब्द/अक्षर/संख्या/संख्या गुग्म को चुनिए।

**Options:**

- 1) Night blindness

रतौंधी

- 2) Scurvy

स्कर्वी

- 3) Beriberi

बेरीबेरी

- 4) AIDS

एड्स

**Correct Answer:** AIDS

एड्स

**Candidate Answer:** AIDS

एड्स

**QID : 206** - Select the odd word/letters/number/number pair from the given alternatives.

दिए गए विकल्पों में से विषम शब्द/अक्षर/संख्या/संख्या गुग्म को चुनिए।

**Options:**

- 1) DEF

- 2) GJM

- 3) NQT

- 4) BEH

**Correct Answer:** DEF

**Candidate Answer:** DEF

**QID : 207** - Select the odd word/letters/number/number pair from the given alternatives.

दिए गए विकल्पों में से विषम शब्द/अक्षर/संख्या/संख्या गुग्म को चुनिए।

**Options:**

- 1) 636

- 2) 525

- 3) 416

- 4) 327

**Correct Answer:** 327

**Candidate Answer:** 416

**QID : 208** - Select the odd word/letters/number/number pair from the given alternatives.

दिए गए विकल्पों में से विषम शब्द/अक्षर/संख्या/संख्या गुग्म को चुनिए।

**Options:**

- 1) 6735

- 2) 1983

- 3) 1875

- 4) 7361

KnowledgePhilic.com

UPSC | SSC | Bank | Railway | Lic | Fci | DMRC

[Downloaded From www.KnowledgePhilic.com](http://www.KnowledgePhilic.com)

**Correct Answer:** 7361

**Candidate Answer:** 7361

**QID : 209** - A series is given with one term missing. Choose the correct alternative from the given ones that will complete the series.

West Indies (CWC 1979), India (CWC 1983), Australia (CWC 1987), ? , Sri Lanka (CWC 1996)

[Note: CWC - Cricket World Cup]

एक अनुक्रम दिया गया है, जिसमें सएक पद लुप्त है। दिए गए विकल्पोंमें सएह सही विकल्प चुनिए जो अनुक्रम को पूरा करण

वस्टइंडीज (CWC 1979), भारत (CWC 1983), ऑस्ट्रेलिया (CWC 1987), ? , श्रीलंका (CWC 1996)

[ध्यान दें: CWC - क्रिकेट वर्ल्ड कप]

**Options:**

1) Australia (CWC 1992)

2) Australia (CWC 1999)

3) England (CWC 1992)

4) Pakistan (CWC 1992)

**Correct Answer:** Pakistan (CWC 1992)

**Candidate Answer:** [ NOT ANSWERED ]

**QID : 210** - A series is given with one term missing. Choose the correct alternative from the given ones that will complete the series.

RS, WX, BC, ?

एक अनुक्रम दिया गया है, जिसमें सएक पद लुप्त है। दिए गए विकल्पोंमें सएह सही विकल्प चुनिए जो अनुक्रम को पूरा करण

RS, WX, BC, ?

**Options:**

1) MO

2) IJ

3) GH

4) TU

**Correct Answer:** GH

**Candidate Answer:** GH

**QID : 211** - A series is given with one term missing. Choose the correct alternative from the given ones that will complete the series.

AB, JH, RM, YQ, ?

एक अनुक्रम दिया गया है, जिसमें सएक पद लुप्त है। दिए गए विकल्पोंमें सएह सही विकल्प चुनिए जो अनुक्रम को पूरा करण

AB, JH, RM, YQ, ?

**Options:**

1) YZ

2) ZA

3) DE

4) ET

**Correct Answer:** ET

**Candidate Answer:** ET

**QID : 212** - A series is given with one term missing. Choose the correct alternative from the given ones that will complete the series.

2, 3, 5, 9, 17, ?

एक अनुक्रम दिया गया है, जिसमें सएक पद लुप्त है। दिए गए विकल्पोंमें सएह सही विकल्प चुनिए जो अनुक्रम को पूरा करण

2, 3, 5, 9, 17, ?

**Options:**

1) 33

2) 11

3) 32

4) 27

**Correct Answer:** 33

**Candidate Answer:** 33

KnowledgePhilic.com

UPSC | SSC | Bank | Railway | Lic | Fci | DMRC

**QID : 213** - In the following question, two statements are given each followed by two conclusions I and II. You have to consider the statement to be true even if they seem to be at variance from commonly known facts. You have to decide which of the given conclusions, if any, follows from the given statements.

Statements:

- (I) Some books are toys.  
(II) No toy is red.

Conclusion:

- (I) Some books are red.  
(II) Some toys are books.

निम्नलिखित प्रश्न में, दो कथन दिए गए हैं जिनका आगदो निष्कर्ष I और II निकालाए हैं। आपको मानना है कि कथन सत्य है। तब तथ्योसभित प्रतीत होतहो। आपको निर्णय करना है कि दिए गए निष्कर्षों में सकोन सा/कोन सनिश्चित रूप सकथनोद्वारा सही निकाला जा सकता है। यदि कोई हो।

कथन:

- (I) कुछ पुस्तकें खिलौन हैं।  
(II) कोई खिलौना लाल नहीं है।

निष्कर्ष:

- (I) कुछ पुस्तकें लाल हैं।  
(II) कुछ खिलौन पुस्तकें हैं।

**Options:**

- 1) Conclusion I follows  
निष्कर्ष I सही है  
2) Conclusion II follows  
निष्कर्ष II सही है  
3) Neither I nor II follows  
न तो I और न ही II सही हैं  
4) Both I and II follows  
I और II दोनों सही हैं

**Correct Answer:** Conclusion II follows

निष्कर्ष II सही है

**Candidate Answer:** Conclusion II follows

निष्कर्ष II सही है

KnowledgePhilic.com

**QID : 214** - Farhan scored more runs than Raju. Simran scored more runs than Nitu but lesser runs than Raju. Who scored the highest runs?

फरहान, राजू से ज्यादा रन बनाता है। सिमरन, नीतू से ज्यादा किन्तु राजू से कम रन बनाती है। तो कौन सबसे अधिक रन बनाता है?

**Options:**

- 1) Nitu  
नीतू  
2) Farhan  
फरहान  
3) Simran  
सिमरन  
4) Raju  
राजू

**Correct Answer:** Farhan

फरहान

**Candidate Answer:** Farhan

फरहान

**QID : 215** - Arrange the given words in the sequence in which they occur in the dictionary.

- i. Cease  
ii. Consecutive  
iii. Constructive  
iv. Cement

निम्नलिखित शब्दों को शब्दकोश में आने वाले क्रम के अनुसार लिखें।

- i. Cease  
ii. Consecutive  
iii. Constructive  
iv. Cement

**Options:**

- 1) iii, i, iv, ii  
2) i, iv, ii, iii  
3) i, iv, iii, ii  
4) iv, i, ii, iii

**Correct Answer:** i, iv, ii, iii

**Candidate Answer:** i, iv, ii, iii

Downloaded From [www.KnowledgePhilic.com](http://www.KnowledgePhilic.com)

**QID : 216** - In a certain code language, "DIAMOND" is written as "4895064" and "GAME" is written as "7953". How is "MANGO" written in that code language?

एक विशिष्ट कोड भाषा में "DIAMOND" को "4895064" लिखा जाता है और "GAME" को "7953" लिखा जाता है। इस कोड भाषा में "MANGO" को किस प्रकार लिखा जाएगा?

**Options:**

1) 59670

2) 59607

3) 56970

4) 59671

**Correct Answer:** 59670

**Candidate Answer:** 59670

**QID : 217** -

In the following question, select the missing number from the given series.

निम्नलिखित प्रश्न में दिए गए विकल्पों में से लुप्त अंक ज्ञात कीजिए।

13	17	20
5	9	10
174	298	?

**Options:**

1) 410

2) 402

3) 526

4) 625

**Correct Answer:** 410

**Candidate Answer:** 402

KnowledgePhilic.com

UPSC | SSC | Bank | Railway | Lic | Fci | DMRC

**QID : 218** - If "#" means "subtraction", "&" means "division", "@" means "addition" and "%" means "multiplication" then

516 & 6 # 11 @ 50 % 4 = ?

यदि "#" का अर्थ "घटाव" है, "&" का अर्थ "भाग" है, "@" का अर्थ "जोड़" है और "%" का अर्थ "गुणा" है, तो

516 & 6 # 11 @ 50 % 4 = ?

**Options:**

1) 210

2) 274

3) 250

4) 275

**Correct Answer:** 275

**Candidate Answer:** 275

**QID : 219** - In the following question, which one set of letters when sequentially placed at the gaps in the given letter series shall complete it?

P\_QR\_QQ\_PQ\_R

निम्नलिखित प्रश्न में अक्षरोत्क्रा कौन सा समूह खाली स्थानोंपर क्रमवार रखनासोदी गई अक्षर श्रृंखला को पूरा करेगा?

P\_QR\_QQ\_PQ\_R

**Options:**

1) TERT

2) STTT

3) QPRQ

4) PQRS

**Correct Answer:** QPRQ

**Candidate Answer:** QPRQ

[Downloaded From www.KnowledgePhilic.com](http://www.KnowledgePhilic.com)

**QID : 220** - Riya travels 5 km in the east direction, takes a right turn and travels another 8 km. Next, she turns left to travel 4 km and then takes another left turn to travel 8 km more. Finally, she turns towards the east and travels 5 km. How far is she now from her original position?

रिया, पूर्व दिशा में 5 कि.मी. चलती है, फिर दाएँ मुड़कर और 8 कि.मी. चलती है। उसका पश्चात, वह बाएँ मुड़कर 4 कि.मी. चलती है और फिर एक बार फिर बाएँ मुड़कर 8 कि.मी. चलती है। अंत में, वह पूर्व दिशा की ओर मुड़कर 5 कि.मी. की दूरी तय करती है। वह अब अपना मूल स्थान साकितनी दूरी पर है?

**Options:**

- 1) 20 km  
20 कि.मी.
- 2) 14 km  
14 कि.मी.
- 3) 15 km  
15 कि.मी.
- 4) 16 km  
16 कि.मी.

**Correct Answer:** 14 km

14 कि.मी.

**Candidate Answer:** 14 km

14 कि.मी.

**QID : 221** -

A word is represented by only one set of numbers as given in any one of the alternatives. The sets of numbers given in the alternatives are represented by two classes of alphabets as shown in the given two matrices. The columns and rows of Matrix-I are numbered from 0 to 4 and that of Matrix-II are numbered from 5 to 9. A letter from these matrices can be represented first by its row and next by its column, for example, 'E' can be represented by 68, 99 etc., and 'G' can be represented by 20, 31 etc. Similarly, you have to identify the set for the word 'CRAB'.

एक शब्द केवल एक संख्या-समूह द्वारा दर्शाया गया है, जैसा कि विकल्पों में से किसी एक में दिया गया है। विकल्पों में दिए गए संख्या-समूह अक्षरों के दो वर्गों द्वारा दर्शाए गए हैं, जैसा कि दिए गए दो आव्यूहों में है। आव्यूह-I के स्तम्भ और पंक्ति की संख्या 0 से 4 है और आव्यूह-II की 5 से 9। इन आव्यूहों से एक अक्षर को पहले उसकी पंक्ति और बाद में स्तम्भ संख्या द्वारा दर्शाया जा सकता है। उदाहरण के लिए E को 68, 99 आदि द्वारा दर्शाया जा सकता है तथा G को 20, 31 आदि द्वारा दर्शाया जा सकता है। इसी तरह से आपको प्रश्न में दिए शब्द 'CRAB' के लिए समूह को पहचानना है।

**Matrix-I**  
**आव्यूह - I**

	0	1	2	3	4
0	G	B	G	D	O
1	A	G	L	B	A
2	G	B	A	G	F
3	R	G	V	S	E
4	O	B	A	B	L

**Matrix-II**  
**आव्यूह - II**

	5	6	7	8	9
5	C	G	L	R	S
6	O	N	C	E	O
7	G	R	S	J	C
8	R	L	C	O	Y
9	A	R	E	C	E

**Options:**

- 1) 55, 58, 10, 13
- 2) 67, 30, 14, 22
- 3) 87, 85, 23, 41
- 4) 98, 77, 42, 43

**Correct Answer:** 55, 58, 10, 13

**Candidate Answer:** 55, 58, 10, 13

**QID : 222** - Introducing a girl, a man says, "She is the daughter of my father's daughter". How is the girl related to the man?

एक लड़की का परिचय कराते हुए एक आदमी ने कहा, "वह, मेरे पिता की बेटी की बेटी है।" वह लड़की, उस आदमी से कैसे संबंधित है?

**Options:**

- 1) Niece  
भांजी
- 2) Daughter  
बेटी
- 3) Sister  
बहन
- 4) Cousin  
चचेरी बहन

**Correct Answer:** Niece

भांजी

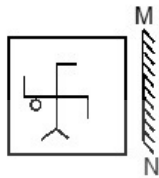
**Candidate Answer:** Niece

भांजी

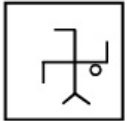
**QID : 223 -**

If a mirror is placed on the line MN, then which of the answer figures is the right image of the given figure?

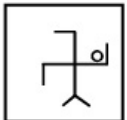
यदि एक दर्पण को MN रेखा पर रखा जाए, तो दी गई उत्तर आकृतियों में से कौन सी आकृति प्रश्न आकृति की सही प्रतिबिम्ब होगी?

**Options:**

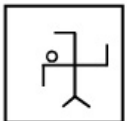
1)



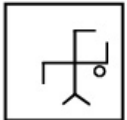
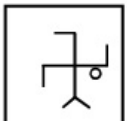
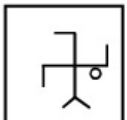
2)



3)



4)

**Correct Answer:****Candidate Answer:**

# KnowledgePhilic.com

UPSC | SSC | Bank | Railway | Lic | Fci | DMRC

**QID : 224** - Identify the diagram that best represents the relationship among the given classes.

Food, Vegetables, Apples

वह आरेख चुनिए जो नीचे दिए गए वर्गों के बीच के संबंध का सही निरूपण करता है।

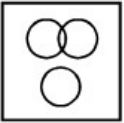
भोजन, सब्जियाँ, सेब

**Options:**

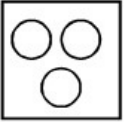
1)



2)



3)



4)



**Correct Answer:**



**Candidate Answer:**



KnowledgePhilic.com

UPSC | SSC | Bank | Railway | Lic | Fci | DMRC

**QID : 225** -

A piece of paper is folded and punched as shown below in the question figures. From the given answer figures, indicate how it will appear when opened.

नीचे के प्रश्न आकृतियों में दिखाए अनुसार कागज को मोड़कर छेदने तथा खोलने के बाद वह किस उत्तर आकृति जैसा दिखाई देगा?





**Options:**

1)



2)



3)



4)

**Correct Answer:****Candidate Answer:**

KnowledgePhilic.com

UPSC | SSC | Bank | Railway | Lic | Fci | DMRC

**QID : 226** - Mausoleum (Dargah) of Salim Chishti is situated in?

सलीम चिश्ती की दरगाह किसमें स्थित है?

**Options:**

1) Humayun's Tomb

हुमायूँ का मकबरा

2) Fatehpur Sikri

फतेहपुर सीकरी

3) Gwalior Fort

ग्वालियर का किला

4) Agra Fort

आगरे का किला

**Correct Answer:** Fatehpur Sikri

फतेहपुर सीकरी

**Candidate Answer:** Fatehpur Sikri

फतेहपुर सीकरी

**QID : 227** - Who has won the maximum number of Filmfare awards till now?

अब तक सर्वाधिक फिल्मफेयर अवार्ड किसने जीते हैं?

**Options:**

1) Shahrukh Khan

शाहरुख खान

2) Amitabh Bachchan

अमिताभ बच्चन

3) Aamir Khan

आमिर खान

4) Akshay Kumar

अक्षय कुमार

**Correct Answer:** Shahrukh Khan

शाहरुख खान

**Candidate Answer:** Amitabh Bachchan

अमिताभ बच्चन

[Downloaded From www.KnowledgePhilic.com](http://www.KnowledgePhilic.com)

**QID : 228** - Which of the following glands is a source of the enzyme Ptyalin?

निम्नलिखित ग्रंथियों में से एंजाइम ट्यालिन का स्रोत क्या है?

**Options:**

- 1) Pancreas  
अग्राशय
- 2) Thyroid Gland  
थाइराइड ग्रंथि
- 3) Pituitary Gland  
पीयूष ग्रंथि
- 4) Salivary Glands  
लार ग्रन्थियाँ

**Correct Answer:** Salivary Glands

लार ग्रन्थियाँ

**Candidate Answer:** Salivary Glands

लार ग्रन्थियाँ

**QID : 229** - Which of the following is not true about Pteridophyta?

निम्न में सफ़ाइन सी बात टेरिडोफाईट कवारा में सच नहीं है?

**Options:**

- 1) Dominant phase is saprophytes  
प्रमुख चरण सेप्रोफाईट्स होता है
- 2) Main plant body is diploid  
पौधे का मुख्य शरीर द्विगुणित होता है
- 3) Seeds are present  
बीज मौजूद होते हैं
- 4) Flowers are absent  
फूल अनुपस्थित होते हैं

**Correct Answer:** Seeds are present

बीज मौजूद होते हैं

**Candidate Answer:** [ NOT ANSWERED ]

**QID : 230** - The largest dolphin species is the orca, also called as \_\_\_\_\_.

डॉल्फिन की सबसे बड़ी प्रजाति का नाम ऑर्का है, जिसे \_\_\_\_\_ भी कहते हैं।

**Options:**

- 1) Bottle Nose  
बॉटल नोज
- 2) Baiji  
बैजी
- 3) Killer whale  
किलर व्हेल
- 4) Tucuxi  
टुकुकुसी

**Correct Answer:** Killer whale

किलर व्हेल

**Candidate Answer:** [ NOT ANSWERED ]

**QID : 231** - Atomic Number of Hydrogen is \_\_\_\_\_.

हाइड्रोजन की परमाणु संख्या \_\_\_\_\_ है।

**Options:**

- 1) 4
- 2) 3
- 3) 2
- 4) 1

**Correct Answer:** 1

**Candidate Answer:** 1

**QID : 232** - What is the net charge on Calcium fluoride?

कैल्शियम फ्लोराइड पर कुल आवेश कितना होता है?

**Options:**

1) 1+

2) 0

3) 1-

4) 2-

**Correct Answer:** 0**Candidate Answer:** [ NOT ANSWERED ]**QID : 233** - \_\_\_\_\_ is an object model language standard.

\_\_\_\_\_ एक ऑब्जेक्ट मॉडल लैंग्वेज मानक है।

**Options:**

1) Data definition language

डेटा डेफिनिशन लैंग्वेज

2) Data manipulation language

डेटा मैनीपुलेशन लैंग्वेज

3) Query language

केरी लैंग्वेज

4) OQL

ओक्यूएल

**Correct Answer:** OQL

ओक्यूएल

**Candidate Answer:** Query language

केरी लैंग्वेज

**QID : 234** - Tertali is a folk dance of \_\_\_\_\_.

तेरताली \_\_\_\_\_ का लोक नृत्य है।

**Options:**

1) Chhattisgarh

छत्तीसगढ़

2) Madhya Pradesh

मध्यप्रदेश

3) Manipur

मणिपुर

4) Karnataka

कर्नाटक

**Correct Answer:** Madhya Pradesh

मध्यप्रदेश

**Candidate Answer:** [ NOT ANSWERED ]**QID : 235** - If quantity of good X demanded increases from 4000 units to 5000 units when price of good Y increases from Rs 75 to Rs 90, find Arc Cross elasticity of demand?

यदि किसी वस्तु Y की कीमत 75 ₹ से बढ़ कर 90 ₹ हो जाती है तो वस्तु X की मांग की मात्रा 4000 इकाइयों से बढ़ कर 5000 इकाइयाँ हो जाती है, तो मांग की आर्क क्रॉस लोच ज्ञात करें।

**Options:**

1) 0.55

2) 1.66

3) 0.25

4) 1.22

**Correct Answer:** 1.22**Candidate Answer:** [ NOT ANSWERED ]**QID : 236** - During a recession \_\_\_\_\_

एक मंदी के दौरान \_\_\_\_\_

**Options:**

1) Producers will be cautiously optimistic.

उत्पादक सतर्कता से आशावादी हो जायेंगे।

2) there will be decrease in inventory

इनवेंटरी में कमी हो जाएगी

3) There will be capacity under utilization.

वहाँ क्षमता से कम उपयोग होगा।

4) there will be expansion in bank credit

बैंक ऋण में विस्तार हो जाएगा

**Correct Answer:** There will be capacity under utilization.

वहाँ क्षमता से कम उपयोग होगा।

KnowledgePhilic.com

UPSC | SSC | Bank | Railway | Lic | Fci | DMRC

[Downloaded From www.KnowledgePhilic.com](http://www.KnowledgePhilic.com)

**Candidate Answer:** [ NOT ANSWERED ]

**QID : 237** - Dudhwa Tiger Reserve is in which state?

दुधवा टाइगर रिजर्व किस राज्य में है?

**Options:**

- 1) Karnataka  
कर्नाटक
- 2) Uttar Pradesh  
उत्तरप्रदेश
- 3) Chhattisgarh  
छत्तीसगढ़
- 4) West Bengal  
प.बंगाल

**Correct Answer:** Uttar Pradesh  
उत्तरप्रदेश

**Candidate Answer:** Uttar Pradesh  
उत्तरप्रदेश

**QID : 238** - Which of the following is a greenhouse gas or a gas which can deplete the ozone layer?

निम्नलिखित में सफ़ाई ग्रीनहाउस गैस या ऐसी गैस है जो ओजोन परत को नुकसान पहुंचा सकती है?

**Options:**

- 1) B<sub>2</sub>H<sub>6</sub>
- 2) NF<sub>3</sub>
- 3) CCl<sub>3</sub>F
- 4) C<sub>6</sub>H<sub>6</sub>

**Correct Answer:** CCl<sub>3</sub>F

**Candidate Answer:** CCl<sub>3</sub>F

KnowledgePhilic.com

**QID : 239** - Renowned Businessmen, Mr. Deepak Parekh is primarily associated in the \_\_\_\_\_ sector.

प्रख्यात व्यवसायी, श्री दीपक पारेख मुख्य रूप से \_\_\_\_\_ क्षेत्र से जुड़े हुए हैं।

**Options:**

- 1) Telecom  
टेलीकॉम
- 2) Aviation  
एविएशन
- 3) Banking  
बैंकिंग
- 4) Insurance  
बीमा

**Correct Answer:** Banking

बैंकिंग

**Candidate Answer:** [ NOT ANSWERED ]

**QID : 240** - Uranus is the \_\_\_\_\_ planet from the Sun.

यूरेनस सूर्य से \_\_\_\_\_ ग्रह है।

**Options:**

- 1) First  
पहला
- 2) Third  
तीसरा
- 3) Fifth  
पांचवां
- 4) Seventh  
सातवां

**Correct Answer:** Seventh

सातवां

**Candidate Answer:** Seventh

सातवां

**QID : 241** - For what is Mohs scale used?

मोह्स पैमाने का प्रयोग किस लिए किया जाता है?

[Downloaded From www.KnowledgePhilic.com](http://www.KnowledgePhilic.com)

**Options:**

- 1) To measure brightness of a substance  
पदार्थ की चमक मापने के लिए
- 2) To measure viscosity of a liquid  
द्रव्य की विस्कसता मापने के लिए
- 3) To measure elasticity of a material  
सामग्री का लचीलापन मापने के लिए
- 4) To measure hardness of minerals  
खनिजों की कठोरता को मापने के लिए

**Correct Answer:** To measure hardness of minerals  
खनिजों की कठोरता को मापने के लिए

**Candidate Answer:** [ NOT ANSWERED ]

**QID : 242** - Qutub Minar is located in \_\_\_\_\_ .

कुतुब मीनार \_\_\_\_\_ में स्थित है।

**Options:**

- 1) Delhi  
दिल्ली
- 2) Ghaziabad  
गाजियाबाद
- 3) Noida  
नोएडा
- 4) Gurugram  
गुरुग्राम

**Correct Answer:** Delhi  
दिल्ली

**Candidate Answer:** Delhi  
दिल्ली

**QID : 243** - Bajirao I (1720–1740 AD) was the ruler of which dynasty?

बाजीराव I (1720–1740 ईस्वी) किस वंश का शासक था?

**Options:**

- 1) Nanda  
नंदा
- 2) Peshwas  
पेश्वास
- 3) Haryanka  
हरयांका
- 4) Maurya  
मौर्या

**Correct Answer:** Peshwas  
पेश्वास

**Candidate Answer:** Peshwas  
पेश्वास

**QID : 244** - Who Invented PlayStation?

प्लेस्टेशन का आविष्कार किसने किया?

**Options:**

- 1) Wright brothers  
राईट बंधु
- 2) Reynold B. Johnson  
रेनोल्ड बी. जॉनसन
- 3) Assen Jordanoff  
ऐसन जोर्डनॉफ
- 4) Ken Kutaragi  
केन कुटारागी

**Correct Answer:** Ken Kutaragi  
केन कुटारागी

**Candidate Answer:** Assen Jordanoff  
ऐसन जोर्डनॉफ

**QID : 245** - Instrument for measuring light intensity is called

प्रकाश की तीव्रता को मापने के यंत्र को कहा जाता है

KnowledgePhilic.com

UPSC | SSC | Bank | Railway | Lic | Fci | DMRC

[Downloaded From www.KnowledgePhilic.com](http://www.KnowledgePhilic.com)

**Options:**

- 1) Lucimeter  
ल्युसीमीटर
- 2) Cryometer  
क्रायोमीटर
- 3) Cyanometer  
सायनोमीटर
- 4) Barometer  
बैरोमीटर

**Correct Answer:** Lucimeter  
ल्युसीमीटर

**Candidate Answer:** Lucimeter  
ल्युसीमीटर

**QID : 246** - With reference to gravity, what is G called?

गुरुत्वाकर्षण के संदर्भ में, G को क्या कहा जाता है?

**Options:**

- 1) Gravitational constant  
गुरुत्वीय स्थिरांक
- 2) Gravitational attraction  
गुरुत्वीय आकर्षण
- 3) Gravitational force  
गुरुत्वीय बल
- 4) Acceleration due to gravity  
गुरुत्व के कारण होने वाला त्वरण

**Correct Answer:** Gravitational constant  
गुरुत्वीय स्थिरांक

**Candidate Answer:** Gravitational constant  
गुरुत्वीय स्थिरांक

**QID : 247** - Indian Constitution is made up of how many words?

भारतीय संविधान कितने शब्दों का बना है?

**Options:**

- 1) 40000
- 2) 60000
- 3) 80000
- 4) 120000

**Correct Answer:** 80000

**Candidate Answer:** [ NOT ANSWERED ]

**QID : 248** - Article 43A of the Indian Constitution "Participation of workers in management of industries" deals with?

भारतीय संविधान का अनुच्छेद 43A "उद्योगों के प्रबंधन में श्रमिकों की भागीदारी" किससे संबंधित है?

**Options:**

- 1) the State Government  
राज्य सरकार
- 2) the Union Government  
केंद्र सरकार
- 3) the directive principles of state policy  
राज्य नीति के निर्देशित सिद्धांत
- 4) the fundamental rights of the Indian Citizen  
भारतीय नागरिक के मौलिक अधिकार

**Correct Answer:** the directive principles of state policy  
राज्य नीति के निर्देशित सिद्धांत

**Candidate Answer:** the directive principles of state policy  
राज्य नीति के निर्देशित सिद्धांत

**QID : 249** - Which team won the 2016 UEFA football championship?

किस टीम ने वर्ष 2016 की यूईएफए (UEFA) फुटबॉल चैम्पियनशिप जीती थी?

KnowledgePhilic.com

UPSC | SSC | Bank | Railway | Lic | Fci | DMRC

**Options:**

- 1) Portugal  
पुर्तगाल
- 2) USA  
अमेरिका
- 3) Germany  
जर्मनी
- 4) Brazil  
ब्राजील

**Correct Answer:** Portugal  
पुर्तगाल

**Candidate Answer:** Brazil  
ब्राजील

**QID : 250** - Who is the author of "The Oath of the Vayuputras (Shiva Trilogy)"?

"द ओथ ऑफ़ द वायुपुत्रास (शिवा ट्राइलॉजी)" का लेखक कौन है?

**Options:**

- 1) Amish Tripathi  
अमीश त्रिपाठी
- 2) Chitra Banerjee Divakaruni  
चित्रा बनर्जी दिवकरुनी
- 3) Ruskin Bond  
रसकिन बॉन्ड
- 4) Ashwin Sanghi  
आश्विन सांघी

**Correct Answer:** Amish Tripathi  
अमीश त्रिपाठी

**Candidate Answer:** Amish Tripathi  
अमीश त्रिपाठी

**QID : 251** - If  $(6 - 18x) - (x - 7) = 8$ , then the value of x is \_\_\_\_\_.

यदि  $(6 - 18x) - (x - 7) = 8$ , फिर x का मान \_\_\_\_\_ है।

**Options:**

- 1) -5/19
- 2) -2/13
- 3) 2/13
- 4) 5/19

**Correct Answer:** 5/19

**Candidate Answer:** -5/19

**QID : 252** - If the shopkeeper sells an item at Rs 450 which is marked as Rs 600, then what is the discount he is offering?

यदि एक दुकानदार 450 रु में एक वस्तु बख़्ता है, जो 600 रु क्यरुप में चिह्नित है, तो वह किन्ना छूट की पछाकश कर रहा है?

**Options:**

- 1) 33.33 percent  
33.33 प्रतिशत
- 2) 25 percent  
25 प्रतिशत
- 3) 20 percent  
20 प्रतिशत
- 4) 30 percent  
30 प्रतिशत

**Correct Answer:** 25 percent

25 प्रतिशत

**Candidate Answer:** 25 percent

25 प्रतिशत

**QID : 253** - Find the roots of the quadratic equation  $27x^2 + 57x - 14 = 0$

द्विघात समीकरण  $27x^2 + 57x - 14 = 0$  के मूल को ज्ञात करें।

**Options:**

- 1) -2/9, 7/3
- 2) 2/9, -7/3
- 3) 9/2, -3/7
- 4) -9/2, 3/7

KnowledgePhilic.com

UPSC | SSC | Bank | Railway | Lic | Fci | DMRC

[Downloaded From www.KnowledgePhilic.com](http://www.KnowledgePhilic.com)

**Correct Answer:** 2/9, -7/3

**Candidate Answer:** 2/9, -7/3

**QID : 254** - A bank offers 20% compound interest calculated on half year basis. A customer deposits Rs 9200 each on 1<sup>st</sup> January and 1<sup>st</sup> July of a year. At the end of the year, the amount he would have gained by way of interest is

एक बैंक अर्द्ध वार्षिक रूप से 20% चक्रवृद्धि ब्याज की पेशकश करता है। एक ग्राहक एक वर्ष में 1 जनवरी और 1 जुलाई को 9200 रु जमा करता है। वर्ष के अंत में ब्याज के माध्यम से उसे कितनी राशि का लाभ होगा?

**Options:**

1) Rs 11776

11776 रु

2) Rs 2944

2944 रु

3) Rs 1472

1472 रु

4) Rs 5888

5888 रु

**Correct Answer:** Rs 5888

5888 रु

**Candidate Answer:** [ NOT ANSWERED ]

**QID : 255** - Which of the following numbers is not a prime number?

निम्न संख्याओं में से कौन सी एक अविभाज्य संख्या नहीं है?

**Options:**

1) 197

2) 313

3) 439

4) 391

**Correct Answer:** 391

**Candidate Answer:** 391

KnowledgePhilic.com

**QID : 256** - A carpenter can build a cupboard in 64 hours. After 16 hours he takes a break. What fraction of the cupboard is yet to be built?

एक बढ़ई एक कपबोर्ड को 64 घंटे में बनाता है। 16 घंटे बाद वह विराम लेता है। कपबोर्ड का कितना भाग अभी भी बनने वाला है?

**Options:**

1) 0.6

2) 0.75

3) 0.2

4) 0.8

**Correct Answer:** 0.75

**Candidate Answer:** 0.75

**QID : 257** - The bus fare between two cities is increased in the ratio 29:31. What is the increase in the fare, if the original fare is Rs 725

दो शहरों के बीच का बस का भाड़ा 29:31 के अनुपात में बढ़ाया गया है। भाड़े में हुई वृद्धि का पता लगाएं, यदि मूल भाड़ा 725 रु है।

**Options:**

1) Rs 50

50 रु

2) Rs 775

775 रु

3) Rs 155

155 रु

4) Rs 310

310 रु

**Correct Answer:** Rs 50

50 रु

**Candidate Answer:** Rs 50

50 रु

**QID : 258** - Two numbers are 35% and 40% lesser than a third number. By how much percent is the second number to be enhanced to make it equal to the first number?

दो संख्याएँ एक तीसरी संख्या की तुलना में 35% और 40% कम हैं। दूसरी संख्या को पहली संख्या के बराबर करने के लिए कितने प्रतिशत से बढ़ाना होगा?

Downloaded From [www.KnowledgePhilic.com](http://www.KnowledgePhilic.com)



**Options:**

- 1) 7.69 percent  
7.69 प्रतिशत
- 2) 5 percent  
5 प्रतिशत
- 3) 8.33 percent  
8.33 प्रतिशत
- 4) 12.5 percent  
12.5 प्रतिशत

**Correct Answer:** 8.33 percent  
8.33 प्रतिशत

**Candidate Answer:** 8.33 percent  
8.33 प्रतिशत

**QID : 259** - If  $3x + 2 < 2x + 1$  and  $x - 4 \leq 2x - 1$ ; then  $x$  can take which of the following values?

यदि  $3x + 2 < 2x + 1$  और  $x - 4 \leq 2x - 1$ ; फिर  $x$  निम्न में साकिस मान को लासकता है?

**Options:**

- 1) -2
- 2) 0
- 3) 2
- 4) 4

**Correct Answer:** -2

**Candidate Answer:** -2

**QID : 260** - Between 50 and 150 how many numbers are divisible by 7?

50 और 150 के बीच कितनी संख्याएं 7 से विभाज्य हैं?

**Options:**

- 1) 15
- 2) 16
- 3) 17
- 4) 14

**Correct Answer:** 14

**Candidate Answer:** 14

**QID : 261** - The distance between the points (11,-5) and (k,0) is 13. Find k.

बिंदु (11,-5) और (k,0) के बीच की दूरी 13 है। k को ज्ञात करें।

**Options:**

- 1)  $k = 1$  or 23
- 2)  $k = -1$  or 23
- 3)  $k = -1$  or -23
- 4)  $k = 1$  or -23

**Correct Answer:**  $k = -1$  or 23

**Candidate Answer:**  $k = -1$  or 23

**QID : 262** - What is the equation of the line which passes through the points (3,-2) and (5,3)?

बिंदु (3,-2) और (5,3) से गुजरने वाली रेखा के समीकरण को ज्ञात करें।

**Options:**

- 1)  $5x - 2y = -19$
- 2)  $5x - 2y = 19$
- 3)  $5x + 2y = -31$
- 4)  $5x + 2y = 31$

**Correct Answer:**  $5x - 2y = 19$

**Candidate Answer:**  $5x - 2y = 19$

**QID : 263** - A thief is stopped by a policeman from a distance of 200 metres. When the policeman starts the chase, the thief also starts running. Assuming the speed of the thief as 8 km/hr and that of police man as 10 km/hr. How far the thief would have run, before he is over-taken?

एक चोर को एक पुलिसकर्मी 200 मीटर की दूरी से रोक लेता है। पुलिसकर्मी जब चोर का पीछा करना शुरू करता होता है, तो चोर भी दौड़ना शुरू करता है। यह मानते हुए कि चोर की गति 8 कि.मी./घंटा है और पुलिसकर्मी की गति 10 कि.मी./घंटा है, तो पुलिसकर्मी के द्वारा चोर तक पहुँचने तक चोर कितनी दूरी तय कर लेगा?

[Downloaded From www.KnowledgePhilic.com](http://www.KnowledgePhilic.com)

**Options:**

- 1) 640 metres  
640 मीटर
- 2) 800 metres  
800 मीटर
- 3) 960 metres  
960 मीटर
- 4) 480 metres  
480 मीटर

**Correct Answer:** 800 metres  
800 मीटर

**Candidate Answer:** 800 metres  
800 मीटर

**QID : 264** - In  $\triangle ABC$ , the angle bisector of  $\angle A$  cuts  $BC$  at  $E$ . Find the length of  $AC$  if lengths of  $AB$ ,  $BE$  and  $EC$  are 9.6 cm, 4 cm and 3 cm?

$\triangle ABC$  में,  $A$  कोण का द्विभाजक  $BC$  को बिंदु  $E$  पर काटता है।  $AC$  की लंबाई का पता लगाएँ यदि  $AB$ ,  $BE$  और  $EC$  की लंबाई क्रमशः 9.6 स.मी., 4 स.मी. और 3 स.मी. हैं।

**Options:**

- 1) 4.8 cm  
4.8 से.मी.
- 2) 9.8 cm  
9.8 से.मी.
- 3) 7.8 cm  
7.8 से.मी.
- 4) 7.2 cm  
7.2 से.मी.

**Correct Answer:** 7.2 cm  
7.2 से.मी.

**Candidate Answer:** 7.2 cm  
7.2 से.मी.

**QID : 265** - In a triangle, the length of the side opposite the angle which measures  $45^\circ$  is 16 cm, what is the length of the side opposite to the angle which measures  $90^\circ$ ?

एक त्रिभुज में उस कोण का विपरीत वाली भुजा की लंबाई 16 स.मी. है, जिसका कोण का माप  $45^\circ$  है। उस कोण का विपरीत वाली भुजा की लंबाई क्या है, जिसका कोण का माप  $90^\circ$  है?

**Options:**

- 1)  $8\sqrt{3}$  cm  
 $8\sqrt{3}$  से.मी.
- 2)  $16\sqrt{2}$  cm  
 $16\sqrt{2}$  से.मी.
- 3) 8 cm  
8 से.मी.
- 4)  $16\sqrt{3}$  cm  
 $16\sqrt{3}$  से.मी.

**Correct Answer:**  $16\sqrt{2}$  cm  
 $16\sqrt{2}$  से.मी.

**Candidate Answer:**  $16\sqrt{2}$  cm  
 $16\sqrt{2}$  से.मी.

**QID : 266** - If the volume of a cylinder is 385 cubic cm and height is 10 cm, find its radius?

यदि किसी बेलनाकार वस्तु का आयतन 385 घन से.मी. और ऊंचाई 10 से.मी. है, तो उसकी त्रिज्या ज्ञात करें।

**Options:**

- 1) 7 cm  
7 से.मी.
- 2) 10.5 cm  
10.5 से.मी.
- 3) 3.5 cm  
3.5 से.मी.
- 4) 1.75 cm  
1.75 से.मी.

**Correct Answer:** 3.5 cm  
3.5 से.मी.

**Candidate Answer:** 3.5 cm  
3.5 से.मी.

**QID : 267** - What is the value of  $\sec 5\pi/4$ ?

$\sec 5\pi/4$  का क्या मान है?

KnowledgePhilic.com

UPSC | SSC | Bank | Railway | Lic | Fci | DMRC

Downloaded From [www.KnowledgePhilic.com](http://www.KnowledgePhilic.com)

**Options:**

- 1)  $1/\sqrt{3}$
- 2)  $-\sqrt{2}$
- 3)  $-\sqrt{3}$
- 4) -1

**Correct Answer:**  $-\sqrt{2}$ **Candidate Answer:**  $-\sqrt{2}$ **QID : 268** -  $2\sin[(C+D)/2] \cdot \sin[(D-C)/2]$  is equal to $2\sin[(C+D)/2] \cdot \sin[(D-C)/2]$  किसके बराबर है?**Options:**

- 1)  $\cos C + \cos D$
- 2)  $\cos C - \cos D$
- 3)  $\sin C - \sin D$
- 4)  $\sin C + \sin D$

**Correct Answer:**  $\cos C - \cos D$ **Candidate Answer:** [ NOT ANSWERED ]**QID : 269** - The total cost of a stove with cooker was Rs 13,125. The cooker was sold at a profit of 30% and the stove at a loss of 20%. If the sale price was the same in both the items, then the cost price of the cheaper item was

एक स्टोव और कूकर की कुल कीमत 13,125 रु थी। कूकर को 30% लाभ के साथ और स्टोव को 20% हानि के साथ बेच दिया गया। यदि दोनों वस्तुओं का बिक्री मूल्य समान था, तो सस्ती वस्तु का क्रय मूल्य क्या था?

**Options:**

- 1) Rs 8125  
8125 रु
- 2) Rs 5000  
5000 रु
- 3) Rs 6562.5  
6562.5 रु
- 4) Rs 6175  
6175 रु

**Correct Answer:** Rs 5000

5000 रु

**Candidate Answer:** Rs 5000

5000 रु

# KnowledgePhilic.com

UPSC | SSC | Bank | Railway | Lic | Fci | DMRC

**QID : 270** -  $\cot^2 A + \cos^2 A$  is equal to $\cot^2 A + \cos^2 A$  किसके बराबर है?**Options:**

- 1)  $(\operatorname{cosec} A - \sin A)^2 (\operatorname{cosec} A + \sin A)$
- 2)  $(\operatorname{cosec} A + \sin A)(\operatorname{cosec} A - \sin A)$
- 3)  $(\sec A + \sin A)(\sec A - \sin A)$
- 4)  $(\sec A - \sin A)^2 (\sec A + \sin A)$

**Correct Answer:**  $(\operatorname{cosec} A + \sin A)(\operatorname{cosec} A - \sin A)$ **Candidate Answer:**  $(\operatorname{cosec} A + \sin A)(\operatorname{cosec} A - \sin A)$ **QID : 271** - The average revenues of 7 consecutive years of a company is Rs 71 lakhs. If the average of first 4 years is Rs 66 lakhs and that of last 4 years is Rs 78 lakhs. What is the revenue for the fourth year.

एक कंपनी का लगातार 7 साल का औसत राजस्व 71 लाख रु है। यदि पहले 4 साल का औसत 66 लाख रु है और अंतिम 4 वर्षों का औसत 78 लाख रु है, तो चौथे वर्ष का राजस्व ज्ञात कीजिये।

**Options:**

- 1) Rs 81 lakhs  
81 लाख रु
- 2) Rs 77 lakhs  
77 लाख रु
- 3) Rs 79 lakhs  
79 लाख रु
- 4) Rs 75 lakhs  
75 लाख रु

**Correct Answer:** Rs 79 lakhs

79 लाख रु

**Candidate Answer:** Rs 81 lakhs

81 लाख रु

[Downloaded From www.KnowledgePhilic.com](http://www.KnowledgePhilic.com)

**QID : 272 -**

Refer the below data table and answer the following Question.

नीचे दिये गए डेटा तालिका के आधार पर निम्नलिखित प्रश्न का उत्तर दें।

	Number of employees कर्मचारियों की संख्या	Annual salary (in lakhs) वार्षिक वेतन (लाखों में)	Bonus as percent of annual salary वार्षिक वेतन के प्रतिशत के रूप में बोनस
Manager / प्रबंधक	3	54	60%
Executive / कार्यकारी	5	8	30%
Trainee / प्रशिक्षु	5	4	10%

What is the average bonus (in rupees)?

औसत बोनस (रुपये में) कितना है?

**Options:**

1) Rs 855385

855385 रु

2) Rs 1120005

1120005 रु

3) Rs 220000

220000 रु

4) Rs 352000

352000 रु

**Correct Answer:** Rs 855385

855385 रु

**Candidate Answer:** Rs 352000

352000 रु

KnowledgePhilic.com

**QID : 273 -**

Refer the below data table and answer the following Question.

नीचे दिये गए डेटा तालिका के आधार पर निम्नलिखित प्रश्न का उत्तर दें।

	2011	2012	2013	2014	2015
Company A / कंपनी A	5000	1000	2000	4000	1000
Company B / कंपनी B	5000	3000	4000	5000	2000
Company C / कंपनी C	4000	5000	3000	3000	5000

For which of the following pairs of years the total exports from the three Companies together are equal?

(Note: Figures given are in lakh rupees)

निम्न में से वर्षों की कौन सी जोड़ी के लिए तीनों कंपनियों का कुल निर्यात बराबर है?

(नोट: दिए गए आँकड़े लाख रुपए में हैं)

**Options:**

1) 2012 &amp; 2013

2012 एवं 2013

2) 2013 &amp; 2015

2013 एवं 2015

3) 2011 &amp; 2012

2011 एवं 2012

4) 2014 &amp; 2015

2014 एवं 2015

**Correct Answer:** 2012 & 2013

2012 एवं 2013

**Candidate Answer:** 2012 & 2013

2012 एवं 2013

Downloaded From [www.KnowledgePhilic.com](http://www.KnowledgePhilic.com)

**QID : 274 -**

Refer the below data table and answer the following Question.

नीचे दिये गए डेटा तालिका के आधार पर निम्नलिखित प्रश्न का उत्तर दें।

Year वर्ष	Profit or (-Loss) in Rs Crore करोड़ रूपये में लाभ या (-नुकसान)
2011	25
2012	-5
2013	5
2014	-5
2015	25

What was the total Profit or loss of the company in last 5 years?

पिछले पांच वर्षों में कंपनी का कुल लाभ या नुकसान कितना था?

**Options:**

1) Loss of Rs 45 crores

45 करोड़ रु का नुकसान

2) Profit of Rs 55 crores

55 करोड़ रु का लाभ

3) Profit of Rs 45 crores

45 करोड़ रु का लाभ

4) Loss of Rs 55 crores

55 करोड़ रु का नुकसान

**Correct Answer:** Profit of Rs 45 crores

45 करोड़ रु का लाभ

**Candidate Answer:** Profit of Rs 45 crores

45 करोड़ रु का लाभ

KnowledgePhilic.com

UPSC | SSC | Bank | Railway | Lic | Fci | DMRC

**QID : 275 -**

Refer the below data table and answer the following Question.

नीचे दिये गए डेटा तालिका के आधार पर निम्नलिखित प्रश्न का उत्तर दें।

India's exports in 2015 वर्ष 2015 में भारत का निर्यात	Value in million US\$ मिलियन डॉलर में मूल्य
Jewellery / जेवर	800
Software / सॉफ्टवेयर	775
Cotton / कपास	775
Steel / इस्पात	775
Electronics / इलेक्ट्रॉनिक्स	625

Electronics was what percent of total exports?

इलेक्ट्रॉनिक्स का निर्यात भारत के कुल निर्यात का कितना प्रतिशत था?

**Options:**

1) 19.17 percent

19.17 प्रतिशत

2) 21.67 percent

21.67 प्रतिशत

3) 14.17 percent

14.17 प्रतिशत

4) 16.67 percent

16.67 प्रतिशत

**Correct Answer:** 16.67 percent

16.67 प्रतिशत

**Candidate Answer:** 16.67 percent

16.67 प्रतिशत

Downloaded From [www.KnowledgePhilic.com](http://www.KnowledgePhilic.com)

**QID : 276** - Improve the bracketed part of the sentence.

When the prodigal son returned home, his father welcomed him **(with open hands)**.

**Options:**

- 1) with open hearts
- 2) with open mind
- 3) with open arms
- 4) no improvement

**Correct Answer:** with open arms

**Candidate Answer:** with open arms

**QID : 277** - In the following question, a sentence has been given in Direct/Indirect speech. Out of the four alternatives suggested, select the one, which best express the same sentence in Indirect/Direct speech.

**"I don't know the way. Do you?" Vipul asked.**

**Options:**

- 1) Vipul said he didn't know the way and asked her if she did.
- 2) Vipul said he didn't knew the way and asked her if she did.
- 3) Vipul said he didn't knew the way and asked her whether she did.
- 4) Vipul said that he didn't know the way and asked her if she did.

**Correct Answer:** Vipul said that he didn't know the way and asked her if she did.

**Candidate Answer:** Vipul said that he didn't know the way and asked her if she did.

**QID : 278** - Rearrange the parts of the sentence in correct order.

**It is hard to**

**P-of some**

**Q-miss the political significance**

**R-of these beneficiaries**

**Options:**

- 1) PQR
- 2) RQP
- 3) QPR
- 4) RPQ

**Correct Answer:** QPR

**Candidate Answer:** QPR

KnowledgePhilic.com

UPSC | SSC | Bank | Railway | Lic | Fci | DMRC

**QID : 279** - In the following question, out of the four alternatives, select the alternative which is the best substitute of the phrase.

**to have a strong emotional effect on.**

**Options:**

- 1) to smother
- 2) to yield
- 3) to overwhelm
- 4) to forfeit

**Correct Answer:** to overwhelm

**Candidate Answer:** to forfeit

**QID : 280** - Select the synonym of

**objectionable**

**Options:**

- 1) aperitif
- 2) abhorrent
- 3) savory
- 4) saporus

**Correct Answer:** abhorrent

**Candidate Answer:** [ NOT ANSWERED ]

**QID : 281** - In the following question, some part of the sentence may have errors. Find out which part of the sentence has an error and select the appropriate option. If a sentence is free from error, select 'No Error'.

**Grandfather along (A)/with the children(B)/have gone to Chennai.(C)/No error(D)**

**Options:**

- 1) A
- 2) B
- 3) C
- 4) D

**Correct Answer:** C

[Downloaded From www.KnowledgePhilic.com](http://www.KnowledgePhilic.com)

**Candidate Answer: C**

**QID : 282** - Improve the bracketed part of the sentence.

You can play video games and paint or **(draw)** from anywhere.

**Options:**

- 1) be drawing
- 2) can draw
- 3) could draw
- 4) no improvement

**Correct Answer:** no improvement

**Candidate Answer:** no improvement

**QID : 283** - In the following question, out of the four alternatives, select the alternative which best expresses the meaning of the idiom/phrase.

**A fool and his money are easily parted**

**Options:**

- 1) a foolish person spends money carelessly and will soon be penniless
- 2) a miser will eventually lose all his money due to one foolish mistake
- 3) a foolish person will never be able to get rich
- 4) a rich person should be smart enough to avoid people who will fool him for his wealth

**Correct Answer:** a foolish person spends money carelessly and will soon be penniless

**Candidate Answer:** a foolish person spends money carelessly and will soon be penniless

**QID : 284** - Select the word with the correct spelling.

**Options:**

- 1) holgram
- 2) comerce
- 3) bluffers
- 4) cluters

**Correct Answer:** bluffers

**Candidate Answer:** bluffers

KnowledgePhilic.com

**QID : 285** - In the following question, out of the four alternatives, select the alternative which best expresses the meaning of the idiom/phrase.

**All bark and no bite**

**Options:**

- 1) Children should only be scolded but never beaten
- 2) To be full of big talk but lacking action
- 3) The person who appears most scary will help you the most
- 4) A person who talks a lot will never harm you

**Correct Answer:** To be full of big talk but lacking action

**Candidate Answer:** To be full of big talk but lacking action

UPSC I SSC I Bank I Railway I Lic I Fci I DMRC

**QID : 286** - In the following question, some part of the sentence may have errors. Find out which part of the sentence has an error and select the appropriate option. If a sentence is free from error, select 'No Error'.

**Being a well know scientist,(A)/he was invited to deliver(B)/a lecture on artificial intelligence.(C)/No error(D)**

**Options:**

- 1) A
- 2) B
- 3) C
- 4) D

**Correct Answer: D**

**Candidate Answer: C**

**QID : 287** - Select the word with the correct spelling.

**Options:**

- 1) hyginic
- 2) emmigrant
- 3) anteorior
- 4) quarrels

**Correct Answer:** quarrels

**Candidate Answer:** anteorior

**QID : 288** - Select the synonym of

**to recline**

[Downloaded From www.KnowledgePhilic.com](http://www.KnowledgePhilic.com)

**Options:**

- 1) to lounge
- 2) to rewind
- 3) to sheer
- 4) to plump

**Correct Answer:** to lounge**Candidate Answer:** [ NOT ANSWERED ]**QID : 289** - Select the antonym of**to placate****Options:**

- 1) to provoke
- 2) to propitiate
- 3) to tranquilize
- 4) to mollify

**Correct Answer:** to provoke**Candidate Answer:** to provoke**QID : 290** - Rearrange the parts of the sentence in correct order.**But while the defeat made****P-as it was no longer in currency.****Q-news, the issue on which****R-it was based failed to resonate****Options:**

- 1) RPQ
- 2) RQP
- 3) PQR
- 4) QRP

**Correct Answer:** QRP**Candidate Answer:** QRP

KnowledgePhilic.com

**QID : 291** - In the following question, a sentence has been given in Active/Passive voice. Out of four alternatives suggested, select the one, which best expresses the same sentence in Passive/Active voice.**Saima mailed her application for a new job.**

UPSC | SSC | Bank | Railway | Lic | Fci | DMRC

**Options:**

- 1) The application for a new job had been mailed by Saima.
- 2) The application for a new job has been mailed by Saima.
- 3) The application for her new job has been mailed by Saima.
- 4) The application for a new job was mailed by Saima.

**Correct Answer:** The application for a new job was mailed by Saima.**Candidate Answer:** The application for a new job was mailed by Saima.**QID : 292** - Select the antonym of**content****Options:**

- 1) ease
- 2) depressed
- 3) gratified
- 4) smug

**Correct Answer:** depressed**Candidate Answer:** [ NOT ANSWERED ]**QID : 293** - In the following question, out of the four alternatives, select the alternative which is the best substitute of the phrase.**tending to hang loosely.****Options:**

- 1) to attenuate
- 2) to enfeeble
- 3) prostrate
- 4) to flop

**Correct Answer:** to flop**Candidate Answer:** [ NOT ANSWERED ]

[Downloaded From www.KnowledgePhilic.com](http://www.KnowledgePhilic.com)



**QID : 294** - In the following question, the sentence given with blank to be filled in with an appropriate word. Select the correct alternative out of the four and indicate it by selecting the appropriate option.

**Possessing even a single nuclear weapon acts as a \_\_\_\_\_.**

**Options:**

- 1) deterrent
- 2) detriment
- 3) boundary
- 4) excuse

**Correct Answer:** deterrent

**Candidate Answer:** detriment

**QID : 295** - In the following question, the sentence given with blank to be filled in with an appropriate word. Select the correct alternative out of the four and indicate it by selecting the appropriate option.

**As global temperatures rise, an untreatable new strain of the flu might \_\_\_\_\_ up at any moment.**

**Options:**

- 1) fill
- 2) crop
- 3) bring
- 4) chop

**Correct Answer:** crop

**Candidate Answer:** bring

**QID : 296** - In the following passage, some of the words have been left out. Read the passage carefully and select the correct answer for the given blank out of the four alternatives.

**Once \_\_\_\_\_, it is that time of the year when the examination results season may be just ending and the admissions season is in progress, and marked by a \_\_\_\_\_ of two contradictory voices — often from the same people — that rose to deafening \_\_\_\_\_ from April to May when the results of various school boards \_\_\_\_\_. The first voice \_\_\_\_\_ those who succeeded and did wondrously well.**

Once \_\_\_\_\_,

**Options:**

- 1) upon a time
- 2) only
- 3) again
- 4) more

**Correct Answer:** again

**Candidate Answer:** upon a time

**QID : 297** - In the following passage, some of the words have been left out. Read the passage carefully and select the correct answer for the given blank out of the four alternatives.

**Once \_\_\_\_\_, it is that time of the year when the examination results season may be just ending and the admissions season is in progress, and marked by a \_\_\_\_\_ of two contradictory voices — often from the same people — that rose to deafening \_\_\_\_\_ from April to May when the results of various school boards \_\_\_\_\_. The first voice \_\_\_\_\_ those who succeeded and did wondrously well.**

marked by a \_\_\_\_\_ of two contradictory voices

**Options:**

- 1) cacophony
- 2) high decibel
- 3) whisper
- 4) silence

**Correct Answer:** cacophony

**Candidate Answer:** cacophony

**QID : 298** - In the following passage, some of the words have been left out. Read the passage carefully and select the correct answer for the given blank out of the four alternatives.

**Once \_\_\_\_\_, it is that time of the year when the examination results season may be just ending and the admissions season is in progress, and marked by a \_\_\_\_\_ of two contradictory voices — often from the same people — that rose to deafening \_\_\_\_\_ from April to May when the results of various school boards \_\_\_\_\_. The first voice \_\_\_\_\_ those who succeeded and did wondrously well.**

rose to deafening \_\_\_\_\_ from April to May

**Options:**

- 1) level
- 2) levels
- 3) height
- 4) crescendos

KnowledgePhilic.com

UPSC | SSC | Bank | Railway | Lic | Fci | DMRC

[Downloaded From www.KnowledgePhilic.com](http://www.KnowledgePhilic.com)

**Correct Answer:** levels

**Candidate Answer:** level

**QID : 299** - In the following passage, some of the words have been left out. Read the passage carefully and select the correct answer for the given blank out of the four alternatives.

Once \_\_\_\_\_, it is that time of the year when the examination results season may be just ending and the admissions season is in progress, and marked by a \_\_\_\_\_ of two contradictory voices — often from the same people — that rose to deafening \_\_\_\_\_ from April to May when the results of various school boards \_\_\_\_\_. The first voice \_\_\_\_\_ those who succeeded and did wondrously well.

the results of various school boards \_\_\_\_\_.

**Options:**

- 1) are declaring
- 2) declare
- 3) were being declared
- 4) were declared

**Correct Answer:** were declared

**Candidate Answer:** were declared

**QID : 300** - In the following passage, some of the words have been left out. Read the passage carefully and select the correct answer for the given blank out of the four alternatives.

Once \_\_\_\_\_, it is that time of the year when the examination results season may be just ending and the admissions season is in progress, and marked by a \_\_\_\_\_ of two contradictory voices — often from the same people — that rose to deafening \_\_\_\_\_ from April to May when the results of various school boards \_\_\_\_\_. The first voice \_\_\_\_\_ those who succeeded and did wondrously well.

The first voice \_\_\_\_\_ those who succeeded and did wondrously well.

**Options:**

- 1) congratulates
- 2) applaud
- 3) celebrated
- 4) recommended

**Correct Answer:** celebrated

**Candidate Answer:** applaud

KnowledgePhilic.com

UPSC | SSC | Bank | Railway | Lic | Fci | DMRC