



**Staff Selection Commission**  
(Government Of India)

**REGISTRATION NUMBER :** [KnowledgePhilic.com](http://KnowledgePhilic.com)

**EXAM DATE :** 20-January-2017

**EXAM NAME :** SSC Examination 2016

**TOTAL MARKS :** 200

**CANDIDATE NAME :** [KnowledgePhilic.com](http://KnowledgePhilic.com)

**EXAM START TIME :** 10:00:00

**EXAM DURATION :** 01:15 Hrs

**TOTAL NO OF QUESTIONS :** 100

**QID : 1** - Select the related word/letters/number from the given alternatives.

Traditional : Modern :: Sharp : ?

दिए गए विकल्पों में से संबंधित शब्द/अक्षर/संख्या को चुनिए।

पारंपरिक : आधुनिक :: तीव्र : ?

**Options:**

1) Difficult

मुश्किल

2) Plain

सरल

3) Tough

कठिन

4) Blunt

कुंद

**Correct Answer:** Blunt

कुंद

**Candidate Answer:** Blunt

कुंद

**QID : 2** - Select the related word/letters/number from the given alternatives.

XYZ : CBA :: QRS : ?

दिए गए विकल्पों में से संबंधित शब्द/अक्षर/संख्या को चुनिए।

XYZ : CBA :: QRS : ?

**Options:**

1) HIJ

2) JIH

3) JKL

4) LKJ

**Correct Answer:** JIH

**Candidate Answer:** [ NOT ANSWERED ]

**QID : 3** - Select the related word/letters/number from the given alternatives.

JKL : LKJ :: YZA : ?

दिए गए विकल्पों में से संबंधित शब्द/अक्षर/संख्या को चुनिए।

JKL : LKJ :: YZA : ?

**Options:**

1) AZY

2) XZY

3) CBA

4) JKL

**Correct Answer:** AZY

**Candidate Answer:** AZY

**QID : 4** - Select the related word/letters/number from the given alternatives.

37 : 21 :: 29 : ?

दिए गए विकल्पों में से संबंधित शब्द/अक्षर/संख्या को चुनिए।

37 : 21 :: 29 : ?

**Options:**

1) 17

2) 28

3) 18

4) 19

**Correct Answer:** 18

**Candidate Answer:** 17

[Downloaded From www.KnowledgePhilic.com](http://www.KnowledgePhilic.com)

**QID : 5** - Select the odd word/letters/number/number pair from the given alternatives.

दिए गए विकल्पों में से विषम शब्द/अक्षर/संख्या/संख्या युग्म चुनिए।

**Options:**

1) Serious

विंताजनक

2) Severe

गंभीर

3) Harsh

कठोर

4) Deceptive

कपटी

**Correct Answer:** Deceptive

कपटी

**Candidate Answer:** Deceptive

कपटी

**QID : 6** - Select the odd word/letters/number/number pair from the given alternatives.

दिए गए विकल्पों में से विषम शब्द/अक्षर/संख्या/संख्या युग्म चुनिए।

**Options:**

1) RQP

2) KJI

3) FED

4) GHI

**Correct Answer:** GHI

**Candidate Answer:** KJI

**QID : 7** - Select the odd word/letters/number/number pair from the given alternatives.

दिए गए विकल्पों में से विषम शब्द/अक्षर/संख्या/संख्या युग्म चुनिए।

**Options:**

1) EV

2) KP

3) IR

4) FT

**Correct Answer:** FT

**Candidate Answer:** IR

**QID : 8** - Select the odd word/letters/number/number pair from the given alternatives.

दिए गए विकल्पों में से विषम शब्द/अक्षर/संख्या/संख्या युग्म चुनिए।

**Options:**

1) 8512

2) 5125

3) 6216

4) 7345

**Correct Answer:** 7345

**Candidate Answer:** 7345

**QID : 9** - A series is given with one term missing. Choose the correct alternative from the given ones that will complete the series.

Arctic Ocean, Southern Ocean (Antarctic ocean), Indian Ocean, ?

एक अनुक्रम दिया गया है, जिसमें से एक पद लुप्त है। दिए गए विकल्पों में से वह विकल्प चुनिए, जो अनुक्रम को पूरा करे।

आर्कटिक महासागर, दक्षिणी महासागर (अंटार्कटिक महासागर), हिंद महासागर, ?

**Options:**

1) Atlantic Ocean

अटलांटिक महासागर

2) Pacific Ocean

प्रशांत महासागर

3) South Pacific Ocean

दक्षिण प्रशांत महासागर

4) North Pacific Ocean

उत्तरी प्रशांत महासागर

**Correct Answer:** Atlantic Ocean

अटलांटिक महासागर

**Candidate Answer:** South Pacific Ocean

दक्षिण प्रशांत महासागर

[Downloaded From www.KnowledgePhilic.com](http://www.KnowledgePhilic.com)

**QID : 10** - A series is given with one term missing. Choose the correct alternative from the given ones that will complete the series.

DFI, JNS, TZG, ?

एक अनुक्रम दिया गया है, जिसमें से एक पद लुप्त है। दिए गए विकल्पों में से वह सही विकल्प चुनिए, जो अनुक्रम को पूरा करे।

DFI, JNS, TZG, ?

**Options:**

- 1) HPV
- 2) HPY
- 3) HPX
- 4) IPV

**Correct Answer:** HPY

**Candidate Answer:** HPV

**QID : 11** - A series is given with one term missing. Choose the correct alternative from the given ones that will complete the series.

VT, RP, NL, ?

एक अनुक्रम दिया गया है, जिसमें से एक पद लुप्त है। दिए गए विकल्पों में से वह सही विकल्प चुनिए, जो अनुक्रम को पूरा करे।

VT, RP, NL, ?

**Options:**

- 1) HJ
- 2) KL
- 3) IJ
- 4) JH

**Correct Answer:** JH

**Candidate Answer:** JH

**QID : 12** - A series is given with one term missing. Choose the correct alternative from the given ones that will complete the series.

3, 7, 13, 27, 53, ?

एक अनुक्रम दिया गया है, जिसमें से एक पद लुप्त है। दिए गए विकल्पों में से वह सही विकल्प चुनिए, जो अनुक्रम को पूरा करे।

3, 7, 13, 27, 53, ?

**Options:**

- 1) 105
- 2) 106
- 3) 107
- 4) 103

**Correct Answer:** 107

**Candidate Answer:** [ NOT ANSWERED ]

**QID : 13** - In the following question, two statements are given each followed by two conclusions I and II. You have to consider the statements to be true even if they seem to be at variance from commonly known facts. You have to decide which of the given conclusions, if any, follows from the given statements.

Statements:

- (I) All pilots are brave men.  
(II) All astronauts are pilots.

Conclusion:

- (I) All astronauts are brave men.  
(II) Some pilots are astronauts.

निम्नलिखित प्रश्न में, दो कथन दिए गए हैं जिनके आगे दो निष्कर्ष I और II निकाले गए हैं। आपको मानना है कि कथन सत्य है चाहे वे सामान्यतः ज्ञात तथ्यों से भिन्न प्रतीत होते हों। आपको निर्णय करना है कि दिए गए निष्कर्षों में से कौन सा/कौन से निश्चित रूप से कथनों द्वारा सही निकाला जा सकता है/सकते हैं, यदि कोई हो।

कथन:

- (I) सभी पायलट बहादुर पुरुष हैं।  
(II) सभी अंतरिक्षयानों पायलट हैं।

निष्कर्ष:

- (I) सभी अंतरिक्षयानों बहादुर पुरुष हैं।  
(II) कुछ पायलट अंतरिक्षयानों हैं।

**Options:**

- 1) Conclusion I follows  
निष्कर्ष I सही है
- 2) Conclusion II follows  
निष्कर्ष II सही है
- 3) Neither I nor II follows  
न तो I और न ही II सही हैं
- 4) Both I and II follows  
I और II दोनों सही हैं

**Correct Answer:** Both I and II follows

I और II दोनों सही हैं

**Candidate Answer:** Both I and II follows

I और II दोनों सही हैं

[Downloaded From www.KnowledgePhilic.com](http://www.KnowledgePhilic.com)

**QID : 14** - Ravish is 7 years older than Vikas. Akash is 3 years younger than Ravish. Mohit is 5 years younger than Akash. Who is the youngest among all the four?

रवीश, विकास से सात वर्ष बड़ा है। आकाश, रवीश से तीन वर्ष छोटा है। मोहित, आकाश से पांच वर्ष छोटा है। इन चारों में सबसे छोटा कौन है?

**Options:**

- 1) Vikas  
विकास
- 2) Ravish  
रवीश
- 3) Mohit  
मोहित
- 4) Akash  
आकाश

**Correct Answer:** Mohit

मोहित

**Candidate Answer:** [ NOT ANSWERED ]

**QID : 15** - Arrange the given words in the sequence in which they occur in the dictionary.

- i. Opposite
- ii. Optimist
- iii. Orthodox
- iv. Operation

निम्नलिखित शब्दों को शब्दकोश में आने वाले क्रम के अनुसार लिखें।

- i. Opposite
- ii. Optimist
- iii. Orthodox
- iv. Operation

**Options:**

- 1) iii, i, ii, iv
- 2) iv, i, ii, iii
- 3) ii, i, iii, iv
- 4) iv, iii, ii, i

**Correct Answer:** iv, i, ii, iii

**Candidate Answer:** iv, i, ii, iii

KnowledgePhilic.com

**QID : 16** - In a certain code language, "SCENE" is written as "TBFMF". How is "TRAIN" written in that code language?

किसी विशिष्ट कोड भाषा में "SCENE" को "TBFMF" लिखा जाता है। इस कोड भाषा में "TRAIN" को किस प्रकार लिखा जाएगा?

**Options:**

- 1) UQBHO
- 2) OHBQU
- 3) UQCHO
- 4) HOBQU

**Correct Answer:** UQBHO

**Candidate Answer:** UQBHO

UPSC | SSC | Bank | Railway | Lic | Fci | DMRC

**QID : 17** -

In the following question, select the missing number from the given series.

निम्नलिखित प्रश्न में दिए गए विकल्पों में से लुप्त अंक ज्ञात कीजिए।

3	4	12
5	6	30
8	?	72

**Options:**

- 1) 9
- 2) 10
- 3) 12
- 4) 18

**Correct Answer:** 9

**Candidate Answer:** 9

**QID : 18** - If "S" denotes "multiplied by", "V" denotes "subtracted from", "M" denotes "added to" and "L" denotes "divided by", then  
 $7 \vee 13 \text{ M } 35 \text{ L } 7 \text{ S } 6 = ?$

यदि "S" का अर्थ "गुणा" है, "V" का अर्थ "घटाना" है, "M" का अर्थ "जोड़" है और "L" का अर्थ "भाग" है, तो

$7 \vee 13 \text{ M } 35 \text{ L } 7 \text{ S } 6 = ?$

Downloaded From [www.KnowledgePhilic.com](http://www.KnowledgePhilic.com)

**Options:**

- 1) 23
- 2) 21
- 3) 28
- 4) 24

**Correct Answer:** 24**Candidate Answer:** 24**QID : 19** - In the following question, which one set of letters when sequentially placed at the gaps in the given letter series shall complete it?

p\_rrq\_p\_rr\_p

निम्नलिखित प्रश्न में अक्षरों का कौन सा समूह खाली स्थानों पर क्रमवार रखने से दी गई अक्षर श्रृंखला को पूरा करेगा?

p\_rrq\_p\_rr\_p

**Options:**

- 1) qqqp
- 2) qpqq
- 3) pqqr
- 4) rppq

**Correct Answer:** qpqq**Candidate Answer:** qpqq**QID : 20** - A is to the west of C. B is to the north-east of A and is equidistant from A and C. In which direction is B with respect to C?

A, C के पश्चिम में है। B, A के उत्तर-पूर्व में है और A और C से समान दूरी पर है। B, C के किस दिशा में है?

**Options:**

- 1) North-east  
उत्तर-पूर्व
- 2) North-west  
उत्तर-पश्चिम
- 3) East  
पूर्व
- 4) South-west  
दक्षिण-पश्चिम

**Correct Answer:** North-west

उत्तर-पश्चिम

**Candidate Answer:** [ NOT ANSWERED ]

KnowledgePhilic.com

UPSC | SSC | Bank | Railway | Lic | Fci | DMRC

**QID : 21** -

Word is represented by only one set of numbers as given in any one of the alternatives. The sets of numbers given in the alternatives are represented by two classes of alphabets as shown in the given two matrices. The columns and rows of Matrix-I are numbered from 0 to 4 and that of Matrix-II are numbered from 5 to 9. A letter from these matrices can be represented first by its row and next by its column, for example, 'N' can be represented by 34, 43, etc., and 'H' can be represented by 56, 67, etc. Similarly, you have to identify the set for the word 'FLUTE'.

एक शब्द केवल एक संख्या-समूह द्वारा दर्शाया गया है, जैसा कि विकल्पों में से किसी एक में दिया गया है। विकल्पों में दिए गए संख्या-समूह अक्षरों के दो वर्गों द्वारा दर्शाए गए हैं, जैसा कि दिए गए दो आव्यूहों में है। आव्यूह-I के स्तम्भ और पंक्ति की संख्या 0 से 4 है और आव्यूह-II की 5 से 9। इन आव्यूहों से एक अक्षर को पहले उसकी पंक्ति और बाद में स्तम्भ संख्या द्वारा दर्शाया जा सकता है। उदाहरण के लिए 'N' को 43, 34 आदि द्वारा दर्शाया जा सकता है तथा 'H' को 67, 56 आदि द्वारा दर्शाया जा सकता है। इसी तरह से आपको प्रश्न में दिए शब्द 'FLUTE' के लिए समूह को पहचानना है।

**Matrix-I****आव्यूह - I**

	0	1	2	3	4
0	F	I	D	K	U
1	I	F	D	U	K
2	E	E	F	E	E
3	I	U	D	F	N
4	U	I	D	N	F

**Matrix-II****आव्यूह - II**

	5	6	7	8	9
5	T	H	L	M	L
6	J	T	H	L	M
7	C	C	L	C	C
8	J	L	O	T	H
9	L	J	O	O	T

[Downloaded From www.KnowledgePhilic.com](http://www.KnowledgePhilic.com)

**Options:**

- 1) 22, 77, 13, 88, 21
- 2) 44, 88, 40, 58, 20
- 3) 11, 86, 31, 89, 24
- 4) 33, 95, 04, 67, 23

**Correct Answer:** 22, 77, 13, 88, 21

**Candidate Answer:** 22, 77, 13, 88, 21

**QID : 22 -** Nikhil is father in law of Tara. Tara is the wife of Rahul. How is Rahul's brother related to Nikhil?

निखिल, तारा के ससुर हैं। तारा, राहुल की पत्नी है। राहुल का भाई निखिल से कैसे संबंधित है?

**Options:**

- 1) Brother  
भाई
- 2) Father  
पिता
- 3) Son  
बेटा
- 4) Father-in-law  
ससुर

**Correct Answer:** Son

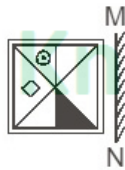
बेटा

**Candidate Answer:** [ NOT ANSWERED ]

**QID : 23 -**

If a mirror is placed on the line MN, then which of the answer figures is the right image of the given figure?

यदि एक दर्पण को MN रेखा पर रखा जाए, तो दी गई उत्तर आकृतियों में से कौन सी आकृति प्रश्न आकृति की सही प्रतिबिम्ब होगी?



KnowledgePhilic.com

UPSC | SSC | Bank | Railway | Lic | Fci | DMRC

**Options:**

1)



2)



3)



4)



**Correct Answer:**



**Candidate Answer:**



**QID : 24** - Identify the diagram that best represents the relationship among the given classes.

Stationery, Pencil, Rubber

वह अरिख चुनिए जो नीचे दिए गए वर्गों के बीच के संबंध का सही निरूपण करता है।

स्टेशनरी, पेंसिल, रबर

**Options:**

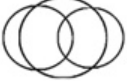
1)



2)



3)



4)



**Correct Answer:**



**Candidate Answer:**



KnowledgePhilic.com

**QID : 25** -

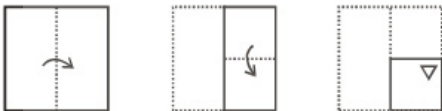
A piece of paper is folded and punched as shown below in the question figures. From the given answer figures, indicate how it will appear when opened.

नीचे के प्रश्न आकृतियों में दिखाए अनुसार कागज को मोड़कर छेदने तथा खोलने के बाद वह किस उत्तर आकृति जैसा दिखाई देगा?

UPSC | SSC | Bank | Railway | Lic | Fci | DMRC

Question figures:

प्रश्न आकृतियाँ:



**Options:**

1)



2)



3)



4)



Downloaded From [www.KnowledgePhilic.com](http://www.KnowledgePhilic.com)

**Correct Answer:****Candidate Answer:****QID : 26** - Which world heritage site comprises of the tomb of Iltumish?

किस विश्व विरासत स्थल में इल्तुतमिश की कब्र है।

**Options:**

- 1) Humayun's Tomb  
हुमायूँ का मकबरा
- 2) Mahabodhi Temple Complex  
महाबोधि मंदिर समूह
- 3) Qutub Minar  
कुतुब मीनार
- 4) Red Fort Complex  
लाल किला परिसर

**Correct Answer:** Qutub Minar

कुतुब मीनार

**Candidate Answer:** [ NOT ANSWERED ]**QID : 27** - Highest Civilian Honour received by Mary Kom is

मैरी कोम द्वारा प्राप्त सर्वोच्च नागरिक सम्मान है

**Options:**

- 1) Padma Shri  
पद्मश्री
- 2) Padma Bhushan  
पद्म भूषण
- 3) Padma Vibhushan  
पद्म विभूषण
- 4) Bharat Ratna  
भारत रत्न

**Correct Answer:** Padma Bhushan

पद्म भूषण

**Candidate Answer:** Bharat Ratna

भारत रत्न

KnowledgePhilic.com

UPSC I SSC I Bank I Railway I Lic I Fci I DMRC

**QID : 28** - Which drug is used for Pain Relief?

किस दवा का वेदना से राहत पाने के लिए प्रयोग किया जाता है?

**Options:**

- 1) Risedronate  
राईसड्रोनेट
- 2) Tramadol  
ट्रेमैडॉल
- 3) Folic Acid  
फॉलिक एसिड
- 4) Bupropion  
ब्यूप्रोपियोन

**Correct Answer:** Tramadol

ट्रेमैडॉल

**Candidate Answer:** Tramadol

ट्रेमैडॉल

**QID : 29** - Sugarcane is a type of \_\_\_\_\_.

गन्ना एक प्रकार की/का \_\_\_\_\_ है।

**Options:**

- 1) creeper  
लता
- 2) tree  
पेड़
- 3) shrub  
झाड़ी
- 4) grass  
घास

**Correct Answer:** grass

घास

**Candidate Answer:** tree

पेड़

[Downloaded From www.KnowledgePhilic.com](http://www.KnowledgePhilic.com)



**QID : 30** - Who is commonly known as "the Father of Microbiology"?

सामान्यतः "सूक्ष्म जीव विज्ञान के जनक" के नाम से किसे जाना जाता है?

**Options:**

- 1) Robert Hooke  
रॉबर्ट हुक
- 2) Antonie Philips van Leeuwenhoek  
एंटीनी फिलिप वान ल्युएनहॉक
- 3) Carl Linnaeus  
कार्ल लीनार्डस
- 4) Charles Darwin  
चार्ल्स डार्विन

**Correct Answer:** Antonie Philips van Leeuwenhoek  
एंटीनी फिलिप वान ल्युएनहॉक

**Candidate Answer:** Antonie Philips van Leeuwenhoek  
एंटीनी फिलिप वान ल्युएनहॉक

**QID : 31** - Which of the following is a Synthetic rubber?

निम्नलिखित में से किसे संश्लेषित रबर कहते हैं?

**Options:**

- 1) Leoprene  
लियोप्रिन
- 2) Monoprene  
मोनोप्रिन
- 3) Neoprene  
नियोप्रिन
- 4) Isoprene  
आयसोप्रिन

**Correct Answer:** Neoprene  
नियोप्रिन

**Candidate Answer:** [ NOT ANSWERED ]

**QID : 32** - NaCl has \_\_\_\_\_.

NaCl में \_\_\_\_\_ होता है।

**Options:**

- 1) nonpolar bonds  
अध्रुवीय बंध
- 2) polar covalent bonds  
ध्रुवीय सहसंयोजी आबंध
- 3) Metallic bonds  
धात्विक बंध
- 4) ionic bonds  
आयनिक बंध

**Correct Answer:** ionic bonds  
आयनिक बंध

**Candidate Answer:** [ NOT ANSWERED ]

**QID : 33** - Which of the following is equivalent to 1 Kilobyte?

निम्नलिखित में से क्या 1 किलोबाइट के तुल्य होता है?

**Options:**

- 1) 128 Bytes  
128 बाइट्स
- 2) 256 Bytes  
256 बाइट्स
- 3) 512 Bytes  
512 बाइट्स
- 4) 1024 Bytes  
1024 बाइट्स

**Correct Answer:** 1024 Bytes  
1024 बाइट्स

**Candidate Answer:** 1024 Bytes  
1024 बाइट्स

**QID : 34** - Marathi is the official language of \_\_\_\_\_.

मराठी \_\_\_\_\_ की शासकीय भाषा है।

**Options:**

- 1) Chandigarh  
चंडीगढ़
- 2) Dadra and Nagar Haveli  
दादरा और नगर हवेली
- 3) Daman and Diu  
दमन और दिउ
- 4) Delhi  
दिल्ली

**Correct Answer:** Dadra and Nagar Haveli  
दादरा और नगर हवेली

KnowledgePhilic.com

UPSC | SSC | Bank | Railway | Lic | Fci | DMRC

Downloaded From [www.KnowledgePhilic.com](http://www.KnowledgePhilic.com)

**Candidate Answer:** Daman and Diu

दमन और दिउ

**QID : 35** - If demand curve for racing cycles is  $D = 59600 - 6P$  and supply curve is  $S = 29600 + 4P$ , find the equilibrium Quantity?

यदि रेसिंग सायकिलों के लिए मांग वक्र है:  $D = 59600 - 6P$  और आपूर्ति वक्र है:  $S = 29600 + 4P$  तो संतुलन मात्रा ज्ञात करें।

**Options:**

1) 118000

2) 300

3) 41600

4) 6000

**Correct Answer:** 41600

**Candidate Answer:** 6000

**QID : 36** - Which of the following statements is incorrect, if resources were unlimited?

निम्नलिखित बयानों में से कौन सा गलत है, यदि संसाधन असीमित थे?

**Options:**

1) there would still be scarcity and opportunity costs

अभी भी कमी होगी और अवसर लागत होगी

2) there would still be scarcity but no opportunity costs

अभी भी कमी होगी, लेकिन कोई अवसर लागत नहीं होगी

3) there would be no scarcity, but there would be opportunity costs.

कोई कमी नहीं होगी, लेकिन अवसर लागत होगी।

4) there would neither be scarcity nor opportunity costs

न तो कमी होगी और न ही अवसर लागत होगी

**Correct Answer:** there would be no scarcity, but there would be opportunity costs.

कोई कमी नहीं होगी, लेकिन अवसर लागत होगी।

**Candidate Answer:** there would be no scarcity, but there would be opportunity costs.

कोई कमी नहीं होगी, लेकिन अवसर लागत होगी।

**QID : 37** - For the aquatic organisms, the source of food is

जलीय जीवाणुओं का खाद्य स्रोत है

**Options:**

1) Phytoplankton

फायटोप्लैंक्टन

2) Sea Weed

समुद्री शैवाल

3) Aqua plankton

एक्वा प्लैंक्टन

4) Zooplankton

जूप्लैंक्टन

**Correct Answer:** Phytoplankton

फायटोप्लैंक्टन

**Candidate Answer:** Sea Weed

समुद्री शैवाल

**QID : 38** - Haemoglobin has the highest affinity with which of the following?

हीमोग्लोबिन की निम्न में से किसके साथ उच्चतम समानता है?

**Options:**

1)  $SO_2$

2)  $CO_2$

3) CO

4)  $NO_2$

**Correct Answer:** CO

**Candidate Answer:**  $SO_2$

**QID : 39** - The Lena river passes through which country?

लेना नदी किस देश से होकर बहती है?

**Options:**

1) China

चीन

2) USA

यूएसए

3) Russia

रूस

4) Brazil

ब्राजील

**Correct Answer:** Russia

रूस

Downloaded From [www.KnowledgePhilic.com](http://www.KnowledgePhilic.com)

**Candidate Answer:** [ NOT ANSWERED ]

**QID : 40** - Mars is the \_\_\_\_\_ planet from the Sun.

मंगल ग्रह सूर्य से \_\_\_\_\_ स्थान पर होता है।

**Options:**

1) 2nd

दूसरे

2) 4th

चौथे

3) 6th

छठे

4) 8th

आठवे

**Correct Answer:** 4th

चौथे

**Candidate Answer:** 4th

चौथे

**QID : 41** - Which city is located on the banks of the river Alaknanda?

अलकनंदा नदी के तट पर कौन सा शहर स्थित है?

**Options:**

1) Badrinath

बद्रीनाथ

2) Ayodhya

अयोध्या

3) Allahabad

इलाहाबाद

4) Lucknow

लखनऊ

**Correct Answer:** Badrinath

बद्रीनाथ

**Candidate Answer:** Badrinath

बद्रीनाथ

**QID : 42** - Kalinga War was fought in the year \_\_\_\_\_

कलिंग का युद्ध वर्ष \_\_\_\_\_ में हुआ था।

**Options:**

1) 1604 BC

1604 ई.पू.

2) 261 BC

261 ई.पू.

3) 731 AD

731 ई.स.

4) 1113 AD

1113 ई.स.

**Correct Answer:** 261 BC

261 ई.पू.

**Candidate Answer:** 1604 BC

1604 ई.पू.

**QID : 43** - The League of Nations was formed at the end of which war?

राष्ट्र संघ का गठन किस युद्ध के अंत में किया गया था?

**Options:**

1) World War I

विश्व युद्ध I

2) World War II

विश्व युद्ध II

3) Gulf War I

खाड़ी युद्ध I

4) Gulf War II

खाड़ी युद्ध II

**Correct Answer:** World War I

विश्व युद्ध I

**Candidate Answer:** [ NOT ANSWERED ]

**QID : 44** - Who developed the theory of Evolution?

उद्विकास का सिद्धांत किसने विकसित किया?

KnowledgePhilic.com

UPSC | SSC | Bank | Railway | Lic | Fci | DMRC

**Options:**

- 1) Charles Darwin  
चार्ल्स डार्विन
- 2) Isaac Newton  
आयजेक न्यूटन
- 3) Pranav Mistry  
प्रणव मिस्त्री
- 4) Galileo Galilei  
गैलिलियो गैलीली

**Correct Answer:** Charles Darwin  
चार्ल्स डार्विन

**Candidate Answer:** Charles Darwin  
चार्ल्स डार्विन

**QID : 45** - Which among the following is not a unit of distance?

निम्नलिखित में से कौन सी दूरी की एक इकाई नहीं है?

**Options:**

- 1) Light year  
प्रकाश वर्ष
- 2) Longsec  
लॉन्गसेक
- 3) Astronomical unit  
खगोलीय इकाई
- 4) Parsec  
पार्सेक

**Correct Answer:** Longsec  
लॉन्गसेक

**Candidate Answer:** Parsec  
पार्सेक

**QID : 46** - The apparent weight of a person in a lift which is moving down with uniform acceleration is \_\_\_\_\_.

एक लिफ्ट जो एक समान वेग के साथ नीचे जा रही है, उसमें किसी व्यक्ति का स्पष्ट वजन \_\_\_\_\_ होता है।

**Options:**

- 1) greater than the weight when the person is stationary  
उस वजन से अधिक जब व्यक्ति स्थिर रहता है
- 2) twice the weight when the person is stationary  
उससे दुगुना वजन जब व्यक्ति स्थिर रहता है
- 3) less than the weight when the person is stationary  
उस वजन से कम जब व्यक्ति स्थिर रहता है
- 4) same as the weight when the person is stationary  
उसी के बराबर वजन जब व्यक्ति स्थिर रहता है

**Correct Answer:** less than the weight when the person is stationary  
उस वजन से कम जब व्यक्ति स्थिर रहता है

**Candidate Answer:** [ NOT ANSWERED ]

**QID : 47** - The form of power structure in which power effectively rests with a faction of persons or families is called

सत्ता संरचना का ऐसा रूप जिसमें सत्ता प्रभावी ढंग से व्यक्तियों या परिवारों के एक गुट के कब्जे में होती है

**Options:**

- 1) Tyranny  
अत्याचारी शासन
- 2) Fascism  
फासिस्टवाद
- 3) Oligarchy  
कुलीनतंत्र
- 4) Plutocracy  
धनिक तन्त्र

**Correct Answer:** Oligarchy  
कुलीनतंत्र

**Candidate Answer:** Fascism  
फासिस्टवाद

**QID : 48** - The number of parliamentary seats (Lok Sabha) of Haryana is

हरियाणा की संसदीय सीटों (लोक सभा) की संख्या कितनी है?

**Options:**

- 1) 10
- 2) 26
- 3) 28
- 4) 48

**Correct Answer:** 10

**Candidate Answer:** [ NOT ANSWERED ]

**QID : 49** - Jeev Milkha Singh is associated with which game?

जीव मिल्खा सिंह किस खेल के साथ जुड़े हुए हैं?

**Options:**

- 1) Polo  
पोलो
- 2) Badminton  
बैडमिंटन
- 3) Golf  
गोल्फ
- 4) Tennis  
टेनिस

**Correct Answer:** Golf  
गोल्फ

**Candidate Answer:** [ NOT ANSWERED ]

**QID : 50** - Name the author of the book "Pakistan the Gathering Storm".

"पाकिस्तान द गैदरिंग स्टॉर्म" पुस्तक के लेखक कौन है?

**Options:**

- 1) Parvez Musharraf  
परवेज मुशर्रफ
- 2) Benazir Bhutto  
बेनजीर भुट्टो
- 3) Chetan Bhagat  
चेतन भगत
- 4) Javier Moro  
जेवियर मोरो

**Correct Answer:** Benazir Bhutto  
बेनजीर भुट्टो

**Candidate Answer:** Parvez Musharraf  
परवेज मुशर्रफ

**QID : 51** - What are the co-ordinates of the centroid of a triangle, whose vertices are A(-2,5), B(3,-2) and C(5,3)?

यदि किसी त्रिभुज के कोनों के निर्देशांक A(-2,5), B(3,-2) और C(5,3) हैं, तो उसके केन्द्रक के निर्देशांक क्या होंगे?

**Options:**

- 1) (-2,-2)
- 2) (-2,2)
- 3) (2,2)
- 4) (2,-2)

**Correct Answer:** (2,2)

**Candidate Answer:** [ NOT ANSWERED ]

**QID : 52** - Ravindra walks at 6 km/hr and Riya cycles at 11 km/hr towards each other. What was the distance between them when they started if they meet after 42 minutes?

रविन्द्र 6 कि.मी./घंटा की गति से चल कर और रिया 11 कि.मी./घंटा की गति से साइकिल चलाते हुए एक दूसरे की तरफ आते हैं। यदि वे 42 मिनट के बाद मिलते हैं, तो शुरुआत में उनके बीच कितनी दूरी थी?

**Options:**

- 1) 17.9 kms  
17.9 कि.मी.
- 2) 14.9 kms  
14.9 कि.मी.
- 3) 8.9 kms  
8.9 कि.मी.
- 4) 11.9 kms  
11.9 कि.मी.

**Correct Answer:** 11.9 kms  
11.9 कि.मी.

**Candidate Answer:** 11.9 kms  
11.9 कि.मी.

**QID : 53** - If  $\cot 135^\circ = x$ , then the value of  $x$  is

यदि  $\cot 135^\circ = x$ , तो  $x$  का क्या मान है?

**Options:**

- 1)  $-1/\sqrt{3}$
- 2)  $-\sqrt{3}$
- 3) -1
- 4)  $-1/2$

**Correct Answer:** -1

**Candidate Answer:** -1

[Downloaded From www.KnowledgePhilic.com](http://www.KnowledgePhilic.com)

**QID : 54** - The slopes of two lines are  $1/\sqrt{3}$  and  $\sqrt{3}$ . What is the angle between these two lines?

दो रेखाओं का ढाल  $1/\sqrt{3}$  और  $\sqrt{3}$  हैं। इन दो रेखाओं के बीच का कोण क्या होगा?

**Options:**

- 1)  $15^\circ$
- 2)  $45^\circ$
- 3)  $60^\circ$
- 4)  $30^\circ$

**Correct Answer:**  $30^\circ$

**Candidate Answer:**  $45^\circ$

**QID : 55** - If  $\sqrt{(1 - \cos^2 A)}/\cos A = x$ , then the value of x is

यदि  $\sqrt{(1 - \cos^2 A)}/\cos A = x$ , तो x का क्या मान है?

**Options:**

- 1)  $\cot A$
- 2)  $\operatorname{cosec} A$
- 3)  $\tan A$
- 4)  $\sec A$

**Correct Answer:**  $\tan A$

**Candidate Answer:**  $\tan A$

**QID : 56** - If  $x + 2(3-5x) > -1 - 2x < 5 - x/3$ ; then the value of x is

यदि  $x + 2(3-5x) > -1 - 2x < 5 - x/3$ ; तो x का क्या मान है?

**Options:**

- 1) -3
- 2) -4
- 3) 2
- 4) 3

**Correct Answer:** -3

**Candidate Answer:** -3

**QID : 57** - An angle is four times its complementary angle. What is the measure of the angle?

एक कोण अपने पूरक कोण से चार गुना बड़ा है। कोण की माप क्या है?

**Options:**

- 1)  $72^\circ$
- 2)  $108^\circ$
- 3)  $54^\circ$
- 4)  $36^\circ$

**Correct Answer:**  $72^\circ$

**Candidate Answer:**  $108^\circ$

**QID : 58** - In a Kite \_\_\_\_\_.

एक पतंग में \_\_\_\_\_।

**Options:**

- 1) One diagonal bisects the other  
एक विकर्ण अन्य को दो भागों में बांटता है
- 2) Both diagonals form two congruent triangles  
दोनों विकर्ण दो संगत त्रिभुज बनाते हैं
- 3) Adjacent angles are supplementary  
निकटस्थ कोण अनुपूरक होते हैं
- 4) Opposite sides are parallel  
विपरीत बाजूएँ समानांतर होती हैं

**Correct Answer:** One diagonal bisects the other

एक विकर्ण अन्य को दो भागों में बांटता है

**Candidate Answer:** One diagonal bisects the other

एक विकर्ण अन्य को दो भागों में बांटता है

**QID : 59** - Akhilesh is two times as good a workman as Bansi and therefore is able to finish a job in 39 days less than Bansi. Working together, they can do it in

अखिलेश बंसी से दो गुना अधिक अच्छा कर्मचारी है और इसी कारण वह एक काम उससे 39 दिन कम में पूरा कर सकता है. दोनों मिलकर वह काम कितने दिन में करेंगे?

**Options:**

- 1) 13 days  
13 दिन
- 2) 24 days  
24 दिन
- 3) 26 days  
26 दिन
- 4) 12 days  
12 दिन

**Correct Answer:** 26 days

26 दिन

**Candidate Answer:** 26 days

26 दिन

**QID : 60** - If  $(4x - 3) = (3x + 8)$ , then the numerical value of  $(x + 1)^3$  is

यदि  $(4x - 3) = (3x + 8)$ , फिर  $(x + 1)^3$  का संख्यात्मक मूल्य क्या है?

**Options:**

1) 1331

2) 1000

3) 1728

4) 729

**Correct Answer:** 1728

**Candidate Answer:** 1728

**QID : 61** - A rectangular swimming pool of length 30 m and breadth 15 m has a uniformly sloping floor. It is 1 m in depth on one end of its length and 2 m at the other. How much water is needed to completely fill this pool?

30 मी. की लंबाई और 15 मी. की चौड़ाई के एक आयताकार स्विमिंग पूल में एक समान रूप से झुकती हुई फर्श है। वह अपनी लंबाई के एक छोर पर 1 मी. गहरा है, और दूसरी ओर 2 मी. गहरा है। इस पूल को पूरी तरह से भरने के लिए कितने पानी की आवश्यकता होगी?

**Options:**

1) 1350 cubic mts

1350 घन मी.

2) 2025 cubic mts

2025 घन मी.

3) 675 cubic mts

675 घन मी.

4) 2700 cubic mts

2700 घन मी.

**Correct Answer:** 675 cubic mts

675 घन मी.

**Candidate Answer:** 1350 cubic mts

1350 घन मी.

KnowledgePhilic.com

**QID : 62** - The sum of all prime numbers between 58 and 62 is

58 और 62 के बीच की सभी अविभाज्य संख्याओं का योग क्या है?

**Options:**

1) 116

2) 114

3) 120

4) 111

**Correct Answer:** 120

**Candidate Answer:** 120

**QID : 63** - 25% discount is offered on an item. By applying a promo code the customer wins 22% cash back. What is the effective discount?

एक वस्तु पर 25% छूट की पेशकश की गई है। एक प्रोमो कोड लागू करके ग्राहक 22% नकद वापस जीतता है। उसको मिली प्रभावी छूट क्या है?

**Options:**

1) 41.5 percent

41.5 प्रतिशत

2) 50.63 percent

50.63 प्रतिशत

3) 47 percent

47 प्रतिशत

4) 27.5 percent

27.5 प्रतिशत

**Correct Answer:** 41.5 percent

41.5 प्रतिशत

**Candidate Answer:** 41.5 percent

41.5 प्रतिशत

**QID : 64** - 39 is 5.2% of?

39 किस संख्या का 5.2% है?

**Options:**

1) 75

2) 750

3) 1500

4) 1875

Downloaded From [www.KnowledgePhilic.com](http://www.KnowledgePhilic.com)

**Correct Answer:** 750

**Candidate Answer:** 750

**QID : 65** - A sum fetched a total simple interest of Rs. 8100 at the rate of 6% per year in 9 years. What is the sum?

9 वर्षों में 6% वार्षिक दर से एक राशि पर 8100 रु का साधारण ब्याज बन जाता है। यह राशि कितनी है?

**Options:**

1) Rs 15000

15000 रु

2) Rs 18000

18000 रु

3) Rs 12000

12000 रु

4) Rs 9000

9000 रु

**Correct Answer:** Rs 15000

15000 रु

**Candidate Answer:** Rs 15000

15000 रु

**QID : 66** - If  $a - b = -6$  and  $a^2 + b^2 = 44$ , then  $ab$  is

यदि  $a - b = -6$  और  $a^2 + b^2 = 44$ , तो  $ab$  का क्या मान है?

**Options:**

1) -4

2) 8

3) 4

4) -8

**Correct Answer:** 4

**Candidate Answer:** 4

**QID : 67** - The first and last terms of an arithmetic progression are 29 and -49. If the sum of the series is -140, then it has how many terms?

एक समांतर श्रेणी का पहला और आखिरी पद 29 और -49 हैं। यदि श्रृंखला का योग -140 है, तो इसमें कितने पद हैं?

**Options:**

1) 13

2) 14

3) 12

4) 11

**Correct Answer:** 14

**Candidate Answer:** [ NOT ANSWERED ]

**QID : 68** - The average weight of Sudesh, Jyothi and Ritu is 89 kg. If the average weight of Sudesh and Jyothi be 98 kg and that of Jyothi and Ritu be 83 kg, then the weight of Jyothi is

सुदेश, ज्योति और ऋतू का औसत वजन 89 किलो है। यदि सुदेश और ज्योति का औसत वजन 98 किलो होता है और ज्योति और ऋतू का औसत वजन 83 किलो होता है, तो ज्योति का वजन है

**Options:**

1) 58

2) 56

3) 95

4) 66

**Correct Answer:** 95

**Candidate Answer:** [ NOT ANSWERED ]

**QID : 69** - By increasing the price of entry ticket to a fair in the ratio 7:17, the number of visitors to the fair has decreased in the ratio 9:5. In what ratio has the total collection increased or decreased?

एक मेले की प्रवेश टिकट के मूल्य में 7:17 के अनुपात में वृद्धि करके, मेले में आने वाले लोगों की संख्या 9:5 के अनुपात में कम हो गई है। कुल संकलन में किस अनुपात में वृद्धि या कमी हुई है?

**Options:**

1) decreased in the ratio 85:63

85:63 के अनुपात में कमी हुई है

2) increased in the ratio 35:153

35:153 के अनुपात में वृद्धि हुई है

3) increased in the ratio 63:85

63:85 के अनुपात में वृद्धि हुई है

4) decreased in the ratio 153:35

153:35 के अनुपात में कमी हुई है

**Correct Answer:** increased in the ratio 63:85

63:85 के अनुपात में वृद्धि हुई है

**Candidate Answer:** [ NOT ANSWERED ]

[Downloaded From www.KnowledgePhilic.com](http://www.KnowledgePhilic.com)



**QID : 70** - What is the value of  $\sqrt{\frac{1 - \sin A}{1 + \sin A}}$ ?

$\sqrt{\frac{1 - \sin A}{1 + \sin A}}$  का मान क्या है?

**Options:**

- 1)  $\cos A / (1 - \sin A)$
- 2)  $\operatorname{cosec} A / (1 + \sin A)$
- 3)  $\cos A / (1 + \sin A)$
- 4)  $\operatorname{cosec} A / (1 - \sin A)$

**Correct Answer:**  $\cos A / (1 + \sin A)$

**Candidate Answer:** [ NOT ANSWERED ]

**QID : 71** - Raghuram sells a machine for Rs 43 lakhs at a loss. Had he sold it for Rs 53 lakh, his gain would have been 7 times the former loss. Find the cost price of the machine.

रघुराम एक मशीन 43 लाख रु में घाटे में बेचता है। यदि उसने उसे 53 लाख रु में बेचा होता, तो उसका लाभ उसके पूर्व घाटे का 7 गुना होता। मशीन का क्रय मूल्य प्राप्त करें।

**Options:**

- 1) Rs 51.75 lakhs  
51.75 लाख रु
- 2) Rs 59.14 lakhs  
59.14 लाख रु
- 3) Rs 36.75 lakhs  
36.75 लाख रु
- 4) Rs 44.25 lakhs  
44.25 लाख रु

**Correct Answer:** Rs 44.25 lakhs

44.25 लाख रु

**Candidate Answer:** Rs 44.25 lakhs

44.25 लाख रु

**QID : 72** -

Refer the below data table and answer the following Question.

नीचे दिये गए डेटा तालिका के आधार पर निम्नलिखित प्रश्न का उत्तर दें।

Division / STD श्रेणी/कक्षा	Boys लड़के	Girls लड़कियाँ
Division A / Standard 5 श्रेणी A/कक्षा 5	30	30
Division B / Standard 5 श्रेणी B/कक्षा 5	30	35
Division C / Standard 5 श्रेणी C/कक्षा 5	25	10
Division A / Standard 6 श्रेणी A/कक्षा 6	30	10
Division B/Standard 6 श्रेणी B/कक्षा 6	40	30
Division C / Standard 6 श्रेणी C/कक्षा 6	20	40

What is the ratio of boys to girls?

लड़कियों पर लड़कों का अनुपात क्या है?

**Options:**

- 1) 31 : 35
- 2) 35 : 31
- 3) 37 : 33
- 4) 33 : 37

**Correct Answer:** 35 : 31

**Candidate Answer:** 35 : 31

**QID : 73 -**

Refer the below data table and answer the following Question.

नीचे दिये गए डेटा तालिका के आधार पर निम्नलिखित प्रश्न का उत्तर दें।

Marks अंक	Number of students छात्रों की संख्या
40 and above 40 और उस से उपर	10
30 and above 30 और उस से उपर	40
20 and above 20 और उस से उपर	69
10 and above 10 और उस से उपर	81
0 and above 0 और उस से उपर	102

How many students have scored marks 20 or more but less than 40?

कितने छात्रों ने 20 या उस से अधिक लेकिन 40 से कम अंक स्कोर किए हैं

**Options:**

- 1) 69
- 2) 40
- 3) 109
- 4) 59

**Correct Answer:** 59

**Candidate Answer:** 109

KnowledgePhilic.com

**QID : 74 -**

Refer the below data table and answer the following Question.

नीचे दिये गए डेटा तालिका के आधार पर निम्नलिखित प्रश्न का उत्तर दें।

Year वर्ष	GDP growth rate for the year (in %) वर्ष में सकल घरेलू उत्पाद (जीडीपी) की वृद्धि का दर (प्रतिशत में)
2011	3
2012	-7
2013	-7
2014	4
2015	3

If the GDP of the country was \$1 trillion at the end of 2013, what was it at the beginning of 2015?

यदि देश का सकल घरेलू उत्पाद (जीडीपी) 2013 के अंत तक \$1 ट्रिलियन था, तो वह 2015 की शुरुआत में कितना था?

**Options:**

- 1) \$1.03 trillion  
\$ 1.03 ट्रिलियन
- 2) \$1.04 trillion  
\$ 1.04 ट्रिलियन
- 3) \$0.93 trillion  
\$ 0.93 ट्रिलियन
- 4) \$1.07 trillion  
\$ 1.07 ट्रिलियन

**Correct Answer:** \$1.04 trillion

\$ 1.04 ट्रिलियन

**Candidate Answer:** \$0.93 trillion

\$ 0.93 ट्रिलियन

Downloaded From [www.KnowledgePhilic.com](http://www.KnowledgePhilic.com)

**QID : 75 -**

Refer the below data table and answer the following Question.

नीचे दिये गए डेटा तालिका के आधार पर निम्नलिखित प्रश्न का उत्तर दें।

Subjects विषय	Marks scored प्राप्त अंक
English / अंग्रेज़ी	45
Hindi / हिंदी	70
Math / गणित	30
Science / विज्ञान	80
Arts / कला	35

Five points are to be deducted from this student's average of marks scored because of poor attendance. What will be this student's net average marks scored?

किसी छात्र की अपर्याप्त उपस्थिति की वजह से उसके प्राप्त अंकों के औसत से पांच अंक घटाए जाने हैं। इस छात्र के प्राप्त कुल औसत अंक कितने होंगे?

**Options:**

- 1) 37
- 2) 42
- 3) 47
- 4) 52

**Correct Answer:** 47**Candidate Answer:** 47**QID : 76 -** Select the synonym of:

# KnowledgePhilic.com

**to entrain****Options:**

- 1) to alight
- 2) to debark
- 3) to mount
- 4) to disembark

**Correct Answer:** to mount**Candidate Answer:** to disembark

UPSC | SSC | Bank | Railway | Lic | Fci | DMRC

**QID : 77 -** Select the word with the correct spelling.**Options:**

- 1) virtuous
- 2) tabbulate
- 3) infinete
- 4) feytishes

**Correct Answer:** virtuous**Candidate Answer:** virtuous

**QID : 78 -** In the following question, some part of the sentence may have errors. Find out which part of the sentence has an error and select the appropriate option. If a sentence is free from error, select 'No Error'.

**Gita had been(A)/dancing at the party little(B)/ more than usual.(C)/ No error(D)**

**Options:**

- 1) A
- 2) B
- 3) C
- 4) D

**Correct Answer:** B**Candidate Answer:** B**QID : 79 -** Select the antonym of**vivified****Options:**

- 1) invigorated
- 2) revived
- 3) dull
- 4) animated

**Correct Answer:** dull**Candidate Answer:** [ NOT ANSWERED ]

[Downloaded From www.KnowledgePhilic.com](http://www.KnowledgePhilic.com)

**QID : 80** - In the following question, out of the four alternatives, select the alternative which best expresses the meaning of the idiom/phrase.

**Beauty is in the eye of the beholder**

**Options:**

- 1) The world is beautiful if one can see it that way
- 2) To see only beautiful things if one wants to make his life beautiful
- 3) That which one person finds beautiful or admirable may not appeal to another
- 4) For an infatuated person even bad qualities of the beloved appear good

**Correct Answer:** That which one person finds beautiful or admirable may not appeal to another

**Candidate Answer:** The world is beautiful if one can see it that way

**QID : 81** - Rearrange the parts of the sentence in correct order.

**Earlier its forays**

**P-were concentrated on ancient**

**Q-and medieval India**

**R-in history**

**Options:**

- 1) RPQ
- 2) RQP
- 3) PQR
- 4) QPR

**Correct Answer:** RPQ

**Candidate Answer:** PQR

**QID : 82** - In the following question, the sentence given with blank to be filled in with an appropriate word. Select the correct alternative out of the four and indicate it by selecting the appropriate option.

\_\_\_\_\_ your crime and your sentence may be reduced, suggested the police.

**Options:**

- 1) Apologise
- 2) Communicate
- 3) Confess
- 4) Inform

**Correct Answer:** Confess

**Candidate Answer:** Confess

**QID : 83** - In the following question, a sentence has been given in Active/Passive voice. Out of four alternatives suggested, select the one, which best expresses the same sentence in Passive/Active voice.

**The painters painted the entire building.**

**Options:**

- 1) The entire building had been painted by the painters.
- 2) The painters had an entire building painted.
- 3) The entire building was painted by the painters.
- 4) The entire building has been painted by the painters.

**Correct Answer:** The entire building was painted by the painters.

**Candidate Answer:** The entire building was painted by the painters.

**QID : 84** - Improve the bracketed part of the sentence

His condition has only deteriorated, his life (**hangs with threads**).

**Options:**

- 1) is hanging on threads
- 2) hangs by a thread
- 3) hangs on a thread
- 4) no improvement

**Correct Answer:** hangs by a thread

**Candidate Answer:** hangs by a thread

**QID : 85** - Rearrange the parts of the sentence in correct order:

**Guardians of**

**P-the tyranny of the state**

**Q-four square against**

**R-intellectual liberty must stand**

**Options:**

- 1) QRP
- 2) RQP
- 3) PRQ
- 4) PQR

**Correct Answer:** RQP

**Candidate Answer:** RQP

**QID : 86** - In the following question, a sentence has been given in Direct/Indirect speech. Out of the four alternatives suggested, select the one, which best express the same sentence in Indirect/Direct speech.

**Mother said, "Oh! It's a scorpion. Don't go near it, children."**

[Downloaded From www.KnowledgePhilic.com](http://www.KnowledgePhilic.com)

**Options:**

- 1) Mother exclaimed with disgust that, that was a scorpion and told the children not to go near it.
- 2) Mother exclaimed disgustingly that, it was a scorpion and told the children not to go near it.
- 3) Mother exclaimed with disgust that it was a scorpion and told the children not to go near it.
- 4) Mother exclaimed with disgust that, that was a scorpion and told the children not to go near that.

**Correct Answer:** Mother exclaimed with disgust that it was a scorpion and told the children not to go near it.

**Candidate Answer:** Mother exclaimed with disgust that, that was a scorpion and told the children not to go near it.

**QID : 87** - In the following question, out of the four alternatives, select the alternative which is the best substitute of the phrase.

**to have as belonging to one; own.**

**Options:**

- 1) to dominate
- 2) to possess
- 3) to abandon
- 4) to hog

**Correct Answer:** to possess

**Candidate Answer:** [ NOT ANSWERED ]

**QID : 88** - Select the word with the correct spelling.

**Options:**

- 1) panacease
- 2) saboteur
- 3) contraste
- 4) columunar

**Correct Answer:** saboteur

**Candidate Answer:** saboteur

**QID : 89** - In the following question, out of the four alternatives, select the alternative which best expresses the meaning of the idiom/phrase.

**Necessity is the mother of invention**

**Options:**

- 1) solution to a problem is easy if one is sufficiently desperate
- 2) great inventions happen only if you are desperate
- 3) there is always a mother behind every great scientist who has invented something
- 4) when the need for something becomes essential, you are forced to find ways of getting it

**Correct Answer:** when the need for something becomes essential, you are forced to find ways of getting it

**Candidate Answer:** when the need for something becomes essential, you are forced to find ways of getting it

**QID : 90** - In the following question, out of the four alternatives, select the alternative which is the best substitute of the phrase.

**the action of making amends for a wrong one has done**

**Options:**

- 1) reparation
- 2) extortion
- 3) reclamation
- 4) retrieval

**Correct Answer:** reparation

**Candidate Answer:** [ NOT ANSWERED ]

**QID : 91** - In the following question, the sentence given with blank to be filled in with an appropriate word. Select the correct alternative out of the four and indicate it by selecting the appropriate option.

**The payment of dues have been \_\_\_\_\_ delayed , informed the executive to the client.**

**Options:**

- 1) incredibly
- 2) crazily
- 3) amazingly
- 4) unduly

**Correct Answer:** unduly

**Candidate Answer:** unduly

**QID : 92** - Select the synonym of

**discerning**

**Options:**

- 1) naive
- 2) asinine
- 3) inept
- 4) astute

**Correct Answer:** astute

**Candidate Answer:** [ NOT ANSWERED ]

**QID : 93** - In the following question, some part of the sentence may have errors. Find out which part of the sentence has an error and select the appropriate option. If a sentence is free from error, select 'No Error'.

**Ramesh is far arrogant(A)/to learn the error(B)/of his ways.(C)/No error(D).**

[Downloaded From www.KnowledgePhilic.com](http://www.KnowledgePhilic.com)

**Options:**

- 1) A
- 2) B
- 3) C
- 4) D

**Correct Answer: A****Candidate Answer: C****QID : 94** - Improve the bracketed part of the sentence.We are late because my wife took two hours to **(put up)** her make-up.**Options:**

- 1) put on
- 2) put
- 3) put over
- 4) no improvement

**Correct Answer:** put on**Candidate Answer:** put over**QID : 95** - Select the antonym of**wary****Options:**

- 1) frugal
- 2) leery
- 3) prudent
- 4) inattentive

**Correct Answer:** inattentive**Candidate Answer:** leery**QID : 96** - In the following passage, some of the words have been left out. Read the passage carefully and select the correct answer for the given blank out of the four alternatives.

India has already made \_\_\_\_\_ concessions to enable a consensus and successful outcome at Paris. Now it must ensure that it is not caught in a relentless \_\_\_\_\_ process where each concession becomes an argument for making the next one. The post-Paris negotiations will determine more \_\_\_\_\_ the shape of the climate change architecture for the next several decades. We \_\_\_\_\_ ensure that India's vital interests are safeguarded and the principle \_\_\_\_\_ equity and equitable burden-sharing is reflected across this architecture.

India has already made \_\_\_\_\_ concessions to enable a consensus

**Options:**

- 1) so much
- 2) substantial
- 3) many
- 4) a lot of

**Correct Answer:** substantial**Candidate Answer:** a lot of**QID : 97** - In the following passage, some of the words have been left out. Read the passage carefully and select the correct answer for the given blank out of the four alternatives.

India has already made \_\_\_\_\_ concessions to enable a consensus and successful outcome at Paris. Now it must ensure that it is not caught in a relentless \_\_\_\_\_ process where each concession becomes an argument for making the next one. The post-Paris negotiations will determine more \_\_\_\_\_ the shape of the climate change architecture for the next several decades. We \_\_\_\_\_ ensure that India's vital interests are safeguarded and the principle \_\_\_\_\_ equity and equitable burden-sharing is reflected across this architecture.

Now it must ensure that it is not caught in a relentless \_\_\_\_\_ process

**Options:**

- 1) lengthy
- 2) protracted
- 3) infinite
- 4) attrition

**Correct Answer:** attrition**Candidate Answer:** lengthy**QID : 98** - In the following passage, some of the words have been left out. Read the passage carefully and select the correct answer for the given blank out of the four alternatives.

India has already made \_\_\_\_\_ concessions to enable a consensus and successful outcome at Paris. Now it must ensure that it is not caught in a relentless \_\_\_\_\_ process where each concession becomes an argument for making the next one. The post-Paris negotiations will determine more \_\_\_\_\_ the shape of the climate change architecture for the next several decades. We \_\_\_\_\_ ensure that India's vital interests are safeguarded and the principle \_\_\_\_\_ equity and equitable burden-sharing is reflected across this architecture.

The post-Paris negotiations will determine more \_\_\_\_\_ the shape of the climate change

**Options:**

- 1) precisely
- 2) exactly
- 3) refinely
- 4) sophisticatedly

[Downloaded From www.KnowledgePhilic.com](http://www.KnowledgePhilic.com)

**Correct Answer:** precisely

**Candidate Answer:** sophisticatedly

**QID : 99** - In the following passage, some of the words have been left out. Read the passage carefully and select the correct answer for the given blank out of the four alternatives.

India has already made \_\_\_\_\_ concessions to enable a consensus and successful outcome at Paris. Now it must ensure that it is not caught in a relentless \_\_\_\_\_ process where each concession becomes an argument for making the next one. The post-Paris negotiations will determine more \_\_\_\_\_ the shape of the climate change architecture for the next several decades. We \_\_\_\_\_ ensure that India's vital interests are safeguarded and the principle \_\_\_\_\_ equity and equitable burden-sharing is reflected across this architecture.

We \_\_\_\_\_ ensure that India's vital interests are safeguarded

**Options:**

- 1) would
- 2) could
- 3) must
- 4) have

**Correct Answer:** must

**Candidate Answer:** must

**QID : 100** - In the following passage, some of the words have been left out. Read the passage carefully and select the correct answer for the given blank out of the four alternatives.

India has already made \_\_\_\_\_ concessions to enable a consensus and successful outcome at Paris. Now it must ensure that it is not caught in a relentless \_\_\_\_\_ process where each concession becomes an argument for making the next one. The post-Paris negotiations will determine more \_\_\_\_\_ the shape of the climate change architecture for the next several decades. We \_\_\_\_\_ ensure that India's vital interests are safeguarded and the principle \_\_\_\_\_ equity and equitable burden-sharing is reflected across this architecture.

the principle \_\_\_\_\_ equity

**Options:**

- 1) for
- 2) of
- 3) about
- 4) like

**Correct Answer:** of

**Candidate Answer:** of

KnowledgePhilic.com

UPSC | SSC | Bank | Railway | Lic | Fci | DMRC