



Staff Selection Commission
(Government Of India)

REGISTRATION NUMBER : KnowledgePhilic.com
EXAM DATE : 2-February-2017
EXAM NAME : SSC Examination 2016
TOTAL MARKS : 200

CANDIDATE NAME : KnowledgePhilic.com
EXAM START TIME : 10:00:00
EXAM DURATION : 01:15 Hrs
TOTAL NO OF QUESTIONS : 100

QID : 1 - Select the related word/letters/number from the given alternatives.

Frog : Amphibian :: Cobra : ?

दिए गए विकल्पों में से संबंधित शब्द/अक्षर/संख्या को चुनिए।

मेंढक : उभयचर :: नाग : ?

Options:

- 1) Insect
कीट
- 2) Protozoa
प्रोटोजोआ
- 3) Parasite
परजीवी
- 4) Reptiles
सरीसृप

Correct Answer: Reptiles

सरीसृप

Candidate Answer: Reptiles

सरीसृप

QID : 2 - Select the related word/letters/number from the given alternatives.

EFGH: LNPR :: ABCD : ?

दिए गए विकल्पों में से संबंधित शब्द/अक्षर/संख्या को चुनिए।

EFGH: LNPR :: ABCD : ?

Options:

- 1) PQRS
- 2) HJLN
- 3) HIJK
- 4) EFGH

Correct Answer: HJLN

Candidate Answer: HJLN

QID : 3 - Select the related word/letters/number from the given alternatives.

JS : QH :: VW : ?

दिए गए विकल्पों में से संबंधित शब्द/अक्षर/संख्या को चुनिए।

JS : QH :: VW : ?

Options:

- 1) HM
- 2) PQ
- 3) JQ
- 4) ED

Correct Answer: ED

Candidate Answer: [NOT ANSWERED]

QID : 4 - Select the related word/letters/number from the given alternatives.

25: 260 :: 30 : ?

दिए गए विकल्पों में से संबंधित शब्द/अक्षर/संख्या को चुनिए।

25: 260 :: 30 : ?

Options:

1) 320

2) 310

3) 340

4) 300

Correct Answer: 310

Candidate Answer: 310

QID : 5 - Select the odd word/letters/number/number pair from the given alternatives.

दिए गए विकल्पों में से विषम शब्द/अक्षर/संख्या/संख्या युग्म को चुनिए।

Options:

1) Truck

ट्रक

2) Car

कार

3) Motorcycle

मोटरसाइकल

4) Airplane

हवाईजहाज

Correct Answer: Airplane

हवाईजहाज

Candidate Answer: Airplane

हवाईजहाज

QID : 6 - Select the odd word/letters/number/number pair from the given alternatives.

दिए गए विकल्पों में से विषम शब्द/अक्षर/संख्या/संख्या युग्म को चुनिए।

Options:

1) FLR

2) KQW

3) PIB

4) CIO

Correct Answer: PIB

Candidate Answer: PIB

QID : 7 - Select the odd word/letters/number/number pair from the given alternatives.

दिए गए विकल्पों में से विषम शब्द/अक्षर/संख्या/संख्या युग्म को चुनिए।

Options:

1) 6210

2) 7020

3) 1431

4) 1280

Correct Answer: 1280

Candidate Answer: 1431

QID : 8 - Select the odd word/letters/number/number pair from the given alternatives.

दिए गए विकल्पों में से विषम शब्द/अक्षर/संख्या/संख्या युग्म को चुनिए।

Options:

1) 86

2) 68

3) 136

4) 102

Correct Answer: 86

Candidate Answer: [NOT ANSWERED]

QID : 9 - A series is given with one term missing. Select the correct alternative from the given ones that will complete the series.

RS, ZA, HI, ?

एक अनुक्रम दिया गया है, जिसमें से एक पद लुप्त है। दिए गए विकल्पों में से वह सही विकल्प चुनिए, जो अनुक्रम को पूरा करे।

RS, ZA, HI, ?

Options:

1) LM

2) KL

3) PQ

4) PR

Correct Answer: PQ
Candidate Answer: PQ

QID : 10 - A series is given with one term missing. Select the correct alternative from the given ones that will complete the series.

PON, LKJ, GFE, ?

एक अनुक्रम दिया गया है, जिसमें से एक पद लुप्त है। दिए गए विकल्पों में से वह सही विकल्प चुनिए, जो अनुक्रम को पूरा करे।

PON, LKJ, GFE, ?

Options:
1) ABC

2) EFG

3) AZY

4) DEA

Correct Answer: AZY

Candidate Answer: AZY

QID : 11 - A series is given with one term missing. Select the correct alternative from the given ones that will complete the series.

250, 275, 301, ?

एक अनुक्रम दिया गया है, जिसमें से एक पद लुप्त है। दिए गए विकल्पों में से वह सही विकल्प चुनिए, जो अनुक्रम को पूरा करे।

250, 275, 301, ?

Options:
1) 396

2) 328

3) 395

4) 300

Correct Answer: 328

Candidate Answer: 328

QID : 12 - In the following question, two statements are given each followed by two conclusions I and II. You have to consider the statements to be true even if they seem to be at variance from commonly known facts. You have to decide which of the given conclusions, if any, follows from the given statements.

Statement:

(I) Children start writing with a pen in sixth standard.

(II) Ink pen is prescribed by most of the schools for school kids to write with as it maintains the handwriting and comfort of child.

Conclusions:

(I) Till fifth standard kids are unable to use pen on their own completely.

(II) Ink pen maintains a proper flow of ink on paper and takes less effort to put words on paper.

निम्नलिखित प्रश्न में, दो कथन दिए गए हैं जिनके आगे दो निष्कर्ष I और II निकाले गए हैं। आपको मानना है कि कथन सत्य है चाहे वे सामान्यतः ज्ञात तथ्यों से भिन्न प्रतीत होते हों। आपको निर्णय करना है कि दिए गए निष्कर्षों में से कौन सा/कौन से निश्चित रूप से कथनों द्वारा सही निकाला जा सकता है/सकते हैं, यदि कोई हो।

कथन:

(I) बच्चे छठी कक्षा में कलम से लिखना शुरू करते हैं।

(II) अधिकांश स्कूलों में बच्चों को इंकपेन से लिखने की सलाह दी जाती है, क्योंकि इससे लिखावट अच्छी रहती है और यह सुविधाजनक होता है।

निष्कर्ष:

(I) पांचवीं कक्षा तक के छात्र खुद पेन का प्रयोग करने में सक्षम नहीं होते हैं।

(II) इंकपेन कागज पर स्याही का उचित प्रवाह बनाए रखता है और इससे लिखने में आसानी रहती है।

Options:

1) Only conclusion II follows

केवल निष्कर्ष II लागू होता है।

2) Conclusion I and II both follow

निष्कर्ष I और II दोनों लागू होता है।

3) Neither I nor II follow

न निष्कर्ष I न ही II लागू होता है।

4) Only conclusion I follows

केवल निष्कर्ष I लागू होता है।

Correct Answer: Neither I nor II follow

न निष्कर्ष I न ही II लागू होता है।

Candidate Answer: Only conclusion I follows

केवल निष्कर्ष I लागू होता है।

QID : 13 - A series is given with one term missing. Select the correct alternative from the given ones that will complete the series.

Millimetre, Micrometre, Nanometre, ?

एक अनुक्रम दिया गया है, जिसमें से एक पद लुप्त है। दिए गए विकल्पों में से वह सही विकल्प चुनिए, जो अनुक्रम को पूरा करे।

मिलीमीटर, माइक्रोमीटर, नैनोमीटर, ?

Options:

- 1) Picometre
पिकोमीटर
- 2) Kilometre
कि.मी.
- 3) Metre
मीटर
- 4) Centimetre
सेंटीमीटर

Correct Answer: Picometre
पिकोमीटर

Candidate Answer: Picometre
पिकोमीटर

QID : 14 - A, B, C, D and E are standing in a row. D is the immediate neighbour of A and E. B is at the right of E and C is in the extreme right. Who is fourth to the left of C?

A, B, C, D और E एक कतार में खड़े हैं। D, A और E के एक दम बगल में है। B, E के दाहिने में है और C दाहिने छोर के अंत पर है। C के बाएं तरफ चौथे स्थान पर कौन है?

Options:

- 1) B
- 2) E
- 3) C
- 4) A

Correct Answer: A

Candidate Answer: A

QID : 15 - Arrange the given words in the sequence in which they occur in the dictionary.

- i. Shortage
- ii. Shore
- iii. Shamelessly
- iv. Shadiness
- v. Shallow

निम्नलिखित शब्दों को शब्दकोश में आने वाले क्रम के अनुसार लिखें।

- i. Shortage
- ii. Shore
- iii. Shamelessly
- iv. Shadiness
- v. Shallow

Options:

- 1) iii, iv, v, ii, i
- 2) iv, iii, i, ii, v
- 3) iv, v, iii, ii, i
- 4) iii, iv, ii, i, v

Correct Answer: iv, v, iii, ii, i

Candidate Answer: iv, v, iii, ii, i

QID : 16 - In a certain code language, "SPARROW" is written as "1326654", and "RING" is written as "6978". How is "RAINS" written in that code language?

किसी विशिष्ट कोड भाषा में, "SPARROW" को "1326654" लिखा जाता है और "RING" को "6978" लिखा जाता है। इस कोड भाषा में "RAINS" को किस प्रकार लिखा जाएगा?

Options:

- 1) 62971
- 2) 62972
- 3) 62917
- 4) 62977

Correct Answer: 62971

Candidate Answer: 62971

QID : 17 -

In the following question, select the missing number from the given series.

निम्नलिखित प्रश्न में दिए गए विकल्पों में से लुप्त अंक ज्ञात कीजिए।

36	44	32
72	88	64
54	66	?

Options:

1) 44

2) 48

3) 50

4) 64

Correct Answer: 48

Candidate Answer: 48

QID : 18 - Which of the following interchanges in signs will make the given equation correct?

$$17 - 15 \times 5 = 250$$

चिन्हों में निम्न में से कौन सा अंतर्विनियम दिए गए समीकरण को सही बना देगा?

$$17 - 15 \times 5 = 250$$

Options:

1) = and \times
= और \times

2) + and -
+ और -

3) = and -
= और -

4) \times and -
 \times और -

Correct Answer: \times and -
 \times और -

Candidate Answer: \times and -
 \times और -

QID : 19 - In the following question, which one set of letters when sequentially placed at the gaps in the given letter series shall complete it?

_k_m_kl_jk_m

निम्नलिखित प्रश्न में अक्षरों का कौन सा समूह खाली स्थानों पर क्रमवार रखने से दी गई अक्षर श्रृंखला को पूरा करेगा?

_k_m_kl_jk_m

Options:

1) jljml

2) jljml

3) jllmj

4) jllmm

Correct Answer: jljml

Candidate Answer: jljml

QID : 20 - Rahul leaves his home and walks 5 km towards east, turns in the south-east direction and walks for 10km, then he turns north-east and moves 10 km. Again, he moves towards the north for 10km. In which direction is he now from starting point?

राहुल घर से निकल कर 5 कि.मी. पूर्व की ओर चलता है, फिर वह दक्षिण-पूर्व की ओर मुड़कर 10 कि.मी. चलता है, फिर वह उत्तर-पूर्व की ओर मुड़कर 10 कि.मी. चलता है। यहाँ से फिर वह उत्तर की ओर 10 कि.मी. चलता है। वह अपने आरंभिक बिंदु से किस दिशा में है?

Options:

1) West
पश्चिम

2) East
पूर्व

3) North-east
उत्तर-पूर्व

4) North-west
उत्तर-पश्चिम

Correct Answer: North-east

उत्तर-पूर्व

Candidate Answer: East

पूर्व

KnowledgePhilic.com

UPSC – SSC – Bank – Railway – LIC – FCI – DMRC

QID : 21 -

A word is represented by only one set of numbers as given in any one of the alternatives. The sets of numbers given in the alternatives are represented by two classes of alphabets as shown in the given two matrices. The columns and rows of Matrix-I are numbered from 0 to 4 and that of Matrix-II are numbered from 5 to 9. A letter from these matrices can be represented first by its row and next by its column, for example, 'J' can be represented by 20, 58 etc. and 'A' can be represented by 12, 69 etc. Similarly, you have to identify the set for the word 'ANIMAL'.

एक शब्द केवल एक संख्या-समूह द्वारा दर्शाया गया है, जैसा कि विकल्पों में से किसी एक में दिया गया है। विकल्पों में दिए गए संख्या-समूह अक्षरों के दो वर्गों द्वारा दर्शाए गए हैं, जैसा कि दिए गए दो आव्यूहों में है। आव्यूह-I के स्तम्भ और पंक्ति की संख्या 0 से 4 और आव्यूह-II की 5 से 9 है। इन आव्यूहों से एक अक्षर को पहले उसकी पंक्ति और बाद में स्तम्भ संख्या द्वारा दर्शाया जा सकता है। उदाहरण के लिए 'J' को 58, 20 आदि द्वारा दर्शाया जा सकता है तथा 'A' को 69, 12 आदि द्वारा दर्शाया जा सकता है। इसी तरह से आपको प्रश्न में दिए शब्द 'ANIMAL' के लिए समूह को पहचानना है।

Matrix-I
आव्यूह - I

	0	1	2	3	4
0	Y	L	U	A	C
1	K	S	A	O	L
2	J	L	N	L	T
3	V	C	E	F	U
4	D	K	D	U	A

Matrix-II
आव्यूह - II

	5	6	7	8	9
5	Q	M	O	Y	S
6	F	O	D	L	A
7	N	H	I	O	R
8	J	N	G	Q	O
9	O	R	T	H	I

Options:

- 1) 69,22,99,56,23,03
- 2) 69,22,99,56,03,23
- 3) 69,22,98,56,03,23
- 4) 69,22,99,65,03,23

Correct Answer: 69,22,99,56,03,23

Candidate Answer: 69,22,99,56,03,23

QID : 22 - Introducing a boy a Ankit said, "He is the son of daughter of my grandfather's son". How is that boy related to Ankit?

एक लड़के का परिचय कराते हुए अंकित कहता है कि, " वह मेरे दादा के बेटे की बेटी का बेटा है।" तो वह लड़का अंकित से कैसे संबंधित है?

Options:

- 1) Cousin
चचेराभाई
- 2) Brother
भाई
- 3) Father-in-law
ससुर
- 4) Nephew
भांजा

Correct Answer: Nephew

भांजा

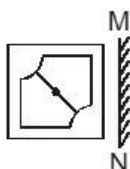
Candidate Answer: Nephew

भांजा

QID : 23 -

If a mirror is placed on the line MN, then which of the answer figures is the right image of the given figure?

यदि एक दर्पण को MN रेखा पर रखा जाए, तो दी गई उत्तर आकृतियों में से कौन सी आकृति प्रश्न आकृति की सही प्रतिबिम्ब होगी?

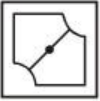


Options:

1)



2)



3)



4)



Correct Answer:



Candidate Answer:



QID : 24 - Identify the diagram that best represents the relationship among the given classes.

Sweets, Sugar, Salt, Jaggery

वह आरेख चुनिए जो नीचे दिए गए वर्गों के बीच के संबंध का सही निरूपण करता है।

मिठाइयाँ, चीनी, नमक, गुड़

Options:

1)



2)



3)



4)



Correct Answer:



Candidate Answer:

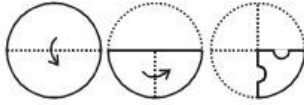


UPSC – SSC – Bank – Railway – LIC – FCI – DMRC

QID : 25 -

A piece of paper is folded and punched as shown in the below question figures. From the given answer figures, indicate how it will appear when opened.

नीचे दी गयी प्रश्न आकृतियों में दिखाए अनुसार कागज को मोड़कर छेदने तथा खोलने के बाद वह किस उत्तर आकृति जैसा दिखाई देगा?

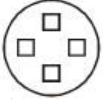


Options:

1)



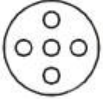
2)



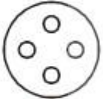
3)



4)



Correct Answer:



Candidate Answer:



KnowledgePhilic.com

UPSC – SSC – Bank – Railway – LIC – FCI – DMRC

QID : 26 - _____ is a drug or substance that makes you feel relaxed and makes your body work and react more slowly.

_____ एक दवा या पदार्थ है, जिससे आपको आराम महसूस होता है और वह आपके शरीर के कार्य और प्रतिक्रिया को धीमे करती है।

Options:

1) Antidote

एंटीडोट

2) Analgesic

एनल्जेसिक

3) Antihistamine

एंटीहिस्टामाइन

4) Depressant

डिप्रेसेंट

Correct Answer: Depressant

डिप्रेसेंट

Candidate Answer: [NOT ANSWERED]

QID : 27 - Carica papaya is the scientific name of _____.

केरिका पपाया _____ का वैज्ञानिक नाम है।

Options:

1) Peepal

पीपल

2) Papaya

पपीता

3) Tamarind

इमली

4) Drumstick

ढोल का छड़ी

Correct Answer: Papaya

पपीता

Candidate Answer: Papaya

पपीता

QID : 28 - Muscles get tired when there is shortfall of _____.

जब _____ की कमी होती है, तब पेशियाँ थक जाती हैं।

Options:

- 1) Lactic acid
लैक्टिक अम्ल
- 2) Na⁺ ions
Na⁺ आयन
- 3) ATP
एटीपी
- 4) Sulphates
सल्फेट्स

Correct Answer: ATP
एटीपी

Candidate Answer: [NOT ANSWERED]

QID : 29 - The Chemical formula of Ammonium nitrate is _____.

अमोनियम नाइट्रेट का रासायनिक सूत्र _____ है।

Options:

- 1) (NH₂)₂NO₃
- 2) NH₄NO₃
- 3) NH₄(NO₃)₂
- 4) NH₂NO₃

Correct Answer: NH₄NO₃

Candidate Answer: [NOT ANSWERED]

QID : 30 - Which of the following elements has the lowest melting point?

निम्नलिखित तत्वों में से किसका सबसे कम गलनांक है?

Options:

- 1) Xenon
जेनॉन
- 2) Iodine
आयोडीन
- 3) Barium
बेरियम
- 4) Magnesium
मैग्नेशियम

Correct Answer: Xenon
जेनॉन

Candidate Answer: Barium
बेरियम

QID : 31 - Choose odd one out

इनमें से विषम का चयन करें

Options:

- 1) Cyberspace
सायबरस्पेस
- 2) Internet
इंटरनेट
- 3) HTML
एचटीएमएल
- 4) WWW
डब्ल्यू डब्ल्यू डब्ल्यू

Correct Answer: HTML
एचटीएमएल

Candidate Answer: HTML
एचटीएमएल

QID : 32 - Which of these is not an Indian Musical Instrument?

इनमें से कौन सा एक भारतीय संगीत वाद्ययंत्र नहीं है?

Options:

- 1) Sitar
सितार
- 2) Bansuri
बाँसुरी
- 3) Madal
मदाल
- 4) Tanpura
तानपुरा

Correct Answer: Madal
मदाल

Candidate Answer: Madal
मदाल

QID : 33 - If price of an article decreases from Rs 240 to Rs 220, when quantity demanded increases from 200 units to 210 units. Find point elasticity of demand?

यदि एक वस्तु की मात्रा माँग 200 इकाईयों से बढ़कर 210 इकाईयों तक पहुँचने पर उसकी कीमत 240 रु से घटकर 220 रु हो जाती है, तो माँग का लोच बिंदु निकालें?

Options:

1) 0.6

2) -1.8

3) -0.6

4) 1.8

Correct Answer: -0.6

Candidate Answer: [NOT ANSWERED]

QID : 34 - Match the characteristics with their market structure:

- (a) Firm has control over quantity of output but it must take into account reactions of competitors.
b) Firm will tend to set output so that it earns maximum profits.

बाजार की संरचना के साथ उनकी विशेषताओं का मेल करें:

(क) फर्म का उत्पादन की मात्रा पर नियंत्रण है, लेकिन उसने प्रतियोगियों की प्रतिक्रियाओं को ध्यान में रखना चाहिए।

(ख) फर्म का रूढ़ान उत्पादन को निर्धारित करना होगा ताकि वह अधिकतम मुनाफा कमा सके।

Options:

1) (a) Oligopoly, (b) Pure competition

(क) अल्पाधिकार, (ख) शुद्ध प्रतियोगिता

2) (a) Monopolistic competition, (b) Oligopoly

(क) एकाधिकार प्रतिस्पर्धा, (ख) अल्पाधिकार

3) (a) Pure Monopoly, (b) Pure competition

(क) शुद्ध एकाधिकार, (ख) शुद्ध प्रतियोगिता

4) (a) Oligopoly, (b) Pure Monopoly

(क) अल्पाधिकार, (ख) शुद्ध एकाधिकार

Correct Answer: (a) Oligopoly, (b) Pure Monopoly

(क) अल्पाधिकार, (ख) शुद्ध एकाधिकार

Candidate Answer: [NOT ANSWERED]

QID : 35 - People in all the following countries had to be resettled after the 1986 Chernobyl nuclear disaster, except

इनमें से किस देश को छोड़कर बाकी सभी देशों के लोगों को वर्ष 1986 के चेर्नोबिल न्यूक्लियर आपदा के पश्चात् पुनर्वास करना पड़ा?

Options:

1) Kazakhstan

कजाखस्तान

2) Belarus

बेलारूस

3) Russia

रूस

4) Ukraine

युक्रेन

Correct Answer: Kazakhstan

कजाखस्तान

Candidate Answer: [NOT ANSWERED]

QID : 36 - The outermost layer of the earth's atmosphere is _____.

पृथ्वी के वायुमंडल की सबसे बाहरी परत _____ कहलाती है।

Options:

1) stratosphere

स्ट्रेटोस्फीयर

2) troposphere

ट्रोपोस्फीयर

3) mesosphere

मिज़ोस्फीयर

4) exosphere

एक्जोस्फीयर

Correct Answer: exosphere

एक्जोस्फीयर

Candidate Answer: exosphere

एक्जोस्फीयर

QID : 37 - _____ is the first Indian company to list on NASDAQ.

नेस्डेक में सूचीबद्ध होने वाली प्रथम भारतीय कंपनी _____ है।

Options:

1) Industries Limited

रिलायंस इंडस्ट्रीज

2) Infosys

इंफोसिस

3) TCS

टीसीएस

4) Bharti Airtel

भारती एयरटेल

Correct Answer: Infosys

इंफोसिस

Candidate Answer: [NOT ANSWERED]

QID : 38 - Which city is located on the banks of the river Narmada?

नर्मदा नदी के तट पर कौन सा शहर स्थित है?

Options:

- 1) Bharuch
भरूच
- 2) Bhopal
भोपाल
- 3) Nagpur
नागपुर
- 4) Kota
कोटा

Correct Answer: Bharuch
भरूच

Candidate Answer: Bhopal
भोपाल

QID : 39 - Which of these countries got Independence from United Kingdom?

इन देशों में से किसे यूनाइटेड किंगडम से आजादी मिली?

Options:

- 1) Uzbekistan
उज्बेकिस्तान
- 2) Pakistan
पाकिस्तान
- 3) Venezuela
वेनेजुएला
- 4) South Korea
दक्षिण कोरिया

Correct Answer: Pakistan
पाकिस्तान

Candidate Answer: [NOT ANSWERED]

QID : 40 - Aurangzeb, the Mughal Emperor died in?

औरंगजेब, जो एक मुगल सम्राट था, का निधन किस सन् में हुआ?

Options:

- 1) 1507
- 2) 1607
- 3) 1707
- 4) 1807

Correct Answer: 1707

Candidate Answer: 1707

QID : 41 - Who Invented Induction Coil?

प्रेरण कुंडली का आविष्कार किसने किया?

Options:

- 1) Edwin Howard Armstrong
एडविन हावर्ड आर्मस्ट्रॉंग
- 2) John Barber
जॉन बार्बर
- 3) Edwin Beard Budding
एडविन बियर्ड बडिंग
- 4) Nicholas Callan
निकोलस कालन

Correct Answer: Nicholas Callan
निकोलस कालन

Candidate Answer: [NOT ANSWERED]

QID : 42 - Find the power of a convex lens if the image formed is at a distance of 16 cm from the lens when the object is placed on the other side of the lens at 20 cm from the optical centre?

एक उत्तल लेंस की शक्ति का पता लगाएं, यदि प्रतिबिंब लेंस से 16 से.मी. की दूरी पर बनता है, जब वस्तु को लेंस के दूसरे पक्ष पर ऑप्टिकल केंद्र से 20 से.मी. की दूरी पर रखा गया है?

Options:

- 1) -3.75 diopters
-3.75 डायोप्टर
- 2) -11.25 diopters
-11.25 डायोप्टर
- 3) 3.75 diopters
3.75 डायोप्टर
- 4) 11.25 diopters
11.25 डायोप्टर

Correct Answer: 11.25 diopters
11.25 डायोप्टर

Candidate Answer: [NOT ANSWERED]

QID : 43 - What is the unit of the physical quantity "Inductance"?

भौतिक मात्रा "प्रेरकत्व" की इकाई क्या है?

Options:

- 1) weber
वेबर
- 2) farad
फैरेड
- 3) henry
हेनरी
- 4) tesla
टेस्ला

Correct Answer: henry
हेनरी

Candidate Answer: farad
फैरेड

QID : 44 - In which form of government priests rule in the name of God?

किस प्रकार की सरकार में ईश्वर के नाम पर पुजारी शासन करते हैं?

Options:

- 1) Fascism
फासिस्टवाद
- 2) Monarchy
राज-तंत्र
- 3) Theocracy
धर्मतन्त्र
- 4) Oligarchy
अल्पजनाधिपत्य

Correct Answer: Theocracy
धर्मतन्त्र

Candidate Answer: Theocracy
धर्मतन्त्र

QID : 45 - Who was the first temporary chairman of the Constituent Assembly?

संविधान सभा के पहले अस्थायी अध्यक्ष कौन थे?

Options:

- 1) B R Ambedkar
बी आर अंबेडकर
- 2) Jawahar Lal Nehru
जवाहरलाल नेहरू
- 3) Rajendra Prasad
राजेन्द्रप्रसाद
- 4) Dr. Sachchidananda Sinha
डॉ. सच्चिदानंद सिन्हा

Correct Answer: Dr. Sachchidananda Sinha
डॉ. सच्चिदानंद सिन्हा

Candidate Answer: Dr. Sachchidananda Sinha
डॉ. सच्चिदानंद सिन्हा

QID : 46 - Who won the first T-20 Cricket World Cup?

पहला टी-20 क्रिकेट विश्व कप को किसने जीता?

Options:

- 1) West Indies
वेस्ट इंडीज
- 2) India
भारत
- 3) Australia
ऑस्ट्रेलिया
- 4) New Zealand
न्यूजीलैंड

Correct Answer: India
भारत

Candidate Answer: India
भारत

QID : 47 - Who is the author of "Chokher Bali"?

"चोखेर बाली" के लेखक कौन हैं?

Options:

- 1) Rabindranath Tagore
रवीन्द्रनाथ टैगोर
- 2) Jhumpa Lahiri
झुंपा लाहिड़ी
- 3) Amish Tripathi
अमीष त्रिपाठी
- 4) Chetan Bhagat
चेतन भगत

Correct Answer: Rabindranath Tagore
रवीन्द्रनाथ टैगोर

Candidate Answer: [NOT ANSWERED]

QID : 48 - Shiva cave is located in _____.

शिव गुफा कहाँ स्थित है?

Options:

- 1) Ajanta Caves
अजंता गुफाएँ
- 2) Ellora Caves
एलोरा गुफाएँ
- 3) Elephanta Caves
एलिफंटा गुफाएँ
- 4) Badami Caves
बादामी गुफाएँ

Correct Answer: Elephanta Caves
एलिफंटा गुफाएँ

Candidate Answer: Ellora Caves
एलोरा गुफाएँ

QID : 49 - Vikas Khanna is an award winning _____ starred Indian chef.

विकास खन्ना एक _____ पुरस्कार विजेता भारतीय शेफ हैं।

Options:

- 1) Apollo
अपोलो
- 2) Michelin
मिशेलीन
- 3) Goodyear
गुडईयर
- 4) Viking
वाइकिंग

Correct Answer: Michelin
मिशेलीन

Candidate Answer: [NOT ANSWERED]

QID : 50 - Triton is the moon of which planet?

ट्राइटन किस ग्रह का उपग्रह है?

Options:

- 1) Neptune
नेपच्यून
- 2) Uranus
युरेनस
- 3) Saturn
शनि
- 4) Venus
शुक्र

Correct Answer: Neptune
नेपच्यून

Candidate Answer: [NOT ANSWERED]

QID : 51 - Which of the following is correct?

निम्न में से कौन सा सही है?

Options:

- 1) $(4x - 5y)^2 = 16x^2 - 20xy + 25y^2$
- 2) $(4x - 5y)^2 = 16x^2 + 40xy - 25y^2$
- 3) $(4x - 5y)^2 = 16x^2 - 40xy + 25y^2$
- 4) $(4x - 5y)^2 = 16x^2 - 20xy - 25y^2$

Correct Answer: $(4x - 5y)^2 = 16x^2 - 40xy + 25y^2$

Candidate Answer: $(4x - 5y)^2 = 16x^2 - 20xy + 25y^2$

QID : 52 - If the radius of a circle is increased by 15% its area increases by _____.

यदि एक वृत्ताकार की त्रिज्या में 15% की वृद्धि की जाती है, तो उसका क्षेत्रफल _____ से बढ़ जाएगा।

Options:

- 1) 30 percent
30 प्रतिशत
- 2) 32.25 percent
32.25 प्रतिशत
- 3) 15 percent
15 प्रतिशत
- 4) 16.125 percent
16.125 प्रतिशत

Correct Answer: 32.25 percent
32.25 प्रतिशत

Candidate Answer: 32.25 percent
32.25 प्रतिशत

KnowledgePhilic.com

UPSC – SSC – Bank – Railway – LIC – FCI – DMRC

QID : 53 - Ticket for an adult is Rs 1600 and a child is Rs 600. 1 child goes free with two adults. If a group has 17 adults and 7 children what is the discount the group gets?

एक वयस्क के टिकट का मूल्य 1600 रु है और एक बच्चे के टिकट का मूल्य 600 रु है। दो वयस्कों के साथ 1 बच्चा निःशुल्क जा सकता है। यदि एक समूह में 17 वयस्क और 7 बच्चे हैं, तो उस समूह को कितनी छूट मिलेगी?

Options:

- 1) 13.37 percent
13.37 प्रतिशत
- 2) 26.02 percent
26.02 प्रतिशत
- 3) 24.41 percent
24.41 प्रतिशत
- 4) 32.2 percent
32.2 प्रतिशत

Correct Answer: 13.37 percent
13.37 प्रतिशत

Candidate Answer: [NOT ANSWERED]

QID : 54 - When 0.090909.....is converted into a fraction, then the result is

जब 0.090909 को भिन्न में बदला जाए, तो परिणाम क्या होगा?

Options:

- 1) 1/33
- 2) 1/11
- 3) 2/33
- 4) 6/11

Correct Answer: 1/11

Candidate Answer: [NOT ANSWERED]

QID : 55 - The bus fare between two cities is increased in the ratio 5:11. Find the increase in the fare, if the original fare is Rs. 275.

दो शहरों के बीच का बस का भाड़ा 5:11 के अनुपात में बढ़ाया गया है। भाड़े में हुई वृद्धि का पता लगाएं, यदि मूल भाड़ा 275 रु है।

Options:

- 1) Rs 605
605 रु
- 2) Rs 121
121 रु
- 3) Rs 330
330 रु
- 4) Rs 242
242 रु

Correct Answer: Rs 330
330 रु

Candidate Answer: Rs 605
605 रु

KnowledgePhilic.com

UPSC – SSC – Bank – Railway – LIC – FCI – DMRC

QID : 56 - The difference between simple and compound interests compounded annually on a certain sum of money for 2 years at 9% per annum is Rs 405. The sum is _____ .

एक निश्चित राशि पर 2 वर्षों के लिए 9% वार्षिक दर से वार्षिक रूप से संयोजित होने वाले साधारण ब्याज और चक्रवृद्धि ब्याज में अंतर 405 रु है। राशि कितनी है?

Options:

- 1) Rs 50000
50000 रु
- 2) Rs 100000
100000 रु
- 3) Rs 200000
200000 रु
- 4) Rs 150000
150000 रु

Correct Answer: Rs 50000
50000 रु

Candidate Answer: [NOT ANSWERED]

QID : 57 - Which of the following quadratic equations has real roots?

निम्नलिखित द्विघात समीकरणों में से किसके वास्तविक मूल हैं?

Options:

- 1) $4x^2 - 7x + 5 = 0$
- 2) $5x^2 - 11x + 7 = 0$
- 3) $5x^2 - 11x + 8 = 0$
- 4) $2x^2 - 7x + 5 = 0$

Correct Answer: $2x^2 - 7x + 5 = 0$

Candidate Answer: $2x^2 - 7x + 5 = 0$

QID : 58 - If $5x + 5 > 2 + 2x$ and $5x + 3 \leq 4x + 5$; then x can take which of the following values?

यदि $5x + 5 > 2 + 2x$ और $5x + 3 \leq 4x + 5$; फिर x का मान क्या है?

Options:

1) 3

2) -2

3) -3

4) 1

Correct Answer: 1

Candidate Answer: -2

QID : 59 - The 4th term of an arithmetic progression is 15, 15th term is -29, find the 10th term?

एक समांतर श्रेणी का चौथा पद 15 है, पंद्रहवां पद -29 है, दसवें पद का पता लगाएँ?

Options:

1) -5

2) -13

3) -17

4) -9

Correct Answer: -9

Candidate Answer: [NOT ANSWERED]

QID : 60 - In what ratio is the segment joining (-1,-12) and (3,4) divided by the x-axis?

बिंदु (-1,-12) और (3,4) के बीच का रेखाखंड x-अक्ष से किस अनुपात में विभाजित होता है?

Options:

1) 1:3

2) 3:2

3) 3:1

4) 2:3

Correct Answer: 3:1

Candidate Answer: [NOT ANSWERED]

QID : 61 - A can do a work in 20 days and B in 50 days. If they work on it together for 5 days, then what fraction of work is left?

A एक काम 20 दिन में और B 50 दिन में करता है। यदि वे दोनों 5 दिन साथ मिलकर काम करें, तो काम का कितना भाग बाकी रह जायेगा?

Options:

1) 13/20

2) 1/3

3) 1/6

4) 2/9

Correct Answer: 13/20

Candidate Answer: 13/20

QID : 62 - At what point does the line $4x - 3y = -6$ intercept the y-axis?

रेखा $4x - 3y = -6$, y-अक्ष को किस बिंदु पर काटती है?

Options:

1) (0,2)

2) (0,3/2)

3) (2,0)

4) (3/2,0)

Correct Answer: (0,2)

Candidate Answer: [NOT ANSWERED]

QID : 63 - In $\triangle DEF$, G and H are points on side DE and DF respectively. GH is parallel to EF. If G divides DE in the ratio 1:3 and HF is 7.2 cm, find length of DF?

$\triangle DEF$ में, G और H क्रमशः भुजा DE और DF पर स्थित बिंदु हैं। GH, FE के समानांतर है। यदि G, DE को 1:3 के अनुपात में विभाजित करता है और HF 7.2 से.मी. है, तो DF की लंबाई ज्ञात करें।

Options:

1) 2.4 cm

2.4 से.मी.

2) 4.8 cm

4.8 से.मी.

3) 3.6 cm

3.6 से.मी.

4) 9.6 cm

9.6 से.मी.

Correct Answer: 9.6 cm

9.6 से.मी.

Candidate Answer: 9.6 cm

9.6 से.मी.

QID : 64 - The mean of marks secured by 65 students in division A of class X is 54, 30 students of division B is 50 and that of 55 students of division C is 48. Find the mean of marks of the students of three divisions of Class X.

दसवीं कक्षा के डिवीजन A में 65 छात्रों द्वारा प्राप्त किये गये अंकों का औसत 54 है, डिवीजन B के 30 छात्रों के अंकों का औसत 50 है और डिवीजन C के 55 छात्रों के अंकों का औसत 48 है। दसवीं कक्षा के तीनों डिवीजन के छात्रों के अंकों का औसत ज्ञात करें।

Options:

1) 50.3

2) 49.6

3) 51

4) 52.4

Correct Answer: 51

Candidate Answer: [NOT ANSWERED]

QID : 65 - In a triangle the length of the side opposite the right angle is $9\sqrt{3}$ cm, what is the length of the side opposite to the angle which measures 30 degree?

एक त्रिकोण में सम कोण के विपरीत भुजा की लंबाई $9\sqrt{3}$ से.मी. है, उस कोण के विपरीत वाली भुजा की लंबाई क्या है जिसका माप 30 डिग्री है?

Options:

1) 9 cm

9 से.मी.

2) $3\sqrt{3}$ cm

$3\sqrt{3}$ से.मी.

3) 6 cm

6 से.मी.

4) $(9\sqrt{3})/2$ cm

$(9\sqrt{3})/2$ से.मी.

Correct Answer: $(9\sqrt{3})/2$ cm

$(9\sqrt{3})/2$ से.मी.

Candidate Answer: [NOT ANSWERED]

QID : 66 - Two cars travel from city A to city B at a speed of 30 and 44 km/hr respectively. If one car takes 3.5 hours lesser time than the other car for the journey, then the distance between City A and City B is

दो कारें क्रमशः 30 और 44 कि.मी./घंटा की गति से शहर A से शहर B तक यात्रा करती हैं। एक कार यात्रा के लिए दूसरी कार की तुलना में 3.5 घंटा कम समय लेती है, तो शहर A से शहर B के बीच की दूरी कितनी होगी?

Options:

1) 330 km

330 कि.मी.

2) 396 km

396 कि.मी.

3) 495 km

495 कि.मी.

4) 264 km

264 कि.मी.

Correct Answer: 330 km

330 कि.मी.

Candidate Answer: [NOT ANSWERED]

QID : 67 - Rajeev sells a machine for Rs 55 lakhs at a loss. Had he sold it for Rs 67 lakh, his gain would have been 5 times the former loss. Find the cost price of the machine.

राजीव एक मशीन 55 लाख रु में घाटे में बेचता है। यदि उसने उसे 67 लाख रु में बेचा होता, तो उसका लाभ उसके पूर्व घाटे का 5 गुना होता। मशीन का क्रय मूल्य _____ है।

Options:

1) Rs 65 lakhs

65 लाख रु

2) Rs 57 lakhs

57 लाख रु

3) Rs 78 lakhs

78 लाख रु

4) Rs 49 lakhs

49 लाख रु

Correct Answer: Rs 57 lakhs

57 लाख रु

Candidate Answer: Rs 57 lakhs

57 लाख रु

QID : 68 - Curved surface area of a cylinder is 528 sq cm. If circumference of its base is 44 cm, find the height of the cylinder?

किसी बेलनाकार वस्तु के वक्र सतह का क्षेत्रफल 528 वर्ग से.मी. है। यदि इसके आधार की परिधि 44 से.मी. है, तो उस वस्तु की ऊंचाई ज्ञात करें।

Options:

1) 12 cm

12 से.मी.

2) 24 cm

24 से.मी.

3) 36 cm

36 से.मी.

4) 6 cm

6 से.मी.

Correct Answer: 12 cm

12 से.मी.

Candidate Answer: 12 cm

12 से.मी.

QID : 69 - What is the value of $\sin 5\pi/3$?

$\sin 5\pi/3$ का मान क्या है?

Options:

- 1) $\sqrt{3}/2$
- 2) $2/\sqrt{3}$
- 3) $1/\sqrt{3}$
- 4) $-2/\sqrt{3}$

Correct Answer: $\sqrt{3}/2$

Candidate Answer: $-2/\sqrt{3}$

QID : 70 - $\cos^3 A$ is equal to

$\cos^3 A$ किसके बराबर है?

Options:

- 1) $\cos 3A - 3\sin^2 \cos A$
- 2) $\cos 3A + 4\sin^2 \cos A$
- 3) $\cos 3A + 3\sin^2 \cos A$
- 4) $\cos 3A - 4\sin^2 \cos A$

Correct Answer: $\cos 3A + 3\sin^2 \cos A$

Candidate Answer: $\cos 3A - 4\sin^2 \cos A$

QID : 71 - $2 \sec^2 A$ is equal to

$2 \sec^2 A$ किसके बराबर है?

Options:

- 1) $(1 - \tan A)^2 - (1 + \tan A)^2$
- 2) $\sqrt{[(1 - \tan A)^2 + (1 + \tan A)^2]}$
- 3) $\sqrt{[(1 - \tan A)^2 - (1 + \tan A)^2]}$
- 4) $(1 - \tan A)^2 + (1 + \tan A)^2$

Correct Answer: $(1 - \tan A)^2 + (1 + \tan A)^2$

Candidate Answer: [NOT ANSWERED]

QID : 72 -

Refer the below data table and answer the following Question.

नीचे दिये गए डेटा तालिका के आधार पर निम्नलिखित प्रश्न का उत्तर दें।

	Weight (kg) वजन (किलोग्राम)	Height in meter ऊँचाई (मीटर)
Anita / अनीता	56	1.71
Anjali / अंजलि	64	1.52
Anjalika / अन्जलिका	51	1.72
Anjana / अंजना	52	1.59

Who has the least weight to height ratio?

वजन और ऊँचाई का अनुपात किसका सबसे कम है?

Options:

- 1) Anita
अनीता
- 2) Anjali
अंजलि
- 3) Anjalika
अन्जलिका
- 4) Anjana
अंजना

Correct Answer: Anjalika
अन्जलिका

Candidate Answer: Anjana
अंजना

QID : 73 -

Refer the below data table and answer the following Question.

नीचे दिये गए डेटा तालिका के आधार पर निम्नलिखित प्रश्न का उत्तर दें।

Year वर्ष	Company's % Profit कंपनी का लाभ %
2011	5
2012	10
2013	20
2014	25
2015	15

What was the Revenue of the company if its Expenditure was Rs 450 crore in the year when its % profit was the least?

यदि एक कंपनी का व्यय उस वर्ष में 450 करोड़ रूपए था जिसमें उसका लाभ % सबसे कम था, तो कंपनी का राजस्व कितना था?

Options:

1) 472.5

2) 495

3) 517.5

4) 450

Correct Answer: 472.5

Candidate Answer: 450

QID : 74 -

The following table shows the number of children in each house of a society.

निम्न तालिका एक समाज के प्रत्येक घर में बच्चों की संख्या दर्शाती है।

Number of Children बच्चों की संख्या	Number of Houses घरों की संख्या
0	7
1	9
2	20
3	3

What is the average number of children per house?

प्रत्येक घर में बच्चों की औसत संख्या क्या है?

Options:

1) 1.74

2) 1.99

3) 1.24

4) 1.49

Correct Answer: 1.49

Candidate Answer: 1.49

QID : 75 -

Refer the below data table and answer the following Question.

नीचे दिये गए डेटा तालिका के आधार पर निम्नलिखित प्रश्न का उत्तर दें।

Partners भागीदार	Present % share वर्तमान % हिस्सा
Anand / आनंद	5
Basu / बसु	10
Chinmay / चिन्मय	30
Dhiraj / धीरज	5
Ejaz / एजाज	50

If the company has issued six lakh shares between its five partners and if Basu offers to sell 15,000 of his shares to Ejaz, then Ejaz will have how many shares?

यदि एक कंपनी ने अपने पांच भागीदारों के बीच छः लाख शेयर जारी किए हैं और अगर बसु एजाज को अपने शेयरों में से 15,000 बेचने का प्रस्ताव करता है, तो एजाज के पास कितने शेयर होंगे?

Options:

- 1) 300000 shares
300000 शेयर
- 2) 315000 shares
315000 शेयर
- 3) 330000 shares
330000 शेयर
- 4) 285000 shares
285,000 शेयर

Correct Answer: 315000 shares
315000 शेयर

Candidate Answer: [NOT ANSWERED]

QID : 76 - In the following question, the sentence given with blank to be filled in with an appropriate word. Select the correct alternative out of the four and indicate it by selecting the appropriate option.

The recession is going to cause _____ times for families who are already struggling to pay their bills.

Options:

- 1) furious
- 2) agitated
- 3) turbulent
- 4) wild

Correct Answer: turbulent

Candidate Answer: [NOT ANSWERED]

QID : 77 - In the following question, a sentence has been given in Direct/Indirect speech. Out of the four alternatives suggested, select the one, which best express the same sentence in Indirect/Direct speech.

Mother said, "Lie down, Arjun."

Options:

- 1) Mother told lie down Arjun.
- 2) Mother told Arjun for lying down.
- 3) Mother asked Arjun to lie down.
- 4) Mother asked Arjun to be lied down.

Correct Answer: Mother asked Arjun to lie down.

Candidate Answer: [NOT ANSWERED]

QID : 78 - In the following question, out of the four alternatives, select the alternative which best expresses the meaning of the idiom/phrase.

ethnic cleansing

Options:

- 1) a social revolution where negative aspects of a culture are removed
- 2) to perform mass religious conversions
- 3) the mass killing of members of one ethnic group
- 4) removal of all signs of culture from a society

Correct Answer: the mass killing of members of one ethnic group

Candidate Answer: [NOT ANSWERED]

QID : 79 - Improve the bracketed part of the sentence.

I don't want an award (for help to you).

Options:

- 1) to have helped you
- 2) for helping you
- 3) for helping to you
- 4) no improvement

Correct Answer: for helping you

Candidate Answer: [NOT ANSWERED]

QID : 80 - In the following question, out of the four alternatives, select the alternative which is the best substitute of the phrase.

Very rude or coarse; vulgar.

Options:

- 1) gross
- 2) adipose
- 3) porcine
- 4) corpulent

Correct Answer: gross

Candidate Answer: [NOT ANSWERED]

QID : 81 - In the following question, out of the four alternatives, select the alternative which is the best substitute of the phrase.

To stop doing something; cease or abstain.

Options:

- 1) to endure
- 2) to desist
- 3) to persevere
- 4) to dismay

Correct Answer: to desist

Candidate Answer: [NOT ANSWERED]

QID : 82 - In the following question, some part of the sentence may have errors. Find out which part of the sentence has an error and select the appropriate option. If a sentence is free from error, select 'No Error'.

I have sign over(A)/the cheque, you can(B)/collect it tomorrow.(C)/No error(D)

Options:

- 1) A
- 2) B
- 3) C
- 4) D

Correct Answer: A

Candidate Answer: [NOT ANSWERED]

QID : 83 - In the following question, out of the four alternatives, select the alternative which best expresses the meaning of the idiom/phrase.

every cloud has a silver lining

Options:

- 1) no bad situation is permanent
- 2) if one wants rain then one has to bear with dark clouds
- 3) every blessing comes with a hidden curse
- 4) every bad situation has some good aspects to it

Correct Answer: every bad situation has some good aspects to it

Candidate Answer: every bad situation has some good aspects to it

QID : 84 - Rearrange the parts of the sentence in correct order.

It is a crisis which

P-unless policymakers

Q-exercise some intelligence

R-will get even worse

Options:

- 1) RPQ
- 2) RQP
- 3) PQR
- 4) QPR

Correct Answer: RPQ

Candidate Answer: RQP

QID : 85 - Improve the bracketed part of the sentence.

Shouts of the crowd cheering the home team now **(stuff)** the air.

Options:

- 1) fill
- 2) occupy
- 3) infest
- 4) no improvement

Correct Answer: fill

Candidate Answer: infest

QID : 86 - Select the word with the correct spelling.

Options:

- 1) dementia
- 2) quaterain
- 3) necrosys
- 4) frenetec

Correct Answer: dementia

Candidate Answer: dementia

QID : 87 - Rearrange the parts of the sentence in correct order.

In Tamil nadu,
P-cows and bulls are worshipped and celebrated
Q-on Maattu Pongal,
R-and the finale is Jallikattu

Options:

- 1) QRP
- 2) QPR
- 3) PRQ
- 4) RPQ

Correct Answer: QPR

Candidate Answer: RPQ

QID : 88 - In the following question, a sentence has been given in Active/Passive voice. Out of four alternatives suggested, select the one, which best expresses the same sentence in Passive/Active voice.

The seawater eventually corroded the pillars of the bridge.

Options:

- 1) Eventually the pillars of the bridge are being corroded by the seawater.
- 2) Eventually the pillars of the bridge have been corroded by the seawater.
- 3) The pillars of the bridge were eventually corroded by the seawater.
- 4) The pillars of the bridge have been eventually corroded by the seawater.

Correct Answer: The pillars of the bridge were eventually corroded by the seawater.

Candidate Answer: [NOT ANSWERED]

QID : 89 - In the following question, sentence given with blank is to be filled in with an appropriate word. Select the correct alternative out of the four and indicate it by selecting the appropriate option.

On the trip, we needed a guide to _____ the foreign language for us.

Options:

- 1) describe
- 2) illustrate
- 3) mimic
- 4) interpret

Correct Answer: interpret

Candidate Answer: [NOT ANSWERED]

QID : 90 - Select the antonym of

to remand

Options:

- 1) to filibuster
- 2) to tarry
- 3) to expedite
- 4) to adjourn

Correct Answer: to expedite

Candidate Answer: [NOT ANSWERED]

QID : 91 - In the following question, some part of the sentence may have errors. Find out which part of the sentence has an error and select the appropriate option. If a sentence is free from error, select 'No Error'.

He told me the same(A)/story which he told(B)/you yesterday.(C)/No error(D)

Options:

- 1) A
- 2) B
- 3) C
- 4) D

Correct Answer: B

Candidate Answer: A

QID : 92 - Select the synonym of

proximal

Options:

- 1) frontier
- 2) obscure
- 3) remote
- 4) adjacent

Correct Answer: adjacent

Candidate Answer: obscure

QID : 93 - Select the antonym of

eternity

Options:

- 1) perpetuity
- 2) yonder
- 3) aeon
- 4) ephemeral

Correct Answer: ephemeral

Candidate Answer: perpetuity

QID : 94 - Select the synonym of

to alight

Options:

- 1) to escalate
- 2) to clamber
- 3) to disembark
- 4) to astride

Correct Answer: to disembark

Candidate Answer: [NOT ANSWERED]

QID : 95 - Select the word with the correct spelling.

Options:

- 1) prophesey
- 2) nihilism
- 3) aesthet
- 4) avulusion

Correct Answer: nihilism

Candidate Answer: [NOT ANSWERED]

QID : 96 - In the following passage, some of the words have been left out. Read the passage carefully and select the correct answer for the given blank out of the four alternatives.

The answer to the third question is _____ answered; State leaders _____ great willingness to play into the hands of the Central government, presumably for a price. _____ the process, representatives have forgotten the history of their own societies. But they fail to _____ that history cannot be disremembered, it constantly nudges us to recollect past struggles _____ injustice in these States.

The answer to the third question is _____ answered

Options:

- 1) easily
- 2) easy to
- 3) easy for
- 4) so easy

Correct Answer: easily

Candidate Answer: easily

QID : 97 - In the following passage, some of the words have been left out. Read the passage carefully and select the correct answer for the given blank out of the four alternatives.

The answer to the third question is _____ answered; State leaders _____ great willingness to play into the hands of the Central government, presumably for a price. _____ the process, representatives have forgotten the history of their own societies. But they fail to _____ that history cannot be disremembered, it constantly nudges us to recollect past struggles _____ injustice in these States.

State leaders _____ great willingness to play into the hands of the Central government

Options:

- 1) is showing
- 2) have shown
- 3) to show
- 4) have showed

Correct Answer: have shown

Candidate Answer: is showing

QID : 98 - In the following passage, some of the words have been left out. Read the passage carefully and select the correct answer for the given blank out of the four alternatives.

The answer to the third question is _____ answered; State leaders _____ great willingness to play into the hands of the Central government, presumably for a price. _____ the process, representatives have forgotten the history of their own societies. But they fail to _____ that history cannot be disremembered, it constantly nudges us to recollect past struggles _____ injustice in these States.

_____ the process, representatives have forgotten the history of their own societies.

Options:

- 1) As
- 2) So
- 3) Into
- 4) In

Correct Answer: In

Candidate Answer: In

QID : 99 - In the following passage, some of the words have been left out. Read the passage carefully and select the correct answer for the given blank out of the four alternatives.

The answer to the third question is _____ answered; State leaders _____ great willingness to play into the hands of the Central government, presumably for a price. _____ the process, representatives have forgotten the history of their own societies. But they fail to _____ that history cannot be disremembered, it constantly nudges us to recollect past struggles _____ injustice in these States.

But they fail to _____ that history cannot be disremembered,

Options:

- 1) forget
- 2) memorize
- 3) recall
- 4) by heart

Correct Answer: recall

Candidate Answer: [NOT ANSWERED]

QID : 100 - In the following passage, some of the words have been left out. Read the passage carefully and select the correct answer for the given blank out of the four alternatives.

The answer to the third question is _____ answered; State leaders _____ great willingness to play into the hands of the Central government, presumably for a price. _____ the process, representatives have forgotten the history of their own societies. But they fail to _____ that history cannot be disremembered, it constantly nudges us to recollect past struggles _____ injustice in these States.

it constantly nudges us to recollect past struggles _____ injustice in these States.

Options:

- 1) against
- 2) for
- 3) to
- 4) from

Correct Answer: against

Candidate Answer: [NOT ANSWERED]

KnowledgePhilic.com

UPSC – SSC – Bank – Railway – LIC – FCI – DMRC