



Staff Selection Commission
(Government Of India)

REGISTRATION NUMBER : KnowledgePhilic.com
EXAM DATE : 18-January-2017
EXAM NAME : SSC Examination 2016 TOTAL
MARKS : 200

CANDIDATE
NAME : KnowledgePhilic.com
EXAM START TIME : 10:00:00
EXAM DURATION : 01:15 Hrs
TOTAL NO OF QUESTIONS : 100

QID : 1 - Select the related word/letters/number from the given alternatives.

Exactly : Precisely :: Evidently : ?

दिए गए विकल्पों में से संबंधित शब्द/अक्षर/संख्या को चुनिए।

यथार्थ : निश्चित रूप से :: प्रमाणिक रूप से : ?

Options:

- 1) Happily
खुशी से
- 2) Distinctly
स्पष्ट रूप से
- 3) Apparently
जाहिर तौर पर
- 4) Hesitatingly
हिचकिचाते हुए

Correct Answer: Distinctly
स्पष्ट रूप से

Candidate Answer: Distinctly
स्पष्ट रूप से

QID : 2 - Select the related word/letters/number from the given alternatives.

EGIK : VTRP :: DFHJ : ?

दिए गए विकल्पों में से संबंधित शब्द/अक्षर/संख्या को चुनिए।

EGIK : VTRP :: DFHJ : ?

Options:

- 1) WSQU
- 2) WSUQ
- 3) WUSQ
- 4) WUSP

Correct Answer: WUSQ

Candidate Answer: WUSQ

QID : 3 - Select the related word/letters/number from the given alternatives.

ERASE : FSBTF :: MAGIC : ?

दिए गए विकल्पों में से संबंधित शब्द/अक्षर/संख्या को चुनिए।

ERASE : FSBTF :: MAGIC : ?

Options:

- 1) NHBJD
- 2) NBHGD
- 3) NBJHD
- 4) NBHJD

Correct Answer: NBHJD

Candidate Answer: NBHGD

QID : 4 - Select the related word/letters/number from the given alternatives.

8 : 27 :: 9 : ?

दिए गए विकल्पों में से संबंधित शब्द/अक्षर/संख्या को चुनिए।

8 : 27 :: 9 : ?

Options:

- 1) 31
- 2) 30
- 3) 17
- 4) 32

Correct Answer: 30

Candidate Answer: 30

QID : 5 - Select the odd word/letters/number/number pair from the given alternatives.

दिए गए विकल्पों में से विषम शब्द/अक्षर/संख्या/संख्या युग्म को चुनिए।

Options:

- 1) Armchair
बाँहदारकुरसी
- 2) Sofa
सोफा
- 3) Table
टेबल
- 4) Paperweight
पेपरवेट

Correct Answer: Paperweight
पेपरवेट

Candidate Answer: Paperweight
पेपरवेट

QID : 6 - Select the odd word/letters/number/number pair from the given alternatives.

दिए गए विकल्पों में से विषम शब्द/अक्षर/संख्या/संख्या युग्म को चुनिए।

Options:

- 1) JPM
- 2) DJG
- 3) BHE
- 4) SDA

Correct Answer: SDA

Candidate Answer: SDA

QID : 7 - Select the odd word/letters/number/number pair from the given alternatives.

दिए गए विकल्पों में से विषम शब्द/अक्षर/संख्या/संख्या युग्म को चुनिए।

Options:

- 1) 156
- 2) 200
- 3) 182
- 4) 240

Correct Answer: 200

Candidate Answer: 182

QID : 8 - Select the odd word/letters/number/number pair from the given alternatives.

दिए गए विकल्पों में से विषम शब्द/अक्षर/संख्या/संख्या युग्म को चुनिए।

Options:

- 1) 462
- 2) 297
- 3) 674
- 4) 891

Correct Answer: 674

Candidate Answer: 674

QID : 9 - A series is given with one term missing. Choose the correct alternative from the given ones that will complete the series.

Khilji dynasty, ?, Sayyid dynasty, Lodi dynasty

एक अनुक्रम दिया गया है, जिसमें से एक पद लुप्त है। दिए गए विकल्पों में से वह विकल्प चुनिए, जो अनुक्रम को पूरा करे।

खिलजी वंश, ?, सैयद वंश, लोदी वंश

Options:

- 1) Mughal dynasty
मुगलवंश
- 2) Sur dynasty
सुरवंश
- 3) Tughlaq dynasty
तुगलकवंश
- 4) Slave dynasty
गुलामवंश

Correct Answer: Tughlaq dynasty
तुगलकवंश

Candidate Answer: Tughlaq dynasty
तुगलकवंश

QID : 10 - A series is given with one term missing. Choose the correct alternative from the given ones that will complete the series.

ZBJ, YCK, XDL, ?

एक अनुक्रम दिया गया है, जिसमें से एक पद लुप्त है। दिए गए विकल्पों में से वह विकल्प चुनिए, जो अनुक्रम को पूरा करे।

ZBJ, YCK, XDL, ?

Options:

- 1) VMW
- 2) WDM
- 3) WEM
- 4) WFM

Correct Answer: WEM

Candidate Answer: WEM

QID : 11 - A series is given with one term missing. Choose the correct alternative from the given ones that will complete the series.

AT, DR, GP, JN, ?

एक अनुक्रम दिया गया है, जिसमें से एक पद लुप्त है। दिए गए विकल्पों में से वह विकल्प चुनिए, जो अनुक्रम को पूरा करे।

AT, DR, GP, JN, ?

Options:

- 1) MJ
- 2) MN
- 3) MK
- 4) ML

Correct Answer: ML

Candidate Answer: ML

QID : 12 - A series is given with one term missing. Choose the correct alternative from the given ones that will complete the series.

3, 4, 12, 48, ?

एक अनुक्रम दिया गया है, जिसमें से एक पद लुप्त है। दिए गए विकल्पों में से वह विकल्प चुनिए, जो अनुक्रम को पूरा करे।

3, 4, 12, 48, ?

Options:

- 1) 426
- 2) 576
- 3) 467
- 4) 512

Correct Answer: 576

Candidate Answer: 576

QID : 13 - In the following question, two statements are given each followed by two conclusions I and II. You have to consider the statements to be true even if they seem to be at variance from commonly known facts. You have to decide which of the given conclusions, if any, follows from the given statements.

Statements:

- (I) Demand of wooden furniture has gone down in an aggregate scenario.
- (II) Wooden furniture has been replaced by fiber or plastic made furniture.

Conclusion:

- (I) Wooden furniture needs more maintenance and it is difficult to handle.
- (II) Plastic furniture is termite free and can be easily handled.

निम्नलिखित प्रश्न में, दो कथन दिए गए हैं जिनके आगे दो निष्कर्ष I और II निकाले गए हैं। आपको मानना है कि कथन सत्य है चाहे वे सामान्यतः ज्ञात तथ्यों से भिन्न प्रतीत होते हों। आपको निर्णय करना है कि दिए गए निष्कर्षों में से कौन सा/कौन से निश्चित रूप से कथनों द्वारा सही निकाला जा सकता है/सकते हैं, यदि कोई हो।

कथन:

- (I) लकड़ी के फर्नीचर की मांग एक समग्र परिदृश्य में नीचे चली गई है।
- (II) लकड़ी के फर्नीचर को फाइबर या प्लास्टिक से बनी फर्नीचर ने प्रतिस्थापित किया है।

निष्कर्ष:

- (I) लकड़ी के फर्नीचर को ज्यादा रखरखाव की आवश्यकता होती है और इनका प्रबंध कठिन होता है।
- (II) प्लास्टिक के फर्नीचर में दीमक नहीं लगता है और ये प्रबंध में आसान होते हैं।

Options:

- 1) Only conclusion II follows
केवल निष्कर्ष II लागू होता है।
- 2) Conclusion I and II both follow
निष्कर्ष I और II दोनों लागू होता है।
- 3) Neither I nor II follow
न निष्कर्ष I न ही II लागू होता है।
- 4) Only conclusion I follows
केवल निष्कर्ष I लागू होता है।

Correct Answer: Conclusion I and II both follow

निष्कर्ष I और II दोनों लागू होता है।

Candidate Answer: Neither I nor II follow

न निष्कर्ष I न ही II लागू होता है।

QID : 14 - Amit's age is four times the age of Babli. Babli's age is three times the age of Priya. If the present age of Priya is 5 years, what is the present age (in years) of Amit?

अमित की आयु, बबली की आयु से चार गुणा है। बबली की आयु, प्रिया की आयु से तीन गुणा है। यदि प्रिया की वर्तमान आयु 5 वर्ष है, तो अमित की वर्तमान आयु (वर्ष में) क्या है ?

Options:

- 1) 65
- 2) 45
- 3) 55
- 4) 60

Correct Answer: 60

Candidate Answer: 60

QID : 15 - Arrange the given words in the sequence in which they occur in the dictionary.

- i. Harmony
- ii. Harness
- iii. Honey
- iv. Harangue

निम्नलिखित शब्दों को शब्दकोश में आने वाले क्रम के अनुसार लिखें।

- i. Harmony
- ii. Harness
- iii. Honey
- iv. Harangue

Options:

- 1) iii,i,ii,iv
- 2) iv,i,iii,ii
- 3) iv,ii,i,iii
- 4) iv,i,ii,iii

Correct Answer: iv,i,ii,iii

Candidate Answer: iv,i,ii,iii

QID : 16 - In a certain code language, "CUTE" is written as "9251" and "REST" is written as "4135". How is "RESCUE" written in that code language?

एक विशिष्ट कोड भाषा में "CUTE" को "9251" लिखा जाता है और "REST" को "4135" लिखा जाता है। इस कोड भाषा में "RESCUE" को किस प्रकार लिखा जाएगा?

Options:

- 1) 413921
- 2) 431291
- 3) 423911
- 4) 413912

Correct Answer: 413921

Candidate Answer: 413921

QID : 17 -

In the following question, select the missing number from the given series.

निम्नलिखित प्रश्न में दिए गए विकल्पों में से लुप्त अंक ज्ञात कीजिए।

B	A	B
C	C	D
Y	P	?

Options:

- 1) E
- 2) D
- 3) J
- 4) H

Correct Answer: J

Candidate Answer: H

QID : 18 - If "A" means "subtraction", "B" means "division", "C" means "addition" and "D" means "multiplication", then

294 B 6 A 30 C 31 D 4 = ?

यदि "A" का अर्थ "घटाना" है, "B" का अर्थ "भाग" है, "C" का अर्थ "जोड़" है और "D" का अर्थ "गुणा" है, तो

294 B 6 A 30 C 31 D 4 = ?

Options:

- 1) 16
- 2) 156
- 3) 143
- 4) 163

Correct Answer: 143

Candidate Answer: 143

QID : 19 - In the following question, which one set of letters when sequentially placed at the gaps in the given letter series shall complete it?

W_YZ_X_ZW_Y_

निम्नलिखित प्रश्न में अक्षरों का कौन सा समूह खाली स्थानों पर क्रमवार रखने से दी गई अक्षर श्रृंखला को पूरा करेगा?

W_YZ_X_ZW_Y_

Options:

- 1) ZWZXX
- 2) YWYYZ
- 3) XWYYZ
- 4) XWYXZ

Correct Answer: XWYXZ

Candidate Answer: XWYXZ

QID : 20 - Ankita travels 35 km towards the west, takes a right turn and travels 50 km more. Next, she takes another right turn and travels 35 km in that direction. How far is she now from her original position?

अंकिता पश्चिम दिशा में 35 कि.मी. चलती है, फिर दाएं मुड़कर 50 कि.मी. और चलती है। उसके बाद, वह दोबारा अपने दाएं मुड़ती है और उस दिशा में 35 कि.मी. चलती है। वह अब अपने मूल स्थान से कितनी दूरी पर है?

Options:

- 1) 75 km
75 कि.मी.
- 2) 25 km
25 कि.मी.
- 3) 50 km
50 कि.मी.
- 4) 20 km
20 कि.मी.

Correct Answer: 50 km

50 कि.मी.

Candidate Answer: 50 km

50 कि.मी.

KnowledgePhilic.com

UPSC – SSC – Bank – Railway – LIC – FCI – DMRC

QID : 21 -

A word is represented by only one set of numbers as given in any one of the alternatives. The sets of numbers given in the alternatives are represented by two classes of alphabets as shown in the given two matrices. The columns and rows of Matrix-I are numbered from 0 to 4 and that of Matrix-II are numbered from 5 to 9. A letter from these matrices can be represented first by its row and next by its column, for example, Y can be represented by 21, 03, etc., and U can be represented by 96, 67, etc. Similarly, you have to identify the set for the word COME.

एक शब्द केवल एक संख्या-समूह द्वारा दर्शाया गया है, जैसा कि विकल्पों में से किसी एक में दिया गया है। विकल्पों में दिए गए संख्या-समूह अक्षरों के दो वर्गों द्वारा दर्शाए गए हैं, जैसा कि दिए गए दो आव्यूहों में है। आव्यूह-I के स्तम्भ और पंक्ति की संख्या 0 से 4 है और आव्यूह-II की 5 से 9। इन आव्यूहों से एक अक्षर को पहले उसकी पंक्ति और बाद में स्तम्भ संख्या द्वारा दर्शाया जा सकता है। उदाहरण के लिए Y को 21, 03 आदि द्वारा दर्शाया जा सकता है तथा U को 96, 67 आदि द्वारा दर्शाया जा सकता है। इसी तरह से आपको प्रश्न में दिए शब्द COME के लिए समूह को पहचानना है।

Matrix-I
आव्यूह - I

	0	1	2	3	4
0	R	E	R	Y	E
1	A	C	M	Q	H
2	O	Y	L	C	P
3	E	V	A	P	C
4	M	E	C	Y	O

Matrix-II
आव्यूह - II

	5	6	7	8	9
5	V	M	O	G	M
6	O	R	U	D	U
7	E	M	O	M	A
8	C	X	C	O	Y
9	M	U	E	S	E

Options:

- 1) 11,44,58, 01
- 2) 23,65,13, 77
- 3) 85,57,12,87
- 4) 34, 20,76,99

Correct Answer: 34, 20,76,99

Candidate Answer: 34, 20,76,99

QID : 22 - Introducing a boy, a man says, "He is the son of the brother of my grandfather's son." How is the boy related to the man?

एक लड़के का परिचय कराते हुए एक पुरुष ने कहा, "वह, मेरे दादा के बेटे के भाई का बेटा है।" वह लड़का उस पुरुष से कैसे संबंधित है?

Options:

- 1) Brother
भाई
- 2) Grandfather
दादा
- 3) Nephew
भतीजा
- 4) Cousin
चचेरा भाई

Correct Answer: Cousin

चचेरा भाई

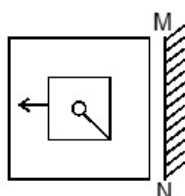
Candidate Answer: Nephew

भतीजा

QID : 23 -

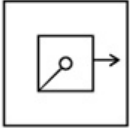
If a mirror is placed on the line MN, then which of the answer figures is the right image of the given figure?

यदि एक दर्पण को MN रेखा पर रखा जाए, तो दी गई उत्तर आकृतियों में से कौन सी आकृति प्रश्न आकृति की सही प्रतिबिम्ब होगी?

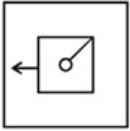


Options:

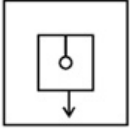
1)



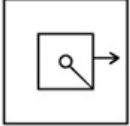
2)



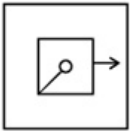
3)



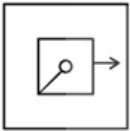
4)



Correct Answer:



Candidate Answer:



KnowledgePhilic.com

QID : 24 - Identify the diagram that best represents the relationship among the given classes.

Biosphere, Hydrosphere, Atmosphere

वह आरेख चुनिए जो नीचे दिए गए वर्गों के बीच के संबंध का सही निरूपण करता है।

जीवमंडल, जलमंडल, वायुमंडल

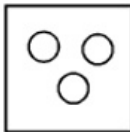
UPSC - SSC - Bank - Railway - LIC - FCI - DMRC

Options:

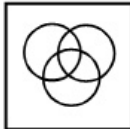
1)



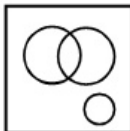
2)



3)



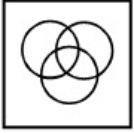
4)



Correct Answer:



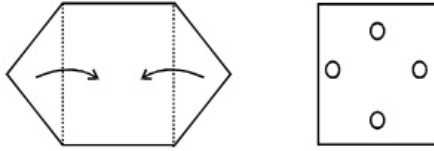
Candidate Answer:



QID : 25 -

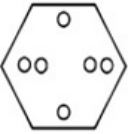
A piece of paper is folded and punched as shown below in the question figures. From the given answer figures, indicate how it will appear when opened.

नीचे के प्रश्न आकृतियों में दिखाए अनुसार कागज को मोड़कर छेदने तथा खोलने के बाद वह किस उत्तर आकृति जैसा दिखाई देगा?

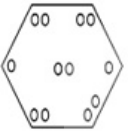


Options:

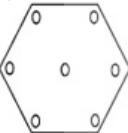
1)



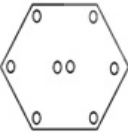
2)



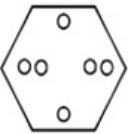
3)



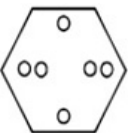
4)



Correct Answer:



Candidate Answer:



QID : 26 - Which temple is built in the form of the chariot of Surya, the Sun God with 24 wheels?

24 पहियों के साथ सूर्य देवता के रथ के रूप में कौन सा मंदिर बनाया गया है?

Options:

1) Soorya Narayana Temple

सूर्य नारायण मंदिर

2) Dakshinaraka Temple

दक्षिणार्क मंदिर

3) Surya Pahar Temple

सूर्य पहाड़ मंदिर

4) Konark Sun Temple

कोणार्क का सूर्य मंदिर

Correct Answer: Konark Sun Temple

कोणार्क का सूर्य मंदिर

Candidate Answer: Konark Sun Temple

कोणार्क का सूर्य मंदिर

KnowledgePhilic.com
UPSC – SSC – Bank – Railway – LIC – FCI – DMRC

QID : 27 - Kangana Ranaut has won how many National awards?

कंगना राणावत ने कितने राष्ट्रीय अवार्ड जीते हैं?

Options:

1) 4

2) 3

3) 2

4) 1

Correct Answer: 3

Candidate Answer: 2

QID : 28 - Vitamin A is also known as _____.

विटामिन ए को _____ के नाम से भी जाना जाता है।

Options:

1) Thiamine

थायमिन

2) Riboflavin

रिबोफ्लेविन

3) Retinol

रेटीनॉल

4) Calciferol

कैल्सिफेरॉल

Correct Answer: Retinol

रेटीनॉल

Candidate Answer: Retinol

रेटीनॉल

QID : 29 - Some roots, called _____, arise from an organ other than the radicle.

कुछ जड़ें, जिन्हें _____ कहा जाता है, वे मूल (रेडिकल) के अलावा किसी अन्य अंग से उत्पन्न होती हैं।

Options:

1) tap roots

मुख्य जड़

2) stilt roots

लट्टा जड़ें

3) fibrous roots

रेशदार जड़ें

4) adventitious roots

आकस्मिक जड़ें

Correct Answer: adventitious roots

आकस्मिक जड़ें

Candidate Answer: tap roots

मुख्य जड़

QID : 30 - Spiders belong to which class of animals?

मकड़ियाँ प्राणी वर्गीकरण के किस वर्ग में आती हैं?

Options:

1) Arachnids

एरेकनिड्स

2) Aves

एविस

3) Gastropods

गैस्ट्रोपोड्स

4) Anthozoa

एंथोजुआ

Correct Answer: Arachnids

एरेकनिड्स

Candidate Answer: Arachnids

एरेकनिड्स

QID : 31 - Which of the following elements has the lowest melting point?

निम्नलिखित तत्वों में से किसका गलनांक सबसे कम है?

Options:

1) Bromine

ब्रोमीन

2) Zinc

ज़िंक

3) Lead

लेड

4) Calcium

कैल्शियम

Correct Answer: Bromine

ब्रोमीन

Candidate Answer: [NOT ANSWERED]

QID : 32 - Ethane gas has a slightly _____ taste.

ईथेन गैस का स्वाद थोड़ा _____ होता है।

Options:

- 1) sweet
मीठा
- 2) bitter
कड़वा
- 3) sour
खट्टा
- 4) salty
नमकीन

Correct Answer: sweet
मीठा

Candidate Answer: bitter
कड़वा

QID : 33 - ROM in computer science stands for?

कंप्यूटर विज्ञान में ROM का विस्तारित रूप क्या है?

Options:

- 1) Random Only Memory
रैंडम ओनली मेमोरी
- 2) Read Out Memory
रीड आउट मेमोरी
- 3) Read Only Memory
रीड ओनली मेमोरी
- 4) Rotation Only Memory
रोटेशन ओनली मेमोरी

Correct Answer: Read Only Memory
रीड ओनली मेमोरी

Candidate Answer: Read Only Memory
रीड ओनली मेमोरी

QID : 34 - Which among the following is not a folk dance form of Kerala?

निम्नलिखित में से कौन सा केरल का लोकनृत्य नहीं है?

Options:

- 1) Kathakali
कथकली
- 2) Thullal
थुलाल
- 3) Kakkattikali
कायकोट्टीकली
- 4) Chappeli
चप्पेली

Correct Answer: Chappeli
चप्पेली

Candidate Answer: [NOT ANSWERED]

QID : 35 - The minimum price at which I was willing to sell my old TV was Rs 37,000. I quoted Rs 50,000 while selling it, but it sold for Rs 42,000. This transaction generated _____.

वह न्यूनतम कीमत, जिस पर मैं अपने पुराने टीवी को बेचने के लिए तैयार था, वह 37,000 रु थी। मैंने बेचते समय इसकी कीमत 50,000 रु उद्धृत की, लेकिन यह 42,000 रु में बिक गया। इस सौदे ने _____ का लेनदेन उत्पन्न किया।

Options:

- 1) Rs 5000 worth of consumer surplus
उपभोक्ता अधिशेष की कीमत 5000 रु
- 2) Rs 8000 worth of consumer surplus
उपभोक्ता अधिशेष की कीमत 8000 रु
- 3) Rs 5000 worth of producer surplus
निर्माता अधिशेष की कीमत 5000 रु
- 4) Rs 8000 worth of producer surplus
निर्माता अधिशेष की कीमत 8000 रु

Correct Answer: Rs 5000 worth of producer surplus
निर्माता अधिशेष की कीमत 5000 रु

Candidate Answer: Rs 5000 worth of producer surplus
निर्माता अधिशेष की कीमत 5000 रु

QID : 36 - _____ is a good whose quantity demanded decreases when consumer income rises.

_____ वह वस्तु है जिसकी मात्रा की मांग उस समय कम हो जाती है, जब उपभोक्ता आय बढ़ जाती है।

Options:

- 1) Veblen good
वेब्लेन वस्तु
- 2) normal good
सामान्य वस्तु
- 3) exclusive good
अनन्य वस्तु
- 4) inferior good
निम्न कोटि की वस्तु

Correct Answer: inferior good
निम्न कोटि की वस्तु

Candidate Answer: [NOT ANSWERED]

QID : 37 - Which of the following processes is responsible for causing rain?

निम्नलिखित में से कौन सी प्रक्रिया वर्षा होने के लिए जिम्मेदार है?

Options:

- 1) Filtration
छानना
- 2) Evaporation and Condensation
वाष्पीकरण और संघनन
- 3) Evaporation
वाष्पीकरण
- 4) Condensation
संघनन

Correct Answer: Evaporation and Condensation
वाष्पीकरण और संघनन

Candidate Answer: Evaporation and Condensation
वाष्पीकरण और संघनन

QID : 38 - Manas National Park is in which state?

मानस राष्ट्रीय उद्यान किस राज्य में है?

Options:

- 1) Orissa
ओडिशा
- 2) Maharashtra
महाराष्ट्र
- 3) Assam
असम
- 4) Sikkim
सिक्किम

Correct Answer: Assam
असम

Candidate Answer: Assam
असम

QID : 39 - Who sang the song "Jag Ghoomeya" from the Movie Sultan?

फिल्म सुल्तान का "जग घूमिया" गीत किसने गाया है?

Options:

- 1) Sonu Nigam
सोनू निगम
- 2) Shaan
शान
- 3) Rahat Fateh Ali Khan
राहत फतेह अली खान
- 4) Arijit
अरिजीत

Correct Answer: Rahat Fateh Ali Khan
राहत फतेह अली खान

Candidate Answer: Rahat Fateh Ali Khan
राहत फतेह अली खान

QID : 40 - Marble is a metamorphic rock of _____.

संगमरमर _____ की एक कायान्तरित चट्टान है।

Options:

- 1) Sandstone
सैंडस्टोन
- 2) Limestone
चूने का पत्थर
- 3) Granite
ग्रेनाईट
- 4) Clay
मिट्टी

Correct Answer: Limestone
चूने का पत्थर

Candidate Answer: Limestone
चूने का पत्थर

QID : 41 - Which city is located on the banks of the river Chambal?

चंबल नदी के तट पर कौन सा शहर स्थित है?

Options:

- 1) Ahmedabad
अहमदाबाद
- 2) Ayodhya
अयोध्या
- 3) Badrinath
बद्रीनाथ
- 4) Kota
कोटा

Correct Answer: Kota

कोटा

Candidate Answer: [NOT ANSWERED]

QID : 42 - The battle of Tarain was fought between Prithviraj Chauhan and _____.

तराईन का युद्ध पृथ्वीराज चौहान और _____ के बीच लड़ा गया था।

Options:

1) Mahmood Gaznabi

महमूद गजनबी

2) Muhammad Ghori

मुहम्मद गोरी

3) Babar

बाबर

4) Humayun

हुमायूँ

Correct Answer: Muhammad Ghori

मुहम्मद गोरी

Candidate Answer: Muhammad Ghori

मुहम्मद गोरी

QID : 43 - World War II started in the year?

द्वितीय विश्व युद्ध किस वर्ष में शुरू हुआ?

Options:

1) 1914

2) 1919

3) 1939

4) 1945

Correct Answer: 1939

Candidate Answer: 1939

QID : 44 - ISRO built India's first satellite known as _____.

इसरो ने भारत के पहले उपग्रह का निर्माण किया जिसे _____ के रूप में जाना जाता है।

Options:

1) Aryabhata

आर्यभट्ट

2) Bhaskara

भास्कर

3) Rohini

रोहिणी

4) Insat 1A

इंसेट 1 A

Correct Answer: Aryabhata

आर्यभट्ट

Candidate Answer: Aryabhata

आर्यभट्ट

QID : 45 - The value of acceleration due to gravity (g) at a distance of 2R from the surface of earth, where R is the radius of earth is _____.

पृथ्वी की सतह से 2R की दूरी पर गुरुत्वाकर्षण (g) के कारण त्वरण का मान _____ होता है, जहां R पृथ्वी की त्रिज्या है।

Options:

1) g/3

2) g/4

3) g/9

4) g/2

Correct Answer: g/9

Candidate Answer: g/4

QID : 46 - The unit of which physical quantity is not pascal?

किस भौतिक मात्रा की इकाई पास्कल नहीं है?

Options:

1) Moment of inertia

जड़त्व आघूर्ण

2) Pressure

दबाव

3) Stress

तनाव

4) Young's modulus

यंग का मापांक

Correct Answer: Moment of inertia

जड़त्व आघूर्ण

Candidate Answer: Young's modulus

यंग का मापांक

QID : 47 - What is the full form of the Indian Political Party, "AITC"?

भारतीय राजनीतिक पार्टी "AITC" का पूरा नाम क्या है?

Options:

- 1) All India Trinamool Congress
आल इंडिया तृणमूल कांग्रेस
- 2) All India Telugu Congress
आल इंडिया तेलगु कांग्रेस
- 3) All India Telugu Communist
आल इंडिया तेलगु कम्युनिस्ट
- 4) All India Trinamool Communist
आल इंडिया तृणमूल कम्युनिस्ट

Correct Answer: All India Trinamool Congress
आल इंडिया तृणमूल कांग्रेस

Candidate Answer: All India Trinamool Congress
आल इंडिया तृणमूल कांग्रेस

QID : 48 - The number of parliamentary seats (Rajya Sabha) of Karnataka is _____.

कर्नाटक की संसदीय सीटों (राज्य सभा) की संख्या _____ है।

Options:

- 1) 12
- 2) 16
- 3) 18
- 4) 31

Correct Answer: 12

Candidate Answer: [NOT ANSWERED]

QID : 49 - Apurvi Chandela is related to _____.

अपूर्वी चंदेला _____ से संबंधित है।

Options:

- 1) Boxing
मुक्केबाजी
- 2) Archery
तीरंदाजी
- 3) Swimming
तैराकी
- 4) Shooting
निशानेबाजी

Correct Answer: Shooting
निशानेबाजी

Candidate Answer: [NOT ANSWERED]

QID : 50 - Who wrote the book "The Broken Wing"?

"द ब्रोकेन विंग" नामक पुस्तक किसने लिखी है?

Options:

- 1) APJ Abdul Kalam
एपीजे अब्दुल कलाम
- 2) Kiran Bedi
किरण बेदी
- 3) Sarojini Naidu
सरोजिनी नायडू
- 4) Premchand
प्रेमचंद

Correct Answer: Sarojini Naidu
सरोजिनी नायडू

Candidate Answer: Sarojini Naidu
सरोजिनी नायडू

QID : 51 - A factory buys 10 machines. 1 Machine-A, 4 Machine-B and rest Machine-C. Prices of the machines are Rs 90000, Rs 40000 and Rs 40000 respectively. Calculate the average cost of these machines?

एक कारखाने में 10 मशीनों को खरीदा जाता है। इनमें 1 मशीन-A, 4 मशीनें-B और बाकि की मशीनें-C हैं। इन मशीनों के दाम क्रमशः 90000 रु, 40000 रु और 40000 रु हैं। इन मशीनों की औसत लागत की गणना करें।

Options:

- 1) 56666.6
- 2) 68333.3
- 3) 45000
- 4) 43500

Correct Answer: 45000

Candidate Answer: 45000

QID : 52 - The reciprocal of the sum of the reciprocals of 8/7 and 5/6 is:

8/7 और 5/6 दोनों के व्युत्क्रमानुपाती के योग का व्युत्क्रमानुपाती क्या है?

Options:

1) 83/40

2) 42/83

3) 83/42

4) 40/83

Correct Answer: 40/83

Candidate Answer: 40/83

QID : 53 - If $3x - 2(4 - 3x) < 2x - 5 < 3x + 3$; then the value of x is

यदि $3x - 2(4 - 3x) < 2x - 5 < 3x + 3$; तो x का क्या मान है?

Options:

1) 1

2) 2

3) 5

4) 0

Correct Answer: 0

Candidate Answer: 0

QID : 54 - Simplify $(b^2x^3a^2z^4) \cdot (b^2x^4a^4z^3) / (a^3b^2z^4)$

हल कीजिये $(b^2x^3a^2z^4) \cdot (b^2x^4a^4z^3) / (a^3b^2z^4)$

Options:

1) $b^2x^7a^3z^3$

2) $b^3x^7a^3z^3$

3) $b^2x^5a^3z^3$

4) $b^2x^7a^3z^2$

Correct Answer: $b^2x^7a^3z^3$

Candidate Answer: $b^2x^7a^3z^3$

QID : 55 - A sum fetched a total simple interest of Rs. 9648 at the rate of 12% per year in 6 years. What is the sum?

6 वर्षों में 12% वार्षिक दर से एक राशि पर 9648 रु का साधारण ब्याज बन जाता है। यह राशि कितनी है?

Options:

1) Rs 16080

16080 रु

2) Rs 10720

10720 रु

3) Rs 8040

8040 रु

4) Rs 13400

13400 रु

Correct Answer: Rs 13400

13400 रु

Candidate Answer: Rs 13400

13400 रु

QID : 56 - A shopkeeper, sold dried apricots at the rate Rs 1,310 a kg and bears a loss of 13%. Now if he decides to sell it at Rs 1,441 per kg, what will be the result?

एक दुकानदार 1,310 रु प्रति कि.ग्रा. की दर से सूखी खुबानियाँ बेचता है और 13% हानि वहन करता है। अब उसने 1,441 रु प्रति कि.ग्रा. से बेचने का फैसला किया है, तो इसका क्या परिणाम होगा?

Options:

1) 8.6 percent loss

8.6 प्रतिशत हानि

2) 4.3 percent gain

4.3 प्रतिशत लाभ

3) 4.3 percent loss

4.3 प्रतिशत हानि

4) 8.6 percent gain

8.6 प्रतिशत लाभ

Correct Answer: 4.3 percent loss

4.3 प्रतिशत हानि

Candidate Answer: 4.3 percent loss

4.3 प्रतिशत हानि

QID : 57 - If $\cos 240^\circ = x$, then value of x is

यदि $\cos 240^\circ = x$, तो x का क्या मान है?

Options:

1) $-1/\sqrt{2}$

2) $-\sqrt{3}/2$

3) $1/2$

4) $-1/2$

Correct Answer: $-1/2$

Candidate Answer: $-1/2$

QID : 58 - 3 hrs after a goods train passed a station, another train travelling at a speed of 88 km/hr following that goods train passed through that station. If after passing the station the train overtakes the goods train in 8 hours. What is the speed of the goods train?

एक मालगाड़ी के द्वारा स्टेशन पार करने के 3 घंटे बाद, उसका पीछा करते हुए एक और रेलगाड़ी ने 88 कि.मी./घंटा की गति से यात्रा करते हुए उसी स्टेशन को पार किया। यदि स्टेशन पार करने के 8 घंटे के बाद रेलगाड़ी मालगाड़ी से आगे निकल जाती है, तो मालगाड़ी की गति क्या होगी?

Options:

1) 76.8 km/hr

76.8 कि.मी./घंटा

2) 64 km/hr

64 कि.मी./घंटा

3) 96 km/hr

96 कि.मी./घंटा

4) 51.2 km/hr

51.2 कि.मी./घंटा

Correct Answer: 64 km/hr

64 कि.मी./घंटा

Candidate Answer: 64 km/hr

64 कि.मी./घंटा

QID : 59 - If $a + b = 9$ and $a^2 + b^2 = 61$, then ab is

यदि $a + b = 9$ और $a^2 + b^2 = 61$, तो ab का क्या मान है?

Options:

1) 20

2) 10

3) 81

4) 142

Correct Answer: 10

Candidate Answer: 10

QID : 60 - Reflection of the point $(-2,5)$ in the x-axis is

x-अक्ष में बिंदु $(-2,5)$ के प्रतिबिंब के निर्देशांक क्या होंगे?

Options:

1) $(2,5)$

2) $(2,-5)$

3) $(-2,5)$

4) $(-2,-5)$

Correct Answer: $(-2,-5)$

Candidate Answer: $(-2,-5)$

QID : 61 - The price of an article is discounted by 25%, to restore to its original value, the new price must be increased by

एक वस्तु की कीमत में 25% की छूट दी जाती है। पुराना मूल्य वापस लाने के लिए कितने प्रतिशत से वृद्धि करनी चाहिए?

Options:

1) 57 percent

57 प्रतिशत

2) 36.31 percent

36.31 प्रतिशत

3) 71.25 percent

71.25 प्रतिशत

4) 33.33 percent

33.33 प्रतिशत

Correct Answer: 33.33 percent

33.33 प्रतिशत

Candidate Answer: 33.33 percent

33.33 प्रतिशत

QID : 62 - If $1/\sqrt{1+\tan^2 A} = x$, then value of x is

यदि $1/\sqrt{1+\tan^2 A} = x$, तो x का क्या मान है?

Options:

1) $\cos A$

2) $\sin A$

3) $\operatorname{cosec} A$

4) $\sec A$

Correct Answer: cosA

Candidate Answer: cosA

QID : 63 - 20% discount is offered on an item. By applying a promo code the customer wins 5% cash back. What is the effective discount?

एक वस्तु पर 20% छूट की पेशकश की गई है। एक प्रोमो कोड लागू करके ग्राहक 5% नकद वापस जीतता है। उसको मिली प्रभावी छूट क्या है?

Options:

- 1) 24 percent
24 प्रतिशत
- 2) 25.2 percent
25.2 प्रतिशत
- 3) 25 percent
25 प्रतिशत
- 4) 6 percent
6 प्रतिशत

Correct Answer: 24 percent
24 प्रतिशत

Candidate Answer: 24 percent
24 प्रतिशत

QID : 64 - A wooden bowl is in shape of a hollow hemisphere of internal radius 8 cm and thickness 1 cm. Find the total surface area of the bowl?

लकड़ी का एक कटोरा आंतरिक त्रिज्या 8 से.मी. और मोटाई 1 से.मी. के एक खोखले गोलार्द्ध के आकार में बना है। उस कटोरे के सतह के कुल क्षेत्रफल का पता लगाएं?

Options:

- 1) 964.85 sq cms
964.85 वर्ग से.मी.
- 2) 1125.14 sq cms
1125.14 वर्ग से.मी.
- 3) 1687.71 sq cms
1687.71 वर्ग से.मी.
- 4) 281.29 sq cms
281.29 वर्ग से.मी.

Correct Answer: 964.85 sq cms
964.85 वर्ग से.मी.

Candidate Answer: [NOT ANSWERED]

QID : 65 - If $6A = 7B = 5C$; find $A : B : C$

यदि $6A = 7B = 5C$ है; तो $A : B : C$ बताएं।

Options:

- 1) 42:30:35
- 2) 30:35:42
- 3) 5:7:6
- 4) 35:30:42

Correct Answer: 35:30:42

Candidate Answer: 35:30:42

QID : 66 - Abhinav is 2 times as good a workman as Balwant and therefore is able to finish a job in 36 days less than Balwant. Working together, they can do it in

अभिनव बलवंत से 2 गुना अधिक अच्छा कर्मचारी है और इसी कारण वह एक काम उससे 36 दिन कम में पूरा कर सकता है। दोनों साथ मिलकर वह काम कितने दिन में करेंगे।

Options:

- 1) 12 days
12 दिन
- 2) 6 days
6 दिन
- 3) 18 days
18 दिन
- 4) 24 days
24 दिन

Correct Answer: 24 days
24 दिन

Candidate Answer: 12 days
12 दिन

QID : 67 - The first and last terms of an arithmetic progression are 23 and -42. What is the sum of the series if it has 14 terms?

एक समांतर श्रेणी का पहला और आखिरी पद 23 और -42 हैं। यदि श्रृंखला में 14 पद हैं, तो योग क्या होगा?

Options:

- 1) -91
- 2) -133
- 3) 93
- 4) 133

Correct Answer: -133

Candidate Answer: -133

QID : 68 - What is the equation of the line passing through the point (0,-4) and making an angle of -45° with the positive x-axis?

बिंदु (0,-4) से गुजरने वाली और धनात्मक x-अक्ष के साथ -45° का कोण बनाने वाली रेखा का समीकरण क्या होगा?

Options:

- 1) $x + y = 4$
- 2) $x - y = -4$
- 3) $x + y = -4$
- 4) $x - y = 4$

Correct Answer: $x + y = -4$

Candidate Answer: $x - y = 4$

QID : 69 - In a Rhombus ABCD, measure of angle CAB is 30° , what is the measure of angle ABC?

एक समचतुर्भुज ABCD में, कोण CAB का माप 30° है, कोण ABC का माप क्या होगा?

Options:

- 1) 60°
- 2) 120°
- 3) 90°
- 4) 150°

Correct Answer: 120°

Candidate Answer: 120°

QID : 70 - In which of the following quadrilaterals only one pair of opposite angles is supplementary?

निम्नलिखित चतुर्भुजों में से किसमें विपरीत कोणों से केवल एक जोड़ी अनुपूरक होती है?

Options:

- 1) Isosceles Trapezium
समद्विबाहु समलम्ब
- 2) Parallelogram
समान्तर चतुर्भुज
- 3) Cyclic quadrilateral
चक्रीय चतुर्भुज
- 4) Rectangle
आयत

Correct Answer: Cyclic quadrilateral

चक्रीय चतुर्भुज

Candidate Answer: Isosceles Trapezium

समद्विबाहु समलम्ब

QID : 71 - What is the value of $\sqrt{\frac{1 + \sin A}{1 - \sin A}}$?

$\sqrt{\frac{1 + \sin A}{1 - \sin A}}$ का क्या मान है?

Options:

- 1) $\sec A - \tan A$
- 2) $\operatorname{cosec} A + \tan A$
- 3) $\sec A + \tan A$
- 4) $\operatorname{cosec} A - \tan A$

Correct Answer: $\sec A + \tan A$

Candidate Answer: $\sec A + \tan A$

QID : 72 -

Refer the below data table and answer the following Question.

नीचे दिये गए डेटा तालिका के आधार पर निम्नलिखित प्रश्न का उत्तर दें।

	Boys / लड़के	Girls / लड़कियाँ
Medical / मेडिकल	25	70
Engineering / इंजीनियरिंग	75	35

What percent students who chose Engineering are girls?

छात्रों में लड़कियों का प्रतिशत कितना है, जिन्होंने इंजीनियरिंग विषय चुना है?

Options:

- 1) 17.07
- 2) 33.33
- 3) 46.67
- 4) 31.82

Correct Answer: 31.82

Candidate Answer: 31.82

QID : 73 -

Refer the below data table and answer the following Question.

नीचे दिये गए डेटा तालिका के आधार पर निम्नलिखित प्रश्न का उत्तर दें।

	Cumulative production संचयी उत्पादन
January / जनवरी	600
February / फरवरी	1200
March / मार्च	1900
April / अप्रैल	2310
May / मई	2860
June / जून	3210

How many cars were manufactured in the months of April and May?

मई और अप्रैल माह में कितनी कारें निर्मित हुई थीं?

Options:

1) 1110

2) 900

3) 960

4) 5170

Correct Answer: 960

Candidate Answer: 5170

QID : 74 -

Refer the below data table and answer the following Question.

नीचे दिये गए डेटा तालिका के आधार पर निम्नलिखित प्रश्न का उत्तर दें।

Day of the week सप्ताह का दिन	Distance jogged (in kms) दौड़ी गयी दूरी (किलोमीटर में)
Monday/ सोमवार	0.5
Tuesday / मंगलवार	3
Wednesday / बुधवार	0.5
Thursday / गुरुवार	2.5
Friday / शुक्रवार	2
Saturday / शनिवार	3.5
Sunday / रविवार	1

If 400 calories are burned by jogging 5km, how many calories were burnt in the given week?

यदि 5 किलोमीटर दौड़ने से 400 कैलोरी की खपत होती है, तो दिए गए पूरे सप्ताह में कितनी कैलोरी की खपत हुई?

Options:

1) 990 calories

990 कैलोरी

2) 1090 calories

1090 कैलोरी

3) 1040 calories

1040 कैलोरी

4) 940 calories

940 कैलोरी

Correct Answer: 1040 calories

1040 कैलोरी

Candidate Answer: 1040 calories

1040 कैलोरी

QID : 75 -

Refer the below data table and answer the following Question.

नीचे दिये गए डेटा तालिका के आधार पर निम्नलिखित प्रश्न का उत्तर दें।

Items वस्तु	Yearly Expense in Rs lakhs लाख रुपये में वार्षिक खर्च
Raw Materials / कच्चा माल	9
Labour / श्रम	7
Rent / किराया	4
Interest / ब्याज	3
Taxes / कर	3

Labour and Taxes are what percent of total expenses?

श्रम और कर कुल खर्च का कितना प्रतिशत है?

Options:

- 1) 45.71 percent
45.71 प्रतिशत
- 2) 31.21 percent
31.21 प्रतिशत
- 3) 23.96 percent
23.96 प्रतिशत
- 4) 38.46 percent
38.46 प्रतिशत

Correct Answer: 38.46 percent
38.46 प्रतिशत

Candidate Answer: 38.46 percent
38.46 प्रतिशत

QID : 76 - In the following question, a sentence has been given in Active/Passive voice. Out of four alternatives suggested, select the one, which best expresses the same sentence in Passive/Active voice.

Ravi had committed a mistake.

Options:

- 1) A mistake has been committed by Ravi.
- 2) A mistake had been committed by Ravi.
- 3) A mistake was committed by Ravi.
- 4) A mistake is committed by Ravi.

Correct Answer: A mistake had been committed by Ravi.

Candidate Answer: A mistake had been committed by Ravi.

QID : 77 - Select the word with the correct spelling.

Options:

- 1) comands
- 2) prigish
- 3) adhesive
- 4) serenly

Correct Answer: adhesive

Candidate Answer: serenly

QID : 78 - Select the antonym of

endeavour

Options:

- 1) passive
- 2) buck
- 3) assay
- 4) intend

Correct Answer: passive

Candidate Answer: passive

QID : 79 - In the following question, the sentence given with blank to be filled in with an appropriate word. Select the correct alternative out of the four and indicate it by selecting the appropriate option.

To understand the nature of electromagnetic radiation, it is imperative that we grasp the _____ nature of light.

Options:

- 1) twice
- 2) dual
- 3) double
- 4) dichotomous

Correct Answer: dual

Candidate Answer: dual

QID : 80 - In the following question, out of the four alternatives, select the alternative which best expresses the meaning of the idiom/phrase.

To put the cat among the pigeons

Options:

- 1) To hunt easy prey
- 2) To be different in a group where everybody is alike
- 3) To do something that is likely to cause controversy
- 4) When the entire group feels trapped in a bad situation

Correct Answer: To do something that is likely to cause controversy

Candidate Answer: [NOT ANSWERED]

QID : 81 - Rearrange the parts of the sentence in correct order.

He spent a third

P-was of any consequence

Q-made sure that none of them

R-of the time describing his tax proposals, but

Options:

- 1) QRP
- 2) QPR
- 3) PRQ
- 4) RQP

Correct Answer: RQP

Candidate Answer: RQP

QID : 82 - In the following question, some part of the sentence may have errors. Find out which part of the sentence has an error and select the appropriate option. If a sentence is free from error, select 'No Error'.

The temple is(A)/within a hundred yards(B)/from my house(C)/No error(D)

Options:

- 1) A
- 2) B
- 3) C
- 4) D

Correct Answer: D

Candidate Answer: A

QID : 83 - Select the synonym of

to moan

Options:

- 1) to sigh
- 2) to beam
- 3) to smirk
- 4) to simper

Correct Answer: to sigh

Candidate Answer: [NOT ANSWERED]

QID : 84 - In the following question, out of the four alternatives, select the alternative which is the best substitute of the phrase.

deserving reward or praise

Options:

- 1) meritorious
- 2) honourable
- 3) virtuous
- 4) noble

Correct Answer: meritorious

Candidate Answer: noble

QID : 85 - Improve the bracketed part of the sentence.

The candidate was likely to win the assembly elections (**with the**) sweeping majority.

Options:

- 1) by the
- 2) with a
- 3) by a
- 4) no improvement

Correct Answer: by a

Candidate Answer: by a

QID : 86 - In the following question, some part of the sentence may have errors. Find out which part of the sentence has an error and select the appropriate option. If a sentence is free from error, select 'No Error'.

I am certain that(A)/the officer is not only(B)/greedy but corrupt.(C)/No error(D)

Options:

- 1) A
- 2) B
- 3) C
- 4) D

Correct Answer: C

Candidate Answer: C

QID : 87 - In the following question, a sentence has been given in Direct/Indirect speech. Out of the four alternatives suggested, select the one, which best express the same sentence in Indirect/Direct speech.

'Do you have anything to tell me, little princess?' asked the king.

Options:

- 1) The king ask the little princess if she have anything to tell him.
- 2) The king asked the little princess that if she had anything to tell him.
- 3) The king said to the little princess if she had anything to say to him.
- 4) The king asked the little princess whether she had anything to tell him.

Correct Answer: The king asked the little princess whether she had anything to tell him.

Candidate Answer: The king asked the little princess whether she had anything to tell him.

QID : 88 - In the following question, out of the four alternatives, select the alternative which is the best substitute of the phrase.

involving or showing violence and bloodshed

Options:

- 1) inundate
- 2) gory
- 3) sanguine
- 4) imbrue

Correct Answer: gory

Candidate Answer: [NOT ANSWERED]

QID : 89 - Select the antonym of

beleaguer

Options:

- 1) gnaw
- 2) assist
- 3) badger
- 4) pester

Correct Answer: assist

Candidate Answer: [NOT ANSWERED]

QID : 90 - In the following question, the sentence given with blank to be filled in with an appropriate word. Select the correct alternative out of the four and indicate it by selecting the appropriate option.

The special court was _____ without having reached any decision on the case.

Options:

- 1) adjourned
- 2) dispersed
- 3) postponed
- 4) recessed

Correct Answer: adjourned

Candidate Answer: adjourned

QID : 91 - Select the word with the correct spelling.

Options:

- 1) bloting
- 2) terrazo
- 3) gullible
- 4) pyroxene

Correct Answer: pyroxene

Candidate Answer: bloting

QID : 92 - Select the synonym of

melodramatic

Options:

- 1) tranquil
- 2) halcyon
- 3) bucolic
- 4) theatrical

Correct Answer: theatrical

Candidate Answer: [NOT ANSWERED]

QID : 93 - Rearrange the parts of the sentence in correct order.

The yatra focussed

P-for poor and

Q-marginalised communities

R-on access to development and dignity

Options:

- 1) RQP
- 2) PQR
- 3) RPQ
- 4) QRP

Correct Answer: RPQ

Candidate Answer: RPQ

QID : 94 - In the following question, out of the four alternatives, select the alternative which best expresses the meaning of the idiom/phrase.

to shoot the breeze

Options:

- 1) To do random acts hoping one will be successful
- 2) To have a casual conversation
- 3) To release stomach gases
- 4) To brag about some mild achievement

Correct Answer: To have a casual conversation

Candidate Answer: [NOT ANSWERED]

QID : 95 - Improve the bracketed part of the sentence.

It was hard to believe that she (**were**) dead for three months.

Options:

- 1) was
- 2) has been
- 3) is
- 4) no improvement

Correct Answer: has been

Candidate Answer: has been

QID : 96 - In the following question, the sentence given with blank to be filled in with an appropriate word. Select the correct alternative out of the four and indicate it by selecting the appropriate option.

_____ being an intangible idea, the nation is quite real because it is a shared idea. _____ of nationhood are important for this sharing to be reliably reproduced, which is why we have familiar _____ to memory like maps, flags, or the figure of Mother India. National symbols are extremely powerful _____ they connect to compressed reservoirs of intense _____.

_____ being an intangible idea

Options:

- 1) In spite
- 2) Although
- 3) Despite of
- 4) Despite

Correct Answer: Despite

Candidate Answer: Despite

QID : 97 - In the following question, the sentence given with blank to be filled in with an appropriate word. Select the correct alternative out of the four and indicate it by selecting the appropriate option.

_____ being an intangible idea, the nation is quite real because it is a shared idea. _____ of nationhood are important for this sharing to be reliably reproduced, which is why we have familiar _____ to memory like maps, flags, or the figure of Mother India. National symbols are extremely powerful _____ they connect to compressed reservoirs of intense _____.

_____ of nationhood are important

Options:

- 1) Symbols
- 2) Badges
- 3) Emblems
- 4) Figures

Correct Answer: Symbols

Candidate Answer: Symbols

QID : 98 - In the following question, the sentence given with blank to be filled in with an appropriate word. Select the correct alternative out of the four and indicate it by selecting the appropriate option.

_____ being an intangible idea, the nation is quite real because it is a shared idea. _____ of nationhood are important for this sharing to be reliably reproduced, which is why we have familiar _____ to memory like maps, flags, or the figure of Mother India. National symbols are extremely powerful _____ they connect to compressed reservoirs of intense _____.

we have familiar _____ to memory like maps, flags, or the figure of Mother India.

Options:

- 1) assistance
- 2) aids
- 3) help
- 4) support

Correct Answer: aids

Candidate Answer: [NOT ANSWERED]

QID : 99 - In the following question, the sentence given with blank to be filled in with an appropriate word. Select the correct alternative out of the four and indicate it by selecting the appropriate option.

_____ being an intangible idea, the nation is quite real because it is a shared idea. _____ of nationhood are important for this sharing to be reliably reproduced, which is why we have familiar _____ to memory like maps, flags, or the figure of Mother India. National symbols are extremely powerful _____ they connect to compressed reservoirs of intense _____.

National symbols are extremely powerful _____

Options:

- 1) since
- 2) because
- 3) so
- 4) thereof

Correct Answer: because

Candidate Answer: because

QID : 100 - In the following question, the sentence given with blank to be filled in with an appropriate word. Select the correct alternative out of the four and indicate it by selecting the appropriate option.

_____ being an intangible idea, the nation is quite real because it is a shared idea. _____ of nationhood are important for this sharing to be reliably reproduced, which is why we have familiar _____ to memory like maps, flags, or the figure of Mother India. National symbols are extremely powerful _____ they connect to compressed reservoirs of intense _____.

they connect to compressed reservoirs of intense _____.

Options:

- 1) compassion
- 2) empathy
- 3) emotion
- 4) elation

Correct Answer: emotion

Candidate Answer: compassion

KnowledgePhilic.com

UPSC – SSC – Bank – Railway – LIC – FCI – DMRC