



Staff Selection Commission
(Government Of India)

REGISTRATION NUMBER : KnowledgePhilic.com

EXAM DATE : 16-January-2017

EXAM NAME : SSC Examination 2016

TOTAL MARKS : 200

CANDIDATE NAME : KnowledgePhilic.com

EXAM START TIME : 13:15:00

EXAM DURATION : 01:15 Hrs

TOTAL NO OF QUESTIONS : 100

QID : 101 - Select the related word/letters/number from the given alternatives.

Pacific : Ocean :: Nile : ?

दिए गए विकल्पों में से संबंधित शब्द/अक्षर/संख्या को चुनिए।

प्रशांत : महासागर :: नील : ?

Options:

1) Waterfall

झरना

2) River

नदी

3) Mountain

पर्वत

4) Lake

झील

Correct Answer: River

नदी

Candidate Answer: River

नदी

QID : 102 - Select the related word/letters/number from the given alternatives.

DEMONSTRATE : NOMEDSETART :: CORRUPT : ?

दिए गए विकल्पों में से संबंधित शब्द/अक्षर/संख्या को चुनिए।

DEMONSTRATE : NOMEDSETART :: CORRUPT : ?

Options:

1) ORCRUPT

2) TPURROC

3) ROCRTPU

4) ROCRUPT

Correct Answer: ROCRTPU

Candidate Answer: ROCRTPU

QID : 103 - Select the related word/letters/number from the given alternatives.

MN : NM :: JK : ?

दिए गए विकल्पों में से संबंधित शब्द/अक्षर/संख्या को चुनिए।

MN : NM :: JK : ?

Options:

1) RS

2) SR

3) QP

4) PQ

Correct Answer: QP

Candidate Answer: QP

QID : 104 - Select the related word/letters/number from the given alternatives.

85 : 58 :: 64 : ?

दिए गए विकल्पों में से संबंधित शब्द/अक्षर/संख्या को चुनिए।

85 : 58 :: 64 : ?

Options:

- 1) 42
- 2) 36
- 3) 46
- 4) 26

Correct Answer: 46

Candidate Answer: 46

QID : 105 - Find out the odd word/letters/number/number pair from the given alternatives.

दिए गए विकल्पों में से विषम शब्द/अक्षर/संख्या/संख्या युगम को चुनिए।

Options:

- 1) Lithosphere
स्थलमंडल
- 2) Hydrosphere
जलमंडल
- 3) Biosphere
जीवमंडल
- 4) Mantle
आवरण

Correct Answer: Mantle

आवरण

Candidate Answer: Mantle

आवरण

QID : 106 - Find out the odd word/letters/number/number pair from the given alternatives.

दिए गए विकल्पों में से विषम शब्द/अक्षर/संख्या/संख्या युगम को चुनिए।

Options:

- 1) WT
- 2) SR
- 3) ED
- 4) KJ

Correct Answer: WT

Candidate Answer: WT

QID : 107 - Find out the odd word/letters/number/number pair from the given alternatives.

दिए गए विकल्पों में से विषम शब्द/अक्षर/संख्या/संख्या युगम को चुनिए।

Options:

- 1) 27
- 2) 8
- 3) 64
- 4) 124

Correct Answer: 124

Candidate Answer: 124

QID : 108 - Find out the odd word/letters/number/number pair from the given alternatives.

दिए गए विकल्पों में से विषम शब्द/अक्षर/संख्या/संख्या युगम को चुनिए।

Options:

- 1) 5306
- 2) 2147
- 3) 4205
- 4) 4308

Correct Answer: 4308

Candidate Answer: 2147

QID : 109 - A series is given with one term missing. Choose the correct alternative from the given ones that will complete the series.

Inch, Decameter, Foot, ?

एक अनुक्रम दिया गया है, जिसमें से एक पद लुप्त है। दिए गए विकल्पों में से वह सही विकल्प चुनिए जो अनुक्रम को पूरा करे।

इंच, डेकामीटर, फुट, ?

Options:

- 1) Decimeter
डेसीमीटर
- 2) Millimeter
मिलीमीटर
- 3) Centimeter
सेंटीमीटर
- 4) Meter
मीटर

Correct Answer: Meter

मीटर

Candidate Answer: [NOT ANSWERED]

QID : 110 - A series is given with one term missing. Choose the correct alternative from the given ones that will complete the series.

5, 8, 12, 17, 23, ?

एक अनुक्रम दिया गया है, जिसमें से एक पद लुप्त है | दिए गए विकल्पों में से वह सही विकल्प चुनिए जो अनुक्रम को पूरा करे।

5, 8, 12, 17, 23, ?

Options:

- 1) 30
- 2) 72
- 3) 65
- 4) 48

Correct Answer: 30

Candidate Answer: 30

QID : 111 - In the following question, two statements are given each followed by two conclusions I and II. You have to consider the statements to be true even if they seem to be at variance from commonly known facts. You have to decide which of the given conclusions, if any, follows from the given statements.

Statement:

- (I) Some authors are teachers.
- (II) No teacher is a lady.

Conclusions:

- (I) Some teachers are not ladies.
- (II) Some ladies are not teachers.

निम्नलिखित प्रश्न में, दो कथन दिए गए हैं जिनके आगे दो निष्कर्ष I और II निकाले गए हैं। आपको मानना है कि कथन सत्य है चाहे वे सामान्यतः ज्ञात तथ्यों से भिन्न प्रतीत होते हों। आपको निर्णय करना है कि दिए गए निष्कर्षों में से कौन सा/कौन से निश्चित रूप से कथनों द्वारा सही निकाला जा सकता है/सकते हैं, यदि कोई हो।

कथन:

- (I) कुछ लेखक, शिक्षक हैं।
- (II) कोई शिक्षक, स्त्री नहीं है।

निष्कर्ष:

- (I) कुछ शिक्षक, स्त्रियां नहीं हैं।
- (II) कुछ स्त्रियां, शिक्षक हैं।

Options:

- 1) Conclusion I follows निष्कर्ष I सही है
- 2) Conclusion II follows निष्कर्ष II सही है
- 3) Neither I nor II follows न तो I और न ही II सही है
- 4) Both I and II follows I और II दोनों सही हैं

Correct Answer: Conclusion I follows

निष्कर्ष I सही है

Candidate Answer: Neither I nor II follows

न तो I और न ही II सही है

QID : 112 - A series is given with one term missing. Choose the correct alternative from the given ones that will complete the series.

AN, EQ, IT, MW, ?

एक अनुक्रम दिया गया है, जिसमें से एक पद लुप्त है | दिए गए विकल्पों में से वह सही विकल्प चुनिए जो अनुक्रम को पूरा करे।

AN, EQ, IT, MW, ?

Options:

- 1) QZ
- 2) KX
- 3) IV
- 4) ZM

Correct Answer: QZ

Candidate Answer: QZ

QID : 113 - A series is given with one term missing. Choose the correct alternative from the given ones that will complete the series.

PRQ, UWV, ZBA, ? , JLK

एक अनुक्रम दिया गया है, जिसमें से एक पद लुप्त है | दिए गए विकल्पों में से वह सही विकल्प चुनिए जो अनुक्रम को पूरा करे।

PRQ, UWV, ZBA, ? , JLK

Options:

- 1) FHG
- 2) EGF
- 3) DFE
- 4) FGE

Correct Answer: EGF

Candidate Answer: EGF

QID : 114 - Chandan is 2 years older than Ankit but 1 year younger than Sumit. Ankit is twice as old as Khushboo. If Khushboo's age is 25 years, what is the age (in years) of Sumit?

चन्दन, अंकित से उम्र में 2 वर्ष बड़ा है किन्तु सुमित से 1 वर्ष छोटा है। अंकित की उम्र खुशबू की उम्र से दो गुणा है। यदि खुशबू की उम्र 25 वर्ष है, तो सुमित की उम्र (वर्ष में) क्या है?

[Downloaded From www.KnowledgePhilic.com](http://www.KnowledgePhilic.com)

Options:

- 1) 51
- 2) 53
- 3) 52
- 4) 55

Correct Answer: 53

Candidate Answer: 53

QID : 115 - Arrange the given words in the sequence in which they occur in the dictionary.

- i. Yielded
- ii. Yelp
- iii. Yeast
- iv. Yogurt

निम्नलिखित शब्दों को शब्दकोश में आने वाले क्रम के अनुसार लिखें।

- i. Yielded
- ii. Yelp
- iii. Yeast
- iv. Yogurt

Options:

- 1) ii, iii, iv, i
- 2) iii, ii, i, iv
- 3) iv, i, ii, iii
- 4) i, ii, iii, iv

Correct Answer: iii, ii, i, iv

Candidate Answer: iii, ii, i, iv

QID : 116 - In a certain code language, "MATERIAL" is written as "RIALMATE". How is "REMEMBER" written in that code language?

एक विशिष्ट कोड भाषा में "MATERIAL" को "RIALMATE" लिखा जाता है। इस कोड भाषा में "REMEMBER" को किस प्रकार लिखा जाएगा?

Options:

- 1) REMEREBM
- 2) MBEREMER
- 3) MBERREME
- 4) MBERREEM

Correct Answer: MBERREME

Candidate Answer: MBERREME

QID : 117 -

In the following question, select the missing number from the given series.

निम्नलिखित प्रश्न में दिए गए विकल्पों में से लुप्त अंक ज्ञात कीजिए।

5	8	32
9	6	48
7	9	?

Options:

- 1) 45
- 2) 48
- 3) 54
- 4) 64

Correct Answer: 54

Candidate Answer: 54

QID : 118 - If "S" denotes "multiplied by", "P" denotes "subtracted from", "R" denotes "added to" and "Q" denotes "divided by", then $14641 \text{ Q } 121 \text{ P } 100 \text{ S } 2 \text{ R } 100 = ?$

यदि "S" का अर्थ "गुणा" है, "P" का अर्थ "घटाना" है, "R" का अर्थ "जोड़" है और "Q" का अर्थ "भाग" है, तो $14641 \text{ Q } 121 \text{ P } 100 \text{ S } 2 \text{ R } 100 = ?$

Options:

- 1) 48
- 2) 21
- 3) 61
- 4) 31

Correct Answer: 21

Candidate Answer: 21

QID : 119 - Which set of letters when sequentially placed at the gaps in the given letter series shall complete it?

_BC_Q_AB_P_R

अक्षरों का कौन सा समूह खाली स्थानों पर क्रमवार रखने से दी गई अक्षर श्रृंखला को पूरा करेगा

_BC_Q_AB_P_R

Options:

1) PARCQ

2) APQRC

3) APRCQ

4) ACRPR

Correct Answer: APRCQ

Candidate Answer: APRCQ

QID : 120 - A man is facing towards the east. He turns towards north and walks for 5 km, and then turns 270 degrees anticlockwise and walks for 12 km more. What is the minimum distance between his initial and final position?

एक आदमी पूर्व की ओर मुंह किए खड़ा है। वह उत्तर की ओर मुड़ता है और 5 कि.मी. चलता है, और फिर वह 270 डिग्री घड़ी की सुई के चलने की विपरीत दिशा में घूमकर 12 कि.मी. और चलता है। उसके शुरुआती और अंतिम स्थान के बीच की न्यूनतम दूरी क्या है?

Options:

1) 17 km

17 कि.मी.

2) 13 km

13 कि.मी.

3) 11 km

11 कि.मी.

4) 9 km

9 कि.मी.

Correct Answer: 13 km

13 कि.मी.

Candidate Answer: 13 km

13 कि.मी.

QID : 121 -

A word is represented by only one set of numbers as given in any one of the alternatives. The sets of numbers given in the alternatives are represented by two classes of alphabets as shown in the given two matrices. The columns and rows of Matrix-I are numbered from 0 to 4 and that of Matrix-II are numbered from 5 to 9. A letter from these matrices can be represented first by its row and next by its column, for example, 'N' can be represented by 21, 67 etc. and 'R' can be represented by 66, 57 etc. Similarly, you have to identify the set for the word 'GOLF'.

एक शब्द केवल एक संख्या-समूह द्वारा दर्शाया गया है, जैसा कि विकल्पों में से किसी एक में दिया गया है। विकल्पों में दिए गए संख्या-समूह अक्षरों के दो वर्गों द्वारा दर्शाए गए हैं, जैसा कि दिए गए दो आव्यूहों में है। आव्यूह-I के स्तम्भ और पंक्ति की संख्या 0 से 4 और आव्यूह-II की 5 से 9 है। इन आव्यूहों से एक अक्षर को पहले उसकी पंक्ति और बाद में स्तम्भ संख्या द्वारा दर्शाया जा सकता है। उदाहरण के लिए 'N' को 21, 67 आदि द्वारा दर्शाया जा सकता है तथा 'R' को 66, 57 आदि द्वारा दर्शाया जा सकता है। इसी तरह से आपको प्रश्न में दिए शब्द 'GOLF' के लिए समूह को पहचानना है।

Matrix-I

आव्यूह - I

	0	1	2	3	4
0	Q	R	A	N	B
1	W	I	N	H	L
2	E	N	S	G	O
3	N	Y	G	O	M
4	L	T	O	F	A

Matrix-II

आव्यूह - II

	5	6	7	8	9
5	Z	M	R	I	L
6	O	R	N	W	G
7	C	S	Y	E	U
8	S	N	T	G	S
9	G	B	E	R	U

Options:

1) 95, 24, 59, 43

2) 32, 65, 14, 79

3) 88, 33, 40, 14

4) 69, 43, 59, 20

Correct Answer: 95, 24, 59, 43

Candidate Answer: 95, 24, 59, 43

QID : 122 - Introducing a woman, a boy says, "She is the wife of my grandfather's son". How is the woman related to the boy?

एक महिला का परिचय कराते हुए एक लड़का कहता है, "वह, मेरे दादा के बेटे की पत्नी हैं।" वह महिला उस लड़के से कैसे संबंधित है?

Options:

1) Aunt

चाची

2) Wife

पत्नी

3) Mother

माँ

4) Cannot be determined

निर्धारित नहीं किया जा सकता

Correct Answer: Cannot be determined

निर्धारित नहीं किया जा सकता

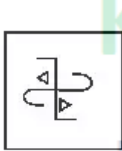
Candidate Answer: Mother

माँ

QID : 123 -

If a mirror is placed on the line MN, then which of the answer figures is the right image of the given figure?

यदि एक दर्पण को MN रेखा पर रखा जाए, तो दी गई उत्तर आकृतियों में से कौन सी आकृति प्रश्न आकृति का सही प्रतिबिम्ब होगा ?

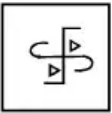


KnowledgePhilic.com

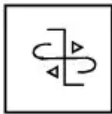
UPSC | SSC | Bank | Railway | Lic | Fci | DMRC

Options:

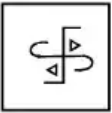
1)



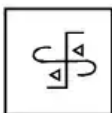
2)



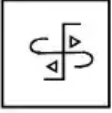
3)



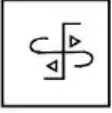
4)



Correct Answer:



Candidate Answer:



QID : 124 - Identify the diagram that best represents the relationship among the given classes.

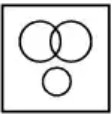
World, India, Delhi

वह आरेख चुनिए जो नीचे दिए गए वर्गों के बीच के संबंध का सही निरूपण करता है।

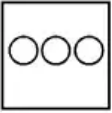
विश्व, भारत, दिल्ली

Options:

1)



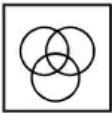
2)



3)



4)



Correct Answer:



Candidate Answer:



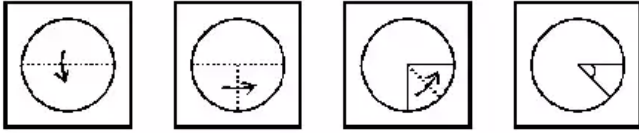
KnowledgePhilic.com

UPSC | SSC | Bank | Railway | Lic | Fci | DMRC

QID : 125 -

A piece of paper is folded and punched as shown below in the question figures. From the given answer figures, indicate how it will appear when opened.

नीचे प्रश्न आकृतियों में दशयि अनुसार कागज को मोड़कर छेदने तथा खोलने के बाद वह किस उत्तर आकृति जैसा दिखाई देगा?



Options:

1)



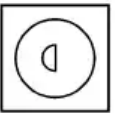
2)



3)



4)



Correct Answer:



Candidate Answer:



QID : 126 - Raymond Samuel Tomilson is famous for developing which of the following?

रेमंड सेम्युअल टोमिलसन निम्नलिखित में से किसका विकास करने के लिए प्रसिद्ध है?

Options:

1) E-Mail

ई-मेल

2) SMS

एसएमएस

3) Facebook

फेसबुक

4) Orkut

ऑरकुट

Correct Answer: E-Mail

ई-मेल

Candidate Answer: [NOT ANSWERED]

KnowledgePhilic.com

UPSC | SSC | Bank | Railway | Lic | Fci | DMRC

QID : 127 - Sewing machine was invented by

सिलाई की मशीन का _____ के द्वारा आविष्कार किया गया था।

Options:

- 1) Alfred P. Southwick
अल्फ्रेड पी.साउथविक
- 2) Isaac Singer
आइजेक सिंगर
- 3) Murasaki Shikibu
मुरासाकी शिकुबू
- 4) Hanaoka Seishu
हनाओका सीशू

Correct Answer: Isaac Singer
आइजेक सिंगर

Candidate Answer: [NOT ANSWERED]

QID : 128 - Which is the second largest gland of Human body?

मानव शरीर की दूसरी सबसे बड़ी ग्रंथी कौनसी है?

Options:

- 1) Liver
यकृत
- 2) Large Intestine
बड़ी आंत
- 3) Thorax
छाती
- 4) Pancreas
अग्न्याशय

Correct Answer: Pancreas
अग्न्याशय

Candidate Answer: [NOT ANSWERED]

QID : 129 - Annona squamosa is the scientific name of

एनोना स्क्वामोसा (Annona squamosa) _____ का वैज्ञानिक नाम है।

Options:

- 1) Custard Apple
सीताफल
- 2) Papaya
पपीता
- 3) Babhul
बबूल
- 4) Drumstick
सहजन

Correct Answer: Custard Apple
सीताफल

Candidate Answer: [NOT ANSWERED]

QID : 130 - Binomial Nomenclature was founded by

द्विपदीय नामकरण पद्धति की स्थापना _____ द्वारा की गई थी।

Options:

- 1) Charles Darwin
चार्ल्स डार्विन
- 2) Robert Nucleus
रोबर्ट न्यूक्लियस
- 3) Carl Linnaeus
कार्ल लिनाइयस
- 4) Lamarck
लेमार्क

Correct Answer: Carl Linnaeus
कार्ल लिनाइयस

Candidate Answer: [NOT ANSWERED]

QID : 131 - Which among the following is false about acids?

अम्लों के बारे में निम्नलिखित में से कौन सी बात गलत है?

Options:

- 1) They give H⁺ ions in aqueous solution
वे जलीय विलयन में H⁺ आयन देते हैं।
- 2) Most acids contain hydrogen
अधिकांश अम्लों में हाइड्रोजन होता है।
- 3) They turn blue litmus red
वे नीले लिटमस को लाल बना देते हैं।
- 4) They are bad conductor of electricity in aqueous solution
वे जलीय विलयन में विद्युत के कुचालक हैं।

Correct Answer: They are bad conductor of electricity in aqueous solution
वे जलीय विलयन में विद्युत के कुचालक हैं।

Candidate Answer: They are bad conductor of electricity in aqueous solution
वे जलीय विलयन में विद्युत के कुचालक हैं।

KnowledgePhilic.com

UPSC | SSC | Bank | Railway | Lic | Fci | DMRC

QID : 132 - Which among the following is used in making liquors, medicines and as a fuel in aircrafts?

निम्नलिखित में से किसका शराब, दवाइयों और वायुयानों में इंधन के रूप में उपयोग किया जाता है?

Options:

- 1) Propyl alcohol
प्रोपाइल अल्कोहल
- 2) Dimethyl alcohol
डाइमिथाइल अल्कोहल
- 3) Ethyl alcohol
इथाइल अल्कोहल
- 4) Methyl alcohol
मिथाइल अल्कोहल

Correct Answer: Ethyl alcohol
इथाइल अल्कोहल

Candidate Answer: Ethyl alcohol
इथाइल अल्कोहल

QID : 133 - The famous 'Hawa Mahal' is in which city of Rajasthan?

प्रसिद्ध 'हवा महल' राजस्थान के किस शहर में है?

Options:

- 1) Ajmer
अजमेर
- 2) Jodhpur
जोधपुर
- 3) Jaipur
जयपुर
- 4) Kota
कोटा

Correct Answer: Jaipur
जयपुर

Candidate Answer: Jodhpur
जोधपुर

QID : 134 - Where is Pushkar Fair held?

पुष्कर मेला कहाँ आयोजित किया जाता है?

Options:

- 1) Bihar
बिहार
- 2) Uttar Pradesh
उत्तरप्रदेश
- 3) Madhya Pradesh
मध्यप्रदेश
- 4) Rajasthan
राजस्थान

Correct Answer: Rajasthan
राजस्थान

Candidate Answer: [NOT ANSWERED]

QID : 135 - If a person's income increases from Rs. 10 lakhs per year to Rs. 11 lakhs per year and tax increases from Rs. 80,000 to Rs. 92,500 the marginal tax rate is

यदि एक व्यक्ति की आय प्रति वर्ष 10 लाख रूप से प्रति वर्ष 11 लाख रूप बढ़ जाती है और टैक्स 80,000 रूप से बढ़ कर 92,500 रूप हो जाता है, तो सीमांत कर दर क्या है?

Options:

- 1) 12.50%
- 2) 8%
- 3) 10%
- 4) 15%

Correct Answer: 12.50%

Candidate Answer: 12.50%

QID : 136 - This tax is entirely borne by the entity it is levied upon and cannot be passed.

यह कर पूरी तरह से लगाई गई इकाई द्वारा वहन किया जाता है और इसे पारित नहीं किया जा सकता।

Options:

- 1) Direct tax
प्रत्यक्ष कर
- 2) Indirect tax
अप्रत्यक्ष कर
- 3) Straight tax
सीधा कर
- 4) Advance tax
अग्रिम कर

Correct Answer: Direct tax
प्रत्यक्ष कर

Candidate Answer: Advance tax
अग्रिम कर

QID : 137 - Kaziranga National Park is the only natural habitat of the endangered.

काजीरंगा राष्ट्रीय उद्यान किस लुप्तप्राय प्राणी का इकलौता प्राकृतिक वास है?

Options:

- 1) Snow Leopards
हिम तेंदुएँ
- 2) One-Horned Rhinos
एक सींग का गेंडा
- 3) Asiatic Lions
एशियाई सिंह
- 4) Swamp Deer
दलदली हिरण

Correct Answer: One-Horned Rhinos
एक सींग का गेंडा

Candidate Answer: One-Horned Rhinos
एक सींग का गेंडा

QID : 138 - Magnetite is an ore/mineral of

मैग्नेटाइट _____ का एक अयस्क/खनिज है।

Options:

- 1) Beryllium
बेरिलियम
- 2) Chromium
क्रोमियम
- 3) Iron
आयरन
- 4) Lead
लेड

Correct Answer: Iron
आयरन

Candidate Answer: Iron
आयरन

QID : 139 - Who directed the movie - "The man who knew infinity"?

"द मैन हू न्यू इन्फिनिटी" फिल्म का निर्देशन किसने किया था?

Options:

- 1) Matthew Brown
मैथ्यू ब्राउन
- 2) Christopher Nolan
क्रिस्टोफर नोलन
- 3) Martin Scorsese
मार्टिन स्कोरसेसे
- 4) Alfred Hitchcock
अल्फ्रेड हिचकॉक

Correct Answer: Matthew Brown
मैथ्यू ब्राउन

Candidate Answer: [NOT ANSWERED]

QID : 140 - Which among the following is not an inner planet?

निम्नलिखित में से कौन सा एक आंतरिक ग्रह नहीं है?

Options:

- 1) Mercury
बुध
- 2) Saturn
शनि
- 3) Venus
शुक्र
- 4) Earth
पृथ्वी

Correct Answer: Saturn
शनि

Candidate Answer: [NOT ANSWERED]

QID : 141 - Earth is also known as _____.

पृथ्वी को _____ के नाम से भी जाना जाता है।

Options:

- 1) Orange planet
अरिज ग्रह
- 2) Green planet
हरा ग्रह
- 3) Blue planet
नीला ग्रह
- 4) Yellow planet
पीला ग्रह

Correct Answer: Blue planet
नीला ग्रह

Candidate Answer: Blue planet
नीला ग्रह

QID : 142 - Who was the last Mughal emperor?

अंतिम मुगल बादशाह कौन था?

KnowledgePhilic.com

UPSC | SSC | Bank | Railway | Lic | Fci | DMRC

Options:

- 1) Babar
बाबर
- 2) Noor Jehan
नूरजहाँ
- 3) Akbar
अकबर
- 4) Bahadur Shah
बहादुर शाह

Correct Answer: Bahadur Shah
बहादुर शाह

Candidate Answer: Bahadur Shah
बहादुर शाह

QID : 143 - Lal Bahadur Shastri was born in the year

लालबहादुर शास्त्री का जन्म वर्ष _____ में हुआ था।

Options:

- 1) 1844
- 2) 1864
- 3) 1884
- 4) 1904

Correct Answer: 1904

Candidate Answer: [NOT ANSWERED]

QID : 144 - First Indian to win an Individual Olympic medal?

एक व्यक्तिगत ओलंपिक पदक जीतने वाले प्रथम भारतीय का नाम क्या है?

Options:

- 1) Milkha Singh
मिल्खा सिंह
- 2) P.T. Usha
पी.टी.उषा
- 3) Leander Paes
लिएंडर पेस
- 4) K.D. Jadhav
के.डी.जाधव

Correct Answer: K.D. Jadhav
के.डी.जाधव

Candidate Answer: Leander Paes
लिएंडर पेस

KnowledgePhilic.com

QID : 145 - Light travels fastest in UPSC | SSC | Bank | Railway | Lic | Fci | DMRC

प्रकाश _____ में सबसे तेज गति से यात्रा करता है।

Options:

- 1) Nitrogen
नाइट्रोजन
- 2) Air
वायू
- 3) Steel
इस्पात
- 4) Vacuum
निर्वात

Correct Answer: Vacuum
निर्वात

Candidate Answer: Vacuum
निर्वात

QID : 146 - What is impulse equal to?

आवेग किसके तुल्य होता है?

Options:

- 1) Change in momentum
वेग में परिवर्तन
- 2) Change in force
बल में परिवर्तन
- 3) Change in velocity
गति में परिवर्तन
- 4) Change in acceleration
त्वरण में परिवर्तन

Correct Answer: Change in momentum
वेग में परिवर्तन

Candidate Answer: Change in momentum
वेग में परिवर्तन

QID : 147 - Which country's constitution is the world's longest?

किस देश का संविधान विश्व में सबसे लंबा है?

Options:

- 1) United States of America
यूनाइटेड स्टेट्स ऑफ़ अमरीका
- 2) China
चीन
- 3) India
भारत
- 4) Great Britain
ग्रेट ब्रिटेन

Correct Answer: India
भारत

Candidate Answer: India
भारत

QID : 148 - Who among the following is addressed as the Chairman of Rajya Sabha?

राज्यसभा अध्यक्ष के रूप में निम्नलिखित में से किसका उल्लेख किया जाता है?

Options:

- 1) Prime Minister
प्रधानमंत्री
- 2) Chief Justice
मुख्य न्यायाधीश
- 3) Vice-President
उप राष्ट्रपति
- 4) Attorney General
अटर्नी जनरल

Correct Answer: Vice-President
उप राष्ट्रपति

Candidate Answer: Vice-President
उप राष्ट्रपति

QID : 149 - Ryder Cup is associated with which sport

राइडर कप किस खेल के साथ जुड़ा हुआ है?

Options:

- 1) Horse Race
घुड़दौड़
- 2) Football
फूटबॉल
- 3) Cycling
सायकलिंग
- 4) Golf
गोल्फ़

Correct Answer: Golf
गोल्फ़

Candidate Answer: Golf
गोल्फ़

QID : 150 - Who wrote the book "Passage to India"?

"पैसेज टू इंडिया " पुस्तक किसने लिखी है?

Options:

- 1) Anita Desai
अनीता देसाई
- 2) Khushwant Singh
खुशवंत सिंग
- 3) Mark Twain
मार्क ट्वेन
- 4) E. M. Foster
ई.एम.फ़ोस्टर

Correct Answer: E. M. Foster
ई.एम.फ़ोस्टर

Candidate Answer: [NOT ANSWERED]

QID : 151 - The ratio of present ages of Ramita and Satyajit is 9:7. After 9 years the ratio of their ages will be 5:4. What is Ramita's present age?

रामिता और सत्याजित की वर्तमान आयु का अनुपात 9:7 है। 9 वर्षों बाद उनकी आयु का अनुपात 5:4 होगा। रामिता की वर्तमान आयु कितनी है?

Options:

- 1) 81
- 2) 63
- 3) 56
- 4) 80

Correct Answer: 81

Candidate Answer: 81

QID : 152 - $(\sec A - \tan A)/(\operatorname{cosec} A + \cot A)$ is equal to

$(\sec A - \tan A)/(\operatorname{cosec} A + \cot A)$ किसके बराबर है

KnowledgePhilic.com

UPSC | SSC | Bank | Railway | Lic | Fci | DMRC

Options:

1) $(\sec A - \cot A) / (\operatorname{cosec} A + \tan A)$

2) $(\sec A - \cos A) / (\operatorname{cosec} A + \sin A)$

3) $(\operatorname{cosec} A - \cot A) / (\sec A + \tan A)$

4) $(\sec A + \cos A) / (\operatorname{cosec} A - \sin A)$

Correct Answer: $(\operatorname{cosec} A - \cot A) / (\sec A + \tan A)$

Candidate Answer: [NOT ANSWERED]

QID : 153 - ABCD is a kite where $m\angle A$ is 90° and $m\angle C$ is 60° . If length of AB is 6 cm, what is the length of diagonal AC?

ABCD एक पतंग है, जहाँ $m\angle A$ 90° है और $m\angle C$ 60° है। यदि AB की लंबाई 6 से.मी. है, तो विकर्ण AC की लंबाई क्या होगी?

Options:

1) $6(\sqrt{2} + \sqrt{3})$ cm

$6(\sqrt{2} + \sqrt{3})$ से.मी.

2) $2(\sqrt{3} + \sqrt{6})$ cm

$2(\sqrt{3} + \sqrt{6})$ से.मी.

3) $2(\sqrt{2} + \sqrt{3})$ cm

$2(\sqrt{2} + \sqrt{3})$ से.मी.

4) $3(\sqrt{2} + \sqrt{6})$ cm

$3(\sqrt{2} + \sqrt{6})$ से.मी.

Correct Answer: $3(\sqrt{2} + \sqrt{6})$ cm

$3(\sqrt{2} + \sqrt{6})$ से.मी.

Candidate Answer: [NOT ANSWERED]

QID : 154 - A trader had 9 quintals of wheat. He sold a part of it at 10% profit and the rest at 20% profit, so that he made a total profit of 14%. How much wheat did he sell at 20% profit?

एक व्यापारी के पास 9 क्विंटल गेहूँ था। उसने कुछ हिस्सा 10% लाभ और बाकी का हिस्सा 20% लाभ पर बेच दिया, इस प्रकार उसे कुल 14% लाभ हुआ। उसने 20% लाभ पर कितना गेहूँ बेचा?

Options:

1) 540 kg

540 किलोग्राम

2) 360 kg

360 किलोग्राम

3) 180 kg

180 किलोग्राम

4) 720 kg

720 किलोग्राम

Correct Answer: 360 kg

360 किलोग्राम

Candidate Answer: [NOT ANSWERED]

QID : 155 - Find 2 consecutive natural numbers, sum of whose squares is 25.

वे दो क्रमागत प्राकृतिक संख्याएँ क्या हैं, जिनके वर्गों का योग 25 है।

Options:

1) 2, 3

2) 3, 4

3) 4, 5

4) 1, 4

Correct Answer: 3, 4

Candidate Answer: 3, 4

QID : 156 - A factory buys 7 machines. 2 Machine-A, 4 Machine-B and rest Machine-C. Prices of the machines are Rs 56000, Rs 45000 and Rs 30000 respectively. Calculate the average cost of these machines.

एक कारखाने में 7 मशीनों को खरीदा जाता है। इनमें 2 मशीनें A, 4 मशीनें B और बाकी की मशीनें C हैं। इन मशीनों के दाम क्रमशः 56000 रुपये, 45000 रुपये और 30000 रुपये हैं। इन मशीनों की औसत लागत की गणना करें।

Options:

1) 46000

2) 43666.66

3) 41333.33

4) 44500

Correct Answer: 46000

Candidate Answer: 46000

QID : 157 - Coefficient of x^2 in $6x^3 + 4x^2 + 2x + 3$ is

$6x^3 + 4x^2 + 2x + 3$ में x^2 के गुणांक हैं

Options:

1) 4

2) 6

3) 3

4) 2

Correct Answer: 4

Candidate Answer: 4

KnowledgePhilic.com

UPSC | SSC | Bank | Railway | Lic | Fci | DMRC

QID : 158 - Azhar is 4 times as good a workman as Balaraj and therefore is able to finish a job in 45 days less than Balaraj. Working together, they can do it in:

अजहर बलराज से 4 गुना अधिक अच्छा कर्मचारी है और इसी कारण वह एक काम उससे 45 दिन कम में पूरा कर सकता है. दोनों साथ मिलकर वह काम कितने दिन में करेंगे?

Options:

- 1) 6 days
6 दिन
- 2) 18 days
18 दिन
- 3) 24 days
24 दिन
- 4) 12 days
12 दिन

Correct Answer: 12 days
12 दिन

Candidate Answer: 12 days
12 दिन

QID : 159 - Find k, if the line $2x - 3y = 11$ is perpendicular to the line $3x + ky = -4$?

k का पता लगाएं, यदि रेखा $2x - 3y = 11$ रेखा $3x + ky = -4$ पर लंबवत है?

Options:

- 1) -2
- 2) 1
- 3) -1
- 4) 2

Correct Answer: 2

Candidate Answer: 2

QID : 160 - On dividing $8a^2b^2c^2$ by $4a^2$, we get

$4a^2$ द्वारा $8a^2b^2c^2$ को विभाजित करने पर हमें प्राप्त होता है

Options:

- 1) $2b^2$
- 2) $2c^2$
- 3) $2b^2c^2$
- 4) 2

Correct Answer: $2b^2c^2$

Candidate Answer: $2b^2c^2$

KnowledgePhilic.com

UPSC | SSC | Bank | Railway | Lic | Fci | DMRC

QID : 161 - The point P (a,b) is first reflected in origin to P1 and P1 is reflected in Y-axis to (4,-3). The co-ordinates of point P are

बिंदु P (a,b) मूल में प्रथम P1 पर परावर्तित होता है और y- अक्ष पर P1 (4, -3) पर परावर्तित होता है। बिंदु P के निर्देशांक क्या हैं?

Options:

- 1) (4,3)
- 2) (-4,3)
- 3) (-3,4)
- 4) (3,-4)

Correct Answer: (4,3)

Candidate Answer: (-4,3)

QID : 162 - An engineering student has to secure 25% marks to pass. He gets 45 and fails by 45 marks. Find the maximum marks.

एक इंजीनियरिंग छात्र को उत्तीर्ण होने के लिए 25% अंक हासिल करने होते हैं। उसे 45 अंक मिलते हैं और वह 45 अंकों से अनुत्तीर्ण हो जाता है। उस परीक्षा के अधिकतम अंक कितने होंगे?

Options:

- 1) 385 marks
385 अंक
- 2) 410 marks
410 अंक
- 3) 435 marks
435 अंक
- 4) 360 marks
360 अंक

Correct Answer: 360 marks
360 अंक

Candidate Answer: 360 marks
360 अंक

QID : 163 - A man travels 430 kilometres in, partly by rail and partly by steamer. He spends 10 hours more time on steamer. If the velocity of the steamer is 25 km/hr and the velocity of rail is 65 km/hr, how much distance does he cover by steamer?

एक आदमी 430 किलोमीटर की यात्रा आंशिक रूप से रेल द्वारा और आंशिक रूप से जहाज द्वारा पूरी करता है। वह जहाज पर 10 घंटे अधिक समय खर्च करता है। यदि जहाज की गति 25 किमी/घंटा है और रेलगाड़ी की गति 65 किलोमीटर/घंटा है, वह जहाज से कितनी दूरी तय करता है?

Options:

- 1) 360 km
360 किमी
- 2) 300 km
300 किमी
- 3) 450 km
450 किमी
- 4) 540 km
540 किमी

Correct Answer: 300 km
300 किमी

Candidate Answer: 300 km
300 किमी

QID : 164 - The largest 5 digit number exactly divisible by 89 is:

89 से पूरी तरह से विभाज्य होने वाली 5 अंको की अधिकतम संख्या कौनसी है?

Options:

- 1) 99947
- 2) 99940
- 3) 99938
- 4) 99939

Correct Answer: 99947

Candidate Answer: 99947

QID : 165 - $\sqrt{(1 + \tan^2 A)}/\tan A$ is equal to

$\sqrt{(1 + \tan^2 A)}/\tan A$ किसके बराबर है

Options:

- 1) secA
- 2) sinA
- 3) cosecA
- 4) cosA

Correct Answer: cosecA

Candidate Answer: cosecA

QID : 166 - On a certain principal if the simple interest for two years is Rs 2800 and compound interest for the two years is Rs 2996, what is the rate of Interest?

किसी मूलधन पर यदि दो वर्षों का साधारण ब्याज 2800 रूपए और चक्रवृद्धि ब्याज 2996 रूपए है, तो ब्याज दर कितनी है?

Options:

- 1) 14 percent
14 प्रतिशत
- 2) 7 percent
7 प्रतिशत
- 3) 28 percent
28 प्रतिशत
- 4) 21 percent
21 प्रतिशत

Correct Answer: 14 percent
14 प्रतिशत

Candidate Answer: 14 percent
14 प्रतिशत

QID : 167 - A rectangular swimming pool of length 20 m and breadth 10 m has a uniformly sloping floor. It is 1 m in depth on one end of its length and 3 m at the other. How much water is needed to completely fill this pool? (Take $\pi = 22/7$)

20 मी की लंबाई और 10 मी की चौड़ाई वाले एक आयताकार स्विमिंग पूल में एक समान रूप से झुका हुआ फर्श है। इसकी लंबाई के एक छोर की गहराई 1 मी और दूसरे छोर की गहराई 3 मी है। इस पूल को पूरी तरह से भरने के लिए कितने पानी की जरूरत होगी? ($\pi = 22/7$ लीजिये)

Options:

- 1) 800 cubic metres
800 घन मी
- 2) 300 cubic metres
300 घन मी
- 3) 480 cubic metres
480 घन मी
- 4) 400 cubic metres
400 घन मी

Correct Answer: 400 cubic metres
400 घन मी

Candidate Answer: [NOT ANSWERED]

QID : 168 - What is the value of $\sec 4\pi/3$?

$\sec 4\pi/3$ का मान क्या है?

KnowledgePhilic.com

UPSC + SSC + Bank + Railway + Etc + FC + DMRC

Options:

- 1) 2
- 2) -2
- 3) $2/\sqrt{3}$
- 4) $-2/\sqrt{3}$

Correct Answer: -2

Candidate Answer: -2

QID : 169 - Find the radius of the circle if the area of its sector is 30.8 sq cm whose corresponding central angle is 72° ?

उस वृत्त की त्रिज्या का पता लगाएं, अगर उसके क्षेत्र का क्षेत्रफल 30.8 वर्ग से.मी. है और जिसका संबंधित केंद्रीय कोण 72° है?

Options:

- 1) 3.5 cm
3.5 से.मी.
- 2) 7 cm
7 से.मी.
- 3) 14 cm
14 से.मी.
- 4) 10.5 cm
10.5 से.मी.

Correct Answer: 7 cm

7 से.मी.

Candidate Answer: 7 cm

7 से.मी.

QID : 170 - If $2x + 6y = 3xy$ and $10x - 3y = 4xy$, find x, y.

यदि $2x + 6y = 3xy$ और $10x - 3y = 4xy$, तो x और y को ज्ञात करें।

Options:

- 1) 3, 2
- 2) 2, 3
- 3) 4, 6
- 4) 6, 4

Correct Answer: 3, 2

Candidate Answer: 3, 2

QID : 171 - If a merchant offers a discount of 10% on the list price, then she makes a loss of 25%. What % profit or % loss will she make if she sells at a discount of 20% of the list price?

यदि एक व्यापारी सूची मूल्य पर 10% की छूट प्रदान करती है, तो उसे 25% का नुकसान होता है। अगर वह सूची मूल्य पर 20% की छूट पर माल बेचती है तो उसे कितने % लाभ या कितने % हानि होगी?

Options:

- 1) 5 percent profit
5 प्रतिशत लाभ
- 2) 33.33 percent loss
33.33 प्रतिशत हानि
- 3) 90 percent profit
90 प्रतिशत लाभ
- 4) 20 percent profit
20 प्रतिशत लाभ

Correct Answer: 33.33 percent loss

33.33 प्रतिशत हानि

Candidate Answer: 33.33 percent loss

33.33 प्रतिशत हानि

QID : 172 -

Refer the below data table and answer the following Question.

नीचे दिये गए डेटा तालिका के आधार पर निम्नलिखित प्रश्न का उत्तर दें।

	Boys / लड़के	Girls / लड़कियाँ
Medical / मेडिकल	35	80
Engineering / इंजीनियरिंग	90	30

What percent students who chose Engineering are girls?

छात्रों में लड़कियों का प्रतिशत कितना है, जिन्होंने इंजीनियरिंग विषय चुना है?

Options:

- 1) 25
- 2) 12.77
- 3) 27.27
- 4) 33.33

Correct Answer: 25

Candidate Answer: 12.77

QID : 173 -

Refer the below data table and answer the following Question.

नीचे दिये गए डेटा तालिका के आधार पर निम्नलिखित प्रश्न का उत्तर दें।

	Cumulative production संचयी उत्पादन
January / जनवरी	330
February / फरवरी	580
March / मार्च	1210
April / अप्रैल	1800
May / मई	2330
June / जून	2870

How many cars were manufactured in the months of April and May?

मई और अप्रैल माह में कितनी कारें निर्मित हुई थीं?

Options:

1) 1070

2) 1120

3) 1220

4) 4130

Correct Answer: 1120

Candidate Answer: 4130

QID : 174 -

Refer the below data table and answer the following Question.

नीचे दिये गए डेटा तालिका के आधार पर निम्नलिखित प्रश्न का उत्तर दें।

Day of the week सप्ताह का दिन	Distance jogged (in kms) दौड़ी गयी दूरी (किलोमीटर में)
Monday/ सोमवार	4.5
Tuesday / मंगलवार	0.5
Wednesday / बुधवार	1.5
Thursday / गुरुवार	2.5
Friday / शुक्रवार	4
Saturday / शनिवार	4
Sunday / रविवार	3.5

If 400 calories are burned by jogging 5km, how many calories were burnt in the given week?

यदि 5 किलोमीटर दौड़ने से 400 कैलोरी की खपत होती है, तो दिए गए पूरे सप्ताह में कितनी कैलोरी की खपत हुई?

Options:

1) 1690 calories

1690 कैलोरी

2) 1590 calories

1590 कैलोरी

3) 1540 calories

1540 कैलोरी

4) 1640 calories

1640 कैलोरी

Correct Answer: 1640 calories

1640 कैलोरी

Candidate Answer: 1640 calories

1640 कैलोरी

QID : 175 -

Refer the below data table and answer the following Question.

नीचे दिये गए डेटा तालिका के आधार पर निम्नलिखित प्रश्न का उत्तर दें।

Items वस्तु	Yearly Expense in Rs lakhs लाख रुपये में वार्षिक खर्च
Raw Materials / कच्चा माल	7
Labour / श्रम	6
Rent / किराया	5
Interest / ब्याज	5
Taxes / कर	3

Rent and Taxes are what percent of total expenses?

किराया और कर कुल खर्च का कितना प्रतिशत है?

Options:

1) 30.77 percent

30.77 प्रतिशत

2) 23.52 percent

23.52 प्रतिशत

3) 16.27 percent

16.27 प्रतिशत

4) 38.02 percent

38.02 प्रतिशत

Correct Answer: 30.77 percent

30.77 प्रतिशत

Candidate Answer: 30.77 percent

30.77 प्रतिशत

QID : 176 - Improve the bracketed part of the sentence.

The teacher said, "It is time that your daughter (has learned) how to write."

Options:

1) learned

2) had learnt

3) learnt

4) no improvement

Correct Answer: learnt

Candidate Answer: learned

QID : 177 - In the following question, the sentence given with blank to be filled in with an appropriate word. Select the correct alternative out of the four and indicate it by selecting the appropriate option.

For a moment I was _____ blinded by the camera's bright flash.

Options:

1) heavily

2) totally

3) greatly

4) powerfully

Correct Answer: totally

Candidate Answer: totally

QID : 178 - In the following question, some part of the sentence may have errors. Find out which part of the sentence has an error and select the appropriate option. If a sentence is free from error, select 'No Error'.

As it was his first date, (A)/he dressed (B)/himself in best suit. (C)/No error (D)

Options:

1) A

2) B

3) C

4) D

Correct Answer: C

Candidate Answer: C

QID : 179 - In the following question, the sentence given with blank to be filled in with an appropriate word. Select the correct alternative out of the four and indicate it by selecting the appropriate option.

The vehicles involved in the accident were _____ the flow of traffic.

Options:

1) obstructing

2) stalling

3) interfering

4) delaying

Correct Answer: obstructing

Candidate Answer: obstructing

QID : 180 - Select the synonym of

gripe

Options:

- 1) To grieve
- 2) To grasp
- 3) To flatter
- 4) To hold

Correct Answer: To grieve

Candidate Answer: [NOT ANSWERED]

QID : 181 - Select the antonym of

extravagance

Options:

- 1) expensive
- 2) thrift
- 3) cheap
- 4) absurd

Correct Answer: thrift

Candidate Answer: cheap

QID : 182 - Select the antonym of

virtuous

Options:

- 1) vile
- 2) chaste
- 3) kosher
- 4) celibate

Correct Answer: vile

Candidate Answer: [NOT ANSWERED]

QID : 183 - Select the word with the correct spelling.

Options:

- 1) scuries
- 2) snached
- 3) cavortted
- 4) Hispanic

Correct Answer: Hispanic

Candidate Answer: scuries

KnowledgePhilic.com

QID : 184 - Rearrange the parts of the sentence in correct order.

There was a second part

P-are ambivalent about

Q-many people

R-of her decision which

Options:

- 1) QRP
- 2) QPR
- 3) PRQ
- 4) RQP

Correct Answer: RQP

Candidate Answer: RQP

QID : 185 - Select the synonym of

stumpy

Options:

- 1) rangy
- 2) pudgy
- 3) lanky
- 4) lofty

Correct Answer: pudgy

Candidate Answer: [NOT ANSWERED]

QID : 186 - In the following question, a sentence has been given in Direct/Indirect speech. Out of the four alternatives suggested, select the one which best express the same sentence in Indirect/Direct speech.

The policeman said, "I saw a knife here."

Options:

- 1) The policeman exclaimed that he had seen a knife here.
- 2) The policeman said that he had seen a knife there.
- 3) The policeman said he had seen a knife here.
- 4) The policeman told he had seen a knife there.

Correct Answer: The policeman said that he had seen a knife there.

Candidate Answer: The policeman said that he had seen a knife there.

QID : 187 - In the following question, out of the four alternatives, select the alternative which best expresses the meaning of the idiom/phrase.

Rome was not built in a day

[Downloaded From www.KnowledgePhilic.com](http://www.KnowledgePhilic.com)

Options:

- 1) It takes time to create great things
- 2) You have to win many wars to build an empire
- 3) A task done hurriedly fails completely
- 4) Building anything worth while requires skill

Correct Answer: It takes time to create great things

Candidate Answer: It takes time to create great things

QID : 188 - In the following question, out of the four alternatives, select the alternative which is the best substitute of the phrase.

work extremely hard or incessantly.

Options:

- 1) job
- 2) craft
- 3) toil
- 4) activity

Correct Answer: toil

Candidate Answer: toil

QID : 189 - In the following question, some part of the sentence may have errors. Find out which part of the sentence has an error and select the appropriate option. If a sentence is free from error, select 'No Error'.

The audience are(A)/humbly requested to be(B)/seated in their seats.(C)/No error(D)

Options:

- 1) A
- 2) B
- 3) C
- 4) D

Correct Answer: D

Candidate Answer: D

QID : 190 - In the following question, a sentence has been given in Active/Passive voice. Out of four alternatives suggested, select the one which best expresses the same sentence in Passive/Active voice.

I shall have written the full thesis by December.

Options:

- 1) By December I shall have wrote the full thesis.
- 2) The full thesis will have been written by me by December.
- 3) The full Thesis will be wrote by me by December.
- 4) By December the full thesis must have been wrote by me.

Correct Answer: The full thesis will have been written by me by December.

Candidate Answer: The full thesis will have been written by me by December.

QID : 191 - In the following question, out of the four alternatives, select the alternative which is the best substitute of the phrase.

express a proposition, theory, etc. in clear or definite terms.

Options:

- 1) publish
- 2) postulate
- 3) proclaim
- 4) enunciate

Correct Answer: enunciate

Candidate Answer: postulate

QID : 192 - Rearrange the parts of the sentence in correct order.

He would often

P-Brahmacharya if his protests were not functioning the way

Q-he expected

R-critique his own life of

Options:

- 1) RQP
- 2) PQR
- 3) RPQ
- 4) QRP

Correct Answer: RPQ

Candidate Answer: RPQ

QID : 193 - Select the word with the correct spelling.

Options:

- 1) genatics
- 2) sterage
- 3) grossest
- 4) granaite

Correct Answer: grossest

Candidate Answer: granaite

QID : 194 - In the following question, out of the four alternatives, select the alternative which best expresses the meaning of the idiom/phrase.

Rule of thumb

Options:

- 1) A rough unit of measure for small lengths
- 2) A broadly accurate guide based on practice
- 3) To force someone to work against his wish
- 4) To use your power to ensure discipline

Correct Answer: A broadly accurate guide based on practice

Candidate Answer: A broadly accurate guide based on practice

QID : 195 - Improve the bracketed part of the sentence.

(Take off) your shoes before you enter the temple.

Options:

- 1) Put away
- 2) Extract
- 3) Put off
- 4) No improvement

Correct Answer: No improvement

Candidate Answer: Put off

QID : 196 - In the following passage some of the words have been left out. Read the passage carefully and select the correct answer for the given blank out of the four alternatives.

The "Global Nutrition Report 2016" once again _____ India's slow overall progress _____ addressing chronic malnutrition, manifest in stunting (low weight for age), wasting (low weight for height), micronutrient _____ and over-weight. Our track _____ in reducing the proportion of undernourished children over the past decade has been modest at best, and _____ what other countries with comparable socio-economic indicators have achieved.

The "Global Nutrition Report 2016" once again _____

Options:

- 1) demonstrates
- 2) demonstrated
- 3) demonstrated that
- 4) had demonstrated

Correct Answer: demonstrates

Candidate Answer: demonstrated

QID : 197 - In the following passage some of the words have been left out. Read the passage carefully and select the correct answer for the given blank out of the four alternatives.

The "Global Nutrition Report 2016" once again _____ India's slow overall progress _____ addressing chronic malnutrition, manifest in stunting (low weight for age), wasting (low weight for height), micronutrient _____ and over-weight. Our track _____ in reducing the proportion of undernourished children over the past decade has been modest at best, and _____ what other countries with comparable socio-economic indicators have achieved.

India's slow overall progress _____ addressing chronic malnutrition

Options:

- 1) of
- 2) for
- 3) in
- 4) into

Correct Answer: in

Candidate Answer: in

QID : 198 - In the following passage some of the words have been left out. Read the passage carefully and select the correct answer for the given blank out of the four alternatives.

The "Global Nutrition Report 2016" once again _____ India's slow overall progress _____ addressing chronic malnutrition, manifest in stunting (low weight for age), wasting (low weight for height), micronutrient _____ and over-weight. Our track _____ in reducing the proportion of undernourished children over the past decade has been modest at best, and _____ what other countries with comparable socio-economic indicators have achieved.

micronutrient _____ and over-weight.

Options:

- 1) scarcities
- 2) lack
- 3) absence
- 4) deficiencies

Correct Answer: deficiencies

Candidate Answer: deficiencies

QID : 199 - In the following passage some of the words have been left out. Read the passage carefully and select the correct answer for the given blank out of the four alternatives.

The "Global Nutrition Report 2016" once again _____ India's slow overall progress _____ addressing chronic malnutrition, manifest in stunting (low weight for age), wasting (low weight for height), micronutrient _____ and over-weight. Our track _____ in reducing the proportion of undernourished children over the past decade has been modest at best, and _____ what other countries with comparable socio-economic indicators have achieved.

Our track _____ in reducing the proportion of undernourished children

Options:

- 1) progress
- 2) record
- 3) report
- 4) result

Correct Answer: record

Candidate Answer: record

QID : 200 - In the following passage some of the words have been left out. Read the passage carefully and select the correct answer for the given blank out of the four alternatives.

The "Global Nutrition Report 2016" once again _____ India's slow overall progress _____ addressing chronic malnutrition, manifest in stunting (low weight for age), wasting (low weight for height), micronutrient _____ and over-weight. Our track _____ in reducing the proportion of undernourished children over the past decade has been modest at best, and _____ what other countries with comparable socio-economic indicators have achieved.

and _____ what other countries with comparable socio-economic indicators

Options:

- 1) leads
- 2) fails
- 3) lags
- 4) falters

Correct Answer: lags

Candidate Answer: fails

KnowledgePhilic.com

UPSC | SSC | Bank | Railway | Lic | Fci | DMRC