



**Staff Selection Commission**  
(Government Of India)

CANDIDATE

NAME : **KnowledgePhilic.com**

EXAM START TIME : 10:00:00

EXAM DURATION : 01:15 Hrs

TOTAL NO OF QUESTIONS : 100

**REGISTRATION**

NUMBER : KnowledgePhilic

EXAM DATE : 11-January-2017

EXAM NAME : SSC Examination 2016

TOTAL MARKS : 200

**QID : 1** - Select the related word/letters/number from the given alternatives.

A. P. J. Abdul Kalam : Wings of Fire :: Mahatma Gandhi : ?

दिए गए विकल्पों में से संबंधित शब्द/अक्षर/संख्या को चुनिए।

ए. पी. जे. अब्दुल कलाम : विंग्स ऑफ फ़ायर :: महात्मा गाँधी : ?

**Options:**

1) Atmakatha

आत्मकथा

2) An Autobiography

एक आत्मकथा

3) The Story of my Experiments with Truth

द स्टोरी ऑफ माई एक्सपेरिमेंट्स विद ट्रुथ

4) Courage and Conviction

साहस और दृढ़ विश्वास

**Correct Answer:** The Story of my Experiments with Truth

द स्टोरी ऑफ माई एक्सपेरिमेंट्स विद ट्रुथ

**Candidate Answer:** The Story of my Experiments with Truth

द स्टोरी ऑफ माई एक्सपेरिमेंट्स विद ट्रुथ

KnowledgePhilic.com

**QID : 2** - Select the related word/letters/number from the given alternatives.

IH : RP :: GJ : ?

दिए गए विकल्पों में से संबंधित शब्द/अक्षर/संख्या को चुनिए।

IH : RP :: GJ : ?

**Options:**

1) IJ

2) NT

3) GE

4) LI

**Correct Answer:** NT

**Candidate Answer:** NT

UPSC I SSC I Bank I Railway I Lic I Fci I DMRC

**QID : 3** - Select the related word/letters/number from the given alternatives.

KL : PO :: RQ : ?

दिए गए विकल्पों में से संबंधित शब्द/अक्षर/संख्या को चुनिए।

KL : PO :: RQ : ?

**Options:**

1) MP

2) IJ

3) PL

4) QS

**Correct Answer:** IJ

**Candidate Answer:** IJ

**QID : 4** - Select the related word/letters/number from the given alternatives.

15 : 60 :: 11 : ?

दिए गए विकल्पों में से संबंधित शब्द/अक्षर/संख्या को चुनिए।

15 : 60 :: 11 : ?

**Options:**

- 1) 49
- 2) 46
- 3) 50
- 4) 44

**Correct Answer:** 44

**Candidate Answer:** 44

**QID : 5** - Find out the odd word/letters/number/number pair from the given alternatives.

दिए गए विकल्पों में से विषम शब्द/अक्षर/संख्या/संख्या युग्म चुनिए।

**Options:**

- 1) Babur  
बाबर
- 2) Humayun  
हुमायूँ
- 3) Akbar  
अकबर
- 4) Qutb-ud-din Aibak  
कुतुबुद्दीन ऐबक

**Correct Answer:** Qutb-ud-din Aibak

कुतुबुद्दीन ऐबक

**Candidate Answer:** Qutb-ud-din Aibak

कुतुबुद्दीन ऐबक

**QID : 6** - Find out the odd word/letters/number/number pair from the given alternatives.

दिए गए विकल्पों में से विषम शब्द/अक्षर/संख्या/संख्या युग्म चुनिए।

**Options:**

- 1) EV
- 2) TX
- 3) IM
- 4) SW

**Correct Answer:** EV

**Candidate Answer:** EV

KnowledgePhilic.com

**QID : 7** - Find out the odd word/letters/number/number pair from the given alternatives.

दिए गए विकल्पों में से विषम शब्द/अक्षर/संख्या/संख्या युग्म चुनिए।

**Options:**

- 1) 549
- 2) 538
- 3) 189
- 4) 318

**Correct Answer:** 318

**Candidate Answer:** 318

UPSC | SSC | Bank | Railway | Lic | Fci | DMRC

**QID : 8** - Find out the odd word/letters/number/number pair from the given alternatives.

दिए गए विकल्पों में से विषम शब्द/अक्षर/संख्या/संख्या युग्म चुनिए।

**Options:**

- 1) 51, 25
- 2) 34, 81
- 3) 73, 343
- 4) 54, 625

**Correct Answer:** 51, 25

**Candidate Answer:** 51, 25

**QID : 9** - A series is given with one term missing. Choose the correct alternative from the given ones that will complete the series.

?, Ethane, Propane, Butane

एक अनुक्रम दिया गया है, जिसमें से एक पद लुप्त है। दिए गए विकल्पों में से वह सही विकल्प चुनिए जो अनुक्रम को पूरा करे।

?, ईथेन, प्रोपेन, ब्यूटेन

**Options:**

- 1) Methyl  
मिथाइल
- 2) Benzene  
बेंजीन
- 3) Methane  
मीथेन
- 4) Octane  
ऑक्टैन

**Correct Answer:** Methane

मीथेन

**Candidate Answer:** Methane

मीथेन

**QID : 10** - A series is given with one term missing. Choose the correct alternative from the given ones that will complete the series.

15, 30, 90, 360, ?

एक अनुक्रम दिया गया है, जिसमें से एक पद लुप्त है। दिए गए विकल्पों में से वह सही विकल्प चुनिए जो अनुक्रम को पूरा करे।

15, 30, 90, 360, ?

**Options:**

1) 720

2) 1800

3) 1440

4) 1080

**Correct Answer:** 1800

**Candidate Answer:** 1800

**QID : 11** - In the following question, two statements are given each followed by two conclusions I and II. You have to consider the statements to be true even if they seem to be at variance from commonly known facts. You have to decide which of the given conclusions, if any, follows from the given statements.

Statements:

(I) Some stones are bricks.

(II) Some bricks are trees.

Conclusion:

(I) Some stones are trees.

(II) Some trees are bricks.

निम्नलिखित प्रश्न में, दो कथन दिए गए हैं जिनके आगे दो निष्कर्ष I और II निकाले गए हैं। आपको मानना है कि कथन सत्य है चाहे वे सामान्यतः ज्ञात तथ्यों से भिन्न प्रतीत होते हों। आपको निर्णय करना है कि दिए गए निष्कर्षों में से कौन सा/कौन से निश्चित रूप से कथनों द्वारा सही निकाला जा सकता है/सकते हैं, यदि कोई हो।

कथन:

(I) कुछ पत्थर, ईंटें हैं।

(II) कुछ ईंटें, वृक्ष हैं।

निष्कर्ष:

(I) कुछ पत्थर, वृक्ष हैं।

(II) कुछ वृक्ष, ईंटें हैं।

**Options:**

1) Conclusion I follows

निष्कर्ष I सही है

2) Conclusion II follows

निष्कर्ष II सही है

3) Neither I nor II follows

न तो I और न ही II सही है

4) Both I and II follows

I और II दोनों सही हैं

**Correct Answer:** Conclusion II follows

निष्कर्ष II सही है

**Candidate Answer:** Conclusion II follows

निष्कर्ष II सही है

**QID : 12** - A series is given with one term missing. Choose the correct alternative from the given ones that will complete the series.

KLM, PQR, VWX, ?

एक अनुक्रम दिया गया है, जिसमें से एक पद लुप्त है। दिए गए विकल्पों में से वह सही विकल्प चुनिए जो अनुक्रम को पूरा करे।

KLM, PQR, VWX, ?

**Options:**

1) ABC

2) GHI

3) CDE

4) TVX

**Correct Answer:** CDE

**Candidate Answer:** ABC

**QID : 13** - A series is given with one term missing. Choose the correct alternative from the given ones that will complete the series.

DI, NS, XC, ?

एक अनुक्रम दिया गया है, जिसमें से एक पद लुप्त है। दिए गए विकल्पों में से वह सही विकल्प चुनिए जो अनुक्रम को पूरा करे।

DI, NS, XC, ?

KnowledgePhilic.com

UPSC | SSC | Bank | Railway | Lic | Fci | DMRC

Options:

- 1) JH
- 2) HM
- 3) GI
- 4) HI

Correct Answer: HM

Candidate Answer: HM

QID : 14 - The sum of the ages of Arjun and his daughter is 48. The average of the ages of Arjun, his daughter and his son is 25. What is the age of Arjun's son?

अर्जुन और उसकी बेटी की आयु का योग 48 है। अर्जुन, उसकी बेटी और उसके बेटे की आयु की औसत 25 है। अर्जुन के बेटे की उम्र क्या है?

Options:

- 1) 18
- 2) 36
- 3) 27
- 4) 21

Correct Answer: 27

Candidate Answer: 27

QID : 15 - Arrange the given words in the sequence in which they occur in the dictionary.

- i. Fantasy
- ii. Fanatic
- iii. Fascinate
- iv. Favourite

निम्नलिखित शब्दों को शब्दकोश में आने वाले क्रम के अनुसार लिखें।

- i. Fantasy
- ii. Fanatic
- iii. Fascinate
- iv. Favourite

Options:

- 1) iv, ii, i, iii
- 2) ii, i, iii, iv
- 3) ii, iii, i, iv
- 4) i, iv, ii, iii

Correct Answer: ii, i, iii, iv

Candidate Answer: ii, i, iii, iv

QID : 16 - In a certain code language, 'JOCKEY' is written as '@!^\*?>' and 'STREAM' is written as '=\$/?<+'. How is 'JAMMER' written in that code language?

एक विशिष्ट कोड भाषा में 'JOCKEY' को '@!^\*?>' लिखा जाता है और 'STREAM' को '=\$/?<+' लिखा जाता है। इस कोड भाषा में 'JAMMER' को किस प्रकार लिखा जाएगा ?

Options:

- 1) @<+?>=
- 2) @<+?>/
- 3) @<\*+?>/
- 4) @<+?>\$/

Correct Answer: @<+?>/

Candidate Answer: @<+?>/

QID : 17 -

In the following question, select the missing number from the given series.

निम्नलिखित प्रश्न में दिए गए विकल्पों में से लुप्त अंक ज्ञात कीजिए।

93	199	961
57	157	944
36	42	?

**Options:**

- 1) 81
- 2) 17
- 3) 20
- 4) 22

**Correct Answer:** 17

**Candidate Answer:** 17

**QID : 18** - If "\*" denotes "added to", "&" denotes "divided by", "@" denotes "multiplied by" and "-" denotes "subtracted from", then  $144 \& 16 @ 4 \% 2 * 8 = ?$

यदि "\*" का अर्थ "जोड़" है, "&" का अर्थ "भाग" है, "@" का अर्थ "गुणा" है, और "-" का अर्थ "घटाव" है, तो  $144 \& 16 @ 4 \% 2 * 8 = ?$

**Options:**

- 1) 43
- 2) 48
- 3) 42
- 4) 40

**Correct Answer:** 42

**Candidate Answer:** 42

**QID : 19** - In the following question, which one set of letters when sequentially placed at the gaps in the given letter series shall complete it?

ab\_ccd\_b\_c\_d

निम्नलिखित प्रश्न में अक्षरों का कौन सा समूह खाली स्थानों पर क्रमवार रखने से दी गई अक्षर श्रृंखला को पूरा करेगा?

ab\_ccd\_b\_c\_d

**Options:**

- 1) cccd
- 2) babc
- 3) bdbc
- 4) dccc

**Correct Answer:** babc

**Candidate Answer:** bdbc

**QID : 20** - Aryan travels 20m south, turns left and walks for 35m, turns left again and walks another 20m. How many metres away is he now from his original position?

आर्यन 20 मीटर दक्षिण की ओर जाता है, फिर बाएं मुड़ जाता है और 35 मीटर चलता है, फिर दोबारा बाएं मुड़कर 20 मीटर आगे चलता है। अब वह अपने मूल स्थान से कितनी दूरी पर है?

**Options:**

- 1) 35m  
35 मी
- 2) 25m  
25 मी
- 3) 30m  
30 मी
- 4) 40m  
40 मी

**Correct Answer:** 35m

35 मी

**Candidate Answer:** 35m

35 मी

QID : 21 -

A word is represented by only one set of numbers as given in any one of the alternatives. The sets of numbers given in the alternatives are represented by two classes of alphabets as shown in the given two matrices. The columns and rows of Matrix-I are numbered from 0 to 4 and that of Matrix-II are numbered from 5 to 9. A letter from these matrices can be represented first by its row and next by its column, for example, 'N' can be represented by 21, 67 etc. and 'R' can be represented by 66, 57 etc. Similarly, you have to identify the set for the word 'SAREE'.

एक शब्द केवल एक संख्या-समूह द्वारा दर्शाया गया है, जैसा कि विकल्पों में से किसी एक में दिया गया है। विकल्पों में दिए गए संख्या-समूह अक्षरों के दो वर्गों द्वारा दर्शाए गए हैं, जैसा कि दिए गए दो आव्यूहों में है। आव्यूह-I के स्तम्भ और पंक्ति की संख्या 0 से 4 और आव्यूह-II की 5 से 9 है। इन आव्यूहों से एक अक्षर को पहले उसकी पंक्ति और बाद में स्तम्भ संख्या द्वारा दर्शाया जा सकता है। उदाहरण के लिए 'N' को 21, 67 आदि द्वारा दर्शाया जा सकता है तथा 'R' को 66, 57 आदि द्वारा दर्शाया जा सकता है। इसी तरह से आपको प्रश्न में दिए शब्द 'SAREE' के लिए समूह को पहचानना है।

**Matrix-I**

**आव्यूह - I**

	0	1	2	3	4
0	T	R	A	N	E
1	E	U	N	H	L
2	E	N	S	G	O
3	N	R	P	O	E
4	H	T	O	F	A

**Matrix-II**

**आव्यूह - II**

	5	6	7	8	9
5	S	A	R	I	H
6	E	R	N	W	B
7	R	S	Y	E	U
8	S	N	T	R	S
9	G	A	E	R	H

**Options:**

1) 22, 02, 98, 77, 78

2) 89, 44, 57, 04, 78

3) 85, 96, 01, 10, 44

4) 55, 04, 88, 78, 04

**Correct Answer:** 89, 44, 57, 04, 78

**Candidate Answer:** 89, 44, 57, 04, 78

QID : 22 - Introducing Karan, a man says, "He is the husband of the granddaughter of my maternal grandmother". How is Karan related to that man?

करण का परिचय कराते हुए एक व्यक्ति कहता है, "वह, मेरी नानी की पोती/नातिन के पति हैं।" तो करण, उस व्यक्ति से कैसे संबंधित है?

**Options:**

1) Grandfather

दादा

2) Brother-in-law

बहनोई/साला

3) Maternal grandfather

नाना

4) Father

पिता

**Correct Answer:** Brother-in-law

बहनोई/साला

**Candidate Answer:** Brother-in-law

बहनोई/साला

QID : 23 -

If a mirror is placed on the line MN, then which of the answer figures is the right image of the given figure?

यदि एक दर्पण को MN रेखा पर रखा जाए, तो दी गई उत्तर आकृतियों में से कौन सी आकृति प्रश्न आकृति का सही प्रतिबिम्ब होगी?



Options:

1)



2)



3)



4)



Correct Answer:



Candidate Answer:



QID : 24 - Identify the diagram that best represents the relationship among the given classes.

Gas, Helium, Aluminium, Oxygen

वह आरेख चुनिए जो नीचे दिए गए वर्गों के बीच के संबंध का सही निरूपण करता है।

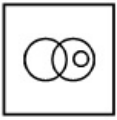
गैस, हीलियम, एल्युमिनियम, ऑक्सीजन

KnowledgePhilic.com

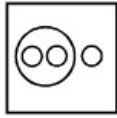
UPSC | SSC | Bank | Railway | Lic | Fci | DMRC

Options:

1)



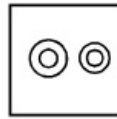
2)



3)



4)

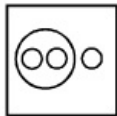


Correct Answer:



KnowledgePhilic.com

Candidate Answer:

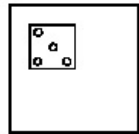
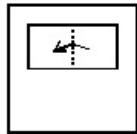
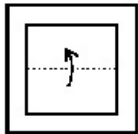


UPSC | SSC | Bank | Railway | Lic | Fci | DMRC

QID : 25 -

A piece of paper is folded and punched as shown below in the question figures. From the given answer figures, indicate how it will appear when opened.


नीचे प्रश्न आकृतियों में दशयि अनुसार कागज को मोड़कर छेदने तथा खोलने के बाद वह किस उत्तर आकृति जैसा दिखाई देगा?






Options:

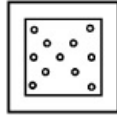
1)




2)



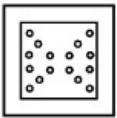
3)



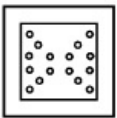
4)



Correct Answer:



Candidate Answer:



KnowledgePhilic.com

UPSC | SSC | Bank | Railway | Lic | Fci | DMRC

QID : 26 - The full form of PDF is

PDF का पूर्ण रूप है

Options:

1) Programmed Document File

प्रोग्राम्ड डॉक्युमेंट फ़ाइल

2) Portable Document File

पोर्टेबल डॉक्युमेंट फ़ाइल

3) Possible Document File

पॉसिबल डॉक्युमेंट फ़ाइल

4) Portable Document Format

पोर्टेबल डॉक्युमेंट फ़ॉर्मेट

Correct Answer: Portable Document Format

पोर्टेबल डॉक्युमेंट फ़ॉर्मेट

Candidate Answer: Portable Document Format

पोर्टेबल डॉक्युमेंट फ़ॉर्मेट

QID : 27 - Electroscope was invented by

विद्युतदर्शी का \_\_\_\_\_ द्वारा आविष्कार किया गया था।

**Options:**

- 1) Jean-Antoine Nollet  
जीन-एंटीनी नॉलेट
- 2) Alfred Nobel  
अल्फ्रेड नोबल
- 3) Joseph Nicephore Niépce  
जोसेफ़ नाईसफ़ॉर निप्से
- 4) Ted Nelson  
टेड नेल्सन

**Correct Answer:** Jean-Antoine Nollet  
जीन-एंटीनी नॉलेट

**Candidate Answer:** [ NOT ANSWERED ]

**QID : 28** - Pulses are a rich source of which of the following.

दालें निम्नलिखित में से किसकी प्रचुर स्रोत है?

**Options:**

- 1) Carbohydrates  
कार्बोहाइड्रेट
- 2) Proteins  
प्रोटीन्स
- 3) Minerals  
खनिज
- 4) Vitamin A  
विटामिन A

**Correct Answer:** Proteins  
प्रोटीन्स

**Candidate Answer:** Proteins  
प्रोटीन्स

**QID : 29** - Plant cell wall is made up of

वनस्पति कोशिका भित्ति इससे बनी होती है।

**Options:**

- 1) Cellulose  
सेल्युलोज
- 2) Glucose  
ग्लूकोज
- 3) Sucrose  
सुक्रोज
- 4) Fructose  
फ्रुक्टोज

**Correct Answer:** Cellulose  
सेल्युलोज

**Candidate Answer:** Cellulose  
सेल्युलोज

**QID : 30** - The study of Fungi is also known as

कवकों के अध्ययन को कहा जाता है

**Options:**

- 1) Cytology  
सायटोलॉजी
- 2) Myology  
मायोलॉजी
- 3) Mycology  
मायकोलॉजी
- 4) Neurology  
न्यूरोलॉजी

**Correct Answer:** Mycology  
मायकोलॉजी

**Candidate Answer:** Mycology  
मायकोलॉजी

**QID : 31** - \_\_\_\_\_ fiber is used in making bristles for brushes.

इन तंतुओं का उपयोग ब्रुशों के बाल बनाने में किया जाता है।

KnowledgePhilic.com

UPSC | SSC | Bank | Railway | Lic | Fci | DMRC

**Options:**

- 1) Kevlar  
केवलर
- 2) Nylon-66  
नायलॉन-66
- 3) Terylene  
टेरीलीन
- 4) Lexan  
लेक्सन

**Correct Answer:** Nylon-66  
नायलॉन-66

**Candidate Answer:** Lexan  
लेक्सन

**QID : 32** - Acids turn \_\_\_\_ litmus \_\_\_\_\_.

एक अम्ल \_\_\_\_\_ लिटमस को \_\_\_\_\_ में बदल देता है।

**Options:**

- 1) red, blue  
लाल, नीला
- 2) green, yellow  
हरा, पीला
- 3) blue, red  
नीला, लाल
- 4) yellow, green  
पीला, हरा

**Correct Answer:** blue, red  
नीला, लाल

**Candidate Answer:** blue, red  
नीला, लाल

**QID : 33** - Agra Fort was built by

आगरे के किले को \_\_\_\_\_ द्वारा बनवाया गया था।

**Options:**

- 1) Humayun  
हुमायूँ
- 2) Akbar  
अकबर
- 3) Babur  
बाबर
- 4) Aurangzeb  
औरंगजेब

**Correct Answer:** Akbar  
अकबर

**Candidate Answer:** Akbar  
अकबर

**QID : 34** - Malayalam is primarily spoken in which State?

मलयालम भाषा मुख्य रूप से किस राज्य में बोली जाती है?

**Options:**

- 1) Assam  
असम
- 2) Rajasthan  
राजस्थान
- 3) Kerala  
केरल
- 4) Karnataka  
कर्नाटक

**Correct Answer:** Kerala  
केरल

**Candidate Answer:** Assam  
असम

**QID : 35** - The minimum price at which I was willing to sell my old TV was Rs. 7,000. I quoted Rs. 12,000 while selling it, but it sold for Rs. 10,500. This transaction generated

वह न्यूनतम कीमत जिस पर मैं अपने पुराने टीवी बेचने के लिए तैयार था, वह 7,000 ₹ थी। मैंने बेचते समय इसकी कीमत 12,000 ₹ उद्धृत की, लेकिन उसे 10,500 ₹ में बेच दिया। इस सौदे ने उत्पन्न किया

**Options:**

- 1) Rs. 3,500 worth of consumer surplus  
उपभोक्ता अधिशेष की कीमत 3,500 रुपये
- 2) Rs. 5000 worth of consumer surplus  
उपभोक्ता अधिशेष की कीमत 5000 रुपये
- 3) Rs. 5000 worth of producer surplus  
निर्माता अधिशेष की कीमत 5000 रुपये
- 4) Rs. 3,500 worth of producer surplus  
निर्माता अधिशेष की कीमत 3,500 रुपये

**Correct Answer:** Rs. 3,500 worth of producer surplus  
निर्माता अधिशेष की कीमत 3,500 रुपये

**Candidate Answer:** Rs. 3,500 worth of consumer surplus  
उपभोक्ता अधिशेष की कीमत 3,500 रुपये

**QID : 36** - Which among the following is not a component of balance sheet?

निम्नलिखित में से कौन बैलेंस शीट का एक घटक नहीं है?

**Options:**

- 1) Total issued capital  
कुल जारी की गई पूँजी
- 2) Cash held at the bank  
बैंक में रखी गई नगदी
- 3) Value of raw materials held  
पास रखे कच्चे माल का मूल्य
- 4) Revenue from sales of the company's products  
कंपनी के उत्पादों की विक्री से प्राप्त हुई आय

**Correct Answer:** Revenue from sales of the company's products  
कंपनी के उत्पादों की विक्री से प्राप्त हुई आय

**Candidate Answer:** Revenue from sales of the company's products  
कंपनी के उत्पादों की विक्री से प्राप्त हुई आय

**QID : 37** - Automobile exhaust leads to a poisonous pollutant

ऑटोमोबाइल उत्सर्जन एक जहरीले प्रदूषक को बढ़ावा देता है।

**Options:**

- 1) Carbon Dioxide  
कार्बन डाय ऑक्साइड
- 2) Sulphur Dioxide  
सल्फर डाय ऑक्साइड
- 3) Carbon Monoxide  
कार्बन मोनोऑक्साइड
- 4) Nitrous Oxide  
नाइट्रस ऑक्साइड

**Correct Answer:** Carbon Monoxide  
कार्बन मोनोऑक्साइड

**Candidate Answer:** Carbon Dioxide  
कार्बन डाय ऑक्साइड

**QID : 38** - The Gir National Park and the Sasan Gir Sanctuary of Gujarat are the only wildlife sanctuaries in India that have

गुजरात के गिर राष्ट्रीय उद्यान और सासन गिर अभयारण्य भारत में इकलौते वन्यजीव अभयारण्य हैं जिनमें \_\_\_\_\_ पाए जाते हैं।

**Options:**

- 1) Bengal Tigers  
बंगाल के बाघ
- 2) Asiatic Lions  
एशियाई सिंह
- 3) One-Horned Rhinos  
एक सिंग का गेंडा
- 4) Black Buck  
काला हिरन

**Correct Answer:** Asiatic Lions  
एशियाई सिंह

**Candidate Answer:** Asiatic Lions  
एशियाई सिंह

**QID : 39** - Name the first person from Bollywood to feature on the cover of Time magazine.

"टाईम" मैगजीन के मुखपृष्ठ पर दिखाई देनेवाले बॉलीवूड के प्रथम व्यक्ति का नाम बताइये।

**Options:**

- 1) Aishwarya Rai  
ऐश्वर्या राय
- 2) Shah Rukh Khan  
शाहरुख खान
- 3) Amitabh Bachchan  
अमिताभ बच्चन
- 4) Parveen Babi  
परवीन बाबी

**Correct Answer:** Parveen Babi  
परवीन बाबी

**Candidate Answer:** Amitabh Bachchan  
अमिताभ बच्चन

**QID : 40** - The glowing surface of the Sun is called \_\_\_\_\_.

सूर्य के चमकीले भाग को \_\_\_\_\_ कहते हैं?

**Options:**

- 1) Photosphere  
फोटोस्फीयर
- 2) Chromosphere  
क्रोमोस्फीयर
- 3) Corono  
कोरोनो
- 4) Troposphere  
ट्रोपोस्फीयर

**Correct Answer:** Photosphere  
फोटोस्फीयर

**Candidate Answer:** Corono  
कोरोनो

**QID : 41** - \_\_\_\_\_ season is when the Sun is directly overhead the equator.

यह मौसम तब आता है, जब सूर्य भूमध्य रेखा के ठीक उपर आता है।

**Options:**

- 1) Summer  
ग्रीष्म
- 2) Spring  
वसंत
- 3) Autumn  
पतझड़
- 4) Winter  
शीत

**Correct Answer:** Spring  
वसंत

**Candidate Answer:** Summer  
ग्रीष्म

**QID : 42** - The Sino-Indian Border Conflict was a war between China and India that occurred in \_\_\_\_\_.

"चीन-भारत सीमा विवाद" भारत और चीन के बीच में एक युद्ध था, जो वर्ष \_\_\_\_\_ में हुआ था।

**Options:**

- 1) 1952
- 2) 1962
- 3) 1972
- 4) 1982

**Correct Answer:** 1962

**Candidate Answer:** 1962

**QID : 43** - Alexander defeated \_\_\_\_\_ in the battle of Hydaspes.

सिकंदर ने हैदसपस के युद्ध में \_\_\_\_\_ को हराया था?

**Options:**

- 1) Porus  
पोरस
- 2) Chandragupta Maurya  
चंद्रगुप्त मौर्य
- 3) Herakles  
हेराकल्स
- 4) Eudemus  
युडेमस

**Correct Answer:** Porus  
पोरस

**Candidate Answer:** Porus  
पोरस

**QID : 44** - One of the following is not a Magsaysay Award winner?

निम्न में से कौन सा एक मैगसेसे पुरस्कार विजेता नहीं है?

**Options:**

- 1) Arvind Kejriwal  
अरविंद केजरीवाल
- 2) Kiran Bedi  
किरण बेदी
- 3) Satish Pachauri  
सतीश पचौरी
- 4) Sandeep Pandey  
संदीप पांडे

**Correct Answer:** Satish Pachauri  
सतीश पचौरी

**Candidate Answer:** [ NOT ANSWERED ]

**QID : 45** - Sun light reaches earth in how many minutes?

सूर्य का प्रकाश पृथ्वी तक कितने मिनट में पहुँचता है?

**Options:**

- 1) 2 min  
2 मि.
- 2) 8 min  
8 मि.
- 3) 14 min  
14 मि.
- 4) 20 min  
20 मि.

**Correct Answer:** 8 min  
8 मि.

**Candidate Answer:** 8 min  
8 मि.

KnowledgePhilic.com

**QID : 46** - In a projectile motion, the horizontal range achieved is same whether the body is projected at theta and \_\_\_\_\_ .

एक प्रक्षेप्य गति में प्राप्त की गई, क्षैतिज सीमा एक समान होती है, चाहे वस्तु को थीटा और \_\_\_\_\_ पर प्रक्षेपित किया जाये।

**Options:**

- 1) 180 degree minus theta  
180 अंश ऋण थीटा
- 2) 60 degree minus theta  
60 अंश ऋण थीटा
- 3) 120 degree minus theta  
120 अंश ऋण थीटा
- 4) 90 degree minus theta  
90 अंश ऋण थीटा

**Correct Answer:** 90 degree minus theta  
90 अंश ऋण थीटा

**Candidate Answer:** 90 degree minus theta  
90 अंश ऋण थीटा

**QID : 47** - Bicameral Legislature means

द्विसदनीय विधायिका का अर्थ है

**Options:**

- 1) Primary and secondary legislature  
प्राथमिक और द्वितियक कानून
- 2) Lower and Upper Chamber  
निचली और ऊपरी सदन
- 3) Lok Adalats and Courts  
लोक अदालत और कोर्ट
- 4) Elected as well as selected members  
निर्वाचित साथ ही साथ चयनित सदस्य

**Correct Answer:** Lower and Upper Chamber  
निचली और ऊपरी सदन

**Candidate Answer:** Lower and Upper Chamber  
निचली और ऊपरी सदन

**QID : 48** - The Article 343 of the Indian Constitution is about

भारतीय संविधान का अनुच्छेद 343 किसके बारे में है?

**Options:**

- 1) Number of seats for the Lok Sabha  
लोकसभा के लिए सीटों की संख्या
- 2) Number of seats for the Rajya Sabha  
राज्यसभा के लिए सीटों की संख्या
- 3) Hindi as official language  
कार्यालयीन भाषा के रूप में हिंदी
- 4) Special status to Kashmir  
कश्मीर को विशेष दर्जा

**Correct Answer:** Hindi as official language  
कार्यालयीन भाषा के रूप में हिंदी

**Candidate Answer:** Hindi as official language  
कार्यालयीन भाषा के रूप में हिंदी

**QID : 49** - Where is the Head Quarters of International Cricket Council?

अंतरराष्ट्रीय क्रिकेट परिषद का मुख्यालय कहाँ है?

**Options:**

- 1) New York  
न्यूयार्क
- 2) Geneva  
जिनेवा
- 3) Dubai  
दुबई
- 4) London  
लंदन

**Correct Answer:** Dubai  
दुबई

**Candidate Answer:** London  
लंदन

**QID : 50** - Which among the following books is written by Nelson Mandela?

निम्नलिखित पुस्तकों में से नेल्सन मंडेला ने किसे लिखा है?

**Options:**

- 1) Long Walk to Freedom  
लॉन्ग वाक ऑफ़ फ्रीडम
- 2) Economic Nightmare of Africa  
इकोनॉमिक नाईटमेअर ऑफ़ अफ्रिका
- 3) Dreams from My Mother  
ड्रीम्स फ्रॉम माय मदर
- 4) 27 years of Jail  
27 इयर्स ऑफ़ जेल

**Correct Answer:** Long Walk to Freedom  
लॉन्ग वाक ऑफ़ फ्रीडम

**Candidate Answer:** Long Walk to Freedom  
लॉन्ग वाक ऑफ़ फ्रीडम

**QID : 51** - Dadiji can bake 30 cakes in 6 hours, Dadiji and Kakiji together can bake 150 cakes in 15 hours. How many cakes Kakiji can bake in 25 hours?

दादीजी 6 घंटे में 30 केक बना सकती है, दादीजी और काकीजी साथ मिलकर 15 घंटे में 150 केक बना सकती हैं। काकीजी 25 घंटे में कितने केक बना सकती हैं?

**Options:**

- 1) 10
- 2) 200
- 3) 125
- 4) 30

**Correct Answer:** 125

**Candidate Answer:** 125

**QID : 52** - 10% discount is offered on an item. By applying a promo code the customer wins 4% cash back. What is the effective discount?

एक वस्तु पर 10% छूट की पेशकश की गई है। एक प्रोमो कोड लागू करके ग्राहक 4% नकद वापस जीतता है। उसको मिली प्रभावी छूट क्या है?

**Options:**

- 1) 33.6 percent  
33.6 प्रतिशत
- 2) 30 percent  
30 प्रतिशत
- 3) 22 percent  
22 प्रतिशत
- 4) 13.6 percent  
13.6 प्रतिशत

**Correct Answer:** 13.6 percent  
13.6 प्रतिशत

KnowledgePhilic.com

UPSC | SSC | Bank | Railway | Lic | Fci | DMRC

**Candidate Answer:** 13.6 percent  
13.6 प्रतिशत

**QID : 53** - Common factor of  $27a^3b^2$ ,  $36a^2b^3$ ,  $54a^2b^2$  is

$27a^3b^2$ ,  $36a^2b^3$ ,  $54a^2b^2$  के सार्वगुणनखंड क्या है?

**Options:**

- 1)  $9a^2b^2$
- 2)  $18ab$
- 3)  $108a^2b^2$
- 4)  $54a^3b^3$

**Correct Answer:**  $9a^2b^2$

**Candidate Answer:**  $9a^2b^2$

**QID : 54** - In a class of 56 students there are 33 girls. The average weight of these girls is 47 kg and average weight of the full class is 52.75 kgs. What is the average weight of the boys of the class?

56 छात्रों की एक कक्षा में 33 लड़कियाँ हैं। इन लड़कियों का औसत वजन 47 कि.ग्रा. है और पूर्ण कक्षा का औसत वजन 52.75 कि.ग्रा. है। कक्षा के लड़कों का औसत वजन क्या है?

**Options:**

- 1) 58.5
- 2) 61
- 3) 56
- 4) 59

**Correct Answer:** 61

**Candidate Answer:** 61

**QID : 55** - 6 hours after a goods train passed a station, another train travelling at a speed of 56 km/hr following that goods train passed through that station. If after passing the station the train overtakes the goods train in 10 hours. What is the speed of the goods train?

एक मालगाड़ी के द्वारा स्टेशन पार करने के 6 घंटे बाद, उसके पीछे आती हुई एक और रेलगाड़ी ने 56 कि.मी./घंटा की गति से उसी स्टेशन को पार किया। यदि स्टेशन पार करने के 10 घंटे के बाद रेलगाड़ी मालगाड़ी से आगे निकल जाती है, तो मालगाड़ी की गति क्या होगी?

**Options:**

- 1) 42 km/hr  
42 कि.मी./घंटा
- 2) 52.5 km/hr  
52.5 कि.मी./घंटा
- 3) 35 km/hr  
35 कि.मी./घंटा
- 4) 28 km/hr  
28 कि.मी./घंटा

**Correct Answer:** 35 km/hr

35 कि.मी./घंटा

**Candidate Answer:** 35 km/hr

35 कि.मी./घंटा

**QID : 56** -  $(\operatorname{cosec}A + \sin A)(\operatorname{cosec}A - \sin A)$  is equal to

$(\operatorname{cosec}A + \sin A)(\operatorname{cosec}A - \sin A)$  किसके बराबर है?

**Options:**

- 1)  $\tan^2A + \sin^2A$
- 2)  $\cot^2A + \cos^2A$
- 3)  $\cot^2A - \cos^2A$
- 4)  $\tan^2A - \sin^2A$

**Correct Answer:**  $\cot^2A + \cos^2A$

**Candidate Answer:**  $\cot^2A + \cos^2A$

**QID : 57** - At what rate of compound interest per annum will a sum of Rs 10000 become Rs 11881 in 2 years?

10000 रु की राशि प्रति वर्ष चक्रवृद्धि ब्याज की किस दर से 2 वर्षों में 11881 रु हो जाएगी?

**Options:**

- 1) 9 percent  
9 प्रतिशत
- 2) 18 percent  
18 प्रतिशत
- 3) 27 percent  
27 प्रतिशत
- 4) 13 percent  
13 प्रतिशत

**Correct Answer:** 9 percent

9 प्रतिशत

KnowledgePhilic.com

UPSC I SSC I Bank I Railway I Lic I Fci I DMRC



**Candidate Answer:** 9 percent  
9 प्रतिशत

**QID : 58** - In  $\triangle ABC$ , the angle bisector of  $\angle A$  cuts BC at E. What is the length of AC if lengths of AB, BE and EC are 12 cm, 9 cm and 6 cm?

$\triangle ABC$  में,  $\angle A$  का द्विभाजक BC को E पर काटता है। यदि AB, BE और EC की लंबाई क्रमशः 12 से.मी., 9 से.मी. और 6 से.मी. हैं तो AC की लंबाई क्या होगी?

**Options:**

- 1) 4 cm  
4 से.मी.
- 2) 15 cm  
15 से.मी.
- 3) 18 cm  
18 से.मी.
- 4) 8 cm  
8 से.मी.

**Correct Answer:** 8 cm  
8 से.मी.

**Candidate Answer:** 8 cm  
8 से.मी.

**QID : 59** - What is the value of  $\cos 225^\circ$ ?

$\cos 225^\circ$  का मान क्या है?

**Options:**

- 1)  $1/\sqrt{2}$
- 2)  $2/\sqrt{3}$
- 3)  $-2/\sqrt{3}$
- 4)  $-1/\sqrt{2}$

**Correct Answer:**  $-1/\sqrt{2}$

**Candidate Answer:**  $-1/\sqrt{2}$

**QID : 60** - If  $5 - x < 1 + 5x$  and  $2x + 3(5 - 2x) \geq 2 - 3x$ , then x can take which of the following values?

यदि  $5 - x < 1 + 5x$  और  $2x + 3(5 - 2x) \geq 2 - 3x$ , फिर x का निम्न मानों में से क्या मान होगा?

**Options:**

- 1) 0
- 2) -1
- 3) 14
- 4) 1

**Correct Answer:** 1

**Candidate Answer:** 1

**QID : 61** - If  $\cot A - \cot B = X$ , then what is the value of X?

$\cot A - \cot B = X$  है, तो X का मान क्या है?

**Options:**

- 1)  $(\cot A \cot B - 1)/(\cot B + \cot A)$
- 2)  $(\cot A \cot B + 1)/(\cot B + \cot A)$
- 3)  $(\cot A \cot B + 1)/(\cot B - \cot A)$
- 4)  $(\cot A \cot B - 1)/(\cot B - \cot A)$

**Correct Answer:**  $(\cot A \cot B + 1)/(\cot B - \cot A)$

**Candidate Answer:**  $(\cot A \cot B + 1)/(\cot B + \cot A)$

**QID : 62** - Two students appeared for an examination. One of them secured 23 marks more than the other and his marks were 60% of the sum of their marks. The marks obtained by them are

दो छात्र एक परीक्षा में बैठे। उनमें से एक ने दूसरे की तुलना में 23 अंक अधिक हासिल किये और उसके अंक उन दोनों के अंक के योग का 60% थे। उन दोनों ने कितने अंक प्राप्त किये?

**Options:**

- 1) 69 and 46  
69 और 46
- 2) 68 and 45  
68 और 45
- 3) 107 and 84  
107 और 84
- 4) 54 and 31  
54 और 31

**Correct Answer:** 69 and 46  
69 और 46

**Candidate Answer:** 54 and 31  
54 और 31

**QID : 63** - The reciprocal of the sum of the reciprocals of  $7/6$  and  $1/9$  is

$7/6$  और  $1/9$  के व्युत्क्रमों के योग का व्युत्क्रम क्या है?

**Options:**

- 1)  $17/69$
- 2)  $7/69$
- 3)  $27/69$
- 4)  $37/69$

**Correct Answer:**  $7/69$

**Candidate Answer:**  $7/69$

**QID : 64** - Profit of Rs 277200 has to be divided among three partners Abdullah, Bhanudas and Chakor in the ratio 3:6:2. How much share (in Rs) Chakor gets?

277200 रु के लाभ को 3:6:2 के अनुपात में तीन हिस्सेदारों अब्दुल्लाह, भानुदास और चकोर में बांटा जाना है। चकोर को कितना हिस्सा (रु में) प्राप्त हुआ?

**Options:**

- 1) 50400
- 2) 151200
- 3) 75600
- 4) 25200

**Correct Answer:** 50400

**Candidate Answer:** 50400

**QID : 65** - If  $xy = 18$  and  $x^2 + y^2 = 45$ , then what is the value of  $(x + y)$ ?

यदि  $xy = 18$  और  $x^2 + y^2 = 45$  है, तो  $(x + y)$  का मान क्या होगा?

**Options:**

- 1) 36
- 2) 18
- 3) 27
- 4) 9

**Correct Answer:** 9

**Candidate Answer:** 9

KnowledgePhilic.com

**QID : 66** - What is the equation of the line which passes through the points  $(-1,2)$  and  $(4,-3)$ ?

उस रेखा का समीकरण क्या होगा, जो बिंदु  $(-1,2)$  और बिंदु  $(4,-3)$  से होकर गुजरती है?

**Options:**

- 1)  $x + y = 3$
- 2)  $x + y = 1$
- 3)  $x - y = 1$
- 4)  $x - y = -3$

**Correct Answer:**  $x + y = 1$

**Candidate Answer:**  $x + y = 1$

**QID : 67** - If the curved surface area of a right circular cone is 2310 sq cm and its slant height is 35 cm, find its total surface area? (Take  $\pi = 22/7$ )

यदि एक समकोण वृत्तीय शंकु के घुमावदार सतह का क्षेत्रफल 2310 वर्ग से.मी. है और इसकी तिरछी ऊंचाई 35 से.मी. है, तो इसके कुल सतह का क्षेत्रफल क्या होगा? ( $\pi = 22/7$  लीजिये)

**Options:**

- 1) 7392 sq cm  
7392 वर्ग से.मी.
- 2) 1848 sq cm  
1848 वर्ग से.मी.
- 3) 5544 sq cm  
5544 वर्ग से.मी.
- 4) 3696 sq cm  
3696 वर्ग से.मी.

**Correct Answer:** 3696 sq cm

3696 वर्ग से.मी.

**Candidate Answer:** 3696 sq cm

3696 वर्ग से.मी.

**QID : 68** - The co-ordinates of the centroid of a triangle ABC are  $(-1,2)$ . What will be the co-ordinates of vertex C if co-ordinates of A and B are  $(3,0)$  and  $(-1,-1)$  respectively?

एक त्रिभुज ABC के केन्द्रक के निर्देशांक  $(-1,2)$  हैं। शीर्ष C के निर्देशांक क्या होंगे, यदि A और B के निर्देशांक क्रमशः  $(3,0)$  और  $(-1,-1)$  हैं?

**Options:**

- 1)  $(-5,7)$
- 2)  $(3,-2)$
- 3)  $(-4,4)$
- 4)  $(0,-7)$

**Correct Answer:**  $(-5,7)$

**Candidate Answer:**  $(-5,7)$

**QID : 69** - A trader had 13 quintals of wheat. He sold a part of it at 14% profit and the rest at 24% profit, so that he made a total profit of 18%. How much wheat did he sell at 24% profit?

एक व्यापारी के पास 13 क्विंटल गेहूं था। उसने कुछ हिस्सा 14% लाभ और बाकि का हिस्सा 24% लाभ पर बेच दिया, इस प्रकार उसे कुल 18% लाभ हुआ। उसने 24% लाभ पर कितना गेहूं बेचा?

**Options:**

- 1) 780 kg  
780 कि.ग्रा.
- 2) 260 kg  
260 कि.ग्रा.
- 3) 1040 kg  
1040 कि.ग्रा.
- 4) 520 kg  
520 कि.ग्रा.

**Correct Answer:** 520 kg  
520 कि.ग्रा.

**Candidate Answer:** 780 kg  
780 कि.ग्रा.

**QID : 70** - In which of the following quadrilaterals opposite angles are not supplementary?

निम्नलिखित चतुर्भुजों में से किसमें विपरीत कोण अनुपूरक नहीं हैं?

**Options:**

- 1) Cyclic quadrilateral  
चक्रीय चतुर्भुज
- 2) Square  
वर्ग
- 3) Parallelogram  
समान्तर चतुर्भुज
- 4) Rectangle  
आयत

**Correct Answer:** Parallelogram  
समान्तर चतुर्भुज

**Candidate Answer:** Parallelogram  
समान्तर चतुर्भुज

KnowledgePhilic.com

**QID : 71** - Which of the following equations has 5 as a root?

निम्नलिखित समीकरणों में किसका मूल 5 है?

UPSC I SSC I Bank I Railway I Lic I Fci I DMRC

**Options:**

- 1)  $3x^2 - 6x + 2 = 0$
- 2)  $x^2 - 5x + 12 = 0$
- 3)  $x^2 - 7x + 10 = 0$
- 4)  $x^2 + 3x - 12 = 0$

**Correct Answer:**  $x^2 - 7x + 10 = 0$

**Candidate Answer:**  $x^2 - 7x + 10 = 0$

**QID : 72** -

Refer the below data table and answer the following Question.

नीचे दिये गए डेटा तालिका के आधार पर निम्नलिखित प्रश्न का उत्तर दें।

	Number of employees कर्मचारियों की संख्या	Annual salary (in lakhs) वार्षिक वेतन (लाखों में)	Bonus as percent of annual salary वार्षिक वेतन के प्रतिशत के रूप में बोनस
Manager / प्रबंधक	1	36	30%
Executive / कार्यकारी	8	12	30%
Trainee / प्रशिक्षु	2	4	20%

What is the average bonus (in rupees)?

औसत बोनस (रुपये में) कितना है?

**Options:**

1) 374545

2) 4119995

3) 173333

4) 152000

**Correct Answer:** 374545

**Candidate Answer:** 374545

**QID : 73 -**

Refer the below data table and answer the following Question.

नीचे दिये गए डेटा तालिका के आधार पर निम्नलिखित प्रश्न का उत्तर दें।

	2011	2012	2013	2014	2015
Company A / कंपनी A	5000	1000	3000	1000	2000
Company B / कंपनी B	2000	3000	3000	1000	2000
Company C / कंपनी C	2000	4000	1000	2000	5000

For which of the following pairs of years the total exports from the three Companies together are equal?

(Note: Figures given are in lakh rupees)

निम्न में से वर्षों की कौन सी जोड़ी के लिए तीनों कंपनियों का कुल निर्यात बराबर है?  
(नोट: दिए गए आँकड़े लाख रुपए में हैं)

**Options:**

1) 2011 & 2013

2011 एवं 2013

2) 2011 & 2015

2011 एवं 2015

3) 2011 & 2012

2011 एवं 2012

4) 2014 & 2015

2014 एवं 2015

**Correct Answer:** 2011 & 2015

2011 एवं 2015

**Candidate Answer:** 2011 & 2015

2011 एवं 2015

KnowledgePhilic.com

UPSC | SSC | Bank | Railway | Lic | Fci | DMRC

QID : 74 -

Refer the below data table and answer the following Question.

नीचे दिये गए डेटा तालिका के आधार पर निम्नलिखित प्रश्न का उत्तर दें।

Year वर्ष	Profit or (-Loss) in Rs Crore करोड़ रूपये में लाभ या (-नुकसान)
2011	5
2012	-15
2013	10
2014	15
2015	15

What was the total Profit or Loss of the company in last 5 years?

पिछले पांच वर्षों में कंपनी का कुल लाभ या नुकसान कितना था?

**Options:**

- 1) Profit of Rs 40 crores  
40 करोड़ रूपये का लाभ
- 2) Profit of Rs 30 crores  
30 करोड़ रूपये का लाभ
- 3) Loss of Rs 40 crores  
40 करोड़ रूपये का नुकसान
- 4) Loss of Rs 30 crores  
30 करोड़ रूपये का नुकसान

**Correct Answer:** Profit of Rs 30 crores  
30 करोड़ रूपये का लाभ

**Candidate Answer:** Profit of Rs 30 crores  
30 करोड़ रूपये का लाभ

KnowledgePhilic.com

QID : 75 -

Refer the below data table and answer the following Question.

नीचे दिये गए डेटा तालिका के आधार पर निम्नलिखित प्रश्न का उत्तर दें।

India's exports in 2015 वर्ष 2015 में भारत का निर्यात	Value in million US\$ मिलियन डॉलर में मूल्य
Jewellery / जेवर	625
Software / सॉफ्टवेयर	625
Cotton / कपास	825
Steel / इस्पात	1000
Electronics / इलेक्ट्रॉनिक्स	825

Cotton was what percent of total exports?

कपास का निर्यात भारत के कुल निर्यात का कितना प्रतिशत था?

**Options:**

- 1) 21.15 percent  
21.15 प्रतिशत
- 2) 23.65 percent  
23.65 प्रतिशत
- 3) 26.15 percent  
26.15 प्रतिशत
- 4) 18.65 percent  
18.65 प्रतिशत

**Correct Answer:** 21.15 percent  
21.15 प्रतिशत

**Candidate Answer:** 21.15 percent  
21.15 प्रतिशत

UPSC | SSC | Bank | Railway | Lic | Fci | DMRC

**QID : 76** - In the following question, some part of the sentence may have errors. Find out which part of the sentence has an error and select the appropriate option. If a sentence is free from error, select 'No Error'.

**Those who are averse with (A)/ hard work, will (B)/ seldom succeed in life. (C)/ No error. (D)**

**Options:**

- 1) A
- 2) B
- 3) C
- 4) D

**Correct Answer:** A

**Candidate Answer:** B

**QID : 77** - Improve the bracketed part of the sentence.

You are what you **(have thought)**.

**Options:**

- 1) think
- 2) shall think
- 3) will think
- 4) no improvement

**Correct Answer:** think

**Candidate Answer:** think

**QID : 78** - Select the word with the correct spelling.

**Options:**

- 1) handcuf
- 2) friktion
- 3) sterling
- 4) emulater

**Correct Answer:** sterling

**Candidate Answer:** sterling

**QID : 79** - Select the synonym of:

**choke**

**Options:**

- 1) stifle
- 2) aid
- 3) carbon
- 4) breathe

**Correct Answer:** stifle

**Candidate Answer:** aid

**QID : 80** - Rearrange the parts of the sentence in correct order:

**Unelected Governors**

**P-relating to State administration**

**Q-were never envisaged**

**R-as wielding significant powers**

**Options:**

- 1) PRQ
- 2) PQR
- 3) RQP
- 4) QRP

**Correct Answer:** QRP

**Candidate Answer:** QRP

**QID : 81** - In the following question, sentence given with blank is to be filled in with an appropriate word. Select the correct alternative out of the four and indicate it by selecting the appropriate option.

**The priest called upon the families to \_\_\_\_\_their differences and agree to the wedding.**

**Options:**

- 1) sink
- 2) abolish
- 3) immerse
- 4) lower

**Correct Answer:** sink

**Candidate Answer:** abolish

**QID : 82** - In the following question, a sentence has been given in Active/Passive voice. Out of four alternatives suggested, select the one which best expresses the same sentence in Passive/Active voice.

**Abhinav Bindra won the gold medal at the 2008 Beijing Olympic Games.**

KnowledgePhilic.com

UPSC | SSC | Bank | Railway | Lic | Fci | DMRC

**Options:**

- 1) Gold medal was won by Abhinav Bindra at the 2008 Beijing Olympic Games.
- 2) In 2008 at the Beijing Olympics games Abhinav Bindra had won the Gold medal.
- 3) At the 2008 Beijing Olympics Games Abhinav Bindra won the gold medal.
- 4) Abhinav Bindra must have won at the Beijing Olympics Games which were conducted in 2008.

**Correct Answer:** Gold medal was won by Abhinav Bindra at the 2008 Beijing Olympic Games.

**Candidate Answer:** Gold medal was won by Abhinav Bindra at the 2008 Beijing Olympic Games.

**QID : 83** - In the following question, out of the four alternatives, select the alternative which best expresses the meaning of the idiom/phrase.

**Water under the bridge**

**Options:**

- 1) To create solutions to overcome any problem
- 2) Past events are no longer important
- 3) Young days can never be brought back again
- 4) Time keeps flowing endlessly

**Correct Answer:** Past events are no longer important

**Candidate Answer:** Time keeps flowing endlessly

**QID : 84** - Select the word with the correct spelling.

**Options:**

- 1) urbannity
- 2) corvete
- 3) specklles
- 4) anglican

**Correct Answer:** anglican

**Candidate Answer:** urbannity

**QID : 85** - Rearrange the parts of the sentence in correct order.

**India must**

**P-to a competitive advantage, and nutrition and health**

**Q-convert its young population**

**R-are foundational to that outcome**

**Options:**

- 1) PQR
- 2) PRQ
- 3) QPR
- 4) RQP

**Correct Answer:** QPR

**Candidate Answer:** RQP

KnowledgePhilic.com

UPSC I SSC I Bank I Railway I Lic I Fci I DMRC

**QID : 86** - In the following question, out of the four alternatives, select the alternative which is the best substitute of the phrase

**a short, thick stick used as a weapon.**

**Options:**

- 1) strand
- 2) cable
- 3) lasso
- 4) cudgel

**Correct Answer:** cudgel

**Candidate Answer:** cudgel

**QID : 87** - In the following question, a sentence has been given in Direct/Indirect speech. Out of the four alternatives suggested, select the one which best express the same sentence in Indirect/Direct speech.

**The Director said, "Can you dance?" and she said, "No".**

**Options:**

- 1) The Director asked her if she could dance and she said that she couldn't.
- 2) The Director asked her if she could do the dance and she said that she can't.
- 3) The Director inquired her if she can dance and she said that she can't.
- 4) The Director asked her if she can dance and she said that she can't.

**Correct Answer:** The Director asked her if she could dance and she said that she couldn't.

**Candidate Answer:** The Director asked her if she could dance and she said that she couldn't.

**QID : 88** - In the following question, some part of the sentence may have errors. Find out which part of the sentence has an error and select the appropriate option. If a sentence is free from error, select 'No Error'.

**India is in no way (A)/inferior than China in(B)/any aspect whatsoever(C)/No error(D)**

**Options:**

- 1) A
- 2) B
- 3) C
- 4) D

**Correct Answer:** B

**Candidate Answer:** B

**QID : 89** - Select the synonym of

**endangered**

**Options:**

- 1) risky
- 2) threatened
- 3) protected
- 4) warning

**Correct Answer:** threatened

**Candidate Answer:** threatened

**QID : 90** - In the following question, out of the four alternatives, select the alternative which best expresses the meaning of the idiom/phrase.

**Wag the dog**

**Options:**

- 1) To divert attention from something of greater importance to something of lesser importance
- 2) To be nice to someone if you want that person's loyalty
- 3) To praise someone to get that person's love
- 4) A small favour to a person who loves you matters a lot to that person

**Correct Answer:** To divert attention from something of greater importance to something of lesser importance

**Candidate Answer:** To divert attention from something of greater importance to something of lesser importance

**QID : 91** - Select the antonym of

**reform**

**Options:**

- 1) ameliorate
- 2) worsen
- 3) amends
- 4) emend

**Correct Answer:** worsen

**Candidate Answer:** worsen

**QID : 92** - Improve the bracketed part of the sentence.

Contrast this work of art (to) that.

**Options:**

- 1) for
- 2) with
- 3) by
- 4) no improvement

**Correct Answer:** with

**Candidate Answer:** no improvement

**QID : 93** - In the following question, the sentence given with blank to be filled in with an appropriate word. Select the correct alternative out of the four and indicate it by selecting the appropriate option.

**It became imperative at this juncture to start a \_\_\_\_\_ between the two warring factions.**

**Options:**

- 1) debate
- 2) dialogue
- 3) talk
- 4) chat

**Correct Answer:** dialogue

**Candidate Answer:** dialogue

**QID : 94** - Select the antonym of

**liberty**

**Options:**

- 1) incarceration
- 2) choice
- 3) license
- 4) right

**Correct Answer:** incarceration

**Candidate Answer:** incarceration

**QID : 95** - In the following question, out of the four alternatives, select the alternative which is the best substitute of the phrase.

**a bias in favour of something.**

**Options:**

- 1) addiction
- 2) disposition
- 3) predilection
- 4) impulse

KnowledgePhilic.com

UPSC | SSC | Bank | Railway | Lic | Fci | DMRC



**Correct Answer:** predilection

**Candidate Answer:** predilection

**QID : 96** - In the following passage, some of the words have been left out. Read the passage carefully and select the correct answer for the given blank out of the four alternatives.

**Most countries of West Asia have their own security and strategic construct. India \_\_\_\_\_ visualized – nor does India see itself – as a "net provider of security" in the region and, consequently, India does not figure \_\_\_\_\_ in these countries' security and strategic plans. There are again \_\_\_\_\_ limits to intelligence and counter-terrorism cooperation, as \_\_\_\_\_ differences exist between many of these countries and India on \_\_\_\_\_ constitutes terrorism and who can be described as a terrorist.**

India \_\_\_\_\_ visualized

**Options:**

- 1) is not
- 2) was neither
- 3) did not
- 4) has not

**Correct Answer:** is not

**Candidate Answer:** was neither

**QID : 97** - In the following passage, some of the words have been left out. Read the passage carefully and select the correct answer for the given blank out of the four alternatives.

**Most countries of West Asia have their own security and strategic construct. India \_\_\_\_\_ visualized – nor does India see itself – as a "net provider of security" in the region and, consequently, India does not figure \_\_\_\_\_ in these countries' security and strategic plans. There are again \_\_\_\_\_ limits to intelligence and counter-terrorism cooperation, as \_\_\_\_\_ differences exist between many of these countries and India on \_\_\_\_\_ constitutes terrorism and who can be described as a terrorist.**

India does not figure \_\_\_\_\_ in these countries' security and strategic plans.

**Options:**

- 1) equivocally
- 2) vaguely
- 3) doubtfully
- 4) prominently

**Correct Answer:** prominently

**Candidate Answer:** equivocally

KnowledgePhilic.com

**QID : 98** - In the following passage, some of the words have been left out. Read the passage carefully and select the correct answer for the given blank out of the four alternatives.

**Most countries of West Asia have their own security and strategic construct. India \_\_\_\_\_ visualized – nor does India see itself – as a "net provider of security" in the region and, consequently, India does not figure \_\_\_\_\_ in these countries' security and strategic plans. There are again \_\_\_\_\_ limits to intelligence and counter-terrorism cooperation, as \_\_\_\_\_ differences exist between many of these countries and India on \_\_\_\_\_ constitutes terrorism and who can be described as a terrorist.**

There are again \_\_\_\_\_ limits to

**Options:**

- 1) certain
- 2) positive
- 3) convinced
- 4) sure

**Correct Answer:** certain

**Candidate Answer:** certain

**QID : 99** - In the following passage, some of the words have been left out. Read the passage carefully and select the correct answer for the given blank out of the four alternatives.

**Most countries of West Asia have their own security and strategic construct. India \_\_\_\_\_ visualized – nor does India see itself – as a "net provider of security" in the region and, consequently, India does not figure \_\_\_\_\_ in these countries' security and strategic plans. There are again \_\_\_\_\_ limits to intelligence and counter-terrorism cooperation, as \_\_\_\_\_ differences exist between many of these countries and India on \_\_\_\_\_ constitutes terrorism and who can be described as a terrorist.**

as \_\_\_\_\_ differences exist

**Options:**

- 1) frivolous
- 2) trivial
- 3) serious
- 4) paltry

**Correct Answer:** serious

**Candidate Answer:** serious

**QID : 100** - In the following passage, some of the words have been left out. Read the passage carefully and select the correct answer for the given blank out of the four alternatives.

**Most countries of West Asia have their own security and strategic construct. India \_\_\_\_\_ visualized – nor does India see itself – as a "net provider of security" in the region and, consequently, India does not figure \_\_\_\_\_ in these countries' security and strategic plans. There are again \_\_\_\_\_ limits to intelligence and counter-terrorism cooperation, as \_\_\_\_\_ differences exist between many of these countries and India on \_\_\_\_\_ constitutes terrorism and who can be described as a terrorist.**

India on \_\_\_\_\_ constitutes terrorism and who can be described as a terrorist.

**Options:**

- 1) who
- 2) whom
- 3) what not
- 4) what

**Correct Answer:** what

**Candidate Answer:** what

KnowledgePhilic.com

UPSC | SSC | Bank | Railway | Lic | Fci | DMRC