



Staff Selection Commission
(Government Of India)

REGISTRATION

NUMBER : KnowledgePhilic.com
EXAM DATE : 11-January-2017
EXAM NAME : SSC Examination 2016
TOTAL MARKS : 200

CANDIDATE NAME : KnowledgePhilic.com

EXAM START TIME : 13:15:00

EXAM DURATION : 01:15 Hrs

TOTAL NO OF QUESTIONS : 100

QID : 101 - Select the related word/letters/number from the given alternatives.

Rabi Crop : Oat :: Kharif Crop : ?

दिए गए विकल्पों में से संबंधित शब्द/अक्षर/संख्या को चुनिए।

रबी फसल : ओट :: खरीफ फसल : ?

Options:

- 1) Mustard
सरसों
- 2) Wheat
गेहूँ
- 3) Barley
जौ
- 4) Paddy
धान

Correct Answer: Paddy

धान

Candidate Answer: Mustard

सरसों

QID : 102 - Select the related word/letters/number from the given alternatives.

CM : P :: PM : ?

दिए गए विकल्पों में से संबंधित शब्द/अक्षर/संख्या को चुनिए।

CM : P :: PM : ?

Options:

- 1) F
- 2) E
- 3) D
- 4) C

Correct Answer: C

Candidate Answer: C

QID : 103 - Select the related word/letters/number from the given alternatives.

JN : TB :: PB : ?

दिए गए विकल्पों में से संबंधित शब्द/अक्षर/संख्या को चुनिए।

JN : TB :: PB : ?

Options:

- 1) TD
- 2) FD
- 3) RS
- 4) TV

Correct Answer: FD

Candidate Answer: [NOT ANSWERED]

KnowledgePhilic.com
UPSC - SSC - Bank - Railway - LIC - FCI - DMRC

QID : 104 - Select the related word/letters/number from the given alternatives.

7 : 56 :: 9 : ?

दिए गए विकल्पों में से संबंधित शब्द/अक्षर/संख्या को चुनिए।

7 : 56 :: 9 : ?

Options:

1) 65

2) 90

3) 81

4) 70

Correct Answer: 90

Candidate Answer: 90

QID : 105 - Findout the odd word/letters/number/number pair from the given alternatives.

दिए गए विकल्पों में से विषम शब्द/अक्षर/संख्या/संख्या युग्म को चुनिए।

Options:

1) Banyan

बरगद

2) Pine

चिड़

3) Spruce

सजान

4) Fir

देवदार

Correct Answer: Banyan

बरगद

Candidate Answer: [NOT ANSWERED]

QID : 106 - Findout the odd word/letters/number/number pair from the given alternatives.

दिए गए विकल्पों में से विषम शब्द/अक्षर/संख्या/संख्या युग्म को चुनिए।

Options:

1) MG

2) QK

3) VN

4) UO

Correct Answer: VN

Candidate Answer: UO

QID : 107 - Findout the odd word/letters/number/number pair from the given alternatives.

दिए गए विकल्पों में से विषम शब्द/अक्षर/संख्या/संख्या युग्म को चुनिए।

Options:

1) 4267

2) 2498

3) 2739

4) 5496

Correct Answer: 2498

Candidate Answer: 4267

QID : 108 - Findout the odd word/letters/number/number pair from the given alternatives.

दिए गए विकल्पों में से विषम शब्द/अक्षर/संख्या/संख्या युग्म को चुनिए।

Options:

1) 8912

2) 3469

3) 5555

4) 6734

Correct Answer: 3469

Candidate Answer: 3469

QID : 109 - A series is given with one term missing. Choose the correct alternative from the given ones that will complete the series.

Troposphere, Stratosphere, Mesosphere, ?

एक अनुक्रम दिया गया है, जिसमें से एक पद लुप्त है। दिए गए विकल्पों में से वह सही विकल्प चुनिए जो अनुक्रम को पूरा करे।

क्षोभ मंडल, समताप मंडल, मध्य मंडल, ?

Options:

- 1) Exosphere
बहिर्मंडल
- 2) Thermosphere
थर्मोस्फियर
- 3) Tropopause
ट्रोपोपोज
- 4) Ozone Layer
ओजोन परत

Correct Answer: Thermosphere
थर्मोस्फियर

Candidate Answer: Exosphere
बहिर्मंडल

QID : 110 - A series is given with one term missing. Choose the correct alternative from the given ones that will complete the series.

AZ, BY, CX, ?

एक अनुक्रम दिया गया है, जिसमें से एक पद लुप्त है। दिए गए विकल्पों में से वह सही विकल्प चुनिए जो अनुक्रम को पूरा करे।

AZ, BY, CX, ?

Options:

- 1) WD
- 2) DW
- 3) DE
- 4) DX

Correct Answer: DW

Candidate Answer: DW

QID : 111 - A series is given with one term missing. Choose the correct alternative from the given ones that will complete the series.

DM, EN, FO, ?

एक अनुक्रम दिया गया है, जिसमें से एक पद लुप्त है। दिए गए विकल्पों में से वह सही विकल्प चुनिए जो अनुक्रम को पूरा करे।

DM, EN, FO, ?

Options:

- 1) FG
- 2) HI
- 3) GP
- 4) HP

Correct Answer: GP

Candidate Answer: GP

QID : 112 - A series is given with one term missing. Choose the correct alternative from the given ones that will complete the series.

79, 159, 199, 219, ?

एक अनुक्रम दिया गया है, जिसमें से एक पद लुप्त है। दिए गए विकल्पों में से वह सही विकल्प चुनिए जो अनुक्रम को पूरा करे।

79, 159, 199, 219, ?

Options:

- 1) 229
- 2) 234
- 3) 239
- 4) 222

Correct Answer: 229

Candidate Answer: 229

KnowledgePhilic.com

UPSC – SSC – Bank – Railway – LIC – FCI – DMRC

QID : 113 - In the following question, two statements are given each followed by two conclusions I and II. You have to consider the statements to be true even if they seem to be at variance from commonly known facts. You have to decide which of the given conclusions, if any, follows from the given statements.

Statements:

- (I) Some polynomials are linear equations.
- (II) Some linear equations are quadratic.

Conclusion:

- (I) Polynomials are quadratic.
- (II) Linear equations are quadratic.

निम्नलिखित प्रश्न में, दो कथन दिए गए हैं जिनके आगे दो निष्कर्ष I और II निकाले गए हैं। आपको मानना है कि कथन सत्य है चाहे वे सामान्यतः ज्ञात तथ्यों से भिन्न प्रतीत होते हों। आपको निर्णय करना है कि दिए गए निष्कर्षों में से कौन सा/कौन से निश्चित रूप से कथनों द्वारा सही निकाला जा सकता है/सकते हैं, यदि कोई हो।

कथन:

- (I) कुछ बहुपद, रैखिक समीकरण हैं।
- (II) कुछ रैखिक समीकरण द्विघात हैं।

निष्कर्ष:

- (I) बहुपद द्विघात हैं।
- (II) रैखिक समीकरण द्विघात हैं।

Options:

- 1) Conclusion I follows
निष्कर्ष I सही है
- 2) Conclusion II follows
निष्कर्ष II सही है
- 3) Neither I nor II follows
न तो I और न ही II सही है
- 4) Both I and II follows
I और II दोनों सही हैं

Correct Answer: Conclusion I follows
निष्कर्ष I सही है

Candidate Answer: Neither I nor II follows
न तो I और न ही II सही है

QID : 114 - The age of A is three times the age of B. What is the ratio of the age of B to the age of A?

A की उम्र B की उम्र से तीन गुना है। तो B और A की उम्र का अनुपात क्या है?

Options:

- 1) 1:3
- 2) 1:4
- 3) 1:2
- 4) 3:1

Correct Answer: 1:3

Candidate Answer: 1:3

QID : 115 - Arrange the given words in the sequence in which they occur in the dictionary.

- i. Attribute
- ii. Attenuation
- iii. Attain
- iv. Attention

निम्नलिखित शब्दों को शब्दकोश में आने वाले क्रम के अनुसार लिखें।

- i. Attribute
- ii. Attenuation
- iii. Attain
- iv. Attention

Options:

- 1) iii, iv, ii, i
- 2) iv, i, iii, ii
- 3) i, iii, ii, iv
- 4) i, ii, iii, iv

Correct Answer: iii, iv, ii, i

Candidate Answer: iii, iv, ii, i

QID : 116 - In a certain code language, "FAILURE" is written as "FRULIAG". How is "SUCCESS" written in that code language?

एक विशिष्ट कोड भाषा में "FAILURE" को "FRULIAG" लिखा जाता है। इस कोड भाषा में "SUCCESS" को किस प्रकार लिखा जाएगा?

Options:

- 1) TSECCUT
- 2) SSECCUS
- 3) TSECCUS
- 4) TSECCUU

Correct Answer: TSECCUT

Candidate Answer: [NOT ANSWERED]

QID : 117 -

In the following question, select the missing number from the given series.

निम्नलिखित प्रश्न में दिए गए विकल्पों में से लुप्त अंक ज्ञात कीजिए।

?	113	161
2	7	6
3	4	5

Options:

1) 31

2) 36

3) 280

4) 161

Correct Answer: 31

Candidate Answer: [NOT ANSWERED]

QID : 118 - If "A" denotes "added to", "B" denotes "divided by", "C" denotes "multiplied by" and "D" denotes "subtracted from", then $154 B 11 C 6 A 6 D 27 = ?$

यदि "A" का अर्थ "जोड़" है, "B" का अर्थ "भाग" है, "C" का अर्थ "गुणा" है और "D" का अर्थ "घटाना" है, तो $154 B 11 C 6 A 6 D 27 = ?$

Options:

1) 60

2) 63

3) 33

4) 64

Correct Answer: 63

Candidate Answer: 63

KnowledgePhilic.com

UPSC – SSC – Bank – Railway – LIC – FCI – DMRC

QID : 119 - Which set of letters when sequentially placed at the gaps in the given letter series shall complete it?

s_r_t_s_r

अक्षरों का कौन सा समूह खाली स्थानों पर क्रमवार रखने से दी गई अक्षर श्रृंखला को पूरा करेगा?

s_r_t_s_r

Options:

1) trts

2) rtst

3) trst

4) tsss

Correct Answer: rtst

Candidate Answer: rtst

QID : 120 - In a compass, west direction is shown as south. As per the compass, which direction should a man go to, if he wishes to move towards the east?

एक कम्पास में, पश्चिम दिशा दक्षिण के रूप में दिखा रहा है। एक व्यक्ति यदि पूर्व दिशा की ओर जाना चाहता है तो कम्पास के अनुसार, उसे किस दिशा में जाना चाहिए?

Options:

1) North

उत्तर

2) South

दक्षिण

3) East

पूर्व

4) West

पश्चिम

Correct Answer: North

उत्तर

Candidate Answer: [NOT ANSWERED]

QID : 121 -

A word is represented by only one set of numbers as given in any one of the alternatives. The sets of numbers given in the alternatives are represented by two classes of alphabets as shown in the given two matrices. The columns and rows of Matrix-I are numbered from 0 to 4 and that of Matrix-II are numbered from 5 to 9. A letter from these matrices can be represented first by its row and next by its column, for example, 'F' can be represented by 32, 42 etc. and 'M' can be represented by 88, 68 etc. Similarly, you have to identify the set for the word 'GAIN'.

एक शब्द केवल एक संख्या-समूह द्वारा दर्शाया गया है, जैसा कि विकल्पों में से किसी एक में दिया गया है। विकल्पों में दिए गए संख्या-समूह अक्षरों के दो वर्गों द्वारा दर्शाए गए हैं, जैसा कि दिए गए दो आव्यूहों में है। आव्यूह-I के स्तम्भ और पंक्ति की संख्या 0 से 4 और आव्यूह-II की 5 से 9 है। इन आव्यूहों से एक अक्षर को पहले उसकी पंक्ति और बाद में स्तम्भ संख्या द्वारा दर्शाया जा सकता है। उदाहरण के लिए 'F' को 32, 42 आदि द्वारा दर्शाया जा सकता है तथा 'M' को 88, 68 आदि द्वारा दर्शाया जा सकता है। इसी तरह से आपको प्रश्न में दिए शब्द 'GAIN' के लिए समूह को पहचानना है।

Matrix-I

आव्यूह - I

	0	1	2	3	4
0	A	N	H	H	E
1	D	A	N	L	I
2	E	G	A	N	E
3	E	L	F	A	N
4	L	G	F	N	E

Matrix-II

आव्यूह - II

	5	6	7	8	9
5	I	R	B	T	O
6	R	I	T	M	S
7	R	T	G	I	O
8	T	S	G	M	I
9	S	T	G	M	O

Options:

1) 21, 00, 89, 44

2) 77, 22, 66, 43

3) 87, 33, 23, 12

4) 97, 11, 88, 01

Correct Answer: 77, 22, 66, 43

Candidate Answer: 77, 22, 66, 43

QID : 122 - Akhil is the maternal uncle of Rashmi. Rashmi is the daughter of Ramesh. How is Ramesh related to Akhil?

अखिल, रश्मि का मामा है। रश्मि, रमेश की बेटी है। रमेश, अखिल से कैसे संबंधित है?

Options:

1) Brother-in-law

बहनोई/साला

2) Brother

भाई

3) Father

पिता

4) Cousin

चचेरा भाई

Correct Answer: Brother-in-law

बहनोई/साला

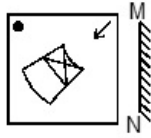
Candidate Answer: Brother-in-law

बहनोई/साला

QID : 123 -

If a mirror is placed on the line MN, then which of the answer figures is the right image of the given figure?

यदि एक दर्पण को MN रेखा पर रखा जाए, तो दी गई उत्तर आकृतियों में से कौन सी आकृति प्रश्न आकृति का सही प्रतिबिम्ब होगी?



Options:

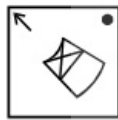
1)



2)



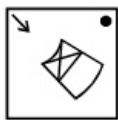
3)



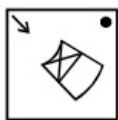
4)



Correct Answer:



Candidate Answer:



QID : 124 - Identify the diagram that best represents the relationship among the given classes.

Primary colors, Red, Blue, Magenta

वह आरेख चुनिए जो नीचे दिए गए वर्गों के बीच के संबंध का सही निरूपण करता है।

प्राथमिक रंग, लाल, नीला, मैजेंटा

KnowledgePhilic.com

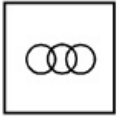
UPSC – SSC – Bank – Railway – LIC – FCI – DMRC

Options:

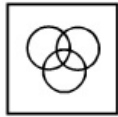
1)



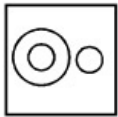
2)




3)



4)



Correct Answer:



KnowledgePhilic.com

Candidate Answer:

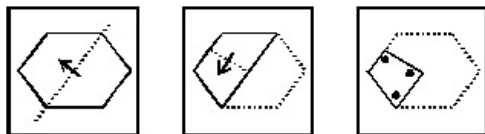


UPSC – SSC – Bank – Railway – LIC – FCI – DMRC

QID : 125 -

A piece of paper is folded and punched as shown below in the question figures. From the given answer figures, indicate how it will appear when opened.

नीचे प्रश्न आकृतियों में दर्शाये अनुसार कागज को मोड़कर छेदने तथा खोलने के बाद वह किस उत्तर आकृति जैसा दिखाई देगा?




Options:

1)




2)




3)



4)



Correct Answer:



KnowledgePhilic.com

Candidate Answer:

UPSC – SSC – Bank – Railway – LIC – FCI – DMRC



QID : 126 - Which of the following is also known as the brain of the computer?

निम्नलिखित में से किसे कंप्यूटर के मस्तिष्क के नाम से भी जाना जाता है?

Options:

1) CPU

सीपीयू

2) ALU

एलयू

3) Motherboard

मदरबोर्ड

4) Keyboard

कीबोर्ड

Correct Answer: CPU

सीपीयू

Candidate Answer: CPU

सीपीयू

QID : 127 - Soda water was invented by

सोडा वॉटर का _____ द्वारा आविष्कार किया गया था।

Options:

- 1) Tivadar Puskas
तिवादार पुस्कास
- 2) Joseph Priestley
जोसेफ़ प्रिस्टली
- 3) Petrache Poenaru
पेट्रेक पिओनरु
- 4) James Leonard Plimpton
जेम्स लियोनार्ड प्लिम्पटन

Correct Answer: Joseph Priestley
जोसेफ़ प्रिस्टली

Candidate Answer: [NOT ANSWERED]

QID : 128 - The outermost layer of skin is

त्वचा की सबसे बाहरी परत क्या होती है?

Options:

- 1) Epidermis
इपिडर्मिस
- 2) Dermis
डर्मिस
- 3) Tissues
ऊतक
- 4) Hypodermis
हायपोडर्मिस

Correct Answer: Epidermis
इपिडर्मिस

Candidate Answer: [NOT ANSWERED]

QID : 129 - Which of the following plants have root nodules?

निम्नलिखित पौधों में से किसकी जड़ों में गांठें होती हैं?

Options:

- 1) Leguminous plants
लेग्युमिनस पौधे
- 2) Parasitic plants
परजीवी पौधे
- 3) Epiphytic Plants
एपीफाइटिक पौधे
- 4) Aquatic Plants
जलीय पौधे

Correct Answer: Leguminous plants
लेग्युमिनस पौधे

Candidate Answer: [NOT ANSWERED]

QID : 130 - Earth-worms belongs to the phylum

केंचुएँ _____ प्रजाति के अंतर्गत आते हैं।

Options:

- 1) Protozoa
प्रोटोजुआ
- 2) Cnidaria
नीडेरिया
- 3) Annelida
एनीलिडा
- 4) Mollusca
मोलस्का

Correct Answer: Annelida
एनीलिडा

Candidate Answer: [NOT ANSWERED]

QID : 131 - The mass of proton and mass of _____ is same.

प्रोटॉन का द्रव्यमान और _____ का द्रव्यमान एक समान होता है।

Options:

- 1) Neutron
न्यूट्रोन
- 2) Electron
इलेक्ट्रॉन
- 3) Isoprone
आयसोप्रोन
- 4) Alpha particle
अल्फ़ा कण

Correct Answer: Neutron
न्यूट्रोन

Candidate Answer: Electron
इलेक्ट्रॉन

QID : 132 - Using which of the following processes can one separate a solute from its solution?

निम्नलिखित में से किस विधि का प्रयोग करके हम विलियन में से विलय को विभक्त कर सकते हैं?

Options:

- 1) Sedimentation
अवसादन
- 2) Evaporation
वाष्पीकरण
- 3) Filtration
छानना
- 4) Condensation
संघनन

Correct Answer: Evaporation
वाष्पीकरण

Candidate Answer: [NOT ANSWERED]

QID : 133 - Jantar Mantar is in

जंतर-मंतर _____ में है।

Options:

- 1) Rajasthan
राजस्थान
- 2) Assam
असम
- 3) Bihar
बिहार
- 4) Gujarat
गुजरात

Correct Answer: Rajasthan
राजस्थान

Candidate Answer: Rajasthan
राजस्थान

QID : 134 - Salzburg Festival is held in which country?

साल्जबर्ग महोत्सव किस देश में आयोजित किया जाता है?

Options:

- 1) Italy
इटली
- 2) Austria
ऑस्ट्रिया
- 3) Australia
ऑस्ट्रेलिया
- 4) Spain
स्पेन

Correct Answer: Austria
ऑस्ट्रिया

Candidate Answer: [NOT ANSWERED]

QID : 135 - If price of an article decreases from Rs. 25 to Rs. 20, quantity demanded increases from Q1 units to 1500 units. If point elasticity of demand is -1.25, find Q1?

एक वस्तु की कीमत Rs. 25 से 20 रुपये तक कम हो जाती है, और मात्रा की मांग Q1 यूनिट से 1500 यूनिट तक बढ़ जाती है। यदि मांग के बिंदु लोच -1.25 है, तो Q1 को ज्ञात करें।

Options:

- 1) 900 units
900 यूनिट
- 2) 1200 units
1200 यूनिट
- 3) 1800 units
1800 यूनिट
- 4) 2000 units
2000 यूनिट

Correct Answer: 1200 units
1200 यूनिट

Candidate Answer: [NOT ANSWERED]

QID : 136 - Birth rate in a country is defined as

किसी देश की जन्मदर को किस तरह से परिभाषित किया जाता है?

Options:

- 1) Number of births per 100 in 1 year
एक वर्ष में प्रति 100 में जन्मों की संख्या
- 2) Number of births per 1000 in 1 year
एक वर्ष में प्रति 1000 में जन्मों की संख्या
- 3) Number of births per km of area in 1 year
एक वर्ष में प्रति किमी क्षेत्र में जन्मों की संख्या
- 4) Number of births per 100 km of area in 1 year
एक वर्ष में प्रति 100 किमी क्षेत्र में जन्मों की संख्या

Correct Answer: Number of births per 1000 in 1 year
एक वर्ष में प्रति 1000 में जन्मों की संख्या

Candidate Answer: [NOT ANSWERED]

QID : 137 - Where is "The Geysers", the world's largest geothermal field, containing a complex of 22 geothermal power plants, located?

"द गीजर्स" नामक विश्व का सर्वाधिक बड़ा भूतापीय क्षेत्र कहाँ स्थित है, जिसमें 22 भूतापीय विद्युत् संयंत्रों का एक कॉम्प्लेक्स शामिल है?

Options:

- 1) Rio
रियो
- 2) New Orleans
न्यू ओरलियंस
- 3) Moscow
मास्को
- 4) San Francisco
सेन फ्रांसिस्को

Correct Answer: San Francisco
सेन फ्रांसिस्को

Candidate Answer: [NOT ANSWERED]

QID : 138 - Bauxite is an ore/mineral of

बॉक्साइट _____ का एक अयस्क / खनिज है।

Options:

- 1) Aluminium
एल्युमिनियम
- 2) Beryllium
बेरिलियम
- 3) Lead
लेड
- 4) Tin
टिन

Correct Answer: Aluminium
एल्युमिनियम

Candidate Answer: Aluminium
एल्युमिनियम

QID : 139 - The real name of Dilip Kumar is _____.

दिलीप कुमार का असली नाम _____ है।

Options:

- 1) Yusuf Khan
युसूफ खान
- 2) Dilip Kumar
दिलीपकुमार
- 3) Mohammad Kaif
मोहम्मद कैफ
- 4) Ravi Bajaj
रवि बजाज

Correct Answer: Yusuf Khan
युसूफ खान

Candidate Answer: Yusuf Khan
युसूफ खान

QID : 140 - The Gobi Desert is one of the largest deserts on Earth. A part of it lies in which of the following countries?

गोबी मरुस्थल विश्व का सबसे बड़ा मरुस्थल है। इसका एक भाग निम्नलिखित में से किस देश में आता है?

KnowledgePhilic.com
UPSC – SSC – Bank – Railway – LIC – FCI – DMRC

Options:

- 1) Australia
ऑस्ट्रेलिया
- 2) Saudi Arabia
सउदी अरबिया
- 3) Mongolia
मंगोलिया
- 4) Madagascar
मेडागास्कर

Correct Answer: Mongolia
मंगोलिया

Candidate Answer: [NOT ANSWERED]

QID : 141 - Which is the largest continent in the world?

विश्व का सबसे बड़ा महाद्वीप कौन सा है?

Options:

- 1) Africa
अफ्रीका
- 2) North America
उत्तरी अमेरिका
- 3) South America
दक्षिण अमेरिका
- 4) Asia
एशिया

Correct Answer: Asia
एशिया

Candidate Answer: [NOT ANSWERED]

QID : 142 - Aurangzeb put his father _____ under house arrest in Agra Fort.

औरंगजेब ने अपने पिता _____ को आगरे के किले में कैद करके रखा था।

Options:

- 1) Humayun
हुमायूँ
- 2) Shah Jahan
शाहजहाँ
- 3) Akbar
अकबर
- 4) Bahadur Shah
बहादुर शाह

Correct Answer: Shah Jahan
शाहजहाँ

Candidate Answer: Shah Jahan
शाहजहाँ

QID : 143 - The English defeated the _____ in the battle of Wandiwash.

वेंडीवॉश के युद्ध में इंग्लिश सेना ने _____ को हराया था।

Options:

- 1) German
जर्मन
- 2) French
फ्रेंचिसी
- 3) Indians
भारतीय
- 4) Americans
अमेरिकन

Correct Answer: French
फ्रेंचिसी

Candidate Answer: [NOT ANSWERED]

QID : 144 - Pulitzer prize is given in the field of _____.

पुलित्जर पुरस्कार _____ के क्षेत्र में दिया जाता है।

Options:

- 1) Journalism
पत्रकारिता
- 2) Sports
क्रीड़ा
- 3) Medicine
औषधि
- 4) Music
संगीत

KnowledgePhilic.com

UPSC – SSC – Bank – Railway – LIC – FCI – DMRC

Correct Answer: Journalism
पत्रकारिता

Candidate Answer: Journalism
पत्रकारिता

QID : 145 - What is the unit of electric resistance?

विद्युत प्रतिरोध की इकाई क्या है?

Options:

- 1) Dyne
डाईन
- 2) Pascal
पास्कल
- 3) Joule
जूल
- 4) Ohms
ओम्स

Correct Answer: Ohms
ओम्स

Candidate Answer: Ohms
ओम्स

QID : 146 - Who invented Television?

टेलीविजन का अविष्कार किसने किया था?

Options:

- 1) J L Baird
जे एल बेर्ड
- 2) Aristotle
अरस्तु
- 3) James Clerk Maxwell
जेम्स क्लर्क मैक्सवेल
- 4) Nikola Tesla
निकोला टेस्ला

Correct Answer: J L Baird
जे एल बेर्ड

Candidate Answer: [NOT ANSWERED]

QID : 147 - How many members of the Rajya Sabha are elected every two years?

हर दो साल में राज्यसभा के कितने सदस्य निर्वाचित किये जाते हैं?

Options:

- 1) all
सभी
- 2) one fourth
एक चौथाई
- 3) half
आधे
- 4) one third
एक तिहाई

Correct Answer: one third
एक तिहाई

Candidate Answer: one third
एक तिहाई

QID : 148 - The Indian Constitution declares India as all of the following, except

भारतीय संविधान ने भारत को निम्नलिखित में से _____ को छोड़कर बाकी सभी होना घोषित किया है।

Options:

- 1) communist
साम्यवादी
- 2) democratic republic
प्रजातांत्रिक गणराज्य
- 3) socialist
समाजवादी
- 4) secular
धर्मनिरपेक्ष

Correct Answer: communist
साम्यवादी

Candidate Answer: communist
साम्यवादी

KnowledgePhilic.com

UPSC – SSC – Bank – Railway – LIC – FCI – DMRC

QID : 149 - Shaquille O'Neal is associated with which Sport?

शकील ओनील किस खेल के साथ जुड़े हुए हैं?

Options:

- 1) Lawn Tennis
लॉन टेनिस
- 2) Basketball
बास्केटबॉल
- 3) Formula One
फॉर्मूला वन
- 4) WWE
डब्लूडब्लूई

Correct Answer: Basketball
बास्केटबॉल

Candidate Answer: [NOT ANSWERED]

QID : 150 - Ramcharitmanas is an epic poem written in which language?

रामचरितमानस एक महाकाव्य है, जिसे _____ भाषा में लिखा गया है।

Options:

- 1) Santali
संथाली
- 2) Munda
मुंडा
- 3) Awadhi
अवधी
- 4) Sanskrit
संस्कृत

Correct Answer: Awadhi
अवधी

Candidate Answer: Sanskrit
संस्कृत

QID : 151 - Mehdi can complete a work in 25 hours. If he is joined by Jahnvi who is 50% more efficient, in what time will they together finish the work?

मेहदी किसी काम को 25 घंटे में पूरा कर सकता है। यदि उसकी जाह्नवी ने सहायता की, जो कि 50% अधिक निपुण है, तो कितने समय में दोनों काम साथ मिलकर पूरा कर लेंगे?

Options:

- 1) 12 hours
12 घंटे
- 2) 10 hours
10 घंटे
- 3) 3 hours
3 घंटे
- 4) 9 hours
9 घंटे

Correct Answer: 10 hours
10 घंटे

Candidate Answer: [NOT ANSWERED]

QID : 152 - If $x + 3 \leq 4x + 4$ and $3(4 - x) - 4 \geq 2x - 2$, then x can take which of the following values?

यदि $x + 3 \leq 4x + 4$ और $3(4 - x) - 4 \geq 2x - 2$, फिर x का निम्न मानों में से क्या मान होगा?

Options:

- 1) 1
- 2) 3
- 3) -1
- 4) -3

Correct Answer: 1

Candidate Answer: [NOT ANSWERED]

QID : 153 - In $\triangle DEF$, G and H are points on side DE and DF respectively. GH is parallel to EF. If G divides DE in the ratio 3:2 and HF is 8 cm, then the length of DF is

$\triangle DEF$ में, G और H क्रमशः DE और DF पर स्थित बिंदु हैं। GH, EF के समानांतर है। यदि G, DE को 3 : 2 के अनुपात में विभाजित करता है और HF 8 से.मी. है, तो DF की लंबाई क्या होगी?

Options:

- 1) 12 cm
12 से.मी.
- 2) 20 cm
20 से.मी.
- 3) 14 cm
14 से.मी.
- 4) 16 cm
16 से.मी.

Correct Answer: 20 cm
20 से.मी.

Candidate Answer: 12 cm
12 से.मी.

QID : 154 - Common factor of $12a^4b^6$, $18a^6c^2$, $36a^2b^2$ is

$12a^4b^6$, $18a^6c^2$, $36a^2b^2$ के सार्वगुणनखंड क्या है?

Options:

- 1) $36a^2$
- 2) $108b^2$
- 3) $6a^2b^2$
- 4) $6a^2$

Correct Answer: $6a^2$

Candidate Answer: $6a^2$

QID : 155 - The total surface area of a hemisphere is 462 sq cm, what is its curved surface area? (Take $\pi = 22/7$)

एक अर्द्धगोल के कुल सतह का क्षेत्रफल 462 वर्ग से.मी. है, तो इसके घुमावदार सतह का क्षेत्रफल क्या होगा? ($\pi = 22/7$ लीजिये)

Options:

- 1) 616 sq cms
616 वर्ग से.मी.
- 2) 154 sq cms
154 वर्ग से.मी.
- 3) 308 sq cms
308 वर्ग से.मी.
- 4) 462 sq cms
462 वर्ग से.मी.

Correct Answer: 308 sq cms

308 वर्ग से.मी.

Candidate Answer: [NOT ANSWERED]

QID : 156 - The average revenues of 11 consecutive years of a company is Rs 69 lakhs. If the average of first 6 years is Rs 64 lakhs and that of last 6 years is Rs 76 lakhs, what is the revenue for the 6th year?

एक कंपनी का लगातार 11 साल का औसत राजस्व 69 लाख रु है। यदि पहले 6 साल का औसत 64 लाख रु है और अंतिम 6 वर्षों का औसत 76 लाख रु है, तो 6वें वर्ष का राजस्व क्या होगा?

Options:

- 1) Rs 83 lakhs
83 लाख रु
- 2) Rs 79 lakhs
79 लाख रु
- 3) Rs 77 lakhs
77 लाख रु
- 4) Rs 81 lakhs
81 लाख रु

Correct Answer: Rs 81 lakhs

81 लाख रु

Candidate Answer: Rs 81 lakhs

81 लाख रु

QID : 157 - One of the internal angle of a rhombus is 60° and length of its shorter diagonal is 8 cm. What is the area of the rhombus?

एक सम चतुर्भुज में एक आंतरिक कोण 60° का है और उसके छोटे विकर्ण की लंबाई 8 से.मी. है। उस सम चतुर्भुज का क्षेत्रफल क्या होगा?

Options:

- 1) $64\sqrt{3}$ sq cm
 $64\sqrt{3}$ वर्ग से.मी.
- 2) $32\sqrt{2}$ sq cm
 $32\sqrt{2}$ वर्ग से.मी.
- 3) $64\sqrt{2}$ sq cm
 $64\sqrt{2}$ वर्ग से.मी.
- 4) $32\sqrt{3}$ sq cm
 $32\sqrt{3}$ वर्ग से.मी.

Correct Answer: $32\sqrt{3}$ sq cm

$32\sqrt{3}$ वर्ग से.मी.

Candidate Answer: $32\sqrt{3}$ sq cm

$32\sqrt{3}$ वर्ग से.मी.

QID : 158 - When a discount of 20% is given on a movie ticket, the profit is 34%. If the discount is 15%, then the profit is

जब एक मूवी टिकट पर 20% की छूट दी जाती है, तो 34% का लाभ होता है। यदि छूट 15% हो, तो लाभ कितना होगा?

Options:

- 1) 49 percent
49 प्रतिशत
- 2) 42.375 percent
42.375 प्रतिशत
- 3) 55.625 percent
55.625 प्रतिशत
- 4) 35.75 percent
35.75 प्रतिशत

Correct Answer: 42.375 percent
42.375 प्रतिशत

Candidate Answer: [NOT ANSWERED]

QID : 159 - The price of an article is cut by 7%, to restore it to its original value, the new price must be increased by

एक वस्तु की कीमत में 7% की छूट दी जाती है। मूल मूल्य पर इसे वापस लाने के लिए कितने प्रतिशत से नए मूल्य में वृद्धि करनी पड़ेगी ?

Options:

- 1) 7 percent
7 प्रतिशत
- 2) 33.77 percent
33.77 प्रतिशत
- 3) 7.53 percent
7.53 प्रतिशत
- 4) 63.75 percent
63.75 प्रतिशत

Correct Answer: 7.53 percent
7.53 प्रतिशत

Candidate Answer: 7.53 percent
7.53 प्रतिशत

QID : 160 - A bag has Rs12.9 in the form of 1 rupee, 50 paise and 10 paise coins in the ratio of 3:2:3. How many 50 paise coins are there in the bag?

एक बैग में 3:2:3 के अनुपात में 1 रु, 50 पैसे और 10 पैसे के रूप में 12.9 रु हैं। 50 पैसे के सिक्कों की संख्या कितनी होगी?

Options:

- 1) 9
- 2) 6
- 3) 12
- 4) 3

Correct Answer: 6

Candidate Answer: 6

QID : 161 - Which of the following equations has the sum of its roots as 11?

निम्नलिखित समीकरणों में से किसके मूल का योग 11 है?

Options:

- 1) $x^2 - 11x + 18 = 0$
- 2) $x^2 - 7x + 10 = 0$
- 3) $x^2 + 2x - 26 = 0$
- 4) $x^2 + 5x - 6 = 0$

Correct Answer: $x^2 - 11x + 18 = 0$

Candidate Answer: [NOT ANSWERED]

QID : 162 - $1/(\sec A + \tan A)$ is equal to

$1/(\sec A + \tan A)$ किसके बराबर है?

Options:

- 1) $\operatorname{cosec} A - \cot A$
- 2) $\sin A - \cos A$
- 3) $\sec A - \tan A$
- 4) $\sin A + \cos A$

Correct Answer: $\sec A - \tan A$

Candidate Answer: $\sec A - \tan A$

QID : 163 - $\tan(A/2)$ is equal to

$\tan(A/2)$ किसके बराबर है?

KnowledgePhilic.com

UPSC - SSC - Bank - Railway - LIC - FCI - DMRC

Options:

- 1) cosecA + cotA
- 2) secA - cotA
- 3) cosecA - cotA
- 4) secA + cotA

Correct Answer: cosecA - cotA

Candidate Answer: [NOT ANSWERED]

QID : 164 - If $12x = 19^2 - 11^2$, what is the value of x?

यदि $12x = 19^2 - 11^2$ है, तो x का मान क्या है?

Options:

- 1) 20
- 2) 17
- 3) 13
- 4) 11

Correct Answer: 20

Candidate Answer: 20

QID : 165 - What is the value of $\sec -2\pi/3$?

$\sec -2\pi/3$ का मान क्या है?

Options:

- 1) -2
- 2) 2
- 3) $2/\sqrt{3}$
- 4) $-2/\sqrt{3}$

Correct Answer: -2

Candidate Answer: $-2/\sqrt{3}$

QID : 166 - If $(1/4 \text{ of } x) - (4/5 \text{ of } 6/7)$ equals $-9/7$, then value of x is

यदि $(x \text{ का } 1/4) - (6/7 \text{ का } 4/5)$ का परिणाम $-9/7$ है, तो x का मान क्या है?

Options:

- 1) -12
- 2) -2.4
- 3) -3.6
- 4) -14

Correct Answer: -2.4

Candidate Answer: -2.4

QID : 167 - To cover a distance of 333 km in 2 hours by a car, what should be the average speed of the car (in meter/second)?

एक कार द्वारा 2 घंटों में 333 कि.मी. की दूरी तय करने के लिए, कार की औसत गति (मीटर/सेकंड में) कितनी होनी चाहिए ?

Options:

- 1) 166.5
- 2) 46.25
- 3) 83.25
- 4) 92.5

Correct Answer: 46.25

Candidate Answer: 166.5

QID : 168 - 10% discount is offered on an item. By applying a promo code the customer wins 20% cash back. What is the effective discount?

एक वस्तु पर 10% छूट की पेशकश की गई है। एक प्रोमो कोड लागू करके ग्राहक 20% नकद वापस जीतता है। उसको मिली प्रभावी छूट क्या है?

Options:

- 1) 33.6 percent
33.6 प्रतिशत
- 2) 30 percent
30 प्रतिशत
- 3) 22 percent
22 प्रतिशत
- 4) 28 percent
28 प्रतिशत

Correct Answer: 28 percent

28 प्रतिशत

Candidate Answer: 28 percent

28 प्रतिशत

QID : 169 - ΔDEF and ΔGHI are similar triangles. Length of AB is 10 cm and length of the corresponding side DE is 6 cm. What is the ratio of Perimeter of ΔABC to ΔDEF ?

ΔDEF और ΔGHI समरूप त्रिभुज हैं। AB की लंबाई 10 से.मी. है और संगत भुजा DE की लंबाई 6 से.मी. है। ΔABC की परिधि और ΔDEF की परिधि के बीच का अनुपात क्या है?

Options:

- 1) 5:3
- 2) 3:5
- 3) 25:9
- 4) 9:25

Correct Answer: 5:3

Candidate Answer: [NOT ANSWERED]

QID : 170 - A bank offers 20% compound interest per half year. A customer deposits Rs 7600 each on 1st January and 1st July of a year. At the end of the year, the amount he would have gained from interest is

एक बैंक अर्द्ध वार्षिक रूप से 20% चक्रवृद्धि ब्याज की पेशकश करता है। एक ग्राहक एक वर्ष में 1 जनवरी और 1 जुलाई को 7600 रु जमा करता है। वर्ष के अंत में ब्याज के माध्यम से उसे कितनी राशि का लाभ होगा?

Options:

- 1) Rs 9727
9727 रु
- 2) Rs 2432
2432 रु
- 3) Rs 4864
4864 रु
- 4) Rs 1216
1216 रु

Correct Answer: Rs 4864

4864 रु

Candidate Answer: [NOT ANSWERED]

QID : 171 - At what point does the line $3x + 2y = -12$ intercept the Y-axis?

रेखा $3x + 2y = -12$, y-अक्ष को किस बिंदु पर काटती है?

Options:

- 1) (0,6)
- 2) (0,-6)
- 3) (-4,0)
- 4) (4,0)

Correct Answer: (0,-6)

Candidate Answer: (0,-6)

KnowledgePhilic.com

QID : 172 -

UPSC – SSC – Bank – Railway – LIC – FCI – DMRC

Refer the below data table and answer the following Question.

नीचे दिये गए डेटा तालिका के आधार पर निम्नलिखित प्रश्न का उत्तर दें।

	Quantity of stock स्टॉक की मात्रा	Average Cost (Rs) औसत लागत (रूपए)
Mobile Phones / मोबाइल फोन	29	18000
Cameras / कैमरा	22	6000
TVs / टीवी	63	51000
Refrigerators / रेफ्रिजरेटर	45	49000
ACs / एसी	27	25000

What is the value of the total stock (in lakh rupees)?

कुल स्टॉक का मूल्य (लाख रूपए में) कितना है?

Options:

- 1) 67.47
- 2) 674.7
- 3) 149
- 4) 186

Correct Answer: 67.47

Candidate Answer: 149

QID : 173 -

Refer the below data table and answer the following Question.

नीचे दिये गए डेटा तालिका के आधार पर निम्नलिखित प्रश्न का उत्तर दें।

Year वर्ष	Ratio Import/Export अनुपात: आयात/निर्यात
2011	1.1
2012	1.4
2013	0.7
2014	0.8
2015	0.8

If the imports in 2012 was Rs. 600 crores and the total exports in the years 2012 and 2013 together was Rs. 2400 crores, then the imports in 2013 was?

यदि 2012 में आयात 600 करोड़ रूपए था और वर्ष 2012 और 2013 में एक साथ कुल निर्यात 2400 करोड़ था, तो 2013 में आयात कितना था?

Options:

- 1) 1971
- 2) 429
- 3) 2816
- 4) 1380

Correct Answer: 1380

Candidate Answer: [NOT ANSWERED]

KnowledgePhilic.com

UPSC – SSC – Bank – Railway – LIC – FCI – DMRC

QID : 174 -

Refer the below data table and answer the following Question.

नीचे दिये गए डेटा तालिका के आधार पर निम्नलिखित प्रश्न का उत्तर दें।

Measured on Birthday जन्मदिन पर नापा गया	Height of the child (in cms) बच्चे की ऊंचाई (सेंटीमीटर में)
4	100
5	105
6	115
7	125
8	135
9	140
10	150
11	160
12	165
13	175
14	180
15	190
16	200

What was the increase in the height of the child from the 7th Birthday to the 11th Birthday?

7वें जन्मदिन से लेकर 11वें जन्मदिन तक बच्चे के ऊंचाई में कितनी वृद्धि हुई?

Options:

- 1) 35 cms
35 सेंटीमीटर
- 2) 40 cms
40 सेंटीमीटर
- 3) 45 cms
45 सेंटीमीटर
- 4) 30 cms
30 सेंटीमीटर

Correct Answer: 35 cms
35 सेंटीमीटर

Candidate Answer: [NOT ANSWERED]

QID : 175 -

Refer the below data table and answer the following Question.

नीचे दिये गए डेटा तालिका के आधार पर निम्नलिखित प्रश्न का उत्तर दें।

Deep Sleep / गहरी नींद में	10
Dreaming / सपना देखते हुए	25
Light sleep / हलकी नींद में	10
Extremely light sleep / बहुत हलकी नींद में	5
Awake / जागते हुए	50

Between 10pm to 6am, a fitness band records the following data. How long was the user in Light sleep or was in Extremely light sleep ?

रात के 10 बजे से लेकर सुबह 6 बजे तक एक फिटनेस बैंड निम्न डेटा रिकॉर्ड करता है। उसका उपयोगकर्ता कितने समय तक हलकी नींद में था या बहुत हलकी नींद में था?

Options:

- 1) 0.7 hours
0.7 घंटे
- 2) 1.2 hours
1.2 घंटे
- 3) 1.7 hours
1.7 घंटे
- 4) 2.3 hours
2.3 घंटे

Correct Answer: 1.2 hours
1.2 घंटे

Candidate Answer: [NOT ANSWERED]

QID : 176 - In the following question, out of the four alternatives, select the alternative which best expresses the meaning of the idiom/phrase.

Tie the knot

Options:

- 1) To put yourself into a problem
- 2) To make fateful decision
- 3) To sign the deal
- 4) To get married

Correct Answer: To get married

Candidate Answer: To get married

QID : 177 - Select the synonym of

carnal

Options:

- 1) chaste
- 2) sensual
- 3) decent
- 4) spiritual

Correct Answer: sensual

Candidate Answer: [NOT ANSWERED]

QID : 178 - Select the antonym of

intrinsic

Options:

- 1) elemental
- 2) innate
- 3) connate
- 4) acquired

Correct Answer: acquired

Candidate Answer: [NOT ANSWERED]

QID : 179 - In the following question, the sentence given with blank to be filled in with an appropriate word. Select the correct alternative out of the four and indicate it by selecting the appropriate option.

Providence smiles _____ those who are diligent.

Options:

- 1) with
- 2) in
- 3) upon
- 4) over

Correct Answer: upon

Candidate Answer: [NOT ANSWERED]

QID : 180 - Select the word with the correct spelling.

Options:

- 1) chaastity
- 2) marothon
- 3) reassert
- 4) toxicity

Correct Answer: toxicity

Candidate Answer: toxicity

QID : 181 - Improve the bracketed part of the sentence.

When I last saw Ravi, he (**had been running**) to catch his bus.

Options:

- 1) ran
- 2) was running
- 3) had run
- 4) no improvement

Correct Answer: was running

Candidate Answer: was running

QID : 182 - In the following question, some part of the sentence may have errors. Find out which part of the sentence has an error and select the appropriate option. If a sentence is free from error, select 'No Error'.

If you are in the wrong gears (A)/the car won't be (B)/able to climb the hill.(C)/No error(D)

Options:

- 1) A
- 2) B
- 3) C
- 4) D

Correct Answer: A

Candidate Answer: A

QID : 183 - In the following question, out of the four alternatives, select the alternative which best expresses the meaning of the idiom/phrase.

The ball is in your court

Options:

- 1) It is up to you to make the next move
- 2) You have got a fantastic opportunity
- 3) You will be blamed for crimes that you have not committed
- 4) You have been put into a dilemma.

Correct Answer: It is up to you to make the next move

Candidate Answer: You have got a fantastic opportunity

QID : 184 - Improve the bracketed part of the sentence.

I would love **(to availing)** a short holiday, and go for an overnight trek.

Options:

- 1) to avail myself of
- 2) to avail of
- 3) to avail myself
- 4) no improvement

Correct Answer: to avail myself

Candidate Answer: to avail myself

QID : 185 - In the following question, a sentence has been given in Active/Passive voice. Out of four alternatives suggested, select the one which best expresses the same sentence in Passive/Active voice.

Mariam was writing a note to her boss.

Options:

- 1) A note was written to her boss by Mariam.
- 2) A note was wrote by Mariam to her boss.
- 3) A note was being written by Mariam to her boss.
- 4) A note was written by Mariam to her boss.

Correct Answer: A note was being written by Mariam to her boss.

Candidate Answer: A note was being written by Mariam to her boss.

QID : 186 - Select the synonym of

incinerate

Options:

- 1) parch
- 2) moderate
- 3) ignite
- 4) quench

Correct Answer: ignite

Candidate Answer: [NOT ANSWERED]

QID : 187 - Select the antonym of

ogle

Options:

- 1) leer
- 2) gaze
- 3) ignore
- 4) gawk

Correct Answer: ignore

Candidate Answer: [NOT ANSWERED]

QID : 188 - Select the word with the correct spelling.

Options:

- 1) snatched
- 2) litigat
- 3) abhored
- 4) variably

Correct Answer: snatched

Candidate Answer: [NOT ANSWERED]

QID : 189 - In the following question, out of the four alternatives, select the alternative which is the best substitute of the phrase.

To harass someone persistently to do something.

Options:

- 1) Iconoclast
- 2) Dote
- 3) Neurotic
- 4) Importune

Correct Answer: Importune

Candidate Answer: [NOT ANSWERED]

QID : 190 - In the following question, the sentence given with blank to be filled in with an appropriate word. Select the correct alternative out of the four and indicate it by selecting the appropriate option.

The baby looked _____ the toffee with greedy eyes.

Options:

- 1) upon
- 2) into
- 3) on
- 4) at

Correct Answer: at

Candidate Answer: at

QID : 191 - In the following question, out of the four alternatives, select the alternative which is the best substitute of the phrase.

A short statement expressing a general truth.

Options:

- 1) Maxim
- 2) Infer
- 3) Drum
- 4) Pander

Correct Answer: Maxim

Candidate Answer: [NOT ANSWERED]

QID : 192 - Rearrange the parts of the sentence in correct order.

It is a truth universally

P-acknowledged that a single

Q-man in possession of a good

R-fortune must be in want of a wife

Options:

- 1) QRP
- 2) PQR
- 3) RPQ
- 4) QPR

Correct Answer: PQR

Candidate Answer: QPR

QID : 193 - Rearrange the parts of the sentence in correct order.

Your absence has

P-gone through me

Q-through a needle

R-like thread

Options:

- 1) PRQ
- 2) PQR
- 3) QPR
- 4) RPQ

Correct Answer: PRQ

Candidate Answer: QPR

QID : 194 - In the following question, some part of the sentence may have errors. Find out which part of the sentence has an error and select the appropriate option. If a sentence is free from error, select 'No Error'.

This is the sportsperson(A)/whom I think has won(B)/the much coveted prize.(C)/ No error(D)

Options:

- 1) A
- 2) B
- 3) C
- 4) D

Correct Answer: B

Candidate Answer: B

QID : 195 - In the following question, a sentence has been given in Direct/Indirect speech. Out of the four alternatives suggested, select the one which best express the same sentence in Indirect/Direct speech.

Abhay said to Veena, " Are you coming to the Reception?"

Options:

- 1) Abhay told Veena if she was coming to the Reception.
- 2) Abhay asked Veena if she will be coming to the Reception.
- 3) Abhay asked Veena if she was coming to the Reception.
- 4) Abhay asked Veena whether she was coming to the Reception.

Correct Answer: Abhay asked Veena if she was coming to the Reception.

Candidate Answer: Abhay asked Veena whether she was coming to the Reception.

QID : 196 - In the following passage some of the words have been left out. Read the passage carefully and select the correct answer for the given blank out of the four alternatives.

In view of last year's H1N1 attack and prevailing _____ weather conditions, the health department officials _____ that the virus will turn more active by January end. In-charge, Integrated Disease _____ Programme (IDSP), Dr Shah, said, "Virus is still active, but not in a major way. In coming months, it is likely to become more active. Last year too, virus had claimed lives in January and February. Therefore, we are _____ as coming months might _____ a challenge."

In view of last year's H1N1 attack and prevailing _____

Options:

- 1) erratic
- 2) weird
- 3) dicey
- 4) unstable

Correct Answer: erratic

Candidate Answer: unstable

QID : 197 - In the following passage some of the words have been left out. Read the passage carefully and select the correct answer for the given blank out of the four alternatives.

In view of last year's H1N1 attack and prevailing _____ weather conditions, the health department officials _____ that the virus will turn more active by January end. In-charge, Integrated Disease _____ Programme (IDSP), Dr Shah, said, "Virus is still active, but not in a major way. In coming months, it is likely to become more active. Last year too, virus had claimed lives in January and February. Therefore, we are _____ as coming months might _____ a challenge."

the health department officials _____

Options:

- 1) expect
- 2) expects
- 3) were expecting
- 4) are expecting

Correct Answer: are expecting

Candidate Answer: expect

QID : 198 - In the following passage some of the words have been left out. Read the passage carefully and select the correct answer for the given blank out of the four alternatives.

In view of last year's H1N1 attack and prevailing _____ weather conditions, the health department officials _____ that the virus will turn more active by January end. In-charge, Integrated Disease _____ Programme (IDSP), Dr Shah, said, "Virus is still active, but not in a major way. In coming months, it is likely to become more active. Last year too, virus had claimed lives in January and February. Therefore, we are _____ as coming months might _____ a challenge."

In-charge, Integrated Disease _____ Programme (IDSP)

Options:

- 1) management
- 2) control
- 3) surveillance
- 4) eradication

Correct Answer: surveillance

Candidate Answer: surveillance

QID : 199 - In the following passage some of the words have been left out. Read the passage carefully and select the correct answer for the given blank out of the four alternatives.

In view of last year's H1N1 attack and prevailing _____ weather conditions, the health department officials _____ that the virus will turn more active by January end. In-charge, Integrated Disease _____ Programme (IDSP), Dr Shah, said, "Virus is still active, but not in a major way. In coming months, it is likely to become more active. Last year too, virus had claimed lives in January and February. Therefore, we are _____ as coming months might _____ a challenge."

Therefore, we are _____

Options:

- 1) vigilant
- 2) open to
- 3) on toes
- 4) impulsive

Correct Answer: vigilant

Candidate Answer: on toes

QID : 200 - In the following passage some of the words have been left out. Read the passage carefully and select the correct answer for the given blank out of the four alternatives.

In view of last year's H1N1 attack and prevailing _____ weather conditions, the health department officials _____ that the virus will turn more active by January end. In-charge, Integrated Disease _____ Programme (IDSP), Dr Shah, said, "Virus is still active, but not in a major way. In coming months, it is likely to become more active. Last year too, virus had claimed lives in January and February. Therefore, we are _____ as coming months might _____ a challenge."

coming months might _____ a challenge."

Options:

- 1) show
- 2) pose
- 3) throw
- 4) put up

Correct Answer: pose

Candidate Answer: put up

KnowledgePhilic.com

UPSC – SSC – Bank – Railway – LIC – FCI – DMRC