



Staff Selection Commission
(Government Of India)

REGISTRATION NUMBER : KnowledgePhilic

EXAM DATE : 7-January-2017

EXAM NAME : SSC Examination 2016

TOTAL MARKS : 200

CANDIDATE NAME : KnowledgePhilic.com

EXAM START TIME : 16:15:00

EXAM DURATION : 01:15 Hrs

TOTAL NO OF QUESTIONS : 100

QID : 101 - Select the related word/letters/number from the given alternatives.

GI : HJ :: PR : ?

दिए गए विकल्पों में से संबंधित शब्द/अक्षर/संख्या को चुनिए।

GI : HJ :: PR : ?

Options:

1) QR

2) PO

3) QS

4) NO

Correct Answer: QS

Candidate Answer: QS

QID : 102 - Select the related word/letters/number from the given alternatives.

AIDS : VIRUS :: MALARIA : ?

दिए गए विकल्पों में से संबंधित शब्द/अक्षर/संख्या को चुनिए।

एड्स : वायरस :: मलेरिया : ?

Options:

1) Protozoa

प्रोटोजोआ

2) Bacteria

जीवाणु

3) Fungi

कवक

4) Algae

शैवाल

Correct Answer: Protozoa

प्रोटोजोआ

Candidate Answer: Protozoa

प्रोटोजोआ

QID : 103 - Select the related word/letters/number from the given alternatives.

E : V :: D : ?

दिए गए विकल्पों में से संबंधित शब्द/अक्षर/संख्या को चुनिए।

E : V :: D : ?

Options:

1) E

2) G

3) I

4) W

Correct Answer: W

Candidate Answer: W

QID : 104 - Select the related word/letters/number from the given alternatives.

58531 : 11 :: 78363 : ?

दिए गए विकल्पों में से संबंधित शब्द/अक्षर/संख्या को चुनिए।

58531 : 11 :: 78363 : ?

Options:

- 1) 2
- 2) 9
- 3) 4
- 4) 7

Correct Answer: 9**Candidate Answer:** [NOT ANSWERED]**QID : 105** - Find out the odd word/letters/number/number pair from the given alternatives.

दिए गए विकल्पों में से विषम शब्द/अक्षर/संख्या/संख्या युग्म को चुनिए।

Options:

- 1) Tamil Nadu
तमिलनाडु
- 2) Kerala
केरल
- 3) Andhra Pradesh
आंध्र प्रदेश
- 4) Delhi
दिल्ली

Correct Answer: Delhi

दिल्ली

Candidate Answer: Delhi

दिल्ली

QID : 106 - Find out the odd word/letters/number/number pair from the given alternatives.

दिए गए विकल्पों में से विषम शब्द/अक्षर/संख्या/संख्या युग्म को चुनिए।

Options:

- 1) EV
- 2) GT
- 3) JQ
- 4) PL

Correct Answer: PL**Candidate Answer:** PL**QID : 107** - Find out the odd word/letters/number/number pair from the given alternatives.

दिए गए विकल्पों में से विषम शब्द/अक्षर/संख्या/संख्या युग्म को चुनिए।

Options:

- 1) 2308
- 2) 3412
- 3) 4520
- 4) 6742

Correct Answer: 2308**Candidate Answer:** 2308**QID : 108** - Find out the odd word/letters/number/number pair from the given alternatives.

दिए गए विकल्पों में से विषम शब्द/अक्षर/संख्या/संख्या युग्म को चुनिए।

Options:

- 1) 6305
- 2) 7426
- 3) 9728
- 4) 5305

Correct Answer: 5305**Candidate Answer:** 5305**QID : 109** - A series is given with one term missing. Choose the correct alternative from the given ones that will complete the series.

? , Kerosene, Diesel, Fuel oil

एक अनुक्रम दिया गया है, जिसमें से एक पद लुप्त है। दिए गए विकल्पों में से वह सही विकल्प चुनिए जो अनुक्रम को पूरा करे।

? , मिट्टी का तेल, डीजल, ईंधन तेल

Options:

- 1) Lubricating oil
चिकनाई तेल
- 2) Asphalt
डामर
- 3) Petrol
पेट्रोल
- 4) Wax
मोम

Correct Answer: Petrol

पेट्रोल

Candidate Answer: Petrol

पेट्रोल

QID : 110 - A series is given with one term missing. Choose the correct alternative from the given ones that will complete the series.

105, 130, 180, 255, ?

एक अनुक्रम दिया गया है, जिसमें से एक पद लुप्त है। दिए गए विकल्पों में से वह सही विकल्प चुनिए जो अनुक्रम को पूरा करे।

105, 130, 180, 255, ?

Options:

1) 345

2) 365

3) 355

4) 335

Correct Answer: 355

Candidate Answer: 355

QID : 111 - In the following question, two statements are given each followed by two conclusions I and II. You have to consider the statements to be true even if they seem to be at variance from commonly known facts. You have to decide which of the given conclusions, if any, follows from the given statements.

Statement:

(I) All radios are electric goods.

(II) All table-lamps are electric goods.

Conclusions:

(I) Some radios are table-lamps.

(II) Some table lamps are radios.

निम्नलिखित प्रश्न में, दो कथन दिए गए हैं जिनके आगे दो निष्कर्ष I और II निकाले गए हैं। आपको मानना है कि कथन सत्य है चाहे वे सामान्यतः ज्ञात तथ्यों से भिन्न प्रतीतहोते हों। आपको निर्णय करना है कि दिए गए निष्कर्षों में से कौन सा/कौन से निश्चित रूप से कथनों द्वारा सही निकाला जा सकता है/सकते हैं, यदि कोई हो।

कथन:

(I) सभी रेडियो, बिजली के सामान हैं।

(II) सभी टेबल लैम्प, बिजली के सामान हैं।

निष्कर्ष:

(I) कुछ रेडियो, टेबल लैम्प हैं।

(II) कुछ टेबल लैम्प, रेडियो हैं।

Options:

1) Conclusion I follows

निष्कर्ष I सही है

2) Conclusion II follows

निष्कर्ष II सही है

3) Neither I nor II follows

न तो I और न ही II सही है

4) Both I and II follows

I और II दोनों सही हैं

Correct Answer: Neither I nor II follows

न तो I और न ही II सही है

Candidate Answer: Neither I nor II follows

न तो I और न ही II सही है

QID : 112 - A series is given with one term missing. Choose the correct alternative from the given ones that will complete the series.

MNP, STV, YZB, ?

एक अनुक्रम दिया गया है, जिसमें से एक पद लुप्त है। दिए गए विकल्पों में से वह सही विकल्प चुनिए जो अनुक्रम को पूरा करे।

MNP, STV, YZB, ?

Options:

1) GHJ

2) JKM

3) EFH

4) CDB

Correct Answer: EFH

Candidate Answer: EFH

QID : 113 - A series is given with one term missing. Choose the correct alternative from the given ones that will complete the series.

AN, CP, ER, ?

एक अनुक्रम दिया गया है, जिसमें से एक पद लुप्त है। दिए गए विकल्पों में से वह सही विकल्प चुनिए जो अनुक्रम को पूरा करे।

AN, CP, ER, ?

Options:

1) LY

2) WJ

3) VI

4) GT

Correct Answer: GT

Candidate Answer: GT

QID : 114 - If 1st January 2013 was Tuesday, then what day of the week will be 31st December 2013?

यदि 1 जनवरी 2013 को मंगलवार था, तो 31 दिसंबर 2013 को सप्ताह का कौन-सा दिन होगा ?

Options:

- 1) Wednesday
बुधवार
- 2) Thursday
बृहस्पतिवार
- 3) Tuesday
मंगलवार
- 4) Monday
सोमवार

Correct Answer: Tuesday
मंगलवार

Candidate Answer: Tuesday
मंगलवार

QID : 115 - Arrange the given words in the sequence in which they occur in the dictionary.

- i. Fabric
- ii. Face
- iii. Failure
- iv. Faculty

निम्नलिखित शब्दों को शब्दकोश में आने वाले क्रम के अनुसार लिखें।

- i. Fabric
- ii. Face
- iii. Failure
- iv. Faculty

Options:

- 1) iv, ii, i, iii
- 2) iii, iv, ii, i
- 3) iv, iii, i, ii
- 4) i, ii, iv, iii

Correct Answer: i, ii, iv, iii

Candidate Answer: i, ii, iv, iii

KnowledgePhilic.com

QID : 116 - In a certain code language, "VENUS" is written as "TVOFW". How is "FAMILY" written in that code language?

एक विशिष्ट कोड भाषा में "VENUS" को "TVOFW" लिखा जाता है। इस कोड भाषा में "FAMILY" को किस प्रकार लिखा जाएगा?

Options:

- 1) ZMJNBG
- 2) GBNJMZ
- 3) EZLQKX
- 4) XKHLZQ

Correct Answer: ZMJNBG

Candidate Answer: [NOT ANSWERED]

QID : 117 -

In the following question, select the missing number from the given series.

निम्नलिखित प्रश्न में दिए गए विकल्पों में से लुप्त अंक ज्ञात कीजिए।

7	3	336
11	2	110
8	3	?

Options:

- 1) 472
- 2) 514
- 3) 504
- 4) 482

Correct Answer: 504

Candidate Answer: [NOT ANSWERED]

QID : 118 - If "A" denotes "added to", "C" denotes "divided by", "D" denotes "multiplied by" and "B" denotes "subtracted from", then $72 \text{ C } 9 \text{ D } 2 \text{ B } 6 \text{ A } 10 = ?$

यदि "A" का अर्थ "जोड़" है, "C" का अर्थ "भाग" है, "D" का अर्थ "गुणा" है, और "B" का अर्थ "घटाना" है, तो $72 \text{ C } 9 \text{ D } 2 \text{ B } 6 \text{ A } 10 = ?$

Options:

- 1) 30
- 2) 20
- 3) 35
- 4) 40

Correct Answer: 20**Candidate Answer:** 20**QID : 119** - Which set of letters when sequentially placed at the gaps in the given letter series shall complete it?

_AB_PQ_AB_P_

अक्षरों का कौन सा समूह खाली स्थानों पर क्रमवार रखने से दी गई अक्षर श्रृंखला को पूरा करेगा?

_AB_PQ_AB_P_

Options:

- 1) QQCPR
- 2) RPQCQ
- 3) QRCRC
- 4) CRCRQ

Correct Answer: CRCRQ**Candidate Answer:** CRCRQ**QID : 120** - Starting from his home, a boy rides on his bike for 8 km towards west, takes a left turn and travels 10 km more. From there, he turns 180° in the clockwise direction and travels another 16 km. Finally, he takes a right turn and travels 8 km more. How far and in what direction is he now from his original position?

एक लड़का अपने घर से मोटरसाइकल चलाना शुरू करता है और पश्चिम दिशा में 8 कि.मी. जाता है, फिर बाएं मुड़कर 10 कि.मी. जाता है। वहाँ से, वह फिर घड़ी की सुई के चलने की दिशा में 180° घूमकर आगे 16 कि.मी. जाता है। अंत में, वह दाएं मुड़कर और 8 कि.मी. जाता है। वह अब अपने मूल स्थान से कितनी दूरी पर और किस दिशा में है?

Options:

- 1) 6 km, North
6 कि.मी., उत्तर
- 2) 10 km, South
10 कि.मी., दक्षिण
- 3) 12 km, West
12 कि.मी., पश्चिम
- 4) 6 km, East
6 कि.मी., पूर्व

Correct Answer: 6 km, North

6 कि.मी., उत्तर

Candidate Answer: 12 km, West

12 कि.मी., पश्चिम

KnowledgePhilic.com

UPSC I SSC I Bank I Railway I Lic I Fci I DMRC

QID : 121 -

A word is represented by only one set of numbers as given in any one of the alternatives. The sets of numbers given in the alternatives are represented by two classes of alphabets as shown in the given two matrices. The columns and rows of Matrix-I are numbered from 0 to 4 and that of Matrix-II are numbered from 5 to 9. A letter from these matrices can be represented first by its row and next by its column, for example, 'N' can be represented by 21, 67 etc. and 'R' can be represented by 66, 57 etc. Similarly, you have to identify the set for the word 'METER'.

एक शब्द केवल एक संख्या-समूह द्वारा दर्शाया गया है, जैसा कि विकल्पों में से किसी एक में दिया गया है। विकल्पों में दिए गए संख्या-समूह अक्षरों के दो वर्गों द्वारा दर्शाए गए हैं, जैसा कि दिए गए दो आव्यूहों में है। आव्यूह-I के स्तम्भ और पंक्ति की संख्या 0 से 4 और आव्यूह-II की 5 से 9 है। इन आव्यूहों से एक अक्षर को पहले उसकी पंक्ति और बाद में स्तम्भ संख्या द्वारा दर्शाया जा सकता है। उदाहरण के लिए 'N' को 21, 67 आदि द्वारा दर्शाया जा सकता है तथा 'R' को 66, 57 आदि द्वारा दर्शाया जा सकता है। इसी तरह से आपको प्रश्न में दिए शब्द 'METER' के लिए समूह को पहचानना है।

Matrix-I
आव्यूह - I

	0	1	2	3	4
0	J	R	A	N	B
1	W	U	N	R	L
2	E	N	R	G	J
3	N	J	P	O	M
4	E	T	O	F	A

Matrix-II
आव्यूह - II

	5	6	7	8	9
5	H	M	R	I	T
6	M	R	N	T	P
7	C	S	T	E	U
8	S	N	S	M	S
9	M	B	E	Q	U

Options:

- 1) 65, 40, 68, 99, 66
- 2) 88, 20, 59, 97, 13
- 3) 56, 78, 41, 40, 67
- 4) 95, 41, 40, 68, 57

Correct Answer: 88, 20, 59, 97, 13

Candidate Answer: 88, 20, 59, 97, 13

QID : 122 - Introducing a boy, Sia says, "He is the grandson of my father. I have no siblings." How is Sia related to the boy?

एक लड़के का परिचय कराते हुए, सिया ने कहा, "वह मेरे पिता का नाती है। मेरी कोई बहन या भाई नहीं है।" सिया, लड़के से कैसे संबंधित है?

Options:

- 1) Aunt
मौसी
- 2) Grandmother
दादी
- 3) Mother
माँ
- 4) Cannot be determined
निर्धारित नहीं किया जा सकता

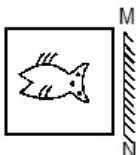
Correct Answer: Mother
माँ

Candidate Answer: Mother
माँ

QID : 123 -

If a mirror is placed on the line MN, then which of the answer figures is the right image of the given figure?

यदि एक दर्पण को MN रेखा पर रखा जाए, तो दी गई उत्तर आकृतियों में से कौन सी आकृति प्रश्न आकृति का सही प्रतिबिम्ब होगी?




Options:

1)



2)



3)



4)

**Correct Answer:****Candidate Answer:**

KnowledgePhilic.com

UPSC | SSC | Bank | Railway | Lic | Fci | DMRC

QID : 124 - Identify the diagram that best represents the relationship among the given classes.

Europe, Italy, Delhi, Rome

वह आरेख चुनिए जो नीचे दिए गए वर्गों के बीच के संबंध का सही निरूपण करता है।

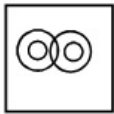
युरोप, इटली, दिल्ली, रोम

Options:

1)



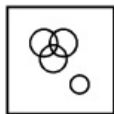
2)



3)



4)



Correct Answer:



Candidate Answer:



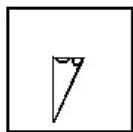
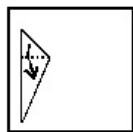
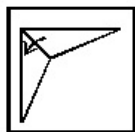
KnowledgePhilic.com

UPSC | SSC | Bank | Railway | Lic | Fci | DMRC

QID : 125 -

A piece of paper is folded and punched as shown below in the question figures. From the given answer figures, indicate how it will appear when opened.

नीचे प्रश्न आकृतियों में दशयि अनुसार कागज को मोड़कर छेदने तथा खोलने के बाद वह किस उत्तर आकृति जैसा दिखाई देगा?

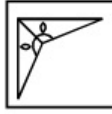


Options:

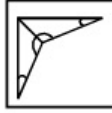
1)



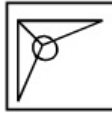
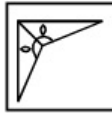
2)



3)



4)

**Correct Answer:****Candidate Answer:**

KnowledgePhilic.com

UPSC | SSC | Bank | Railway | Lic | Fci | DMRC

QID : 126 - The first programming language was

प्रथम प्रोग्रामिंग भाषा कौन सी है?

Options:

1) Perl

पर्ल

2) FORTRAN

फोर्ट्रान

3) Visual Basic

विजुअल बेसिक

4) C

C

Correct Answer: FORTRAN

फोर्ट्रान

Candidate Answer: Perl

पर्ल

QID : 127 - Barometer was invented by

बैरोमीटर का आविष्कार किसने किया था?

Options:

1) Evangelista Torricelli

एवांगेलिस्ता टोरीसेली

2) Charles Xavier Thomas

चार्ल्स जेवियर थॉमस

3) Edward Teller

एडवर्ड टेलर

4) Gustav Tauschek

गुस्ताव ताउशेक

Correct Answer: Evangelista Torricelli

एवांगेलिस्ता टोरीसेली

Candidate Answer: [NOT ANSWERED]

QID : 128 - Which is the largest organ in human beings?

मानवों में सबसे बड़ा अंग कौन सा होता है?

Options:

- 1) Skin
त्वचा
- 2) Large Intestine
बड़ी आंत
- 3) Small Intestine
छोटी आंत
- 4) Liver
यकृत

Correct Answer: Skin

त्वचा

Candidate Answer: Skin

त्वचा

QID : 129 - Delonix regia Rafin is the scientific name of

डेलोनिक्स रजिया रफिन (Delonix regia Rafin) _____ का वैज्ञानिक नाम है।

Options:

- 1) Banyan
बरगद
- 2) Gulmohar
गुलमोहर
- 3) Tamarind
इमली
- 4) Chiku
चीकू

Correct Answer: Gulmohar

गुलमोहर

Candidate Answer: Banyan

बरगद

QID : 130 - Amoeba belongs to the phylum

अमीबा _____ प्रजाति के अंतर्गत आता है।

Options:

- 1) Protozoa
प्रोटोजुआ
- 2) Annelida
एनिलिडा
- 3)

Porifera

पोरीफेरा

4) Platyhelminthes

प्लैटिहेल्मिन्थेस

Correct Answer: Protozoa

प्रोटोजुआ

Candidate Answer: Protozoa

प्रोटोजुआ

QID : 131 - Which among the following is white phosphorus?

निम्नलिखित में से कौन सा सफेद फास्फोरस है?

Options:

- 1) P1
- 2) P6
- 3) P4
- 4) P5

Correct Answer: P4

Candidate Answer: [NOT ANSWERED]

QID : 132 - Alkali metals can

क्षारीय धातुओं का गुण क्या है?

Options:

- 1) be highly unstable at room temperature
कमरे के तापमान पर अति अस्थिर
- 2) vaporize at room temperature
कमरे के तापमान पर वाष्पीकृत होती हैं
- 3) easily gain electrons
इलेक्ट्रॉन्स को आसानी से प्राप्त करती हैं
- 4) easily lose electrons
इलेक्ट्रॉन्स को आसानी से छोड़ देती हैं

Correct Answer: easily lose electrons
इलेक्ट्रॉन्स को आसानी से छोड़ देती हैं

Candidate Answer: easily lose electrons
इलेक्ट्रॉन्स को आसानी से छोड़ देती हैं

QID : 133 - Khangchendzonga National Park is in

कंचनजंघा राष्ट्रीय उद्यान _____ में है।

Options:

1) Maharashtra

महाराष्ट्र

2) Orissa

ओड़िशा

3) Rajasthan

राजस्थान

4) Sikkim

सिक्किम

Correct Answer: Sikkim

सिक्किम

Candidate Answer: Sikkim

सिक्किम

QID : 134 - The Karma dance belongs to which state?

कर्मा नृत्य किस राज्य से संबंधित है?

Options:

1) West Bengal

पं. बंगाल

2) Sikkim

सिक्किम

3) Madhya Pradesh

मध्यप्रदेश

4) Uttar Pradesh

उत्तरप्रदेश

Correct Answer: Madhya Pradesh

मध्यप्रदेश

Candidate Answer: Madhya Pradesh

मध्यप्रदेश

QID : 135 - If price of an article decreases from P1 to Rs 25, quantity demanded increases from 900 units to 1200 units. If point elasticity of demand is -2 find P1?

यदि एक वस्तु की कीमत P1 से 25 ₹. तक कम हो जाती है, मात्रा की मांग 900 यूनिट से 1200 यूनिट तक बढ़ जाती है। यदि मांग की बिंदु लोच -2 है, तो P1 ज्ञात करें।

Options:

1) Rs. 20

20 ₹.

2) Rs. 30

30 ₹.

3) Rs. 35

35 ₹.

4) Rs. 15

15 ₹.

Correct Answer: Rs. 30

30 ₹.

Candidate Answer: [NOT ANSWERED]

QID : 136 - Which among the following is a characteristic of Laissez-faire system?

निम्नलिखित में से कौन सी लायसेज फेयर प्रणाली की एक विशेषता है?

Options:

1) No government intervention

सरकार का कोई हस्तक्षेप नहीं होता

2) Market forces are highly regulated

बाजार के कारक अत्यधिक नियंत्रक होते हैं

3) It is a socialist system

यह एक समाजवादी प्रणाली है

4) Maximum government intervention

सरकार का सर्वाधिक हस्तक्षेप होता है

Correct Answer: No government intervention

सरकार का कोई हस्तक्षेप नहीं होता

Candidate Answer: [NOT ANSWERED]

QID : 137 - Sulphur Dioxide pollution is indicated by an excessive growth of which of the following?

सल्फर डाय ऑक्साइड का प्रदूषण निम्नलिखित में से किसके अत्यधिक वृद्धि होने का सूचक है?

Options:

- 1) Algal Blooms
शैवाल
- 2) Lichens
लाईकेन्स
- 3) Bryophytes
ब्रायोफाइट
- 4) Protozoa
प्रोटोजुआ

Correct Answer: Lichens
लाईकेन्स

Candidate Answer: [NOT ANSWERED]

QID : 138 - Evidence suggests that life on Earth has existed for about_____.

सबूत बताते हैं कि पृथ्वी पर जीवन का अस्तित्व करीब _____ से है।

Options:

- 1) 3.5 million years
3.5 मिलियन वर्ष
- 2) 35 billion years
35 बिलियन वर्ष
- 3) 35 million years
35 मिलियन वर्ष
- 4) 3.5 billion years
3.5 बिलियन वर्ष

Correct Answer: 3.5 billion years
3.5 बिलियन वर्ष

Candidate Answer: 3.5 million years
3.5 मिलियन वर्ष

QID : 139 - Hollywood is located in _____.

हॉलीवुड _____ में स्थित है।

Options:

- 1) New Jersey
न्यू जर्सी
- 2) Florida
फ्लोरिडा
- 3) London
लंदन
- 4) California
कैलिफोर्निया

Correct Answer: California
कैलिफोर्निया

Candidate Answer: California
कैलिफोर्निया

QID : 140 - Which is the longest national highway in India?

भारत का सबसे लंबा राष्ट्रीय महामार्ग कौनसा है?

Options:

- 1) NH-4
- 2) NH-44
- 3) NH-10
- 4) NH-5

Correct Answer: NH-44

Candidate Answer: NH-44

QID : 141 - Which among the following is not a dwarf planet?

निम्नलिखित में से कौनसा एक बौना ग्रह नहीं है?

Options:

- 1) Mars
मंगल
- 2) Makemake
मेकमेक
- 3) Pluto
प्लूटो
- 4) Eris
एरिस

Correct Answer: Mars
मंगल

Candidate Answer: Pluto
प्लूटो

KnowledgePhilic.com

UPSC | SSC | Bank | Railway | Lic | Fci | DMRC

QID : 142 - Battle of Panipat was fought in the year 1526 between Babur and _____.

वर्ष 1526 में पानीपत का युद्ध बाबर और _____ के बीच लड़ा गया था।

Options:

- 1) Rana Sanga
राणा सांगा
- 2) Muhammad Bin Tughlak
मुहम्मद बिन तुगलक
- 3) Hemu
हेमू
- 4) Ibrahim Lodi
इब्राहिम लोदी

Correct Answer: Ibrahim Lodi

इब्राहिम लोदी

Candidate Answer: [NOT ANSWERED]

QID : 143 - When was Indian Navy Act passed?

भारतीय नौसेना कानून कब पारित किया गया?

Options:

- 1) 1927
- 2) 1937
- 3) 1947
- 4) 1957

Correct Answer: 1927

Candidate Answer: [NOT ANSWERED]

QID : 144 - Pulitzer Prize was established in _____.

पुलित्जर पुरस्कार को वर्ष _____ में स्थापित किया गया था।

Options:

- 1) 1762
- 2) 1883
- 3) 1917
- 4) 1965

Correct Answer: 1917

Candidate Answer: 1917

KnowledgePhilic.com

UPSC | SSC | Bank | Railway | Lic | Eci | DMRC

QID : 145 - An object at rest will remain at rest and an object in motion will remain in motion until and unless it is acted upon by an external force. This is Newton's

एक वस्तु जब तक स्थिर है तब तक वह स्थिर ही रहेगी, और यदि गति में है, तो वह गति में ही रहेगी, जब तक उस पर कोई बाह्य बल नहीं लगाया जायेगा। यह न्यूटन का कौन सा नियम है?

Options:

- 1) First law
प्रथम नियम है
- 2) Second law
द्वितीय नियम है
- 3) Third law
तृतीय नियम है
- 4) Fourth law
चतुर्थ नियम है

Correct Answer: First law

प्रथम नियम है

Candidate Answer: First law

प्रथम नियम है

QID : 146 - What will happen if an object is dropped from a height and there is no air resistance?

क्या होगा यदि किसी वस्तु को ऊँचाई से नीचे गिराया जाये और वहाँ हवा का प्रतिरोध न हो?

Options:

- 1) It will fall with a constant speed and acceleration
वह एक स्थिर गति और त्वरण के साथ नीचे गिरेगी
- 2) Its acceleration will increase
उसका त्वरण कम हो जायेगा
- 3) Both speed and acceleration will increase
गति और त्वरण दोनों में वृद्धि होगी
- 4) Its speed will increase
उसकी गति बढ़ जाएगी

Correct Answer: Its speed will increase

उसकी गति बढ़ जाएगी

Candidate Answer: Its acceleration will increase

उसका त्वरण कम हो जायेगा

QID : 147 - What is the retirement age of the Prime Minister of India?

भारत के प्रधानमंत्री के सेवानिवृत्त होने की उम्र क्या है?

Options:

- 1) 60 years
60 वर्ष
2) 70 years
70 वर्ष
3) 80 years
80 वर्ष
4) No limit
कोई सीमा नहीं

Correct Answer: No limit
कोई सीमा नहीं

Candidate Answer: No limit
कोई सीमा नहीं

QID : 148 - In case State emergency is declared, it needs Parliamentary approval after every _____.

यदि राष्ट्रीय आपातकाल घोषित किया जाता है, तो उसे प्रत्येक _____ बाद संसद का अनुमोदन प्राप्त करना आवश्यक होता है।

Options:

- 1) 6 months
6 माह
2) 1 year
1 वर्ष
3) 2 years
2 वर्ष
4) 3 years
3 वर्ष

Correct Answer: 6 months
6 माह

Candidate Answer: 6 months
6 माह

QID : 149 - Ajeet Bajaj is associated with which Sport?

अजीत बजाज किस खेल के साथ जुड़े हुए हैं?

Options:

- 1) Badminton
बैडमिंटन
2) Adventure Sports
साहसिक खेल
3) Cricket
क्रिकेट
4) Hockey
हॉकी

Correct Answer: Adventure Sports
साहसिक खेल

Candidate Answer: Badminton
बैडमिंटन

QID : 150 - Who is the author of 'Million Mutinies Now'?

'मिलियन म्युटिनीज नॉव' पुस्तक के लेखक कौन है?

Options:

- 1) Aurobindo Ghosh
अरबिंदो घोष
2) K P S Gill
के पी एस गिल
3) Nirad Chaudhuri
नीरद चौधरी
4) V S Naipaul
वी एस नायपाँल

Correct Answer: V S Naipaul
वी एस नायपाँल

Candidate Answer: [NOT ANSWERED]

QID : 151 - Reflection of the point (2,-7) in the y-axis is

y-अक्ष पर बिंदु (2, -7) का परावर्तन क्या है?

Options:

- 1) (2,7)
2) (-2,-7)
3) (-7,2)
4) (7,-2)

Correct Answer: (-2,-7)

Candidate Answer: [NOT ANSWERED]

KnowledgePhilic.com

UPSC | SSC | Bank | Railway | Lic | Fci | DMRC

QID : 152 - The price of an article is cut by 3%. To restore to its original value, the new price must be increased by

एक वस्तु की कीमत में 3% की छूट दी जाती है। पुराना मूल्य वापस लाने के लिए कितने प्रतिशत से वृद्धि करनी चाहिए?

Options:

- 1) 3 percent
3 प्रतिशत
2) 7.11 percent
7.11 प्रतिशत
3) 3.09 percent
3.09 प्रतिशत
4) 2.69 percent
2.69 प्रतिशत

Correct Answer: 3.09 percent
3.09 प्रतिशत

Candidate Answer: 3.09 percent
3.09 प्रतिशत

QID : 153 - Simple interest on a certain sum of money for 3 years at 8% per annum is half the compound interest on Rs. 16000 for 2 years at 10% per annum. The sum placed on simple interest is:

8% वार्षिक दर से 3 वर्षों के लिए एक निश्चित राशि पर साधारण ब्याज 10% वार्षिक दर से 2 वर्षों के लिए 16000 रूपए की राशि पर चक्रवृद्धि ब्याज से आधा है। साधारण ब्याज पर दी गई राशि कितनी है:

Options:

- 1) Rs 14000
रु 14000
2) Rs 3500
रु 3500
3) Rs 7000
रु 7000
4) Rs 5600
रु 5600

Correct Answer: Rs 7000
रु 7000

Candidate Answer: [NOT ANSWERED]

QID : 154 - On dividing $144a^3b^3c^3$ by $24b^2c$, we get

$24b^2c$ द्वारा $144a^3b^3c^3$ को विभाजित करने पर हमें प्राप्त होता है

Options:

- 1) $6a^2bc^2$
2) $24a^3bc^2$
3) $24b^2c$
4) $6a^3b^2c$

Correct Answer: $6a^2bc^2$

Candidate Answer: $6a^2bc^2$

QID : 155 - If $\cos^4A - \sin^4A = X$, then value of X is?

यदि $\cos^4A - \sin^4A = X$ है, तो X का मान क्या है?

Options:

- 1) $\cos^2A - 1$
2) $2\cos^2A - 1$
3) $2\cos^2A + 1$
4) $\cos^2A + 1$

Correct Answer: $2\cos^2A - 1$

Candidate Answer: $2\cos^2A - 1$

QID : 156 - Ticket for an adult is Rs 1600 and a child is Rs 1200. 1 child goes free with two adults. If a group has 23 adults and 10 children what is the discount the group gets?

एक वयस्क के टिकट का मूल्य 1600 रुपये है और एक बच्चे के टिकट का मूल्य 1200 रुपये है। दो वयस्कों के साथ 1 बच्चे निःशुल्क जा सकता है। यदि एक समूह में 23 वयस्क और 10 बच्चे हैं तो उस समूह को कितनी छूट मिलेगी?

Options:

- 1) 25.95 percent
25.95 प्रतिशत
2) 24.59 percent
24.59 प्रतिशत
3) 25.77 percent
25.77 प्रतिशत
4) 31.60 percent
31.60 प्रतिशत

Correct Answer: 24.59 percent
24.59 प्रतिशत

Candidate Answer: 31.60 percent
31.60 प्रतिशत

QID : 157 - A tent is to be built in the form of a cylinder of radius 10 m surmounted by a cone of the same radius. If the height of the cylindrical part is 5 m and slant height of the conical part is 15 m, how much canvas will be required to build the tent? Allow 20% extra canvas for folding and stitching. (Take $\pi = 22/7$)

10 मी की त्रिज्या वाले एक सिलेंडर के आकार के एक तम्बू का निर्माण किया जाना है, जिस पर उसी त्रिज्या के एक शंकु को मढ़ा जाना है। यदि बेलनाकार भाग की ऊंचाई 5 मी और शंकाकार भाग की तिरछी ऊंचाई 15 मी है तो इस तम्बू को बनाने के लिए कितने केनवास की आवश्यकता होगी? मोड़ने और सिलाई के लिए 20% अतिरिक्त केनवास की गणना करें। ($\pi = 22/7$ लीजिये)

Options:

- 1) 4714.43 sq m
4714.43 वर्ग मी.
- 2) 3772.14 sq m
3772.14 वर्ग मी.
- 3) 6783.86 sq m
6783.86 वर्ग मी.
- 4) 2451.42 sq m
2451.42 वर्ग मी.

Correct Answer: 2451.42 sq m
2451.42 वर्ग मी.

Candidate Answer: [NOT ANSWERED]

QID : 158 - 7 hrs after a goods train passed a station, another train travelling at a speed of 54 km/hr following that goods train passed through that station. If after passing the station the train overtakes the goods train in 11 hours. What is the speed of the goods train?

एक मालगाड़ी के द्वारा एक स्टेशन पार करने के 7 घंटे बाद, उसका पीछा करते हुए एक और रेलगाड़ी ने 54 किमी/घंटा की गति से यात्रा करते हुए उसी स्टेशन को पार किया। यदि स्टेशन पार करने के 11 घंटे के बाद रेलगाड़ी मालगाड़ी से आगे निकल जाती है, तो मालगाड़ी की गति क्या होगी?

Options:

- 1) 39.6 km/hr
39.6 किमी/घंटा
- 2) 49.5 km/hr
49.5 किमी/घंटा
- 3) 33 km/hr
33 किमी/घंटा
- 4) 26.4 km/hr
26.4 किमी/घंटा

Correct Answer: 33 km/hr
33 किमी/घंटा

Candidate Answer: [NOT ANSWERED]

QID : 159 - The simplified form of $112b^3x^2a^4z^3/7a^3b^2z$ is?

$112b^3x^2a^4z^3/7a^3b^2z$ का सरलीकृत मान क्या है?

Options:

- 1) $16bx^2a^2z$
- 2) $16bx^2az^2$
- 3) $16ba^2z$
- 4) $16bxa^2z$

Correct Answer: $16bx^2az^2$

Candidate Answer: $16bx^2az^2$

QID : 160 - What is the equation of the line if its slope is $3/4$ and y-intercept is 5?

उस रेखा का समीकरण क्या होगा, जिसकी ढलान $3/4$ है और जो y-अक्ष को 5 पर काटती है?

Options:

- 1) $3x + 4y = -20$
- 2) $3x + 4y = 20$
- 3) $3x - 4y = -20$
- 4) $3x - 4y = 20$

Correct Answer: $3x - 4y = -20$

Candidate Answer: [NOT ANSWERED]

QID : 161 - Find two numbers whose sum is 29 and the product is 100.

दो नंबर ज्ञात करें, जिनका योग 29 है और गुणनफल 100 है।

KnowledgePhilic.com

UPSC | SSC | Bank | Railway | Lic | Fci | DMRC

Options:

- 1) 20, 5
- 2) 20, 9
- 3) 25, 4
- 4) 10, 10

Correct Answer: 25, 4**Candidate Answer:** 25, 4**QID : 162** - $6.651 - (148.6 - x) - 57.22 = 6.098$. Find x. $6.651 - (148.6 - x) - 57.22 = 6.098$ । x को ज्ञात करें।**Options:**

- 1) 205.267
205.267
- 2) 90.827
90.827
- 3) -91.933
-91.933
- 4) 218.569
218.569

Correct Answer: 205.267

205.267

Candidate Answer: 205.267

205.267

QID : 163 - Find measure of central angle of the sector whose perimeter is 25 cm and radius of the circle is 7 cm?

उस सेक्टर के केंद्रीय कोण के माप का पता लगायें, जिसकी परिधि 25 सेमी है और वृत्त की त्रिज्या 7 सेमी है।

Options:

- 1) 45°
- 2) 22.5°
- 3) 135°
- 4) 90°

Correct Answer: 90°**Candidate Answer:** 22.5°

KnowledgePhilic.com

UPSC | SSC | Bank | Railway | Lic | Fci | DMRC

QID : 164 - A labourer can do a job in 50 hours. After 5 hours he takes a break. What fraction of the job is yet to be done?

एक मज़दूर एक काम 50 घंटे में करता है। 5 घंटे बाद वह विराम लेता है। काम का कितना भाग अभी भी करना बाकी है?

Options:

- 1) 0.8
- 2) 0.5
- 3) 0.75
- 4) 0.9

Correct Answer: 0.9**Candidate Answer:** 0.9**QID : 165** - In an army selection process, the ratio of selected to unselected candidates was 6:1. If 30 less had applied and 10 less selected, the ratio of selected to unselected would have been 7:1. How many candidates had applied for the process?

एक आर्मी की भर्ती प्रक्रिया में, चयनित और अचयनित अभ्यर्थियों का अनुपात 6:1 था। यदि 30 कम ने आवेदन किया होता और 10 कम चयनित होते, तो चयनित और अचयनित का अनुपात 7:1 होता। कितने अभ्यर्थियों ने प्रक्रिया के लिए आवेदन किया था?

Options:

- 1) 910
- 2) 1820
- 3) 455
- 4) 2730

Correct Answer: 910**Candidate Answer:** [NOT ANSWERED]**QID : 166** - A quadrilateral is inscribed in a circle. If the opposite angles of the quadrilateral are equal and length of its adjacent sides are 6 cm and 8 cm, what is the area of the circle?

एक वृत्त में एक चतुर्भुज खुदा हुआ है। यदि उस चतुर्भुज के विपरीत कोण बराबर है और उसकी सटी हुई भुजाओं की लंबाई क्रमशः 6 सेमी और 8 सेमी हैं, तो उस वृत्त का क्षेत्रफल क्या होगा?

Options:

- 1) 64π sq cm
 64π वर्ग सेमी
- 2) 25π sq cm
 25π वर्ग सेमी
- 3) 36π sq cm
 36π वर्ग सेमी
- 4) 49π sq cm
 49π वर्ग सेमी

Correct Answer: 25n sq cm
25n वर्ग सेमी

Candidate Answer: 25n sq cm
25n वर्ग सेमी

QID : 167 - $\sqrt{(\operatorname{cosec}^2 - 1)}/\operatorname{cosec}A$ is equal to?

$\sqrt{(\operatorname{cosec}^2 - 1)}/\operatorname{cosec}A$ किसके बराबर है?

Options:

- 1) $\cos A$
- 2) $\sin A$
- 3) $\operatorname{cosec} A$
- 4) $\sec A$

Correct Answer: $\cos A$

Candidate Answer: $\cos A$

QID : 168 - What is the value of $\sin^{-7n/4c}$?

$\sin^{-7n/4c}$ का मान क्या है?

Options:

- 1) $-1/\sqrt{2}$
- 2) $2/\sqrt{3}$
- 3) $1/\sqrt{2}$
- 4) $-2/\sqrt{3}$

Correct Answer: $1/\sqrt{2}$

Candidate Answer: [NOT ANSWERED]

QID : 169 - If in a two digit number, the digit at unit place is y and the digit at tens place is 5, then the number is

यदि एक दो अंकों की संख्या में, इकाई के स्थान पर y अंक है और दहाई के स्थान पर 5 अंक है, तो वह संख्या है

Options:

- 1) $50y + y$
- 2) $5y + 5$
- 3) $50 + y$
- 4) $50y + 5$

Correct Answer: $50 + y$

Candidate Answer: $50y + y$

QID : 170 - A wholesaler sells a watch to a retailer at a gain of 32% and the retailer sells it to a customer at a loss of 20%. If the customer pays Rs 1,953.6, what had it cost the wholesaler?

एक थोक व्यापारी एक खुदरा व्यापारी को एक घड़ी 32% लाभ के साथ बेच देता है और खुदरा व्यापारी उसे ग्राहक को 20% हानि के साथ बेच देता है। यदि ग्राहक ने 1,953.6 रुपए का भुगतान करता है, तो थोक व्यापारी की लागत क्या थी?

Options:

- 1) Rs 2063
₹ 2063
- 2) Rs 2394
₹ 2394
- 3) Rs 1850
₹ 1850
- 4) Rs 1637
₹ 1637

Correct Answer: Rs 1850

₹ 1850

Candidate Answer: [NOT ANSWERED]

QID : 171 - In the first 39 overs of a cricket match, the run rate was 4.6 runs/over. Calculate the required run rate in the remaining 11 overs to reach the target of 252 runs?

एक क्रिकेट मैच के पहले 39 ओवर में रन रेट 4.6 रन/ओवर था। शेष 11 ओवरों में 252 रन के लक्ष्य तक पहुँचने के लिए अपेक्षित रन रेट की गणना करें।

Options:

- 1) 7.2
- 2) 6.6
- 3) 7.8
- 4) 6

Correct Answer: 6.6

Candidate Answer: 6.6

QID : 172 -

Refer the below data table and answer the following Question.

नीचे दिये गए डेटा तालिका के आधार पर निम्नलिखित प्रश्न का उत्तर दें।

Division / Standard श्रेणी/कक्षा	Boys लड़के	Girls लड़कियाँ
Division A / Standard 5 श्रेणी A/कक्षा 5	10	30
Division B / Standard 5 श्रेणी B/कक्षा 5	15	25
Division C / Standard 5 श्रेणी C/कक्षा 5	25	15
Division A / Standard 6 श्रेणी A/कक्षा 6	25	10
Division B/Standard 6 श्रेणी B/कक्षा 6	15	15
Division C / Standard 6 श्रेणी C/कक्षा 6	15	20

What is the ratio of boys to girls?

लड़कियों पर लड़कों का अनुपात क्या है?

Options:

1) 23 : 25

2) 23 : 21

3) 21 : 23

4) 25 : 23

Correct Answer: 21 : 23

Candidate Answer: 21 : 23

KnowledgePhilic.com

QID : 173 -

Refer the below data table and answer the following Question.

नीचे दिये गए डेटा तालिका के आधार पर निम्नलिखित प्रश्न का उत्तर दें।

Marks अंक	Number of students छात्रों की संख्या
40 and above 40 और उस से ऊपर	20
30 and above 30 और उस से ऊपर	45
30 and above 20 और उस से ऊपर	62
10 and above 10 और उस से ऊपर	88
0 and above 0 और उस से ऊपर	99

How many students have scored marks 20 or more but less than 40?

कितने छात्रों ने 20 या उस से अधिक लेकिन 40 से कम अंक स्कोर किए हैं

Options:

1) 62

2) 42

3) 45

4) 107

Correct Answer: 42

Candidate Answer: 62

UPSC | SSC | Bank | Railway | Lic | Fci | DMRC

QID : 174 -

Refer the below data table and answer the following Question.

नीचे दिये गए डेटा तालिका के आधार पर निम्नलिखित प्रश्न का उत्तर दें।

Year वर्ष	GDP growth rate for the year (in %) वर्ष में सकल घरेलू उत्पाद (जीडीपी) की वृद्धि का दर (प्रतिशत में)
2011	6
2012	-3
2013	5
2014	4
2015	-7

If the GDP of the country was \$8 trillion at the end of 2013, what was it at the beginning of 2015?

यदि देश का सकल घरेलू उत्पाद (जीडीपी) 2013 के अंत तक \$8 ट्रिलियन था, तो वह 2015 की शुरुआत में कितना था?

Options:

- 1) \$8.32 trillion
\$ 8.32 ट्रिलियन
- 2) \$7.44 trillion
\$ 7.44 ट्रिलियन
- 3) \$8.4 trillion
\$: 8.4 ट्रिलियन
- 4) \$7.76 trillion
\$ 7.76 ट्रिलियन

Correct Answer: \$8.32 trillion
\$ 8.32 ट्रिलियन**Candidate Answer:** \$7.76 trillion
\$ 7.76 ट्रिलियन

KnowledgePhilic.com

UPSC | SSC | Bank | Railway | Lic | Fci | DMRC

QID : 175 -

Refer the below data table and answer the following Question.

नीचे दिये गए डेटा तालिका के आधार पर निम्नलिखित प्रश्न का उत्तर दें।

Subjects विषय	Marks scored प्राप्त अंक
English / अंग्रेज़ी	65
Hindi / हिंदी	75
Math / गणित	45
Science / विज्ञान	75
Arts / कला	70

Five points are to be deducted from the students average of marks scored because of poor attendance. What will be the students net average marks scored?

किसी छात्र की अपर्याप्त उपस्थिति के वजह से उसके प्राप्त अंकों के औसत से पांच अंक घटाए जाने हैं। छात्र के प्राप्त कुल औसत अंक कितने होंगे?

Options:

- 1) 56
- 2) 51
- 3) 66
- 4) 61

Correct Answer: 61**Candidate Answer:** 61

QID : 176 - Rearrange the parts of the sentence in correct order.

You fail to
P-what someone is born,
Q-recognize that it matters not
R-but what they grow to be!

Options:

- 1) QPR
- 2) PRQ
- 3) RPQ
- 4) QRP

Correct Answer: QPR

Candidate Answer: [NOT ANSWERED]

QID : 177 - Select the antonym of

Humdrum

Options:

- 1) tedious
- 2) trite
- 3) drab
- 4) fascinating

Correct Answer: fascinating

Candidate Answer: [NOT ANSWERED]

QID : 178 - Improve the bracketed part of the sentence.

The young man (was carried by) the passionate appeal made by the social worker.

Options:

- 1) was carried towards
- 2) was carried off by
- 3) got carried away by
- 4) no improvement

Correct Answer: got carried away by

Candidate Answer: got carried away by

QID : 179 - In the following question, the sentence given with blank to be filled in with an appropriate word. Select the correct alternative out of the four and indicate it by selecting the appropriate option.

A large _____ of angry bisons rampaged through the villages.

Options:

- 1) herd
- 2) swarm
- 3) group
- 4) flock

Correct Answer: herd

Candidate Answer: [NOT ANSWERED]

QID : 180 - Select the word with the correct spelling.

Options:

- 1) acolade
- 2) registry
- 3) gaudyest
- 4) frackture

Correct Answer: registry

Candidate Answer: registry

QID : 181 - In the following question, out of the four alternatives, select the alternative which is the best substitute of the phrase.

Average in amount, intensity, quality, or degree.

Options:

- 1) moderate
- 2) supernatant
- 3) hobble
- 4) hum

Correct Answer: moderate

Candidate Answer: supernatant

QID : 182 - Rearrange the parts of the sentence in correct order.

The wide world is all
P-cannot for ever fence it out
Q- about you: you can fence
R- yourselves in, but you

Options:

- 1) PRQ
- 2) QRP
- 3) RQP
- 4) RPQ

Correct Answer: QRP

Candidate Answer: QRP

QID : 183 - Select the synonym of

eminent

Options:

- 1) obscure
- 2) common
- 3) renowned
- 4) phenomenal

Correct Answer: renowned

Candidate Answer: [NOT ANSWERED]

QID : 184 - In the following question, some part of the sentence may have errors. Find out which part of the sentence has an error and select the appropriate option. If a sentence is free from error, select 'No Error'.

The officer asked the recruit (A)/ which district(B)/ he came from.(C)/ No error(D)

Options:

- 1) A
- 2) B
- 3) C
- 4) D

Correct Answer: D

Candidate Answer: [NOT ANSWERED]

QID : 185 - Select the antonym of

celibate

Options:

- 1) chaste
- 2) virtuous
- 3) promiscuous
- 4) continent

Correct Answer: promiscuous

Candidate Answer: [NOT ANSWERED]

QID : 186 - In the following question, some part of the sentence may have errors. Find out which part of the sentence has an error and select the appropriate option. If a sentence is free from error, select 'No Error'.

The road from(A)/ my house(B)/ to temple is full of potholes.(C)/ No error(D)

Options:

- 1) A
- 2) B
- 3) C
- 4) D

Correct Answer: C

Candidate Answer: [NOT ANSWERED]

QID : 187 - Select the word with the correct spelling.

Options:

- 1) transmitt
- 2) aplauds
- 3) mobility
- 4) ceramix

Correct Answer: mobility

Candidate Answer: [NOT ANSWERED]

QID : 188 - Select the synonym of

snatch

Options:

- 1) detonate
- 2) bequeath
- 3) confer
- 4) wrench

Correct Answer: wrench

Candidate Answer: [NOT ANSWERED]

QID : 189 - In the following question, out of the four alternatives, select the alternative which best expresses the meaning of the idiom/phrase.

Scot-free

Options:

- 1) To escape from captivity
- 2) Be free of all responsibilities
- 3) To Get something unexpected
- 4) Without suffering any punishment or injury

Correct Answer: Without suffering any punishment or injury

Candidate Answer: Without suffering any punishment or injury

QID : 190 - In the following question, a sentence has been given in Direct/Indirect speech. Out of the four alternatives suggested, select the one which best express the same sentence in Indirect/Direct speech.

The holy prophet said, " God helps those who help others."

Options:

- 1) The holy prophet said that God helped those who helped others.
- 2) The holy prophet said that God helps those who help others.
- 3) The holy prophet said that God helps people who help others.
- 4) The holy prophet said that God helps those people who help others.

Correct Answer: The holy prophet said that God helps those who help others.

Candidate Answer: The holy prophet said that God helps those who help others.

QID : 191 - In the following question, out of the four alternatives, select the alternative which best expresses the meaning of the idiom/phrase.

Tongue-in-cheek

Options:

- 1) In an insincere way
- 2) To praise wholeheartedly
- 3) A sensational news
- 4) To say something hurtful

Correct Answer: In an insincere way

Candidate Answer: To praise wholeheartedly

QID : 192 - In the following question, out of the four alternatives, select the alternative which is the best substitute of the phrase

A factory, where workers are employed at very low wages for long hours and under poor conditions.

Options:

- 1) Impalpable
- 2) Outset
- 3) Bloomy
- 4) Sweatshop

Correct Answer: Sweatshop

Candidate Answer: Bloomy

QID : 193 - In the following question, the sentence given with blank to be filled in with an appropriate word. Select the correct alternative out of the four and indicate it by selecting the appropriate option.

Mangoes do not _____ all at the same time. Hence, they are not plucked on the same day.

Options:

- 1) germinate
- 2) ripen
- 3) grow
- 4) age

Correct Answer: ripen

Candidate Answer: [NOT ANSWERED]

QID : 194 - In the following question, a sentence has been given in Active/Passive voice. Out of four alternatives suggested, select the one which best expresses the same sentence in Passive/Active voice.

I saw the master conducting the orchestra.

Options:

- 1) I saw that the orchestra was being conducted by the master.
- 2) I saw the orchestra being conducted by the master.
- 3) The master was seen conducting the orchestra by me.
- 4) The master was conducting the orchestra and I saw that.

Correct Answer: I saw the orchestra being conducted by the master.

Candidate Answer: [NOT ANSWERED]

QID : 195 - Improve the bracketed part of the sentence.

Due to heavy monsoon showers, the water in the dam (rose another foot).

Options:

- 1) raised another foot
- 2) raised by a feet.
- 3) had risen a foot
- 4) no improvement

Correct Answer: no improvement

Candidate Answer: raised by a feet.

QID : 196 - In the following passage some of the words have been left out. Read the passage carefully and select the correct answer for the given blank out of the four alternatives.

_____ to a simple yoga technique in the morning, such as an energising sun-salutation or cat-cow pose, can wake up the whole mind-body element. It thus builds focus for the rest of the day and leaves you feeling _____ and ready. It also _____ awareness while doing so. This is a _____ that works backwards. You tend to sleep earlier as you are mindful of waking up early for the yoga class, so bedtime gets a higher priority in your life. Early morning yoga calms you down for the rest of the day by setting a steady tone. The breathing patterns are carried into the day leaving you _____ and relaxed.

_____ to a simple yoga technique

Options:

- 1) Following
- 2) Adhering
- 3) Going after
- 4) Superseding

Correct Answer: Adhering**Candidate Answer:** Adhering

QID : 197 - In the following passage some of the words have been left out. Read the passage carefully and select the correct answer for the given blank out of the four alternatives.

_____ to a simple yoga technique in the morning, such as an energising sun-salutation or cat-cow pose, can wake up the whole mind-body element. It thus builds focus for the rest of the day and leaves you feeling _____ and ready. It also _____ awareness while doing so. This is a _____ that works backwards. You tend to sleep earlier as you are mindful of waking up early for the yoga class, so bedtime gets a higher priority in your life. Early morning yoga calms you down for the rest of the day by setting a steady tone. The breathing patterns are carried into the day leaving you _____ and relaxed.

leaves you feeling _____ and ready.

Options:

- 1) rejuvenated
- 2) updated
- 3) refurbished
- 4) restituted

Correct Answer: rejuvenated**Candidate Answer:** rejuvenated

QID : 198 - In the following passage some of the words have been left out. Read the passage carefully and select the correct answer for the given blank out of the four alternatives.

_____ to a simple yoga technique in the morning, such as an energising sun-salutation or cat-cow pose, can wake up the whole mind-body element. It thus builds focus for the rest of the day and leaves you feeling _____ and ready. It also _____ awareness while doing so. This is a _____ that works backwards. You tend to sleep earlier as you are mindful of waking up early for the yoga class, so bedtime gets a higher priority in your life. Early morning yoga calms you down for the rest of the day by setting a steady tone. The breathing patterns are carried into the day leaving you _____ and relaxed.

It also _____ awareness

Options:

- 1) booms
- 2) facilitates
- 3) speeds up
- 4) enhances

Correct Answer: enhances**Candidate Answer:** enhances

QID : 199 - In the following passage some of the words have been left out. Read the passage carefully and select the correct answer for the given blank out of the four alternatives.

_____ to a simple yoga technique in the morning, such as an energising sun-salutation or cat-cow pose, can wake up the whole mind-body element. It thus builds focus for the rest of the day and leaves you feeling _____ and ready. It also _____ awareness while doing so. This is a _____ that works backwards. You tend to sleep earlier as you are mindful of waking up early for the yoga class, so bedtime gets a higher priority in your life. Early morning yoga calms you down for the rest of the day by setting a steady tone. The breathing patterns are carried into the day leaving you _____ and relaxed.

This is a _____ that works backwards

Options:

- 1) shortcut
- 2) hymn
- 3) melody
- 4) mantra

Correct Answer: mantra**Candidate Answer:** hymn

QID : 200 - In the following passage some of the words have been left out. Read the passage carefully and select the correct answer for the given blank out of the four alternatives.

_____ to a simple yoga technique in the morning, such as an energising sun-salutation or cat-cow pose, can wake up the whole mind-body element. It thus builds focus for the rest of the day and leaves you feeling _____ and ready. It also _____ awareness while doing so. This is a _____ that works backwards. You tend to sleep earlier as you are mindful of waking up early for the yoga class, so bedtime gets a higher priority in your life. Early morning yoga calms you down for the rest of the day by setting a steady tone. The breathing patterns are carried into the day leaving you _____ and relaxed.

leaving you _____ and relaxed.

Options:

- 1) lazy
- 2) carefree
- 3) feeling at ease
- 4) spontaneous

Correct Answer: feeling at ease**Candidate Answer:** spontaneous

KnowledgePhilic.com

UPSC | SSC | Bank | Railway | Lic | Fci | DMRC