



**Staff Selection Commission**  
(Government Of India)

**REGISTRATION NUMBER :** [KnowledgePhilic.com](http://KnowledgePhilic.com)

**EXAM DATE :** 7-January-2017

**EXAM NAME :** SSC Examination 2016

**TOTAL MARKS :** 200

**CANDIDATE NAME :** [KnowledgePhilic.com](http://KnowledgePhilic.com)

**EXAM START TIME :** 10:00:00

**EXAM DURATION :** 01:15 Hrs

**TOTAL NO OF QUESTIONS :** 100

**QID : 1** - Select the related word/letters/number from the given alternatives.

Hirakund : Mahanadi :: Tehri Dam : ?

दिए गए विकल्पों में से संबंधित शब्द/अक्षर/संख्या को चुनिए।

हिराकुंड : महानदी :: टिहरी बाँध : ?

**Options:**

1) Damodar

दामोदर

2) Bhagirathi

भागीरथी

3) Yamuna

यमुना

4) Son

सोन

**Correct Answer:** Bhagirathi

भागीरथी

**Candidate Answer:** [ NOT ANSWERED ]

**QID : 2** - Select the related word/letters/number from the given alternatives.

LG : WM :: DC : ?

दिए गए विकल्पों में से संबंधित शब्द/अक्षर/संख्या को चुनिए।

LG : WM :: DC : ?

**Options:**

1) IJ

2) EF

3) GE

4) LI

**Correct Answer:** GE

**Candidate Answer:** GE

**QID : 3** - Select the related word/letters/number from the given alternatives.

IM : RZ :: HF : ?

दिए गए विकल्पों में से संबंधित शब्द/अक्षर/संख्या को चुनिए।

IM : RZ :: HF : ?

**Options:**

1) MP

2) OK

3) PL

4) QR

**Correct Answer:** PL

**Candidate Answer:** PL

**QID : 4** - Select the related word/letters/number from the given alternatives.

16 : 40 :: 20 : ?

दिए गए विकल्पों में से संबंधित शब्द/अक्षर/संख्या को चुनिए।

16 : 40 :: 20 : ?

**Options:**

1) 29

2) 21

3) 50

4) 60

**Correct Answer:** 50

**Candidate Answer:** [ NOT ANSWERED ]

[Downloaded From www.KnowledgePhilic.com](http://www.KnowledgePhilic.com)

**QID : 5** - Find out the odd word/letters/number/number pair from the given alternatives.

दिए गए विकल्पों में से विषम शब्द/अक्षर/संख्या/संख्या युग्म चुनिए।

**Options:**

- 1) Mohammad Azharuddin  
मोहम्मद अज़हरुद्दीन
- 2) Sunil Gavaskar  
सुनील गावस्कर
- 3) Dhyan Chand  
ध्यान चंद
- 4) Yuvraj Singh  
युवराज सिंह

**Correct Answer:** Dhyan Chand

ध्यान चंद

**Candidate Answer:** Dhyan Chand

ध्यान चंद

**QID : 6** - Find out the odd word/letters/number/number pair from the given alternatives.

दिए गए विकल्पों में से विषम शब्द/अक्षर/संख्या/संख्या युग्म चुनिए।

**Options:**

- 1) EV
- 2) GT
- 3) JQ
- 4) MO

**Correct Answer:** MO

**Candidate Answer:** MO

**QID : 7** - Find out the odd word/letters/number/number pair from the given alternatives.

दिए गए विकल्पों में से विषम शब्द/अक्षर/संख्या/संख्या युग्म चुनिए।

**Options:**

- 1) 4246
- 2) 8314
- 3) 9546
- 4) 7284

**Correct Answer:** 8314

**Candidate Answer:** [ NOT ANSWERED ]

**QID : 8** - Find out the odd word/letters/number/number pair from the given alternatives.

दिए गए विकल्पों में से विषम शब्द/अक्षर/संख्या/संख्या युग्म चुनिए।

**Options:**

- 1) 78, 26
- 2) 19, 20
- 3) 20, 40
- 4) 36, 12

**Correct Answer:** 19, 20

**Candidate Answer:** [ NOT ANSWERED ]

**QID : 9** - A series is given with one term missing. Choose the correct alternative from the given ones that will complete the series.

Constable, Head constable, ? , Inspector

एक अनुक्रम दिया गया है, जिसमें से एक पद लुप्त है। दिए गए विकल्पों में से वह सही विकल्प चुनिए जो अनुक्रम को पूरा करे।

कांस्टेबल, हेड कांस्टेबल, ? , इंस्पेक्टर

**Options:**

- 1) Deputy Superintendent of Police  
पुलिस उपाधीक्षक
- 2) Superintendent of Police  
पुलिस अधीक्षक
- 3) Sub-inspector  
उप निरीक्षक
- 4) Assistant Commissioner of Police  
सहायक पुलिस आयुक्त

**Correct Answer:** Sub-inspector

उप निरीक्षक

**Candidate Answer:** Sub-inspector

उप निरीक्षक

**QID : 10** - A series is given with one term missing. Choose the correct alternative from the given ones that will complete the series.

3, 6, 9, 36, 41, ?

एक अनुक्रम दिया गया है, जिसमें से एक पद लुप्त है। दिए गए विकल्पों में से वह सही विकल्प चुनिए जो अनुक्रम को पूरा करे।

3, 6, 9, 36, 41, ?

KnowledgePhilic.com

UPSC | SSC | Bank | Railway | Lic | Fci | DMRC

Downloaded From [www.KnowledgePhilic.com](http://www.KnowledgePhilic.com)

**Options:**

- 1) 244
- 2) 225
- 3) 246
- 4) 410

**Correct Answer:** 246**Candidate Answer:** [ NOT ANSWERED ]

**QID : 11** - In the following question, two statements are given each followed by two conclusions I and II. You have to consider the statements to be true even if they seem to be at variance from commonly known facts. You have to decide which of the given conclusions, if any, follows from the given statements.

Statements:

- (I) Some scooters are trucks.  
(II) All trucks are trains.

Conclusion:

- (I) Some scooters are trains.  
(II) No truck is a scooter.

निम्नलिखित प्रश्न में, दो कथन दिए गए हैं जिनके आगे दो निष्कर्ष I और II निकाले गए हैं। आपको मानना है कि कथन सत्य है चाहे वे सामान्यतः ज्ञात तथ्यों से भिन्न प्रतीत होते हों। आपको निर्णय करना है कि दिए गए निष्कर्षों में से कौन सा/कौन से निश्चित रूप से कथनों द्वारा सही निकाला जा सकता है/सकते हैं, यदि कोई हो।

कथन:

- (I) कुछ स्कूटर, ट्रक हैं।  
(II) सभी ट्रक, रेलगाड़ी हैं।

निष्कर्ष:

- (I) कुछ स्कूटर, रेलगाड़ी हैं।  
(II) कोई ट्रक, स्कूटर नहीं है।

**Options:**

- 1) Conclusion I follows  
निष्कर्ष I सही है
- 2) Conclusion II follows  
निष्कर्ष II सही है
- 3) Neither I nor II follows  
न तो I और न ही II सही है
- 4) Both I and II follows  
I और II दोनों सही हैं

**Correct Answer:** Conclusion I follows

निष्कर्ष I सही है

**Candidate Answer:** Conclusion I follows

निष्कर्ष I सही है

KnowledgePhilic.com

UPSC | SSC | Bank | Railway | Lic | Fci | DMRC

**QID : 12** - A series is given with one term missing. Choose the correct alternative from the given ones that will complete the series.

JLN, RTV, ZBD, ?

एक अनुक्रम दिया गया है, जिसमें से एक पद लुप्त है। दिए गए विकल्पों में से वह सही विकल्प चुनिए जो अनुक्रम को पूरा करे।

JLN, RTV, ZBD, ?

**Options:**

- 1) SUW
- 2) HJL
- 3) GHI
- 4) TVX

**Correct Answer:** HJL**Candidate Answer:** HJL

**QID : 13** - A series is given with one term missing. Choose the correct alternative from the given ones that will complete the series.

XV, BA, JK, ?

एक अनुक्रम दिया गया है, जिसमें से एक पद लुप्त है। दिए गए विकल्पों में से वह सही विकल्प चुनिए जो अनुक्रम को पूरा करे।

XV, BA, JK, ?

**Options:**

- 1) MP
- 2) VS
- 3) VZ
- 4) UD

**Correct Answer:** VZ**Candidate Answer:** [ NOT ANSWERED ]

**QID : 14** - If yesterday was Tuesday, then what day of the week will the tenth day from today be?

यदि कल मंगलवार था, तो आज से दसवाँ दिन सप्ताह का कौन-सा दिन होगा?

Downloaded From [www.KnowledgePhilic.com](http://www.KnowledgePhilic.com)

**Options:**

- 1) Friday  
शुक्रवार
- 2) Sunday  
रविवार
- 3) Monday  
सोमवार
- 4) Saturday  
शनिवार

**Correct Answer:** Saturday  
शनिवार

**Candidate Answer:** Friday  
शुक्रवार

**QID : 15** - Arrange the given words in the sequence in which they occur in the dictionary.

- i. Collaborate
- ii. Constant
- iii. Correspondence
- iv. Combination

निम्नलिखित शब्दों को शब्दकोश में आने वाले क्रम के अनुसार लिखें।

- i. Collaborate
- ii. Constant
- iii. Correspondence
- iv. Combination

**Options:**

- 1) iv, ii, i, iii
- 2) iii, ii, iv, i
- 3) iv, iii, i, ii
- 4) i, iv, ii, iii

**Correct Answer:** i, iv, ii, iii

**Candidate Answer:** i, iv, ii, iii

**QID : 16** - In a certain code language, 'TAPERECORDER' is written as '!#&@^@?%^+@^'. How is 'REPORT' written in that code language?

एक विशिष्ट कोड भाषा में 'TAPERECORDER' को '!#&@^@?%^+@^' लिखा जाता है। इस कोड भाषा में 'REPORT' को किस प्रकार लिखा जाएगा?

**Options:**

- 1) ^@&^%!
- 2) ^@&%!
- 3) ^@&%^!
- 4) ^@%&^!

**Correct Answer:** ^@&%^!

**Candidate Answer:** ^@&%^!

**QID : 17** -

In the following question, select the missing number from the given series.

निम्नलिखित प्रश्न में दिए गए विकल्पों में से लुप्त अंक ज्ञात कीजिए।

13	169	961
15	?	2601
12	144	441

**Options:**

- 1) 81
- 2) 361
- 3) 289
- 4) 225

**Correct Answer:** 225

**Candidate Answer:** 225

**QID : 18** - If "\*" denotes "added to", "&" denotes "divided by", "@" denotes "multiplied by" and "%" denotes "subtracted from", then  $153 \& 17 @ 6 \% 9 * 18 = ?$

यदि "\*" का अर्थ "जोड़" है, "&" का अर्थ "भाग" है, "@" का अर्थ "गुणा" है और "%" का अर्थ "घटाना" है, तो  $153 \& 17 @ 6 \% 9 * 18 = ?$

[Downloaded From www.KnowledgePhilic.com](http://www.KnowledgePhilic.com)

**Options:**

- 1) 63
- 2) 98
- 3) 93
- 4) 10

**Correct Answer:** 63**Candidate Answer:** 63**QID : 19** - In the following question, which one set of letters when sequentially placed at the gaps in the given letter series shall complete it?

d\_fde\_\_deee\_

निम्नलिखित प्रश्न में अक्षरों का कौन सा समूह खाली स्थानों पर क्रमवार रखने से दी गई अक्षर श्रृंखला को पूरा करेगा?

d\_fde\_\_deee\_

**Options:**

- 1) eeff
- 2) cdef
- 3) ddee
- 4) deee

**Correct Answer:** eeff**Candidate Answer:** [ NOT ANSWERED ]**QID : 20** - A man travels 25 km towards the west and then turns 90° to his left and travels another 4 km. Finally, he turns left and covers 25 km. In which direction is he now from his original position?

एक व्यक्ति पश्चिम दिशा की ओर 25 कि.मी. जाता है और फिर 90 डिग्री पर अपने बाएं मुड़कर 4 कि.मी जाता है। अंत में, वह बाएं मुड़कर 25 कि.मी. जाता है। वह अब अपने मूल स्थान से किस दिशा में है?

**Options:**

- 1) West  
पश्चिम
- 2) East  
पूर्व
- 3) South  
दक्षिण
- 4) North  
उत्तर

**Correct Answer:** South

दक्षिण

**Candidate Answer:** South

दक्षिण

# KnowledgePhilic.com

UPSC | SSC | Bank | Railway | Lic | Fci | DMRC

**QID : 21 -**

A word is represented by only one set of numbers as given in any one of the alternatives. The sets of numbers given in the alternatives are represented by two classes of alphabets as shown in the given two matrices. The columns and rows of Matrix-I are numbered from 0 to 4 and that of Matrix-II are numbered from 5 to 9. A letter from these matrices can be represented first by its row and next by its column, for example, 'N' can be represented by 21, 67 etc. and 'R' can be represented by 66, 57 etc. Similarly, you have to identify the set for the word 'HUNT'.

एक शब्द केवल एक संख्या-समूह द्वारा दर्शाया गया है, जैसा कि विकल्पों में से किसी एक में दिया गया है। विकल्पों में दिए गए संख्या-समूह अक्षरों के दो वर्गों द्वारा दर्शाए गए हैं, जैसा कि दिए गए दो आव्यूहों में है। आव्यूह-I के स्तम्भ और पंक्ति की संख्या 0 से 4 और आव्यूह-II की 5 से 9 है। इन आव्यूहों से एक अक्षर को पहले उसकी पंक्ति और बाद में स्तम्भ संख्या द्वारा दर्शाया जा सकता है। उदाहरण के लिए 'N' को 21, 67 आदि द्वारा दर्शाया जा सकता है तथा 'R' को 66, 57 आदि द्वारा दर्शाया जा सकता है। इसी तरह से आपको प्रश्न में दिए शब्द 'HUNT' के लिए समूह को पहचानना है।

Matrix-I  
आव्यूह - I

	0	1	2	3	4
0	T	R	A	N	B
1	W	U	N	H	U
2	E	N	S	G	U
3	N	Y	P	U	M
4	H	T	U	F	A

Matrix-II  
आव्यूह - II

	5	6	7	8	9
5	T	A	R	I	H
6	X	R	N	W	B
7	C	S	Y	E	U
8	S	N	T	M	S
9	G	B	E	R	H

**Options:**

- 1) 40, 33, 03, 88
- 2) 99, 23, 56, 00
- 3) 59, 42, 12, 79
- 4) 13, 11, 30, 41

**Correct Answer:** 13, 11, 30, 41

**Candidate Answer:** 13, 11, 30, 41

**QID : 22 -** Introducing a girl, a man says, "She is the daughter of the daughter of my wife". How is man related to the girl?

एक लड़की का परिचय कराते हुए एक व्यक्ति कहता है, "वह मेरी पत्नी की बेटी की बेटी है।" वह व्यक्ति उस लड़की से कैसे संबंधित है?

**Options:**

- 1) Maternal uncle  
मामा
- 2) Son  
बेटा
- 3) Maternal grandfather  
नाना
- 4) Father  
पिता

**Correct Answer:** Maternal grandfather

नाना

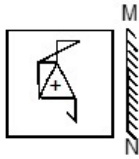
**Candidate Answer:** Maternal grandfather

नाना

**QID : 23 -**

If a mirror is placed on the line MN, then which of the answer figures is the right image of the given figure?

यदि एक दर्पण को MN रेखा पर रखा जाए, तो दी गई उत्तर आकृतियों में से कौन सी आकृति प्रश्न आकृति का सही प्रतिबिम्ब होगी?

**Options:**

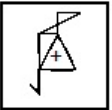
1)



2)



3)



4)

**Correct Answer:****Candidate Answer:****QID : 24 -** Identify the diagram that best represents the relationship among the given classes.

Olympic games, Tennis, Wrestling, Ludo

वह आरेख चुनिए जो नीचे दिए गए वर्गों के बीच के संबंध का सही निरूपण करता है।

ओलंपिक खेल, टेनिस, कुश्ती, लुडो

# KnowledgePhilic.com

UPSC | SSC | Bank | Railway | Lic | Fci | DMRC

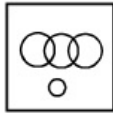
Downloaded From [www.KnowledgePhilic.com](http://www.KnowledgePhilic.com)

**Options:**


1)



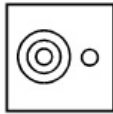
2)



3)



4)

**Correct Answer:****Candidate Answer:**

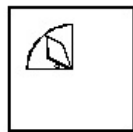
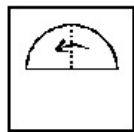
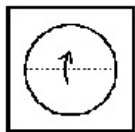
# KnowledgePhilic.com

UPSC | SSC | Bank | Railway | Lic | Fci | DMRC

**QID : 25 -**

A piece of paper is folded and punched as shown below in the question figures. From the given answer figures, indicate how it will appear when opened.

नीचे प्रश्न आकृतियों में दशयि अनुसार कागज को मोड़कर छेदने तथा खोलने के बाद वह किस उत्तर आकृति जैसा दिखाई देगा?





**Options:**

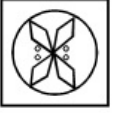
1)



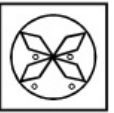
2)



3)



4)

**Correct Answer:****Candidate Answer:**

# KnowledgePhilic.com

UPSC | SSC | Bank | Railway | Lic | Fci | DMRC

**QID : 26** - Group of 4 bits forms a

4 बिट्स का एक समूह एक \_\_\_\_\_ बनाता है।

**Options:**

1) Byte

बाईट

2) Nibble

निबल

3) Gigabyte

गीगाबाइट

4) Terabyte

टेराबाइट

**Correct Answer:** Nibble

निबल

**Candidate Answer:** Byte

बाईट

**QID : 27** - Barograph was invented by

वायुदाबलेखी (बैरोग्राफ़) का \_\_\_\_\_ द्वारा आविष्कार किया गया था।

**Options:**

1) Lucien Vidi

लूसियां वीदी

2) John Venn

जॉन वेन

3) Theophilus Van Kannel

थियोफ़िलस वान केनल

4) Lewis Urry

लुईस उरी

**Correct Answer:** Lucien Vidi

लूसियां वीदी

**Candidate Answer:** [ NOT ANSWERED ]

[Downloaded From www.KnowledgePhilic.com](http://www.KnowledgePhilic.com)

**QID : 28** - Diabetes is caused by

मधुमेह होने का कारण है

**Options:**

- 1) Excess of insulin  
इंसुलिन की बहुलता
- 2) Low production of Insulin  
इंसुलिन का कम उत्पादन
- 3) Malfunction of liver  
यकृत के कार्य में गड़बड़ी होना
- 4) Higher production of bilirubin  
बिलिरुबिन का उच्चतर उत्पादन

**Correct Answer:** Low production of Insulin

इंसुलिन का कम उत्पादन

**Candidate Answer:** [ NOT ANSWERED ]

**QID : 29** - Tectona grandis Linn is the scientific name of

टेक्टोना ग्रैंडिस लिन \_\_\_\_\_ का वैज्ञानिक नाम है।

**Options:**

- 1) Guava  
अमरूद
- 2) Teak  
सागौन
- 3) Amla  
आंवला
- 4) Chiku  
चीकू

**Correct Answer:** Teak

सागौन

**Candidate Answer:** [ NOT ANSWERED ]

**QID : 30** - Sea-Anemones belongs to the phylum

सी-एनीमोन्स \_\_\_\_\_ प्रजाति के अंतर्गत आते हैं।

**Options:**

- 1) Arthropoda  
एन्थ्रोपोडा
- 2) Cnidaria  
नीडेरिया
- 3) Porifera  
पोरीफेरा
- 4) Mollusca  
मोलस्क

**Correct Answer:** Cnidaria

नीडेरिया

**Candidate Answer:** [ NOT ANSWERED ]

**QID : 31** - Which among the following is present inside the nucleus of an atom?

निम्नलिखित में से कौन किसी परमाणु के केन्द्रक के अंदर स्थित होते हैं?

**Options:**

- 1) Protons and Neutrons  
प्रोटॉन्स और न्यूट्रॉन्स
- 2) Electrons and Protons  
इलेक्ट्रॉन्स और प्रोटॉन्स
- 3) Neutrons and Electrons  
न्यूट्रॉन्स और इलेक्ट्रॉन्स
- 4) Neutrons, Protons, Electrons  
न्यूट्रॉन्स, प्रोटॉन्स, इलेक्ट्रॉन्स

**Correct Answer:** Protons and Neutrons

प्रोटॉन्स और न्यूट्रॉन्स

**Candidate Answer:** [ NOT ANSWERED ]

**QID : 32** - What is baking soda?

बेकिंग सोडा क्या होता है?

**Options:**

- 1) Aluminium bicarbonate  
एल्युमिनियम बाइकार्बोनेट
- 2) Sodium isolate  
सोडियम आयसोलेट
- 3) Sodium bicarbonate  
सोडियम बाइकार्बोनेट
- 4) Aluminium sulphate  
एल्युमिनियम सल्फेट

**Correct Answer:** Sodium bicarbonate

सोडियम बाइकार्बोनेट

**Candidate Answer:** Sodium bicarbonate

सोडियम बाइकार्बोनेट

KnowledgePhilic.com

UPSC | SSC | Bank | Railway | Lic | Fci | DMRC

Downloaded From [www.KnowledgePhilic.com](http://www.KnowledgePhilic.com)

**QID : 33** - Elephanta Caves is in

एलीफेंटा की गुफाएं \_\_\_\_\_ में है।

**Options:**

1) Maharashtra

महाराष्ट्र

2) Orissa

ओडिशा

3) Rajasthan

राजस्थान

4) Sikkim

सिक्किम

**Correct Answer:** Maharashtra

महाराष्ट्र

**Candidate Answer:** Maharashtra

महाराष्ट्र

**QID : 34** - Which of the following is a classical dance from North India?

निम्न में से कौन सा उत्तर भारत का एक शास्त्रीय नृत्य है?

**Options:**

1) Bharatanatyam

भरतनाट्यम

2) Kuchipudi

कुचिपुडी

3) Kathak

कथक

4) Kathakali

कथकली

**Correct Answer:** Kathak

कथक

**Candidate Answer:** [ NOT ANSWERED ]

**QID : 35** - If demand curve for camping tents is  $D = 100000 - 17P$  and supply curve is  $S = 50000 + 8P$ , find the equilibrium Price?

यदि कैम्पिंग टेंट के लिए मांग वक्र है  $D = 100000 - 17P$  और आपूर्ति वक्र  $S = 50000 + 8P$  तो संतुलन कीमत ज्ञात करें।

**Options:**

1) Rs. 1000

रु. 1000

2) Rs. 2000

रु. 2000

3) Rs. 4000

रु. 4000

4) Rs. 500

रु. 500

**Correct Answer:** Rs. 2000

रु. 2000

**Candidate Answer:** Rs. 2000

रु. 2000

**QID : 36** - Value of Total Goods and Services produced in a country is its \_\_\_\_\_ .

किसी देश में उत्पादन किये गये संपूर्ण सामान और सेवाओं का मूल्य उसका \_\_\_\_\_ कहलाता है।

**Options:**

1) Gross Domestic Product

सकल घरेलू उत्पाद

2) Gross Revenue Income

सकल राजस्व आय

3) Total Goods Revenue

कुल सामान का राजस्व

4) Total Income

कुल आय

**Correct Answer:** Gross Domestic Product

सकल घरेलू उत्पाद

**Candidate Answer:** Total Goods Revenue

कुल सामान का राजस्व

**QID : 37** - Dissolved oxygen in rivers is close to \_\_\_\_\_ parts per million.

नदियों में घुली हुई ऑक्सीजन की मात्रा प्रति मिलियन \_\_\_\_\_ भाग होती है।

**Options:**

1) 125

2) 25

3) 5

4) 0

**Correct Answer:** 5

[Downloaded From www.KnowledgePhilic.com](http://www.KnowledgePhilic.com)

**Candidate Answer:** [ NOT ANSWERED ]

**QID : 38** - Which of the following is also known as a Common Water Hyacinth?

निम्नलिखित में से किसे आम जलकुभी भी कहा जाता है?

**Options:**

- 1) Pistia  
पिस्टिया
- 2) Opuntia  
ओपुंशिया
- 3) Aegilops  
एजिलोप्स
- 4) Echhornia  
एकोर्निया

**Correct Answer:** Echhornia

एकोर्निया

**Candidate Answer:** [ NOT ANSWERED ]

**QID : 39** - Rukmini Devi Arundale is associated with \_\_\_\_\_.

रुक्मिणी देवी अरुंडेल \_\_\_\_\_ के साथ जुड़ी हुई हैं।

**Options:**

- 1) Kathak  
कथक
- 2) Bharatnatyam  
भरतनाट्यम
- 3) Kuchipudi  
कुचिपुड़ी
- 4) Bhangra  
भांगड़ा

**Correct Answer:** Bharatnatyam

भरतनाट्यम

**Candidate Answer:** [ NOT ANSWERED ]

**QID : 40** - Which state does not share a common border with Haryana?

कौन सा राज्य हरियाणा के साथ अपनी सीमा साझा नहीं करता?

**Options:**

- 1) Uttar Pradesh  
उत्तरप्रदेश
- 2) Madhya Pradesh  
मध्यप्रदेश
- 3) Himachal Pradesh  
हिमाचल प्रदेश
- 4) Rajasthan  
राजस्थान

**Correct Answer:** Madhya Pradesh

मध्यप्रदेश

**Candidate Answer:** Madhya Pradesh

मध्यप्रदेश

**QID : 41** - Which planet is also referred to as a "Dwarf planet"?

किस ग्रह को एक "बौना ग्रह" कहकर भी संबोधित किया जाता है?

**Options:**

- 1) Pluto  
प्लूटो
- 2) Mercury  
बुध
- 3) Jupiter  
बृहस्पति
- 4) Saturn  
शनि

**Correct Answer:** Pluto

प्लूटो

**Candidate Answer:** Pluto

प्लूटो

**QID : 42** - Who was the founder of the Brahma Samaj, founded in 1828?

वर्ष 1828 में स्थापित ब्रह्म समाज के संस्थापक कौन थे?

**Options:**

- 1) Rabindranath Tagore  
रबिन्द्रनाथ टैगोर
- 2) Subhash Chandra Bose  
सुभाषचंद्र बोस
- 3) Sardar Vallabh Bhai Patel  
सरदार वल्लभभाई पटेल
- 4) Raja Ram Mohan Roy  
राजा राममोहन रॉय

[Downloaded From www.KnowledgePhilic.com](http://www.KnowledgePhilic.com)

**Correct Answer:** Raja Ram Mohan Roy

राजा राममोहन रॉय

**Candidate Answer:** [ NOT ANSWERED ]

**QID : 43** - Shah Jahan built Taj Mahal in memory of \_\_\_\_\_.

शाहजहाँ ने ताजमहल का निर्माण \_\_\_\_\_ की याद में करवाया था।

**Options:**

1) Ruqayya Sultan Begum

रुकय्या सुल्तान बेगम

2) Jodha Bai

जोधबाई

3) Mumtaz Mahal

मुमताज महल

4) Nur Jahan

नूरजहाँ

**Correct Answer:** Mumtaz Mahal

मुमताज महल

**Candidate Answer:** Nur Jahan

नूरजहाँ

**QID : 44** - Which actor won the best actor award in the 1st Filmfare Awards?

प्रथम फिल्मफेयर अवार्ड्स में किस अभिनेता ने सर्वश्रेष्ठ अभिनेता का अवार्ड जीता था?

**Options:**

1) Dev Anand

देवआनंद

2) Rajesh Khanna

राजेश खन्ना

3) Dilip Kumar

दिलीप कुमार

4) Amitabh Bachchan

अमिताभ बच्चन

**Correct Answer:** Dilip Kumar

दिलीप कुमार

**Candidate Answer:** [ NOT ANSWERED ]

**QID : 45** - Which of the following physical quantities is a scalar quantity?

निम्नलिखित भौतिक मात्राओं में से कौन सी एक अदिश राशि है?

**Options:**

1) Weight

भार

2) Impulse

आवेग

3) Young's Modulus

यंग का मापांक

4) acceleration

त्वरण

**Correct Answer:** Young's Modulus

यंग का मापांक

**Candidate Answer:** Weight

भार

**QID : 46** - Which among the following elements is a liquid at room temperature?

निम्नलिखित तत्वों में से कौन सा तत्व कमरे के तापमान पर द्रव रूप में होता है?

**Options:**

1) Phosphorus

फास्फोरस

2) Mercury

पारा

3) Sodium

सोडियम

4) Aluminium

एल्युमिनियम

**Correct Answer:** Mercury

पारा

**Candidate Answer:** Mercury

पारा

**QID : 47** - How many maximum terms, a person can serve as Prime Minister of India?

कोई भी व्यक्ति भारतीय प्रधानमंत्री के रूप में अधिकतम कितनी बार सेवारत हो सकता है?

KnowledgePhilic.com

UPSC | SSC | Bank | Railway | Lic | Fci | DMRC

**Options:**

1) 3

2) 5

3) 7

4) No limit

कोई सीमा नहीं है।

**Correct Answer:** No limit

कोई सीमा नहीं है।

**Candidate Answer:** No limit

कोई सीमा नहीं है।

**QID : 48** - If the president declares emergency then this proclamation must be approved by the Parliament within \_\_\_\_\_.

यदि राष्ट्रपति आपातकाल की घोषणा करते हैं, तो इस उद्घोषणा को संसद द्वारा \_\_\_\_\_ के भीतर समर्थन देना जरूरी है।

**Options:**

1) 1 year

1 साल

2) 6 months

6 माह

3) 3 months

3 माह

4) one month

1 माह

**Correct Answer:** one month

1 माह

**Candidate Answer:** one month

1 माह

**QID : 49** - Deepika Kumari is associated with \_\_\_\_\_.

दीपिका कुमारी \_\_\_\_\_ से संबंधित है।

**Options:**

1) Archery

तीरंदाजी

2) Wrestling

कुश्ती

3) Boxing

मुक्केबाजी

4) Swimming

तैराकी

**Correct Answer:** Archery

तीरंदाजी

**Candidate Answer:** Archery

तीरंदाजी

**QID : 50** - The Arthashastra was written by

अर्थशास्त्र \_\_\_\_\_ ने लिखा था।

**Options:**

1) Chanakya

चाणक्य

2) Kalidasa

कालिदास

3) Harsha Vardhana

हर्षवर्धन

4) Vatsyayana

वात्सायन

**Correct Answer:** Chanakya

चाणक्य

**Candidate Answer:** Kalidasa

कालिदास

**QID : 51** - In  $\Delta ABC$ , D and E are points on side AB and AC respectively. DE is parallel to BC. If lengths of AD, DB and DE are 10 cm, 5 cm and 6 cm respectively. What is the length of BC? $\Delta ABC$  में, D और E क्रमशः AB और AC पर स्थित बिंदु हैं। DE, BC के समानांतर है। यदि AD, DB और DE की लंबाई क्रमशः 10 से.मी., 5 से.मी. और 6 से.मी. है तो BC की लंबाई क्या है?**Options:**

1) 9 cm

9 से.मी.

2) 2 cm

2 से.मी.

3) 3 cm

3 से.मी.

4) 11 cm

11 से.मी.

**Correct Answer:** 9 cm

9 से.मी.

[Downloaded From www.KnowledgePhilic.com](http://www.KnowledgePhilic.com)

**Candidate Answer:** 9 cm  
9 से.मी.

**QID : 52** - If  $2x - 1 < 5x + 2$  and  $2x + 5 < 6 - 3x$ , then  $x$  can take which of the following values?

यदि  $2x - 1 < 5x + 2$  और  $2x + 5 < 6 - 3x$ , फिर  $x$  का निम्न मानों में से क्या मान होगा?

**Options:**

- 1) 1
- 2) 0
- 3) 2
- 4) -2

**Correct Answer:** 0

**Candidate Answer:** [ NOT ANSWERED ]

**QID : 53** - A carpenter can build a cupboard in 60 hours. After 15 hours he takes a break. What fraction of the cupboard is yet to be built?

एक बढ़ई एक अलमारी को 60 घंटे में बनाता है। 15 घंटे बाद वह विराम लेता है। अलमारी का कितना भाग अभी भी बनाना बाकी है?

**Options:**

- 1) 0.5
- 2) 0.9
- 3) 0.75
- 4) 0.25

**Correct Answer:** 0.75

**Candidate Answer:** [ NOT ANSWERED ]

**QID : 54** - There is 75% increase in an amount in 5 years at simple interest. What will be the compound interest of Rs 40000 after 2 years at the same rate?

एक राशि में 5 वर्षों में साधारण ब्याज पर 75% की वृद्धि होती है। उसी दर पर 2 वर्षों में 40000 रुपयों का चक्रवृद्धि ब्याज कितना होगा?

**Options:**

- 1) Rs 25800  
25800 रु
- 2) Rs 32250  
32250 रु
- 3) Rs 12900  
12900 रु
- 4) Rs 19350  
19350 रु

**Correct Answer:** Rs 12900  
12900 रु

**Candidate Answer:** Rs 12900  
12900 रु

**QID : 55** - Which of the following equations has the sum of its roots as 5?

निम्नलिखित समीकरणों में से किसके मूल का योग 5 है?

**Options:**

- 1)  $x^2 - 5x + 6 = 0$
- 2)  $x^2 - 5x - 6 = 0$
- 3)  $x^2 + 5x + 6 = 0$
- 4)  $x^2 + 5x - 6 = 0$

**Correct Answer:**  $x^2 - 5x + 6 = 0$

**Candidate Answer:** [ NOT ANSWERED ]

**QID : 56** - The base angle of an isosceles trapezium is  $45^\circ$ . If the shorter side and both the equal sides are 10 cm each, what is the area of the trapezium?

एक समद्विबाहु समलम्ब के आधार का कोण  $45^\circ$  है। यदि छोटी भुजा और दो बराबर भुजाएँ प्रत्येक 10 से.मी. हैं, तो उस समलम्ब का क्षेत्रफल क्या होगा?

**Options:**

- 1)  $50\sqrt{2} + 50$  sq cm  
 $50\sqrt{2} + 50$  वर्ग से.मी.
- 2)  $50\sqrt{2} + 100$  sq cm  
 $50\sqrt{2} + 100$  वर्ग से.मी.
- 3)  $100\sqrt{2} + 50$  sq cm  
 $100\sqrt{2} + 50$  वर्ग से.मी.
- 4)  $100\sqrt{2} + 100$  sq cm  
 $100\sqrt{2} + 100$  वर्ग से.मी.

**Correct Answer:**  $50\sqrt{2} + 50$  sq cm  
 $50\sqrt{2} + 50$  वर्ग से.मी.

**Candidate Answer:** [ NOT ANSWERED ]

**QID : 57** - Rahul sells a machine for Rs 50 lakhs at a loss. Had he sold it for Rs 60 lakh, his gain would have been 7 times the earlier loss. What is the cost price of the machine?

राहुल एक मशीन 50 लाख रुपए में घाटे में बेच रहा है। यदि उसका 60 लाख में बेचा होता, तो उसका लाभ उसकी पूर्व घाटे का 7 गुना होता। मशीन का क्या मूल्य है?

KnowledgePhilic.com

UPSC | SSC | Bank | Railway | Lic | Fci | DMRC

Downloaded From [www.KnowledgePhilic.com](http://www.KnowledgePhilic.com)

**Options:**

- 1) Rs 51.25 lakhs  
51.25 लाख रु
- 2) Rs 58.75 lakhs  
58.75 लाख रु
- 3) Rs 67.14 lakhs  
67.14 लाख रु
- 4) Rs 43.75 lakhs  
43.75 लाख रु

**Correct Answer:** Rs 51.25 lakhs  
51.25 लाख रु

**Candidate Answer:** [ NOT ANSWERED ]

**QID : 58** - If the radius of a circle is increased by 27%, then its area will increase by

यदि एक वृत्त की त्रिज्या में 27% की वृद्धि की जाती है, तो उसका क्षेत्रफल कितने प्रतिशत बढ़ जाएगा?

**Options:**

- 1) 61.29 percent  
61.29 प्रतिशत
- 2) 54 percent  
54 प्रतिशत
- 3) 27 percent  
27 प्रतिशत
- 4) 30.645 percent  
30.645 प्रतिशत

**Correct Answer:** 61.29 percent  
61.29 प्रतिशत

**Candidate Answer:** 54 percent  
54 प्रतिशत

**QID : 59** - If Girilal's salary is 11/7 times of Hariram's and Shekhar's is 3/4 times of Hariram's, what is the ratio of Girilal's salary to Shekhar's salary.

यदि गिरिलाल का वेतन हरिराम के वेतन से 11/7 गुना है और शेखर का वेतन हरिराम के वेतन से 3/4 गुना है, तो गिरिलाल के वेतन का शेखर के वेतन से अनुपात क्या होगा?

**Options:**

- 1) 44:21
- 2) 28:33
- 3) 33:28
- 4) 21:44

**Correct Answer:** 44:21

**Candidate Answer:** 44:21

KnowledgePhilic.com

UPSC | SSC | Bank | Railway | Lic | Fci | DMRC

**QID : 60** -  $(\cos A + \sin A)^2 + (\cos A - \sin A)^2$  is equals to

$(\cos A + \sin A)^2 + (\cos A - \sin A)^2$  किसके बराबर है?

**Options:**

- 1) 1
- 2) 1/2
- 3) 2
- 4) 0

**Correct Answer:** 2

**Candidate Answer:** 2

**QID : 61** - If a merchant offers a discount of 20% on the list price, then she makes a loss of 16%. What % profit or % loss will she make if she sells goods at a discount of 10% of the list price?

यदि एक व्यापारी सूची मूल्य पर 20% की छूट प्रदान करती है, तो उसे 16% का नुकसान होता है। यदि वह सूची मूल्य पर 10% की छूट पर माल बेचती है तो उसे कितने % लाभ या कितने % हानि होगी?

**Options:**

- 1) 14 percent profit  
14 प्रतिशत लाभ
- 2) 20 percent profit  
20 प्रतिशत लाभ
- 3) 50 percent profit  
50 प्रतिशत लाभ
- 4) 5.5 percent loss  
5.5 प्रतिशत हानि

**Correct Answer:** 5.5 percent loss  
5.5 प्रतिशत हानि

**Candidate Answer:** [ NOT ANSWERED ]

**QID : 62** - The sum of all prime numbers between 30 and 42 is

30 और 42 के बीच की सभी अविभाज्य संख्याओं का योग क्या है?

Downloaded From [www.KnowledgePhilic.com](http://www.KnowledgePhilic.com)



**Options:**

- 1) 103
- 2) 109
- 3) 105
- 4) 104

**Correct Answer:** 109**Candidate Answer:** 109**QID : 63** - The curved surface area of a hemisphere is 2772 sq cm and volume is 19404 cubic cm, what is its radius? (Take  $\pi = 22/7$ )एक अर्द्धगोल के घुमावदार सतह का क्षेत्रफल 2772 वर्ग से.मी. है और आयतन 19404 घन से.मी. है, इसकी त्रिज्या क्या है? ( $\pi = 22/7$  लीजिये)**Options:**

- 1) 42 cms  
42 से.मी.
- 2) 21 cms  
21 से.मी.
- 3) 10.5 cms  
10.5 से.मी.
- 4) 31.5 cms  
31.5 से.मी.

**Correct Answer:** 21 cms

21 से.मी.

**Candidate Answer:** [ NOT ANSWERED ]**QID : 64** - If  $\cos C - \cos D = x$ , then value of  $x$  isयदि  $\cos C - \cos D = x$ , तो  $x$  का मान क्या है ?**Options:**

- 1)  $2\sin[(C+D)/2]\cos[(C-D)/2]$
- 2)  $2\cos[(C+D)/2]\sin[(C-D)/2]$
- 3)  $2\sin[(C+D)/2]\sin[(D-C)/2]$
- 4)  $2\cos[(C+D)/2]\cos[(C-D)/2]$

**Correct Answer:**  $2\sin[(C+D)/2]\sin[(D-C)/2]$ **Candidate Answer:** [ NOT ANSWERED ]**QID : 65** - The value of  $x$  for which the expressions  $12 - 6x$  and  $4x + 2$  become equal is $x$  का मान क्या है, जिसके लिए समीकरण  $12 - 6x$  और  $4x + 2$  बराबर होंगे?**Options:**

- 1) 0
- 2) 2
- 3) 1
- 4) 4

**Correct Answer:** 1**Candidate Answer:** [ NOT ANSWERED ]**QID : 66** -  $\Delta DEF$  and  $\Delta GHI$  are similar triangles. Length of  $DE$  is 4 cm and length of the corresponding side  $GH$  is 9 cm. What is the ratio of areas of  $\Delta DEF$  and  $\Delta GHI$ ? $\Delta DEF$  और  $\Delta GHI$  समरूप त्रिभुज है।  $DE$  की लंबाई 4 से.मी. है और संगत भुजा  $GH$  की लंबाई 9 से.मी. है।  $\Delta DEF$  और  $\Delta GHI$  के क्षेत्रफलों का अनुपात क्या है?**Options:**

- 1) 81:16
- 2) 4:9
- 3) 16:81
- 4) 9:4

**Correct Answer:** 16:81**Candidate Answer:** 16:81**QID : 67** - To travel 816 km, an Express train takes 9 hours more than Rajdhani. If however, the speed of the Express train is doubled, it takes 4 hours less than Rajdhani. What is the speed of Rajdhani?

816 कि.मी. की यात्रा करने के लिए एक एक्सप्रेस ट्रेन राजधानी से 9 घंटे अधिक लेती है। यदि फिर एक्सप्रेस ट्रेन की गति दुगुनी कर दी जाती है, तो वह राजधानी की तुलना में 4 घंटे कम समय लेती है। राजधानी की गति क्या है?

**Options:**

- 1) 48 km/hr  
48 कि.मी./घंटा
- 2) 62.8 km/hr  
62.8 कि.मी./घंटा
- 3) 33.2 km/hr  
33.2 कि.मी./घंटा
- 4) 77.5 km/hr  
77.5 कि.मी./घंटा

**Correct Answer:** 48 km/hr

48 कि.मी./घंटा

[Downloaded From www.KnowledgePhilic.com](http://www.KnowledgePhilic.com)

**Candidate Answer:** [ NOT ANSWERED ]

**QID : 68** - What would be the equation of the line, which intercepts x-axis at -5 and is perpendicular to the line  $y = 2x + 3$ ?

उस रेखा का समीकरण क्या है, जो x-अक्ष को -5 पर काटती है और रेखा  $y = 2x + 3$  पर एक लंब है?

**Options:**

- 1)  $x - 2y = -5$
- 2)  $x + 2y = 5$
- 3)  $x + 2y = -5$
- 4)  $x - 2y = 5$

**Correct Answer:**  $x + 2y = -5$

**Candidate Answer:** [ NOT ANSWERED ]

**QID : 69** - If  $4pxy = (x + 2y)^2 - (x - 2y)^2$ , then what will be the value of p?

यदि  $4pxy = (x + 2y)^2 - (x - 2y)^2$  है, तो p का मान क्या होगा?

**Options:**

- 1) 0.5
- 2) 0.25
- 3) 4
- 4) 2

**Correct Answer:** 2

**Candidate Answer:** [ NOT ANSWERED ]

**QID : 70** - In the first 26 overs of a cricket match, the run rate was 5.4 runs/over. What is the required run rate in the remaining 24 overs to reach the target of 294 runs?

एक क्रिकेट मैच के पहले 26 ओवर में रन रेट 5.4 रन/ओवर था। शेष 24 ओवरों में 294 रन के लक्ष्य तक पहुँचने के लिए अपेक्षित रन रेट क्या होगा?

**Options:**

- 1) 7
- 2) 6.4
- 3) 7.6
- 4) 5.8

**Correct Answer:** 6.4

**Candidate Answer:** 5.8

**QID : 71** - What is the value of  $\tan^{-5\pi/6}$ ?

$\tan^{-5\pi/6}$  का मान क्या है?

**Options:**

- 1)  $-1/\sqrt{3}$
- 2)  $1/\sqrt{3}$
- 3)  $\sqrt{3}$
- 4)  $-\sqrt{3}$

**Correct Answer:**  $1/\sqrt{3}$

**Candidate Answer:**  $-1/\sqrt{3}$

**QID : 72** -

Refer the below data table and answer the following Question.

नीचे दिये गए डेटा तालिका के आधार पर निम्नलिखित प्रश्न का उत्तर दें।

	Number of employees कर्मचारियों की संख्या	Annual salary (in lakhs) वार्षिक वेतन (लाखों में)	Bonus as percent of annual salary वार्षिक वेतन के प्रतिशत के रूप में बोनस
Manager / प्रबंधक	1	48	40%
Executive / कार्यकारी	6	16	20%
Trainee / प्रशिक्षु	2	2	20%

What is the average bonus (in rupees)?

औसत बोनस (रुपये में) कितना है?

**Options:**

- 1) 3920004
- 2) 220000
- 3) 228000
- 4) 435556

**Correct Answer:** 435556

**Candidate Answer:** 220000

KnowledgePhilic.com

UPSC | SSC | Bank | Railway | Lic | Fci | DMRC

Downloaded From [www.KnowledgePhilic.com](http://www.KnowledgePhilic.com)

**QID : 73 -**

Refer the below data table and answer the following Question.

नीचे दिये गए डेटा तालिका के आधार पर निम्नलिखित प्रश्न का उत्तर दें।

	2011	2012	2013	2014	2015
Company A / कंपनी A	4000	3000	3000	1000	2000
Company B / कंपनी B	1000	1000	1000	5000	4000
Company C / कंपनी C	1000	1000	4000	2000	1000

For which of the following pairs of years the total exports from the three Companies together are equal?

(Note: Figures given are in lakh rupees)

निम्न में से वर्षों की कौन सी जोड़ी के लिए तीनों कंपनियों का कुल निर्यात बराबर है?  
(नोट: दिए गए आँकड़े लाख रुपए में हैं)

**Options:**

1) 2013 & 2014

2013 एवं 2014

2) 2013 & 2015

2013 एवं 2015

3) 2011 & 2012

2011 एवं 2012

4) 2014 & 2015

2014 एवं 2015

**Correct Answer:** 2013 & 2014

2013 एवं 2014

**Candidate Answer:** [ NOT ANSWERED ]

**QID : 74 -**

Refer the below data table and answer the following Question.

नीचे दिये गए डेटा तालिका के आधार पर निम्नलिखित प्रश्न का उत्तर दें।

Year वर्ष	Profit or (-Loss) in Rs Crore करोड़ रूपये में लाभ या (-नुकसान)
2011	5
2012	-5
2013	20
2014	5
2015	-5

What was the total Profit or Loss of the company in last 5 years?

पिछले पांच वर्षों में कंपनी का कुल लाभ या नुकसान कितना था?

**Options:**

1) Profit of Rs 30 crores

30 करोड़ रु का लाभ

2) Loss of Rs 20 crores

20 करोड़ रु का नुकसान

3) Loss of Rs 30 crores

30 करोड़ रु का नुकसान

4) Profit of Rs 20 crores

20 करोड़ रु का लाभ

**Correct Answer:** Profit of Rs 20 crores

20 करोड़ रु का लाभ

**Candidate Answer:** [ NOT ANSWERED ]

**QID : 75 -**

Refer the below data table and answer the following Question.

नीचे दिये गए डेटा तालिका के आधार पर निम्नलिखित प्रश्न का उत्तर दें।

India's exports in 2015 वर्ष 2015 में भारत का निर्यात	Value in million US\$ मिलियन डॉलर में मूल्य
Jewellery / जेवर	500
Software / सॉफ्टवेयर	850
Cotton / कपास	950
Steel / इस्पात	1000
Electronics / इलेक्ट्रॉनिक्स	875

Electronics was what percent of total exports?

इलेक्ट्रॉनिक्स का निर्यात भारत के कुल निर्यात का कितना प्रतिशत था?

**Options:**

1) 23.46 percent

23.46 प्रतिशत

2) 25.96 percent

25.96 प्रतिशत

3) 18.46 percent

18.46 प्रतिशत

4) 20.96 percent

20.96 प्रतिशत

**Correct Answer:** 20.96 percent

20.96 प्रतिशत

**Candidate Answer:** 20.96 percent

20.96 प्रतिशत

**QID : 76 -** In the following question, out of the four alternatives, select the alternative which is the best substitute of the phrase.**Open to more than one interpretation; not having one obvious meaning.****Options:**

1) trite

2) opposite

3) exceptional

4) ambiguous

**Correct Answer:** ambiguous**Candidate Answer:** ambiguous**QID : 77 -** Select the word with the correct spelling.**Options:**

1) humanoide

2) rikshaw

3) deviance

4) virtuos

**Correct Answer:** deviance**Candidate Answer:** deviance**QID : 78 -** Select the antonym of**vibrant****Options:**

1) drab

2) gaudy

3) jazzy

4) vivid

**Correct Answer:** drab**Candidate Answer:** [ NOT ANSWERED ]**QID : 79 -** In the following question, the sentence given with blank to be filled in with an appropriate word. Select the correct alternative out of the four and indicate it by selecting the appropriate option.**If you are caught using a calculator in the exam then it will be \_\_\_\_\_.****Options:**

1) taken

2) confiscated

3) confiscate

4) under possession

**Correct Answer:** confiscated**Candidate Answer:** confiscated[Downloaded From www.KnowledgePhilic.com](http://www.KnowledgePhilic.com)

**QID : 80** - In the following question, a sentence has been given in Direct/Indirect speech. Out of the four alternatives suggested, select the one which best express the same sentence in Indirect/Direct speech.

**"Please don't hit me" Rita said to the attacker.**

**Options:**

- 1) Rita begged the attacker to not to hit her.
- 2) Rita told the attacker to not hit her.
- 3) Rita begged the attacker not to hit her.
- 4) Rita pleaded with the attacker to not to hit her.

**Correct Answer:** Rita begged the attacker not to hit her.

**Candidate Answer:** Rita pleaded with the attacker to not to hit her.

**QID : 81** - Select the synonym of

**dignity**

**Options:**

- 1) decency
- 2) immoral
- 3) primacy
- 4) chagrin

**Correct Answer:** decency

**Candidate Answer:** primacy

**QID : 82** - In the following question, some part of the sentence may have errors. Find out which part of the sentence has an error and select the appropriate option. If a sentence is free from error, select 'No Error'.

**Indian Defence forces(A)/fought the enemy(B)/till the last soldier was standing.(C)/No error(D)**

**Options:**

- 1) A
- 2) B
- 3) C
- 4) D

**Correct Answer:** A

**Candidate Answer:** B

**QID : 83** - Choose the synonym of

**defecate**

**Options:**

- 1) chaff
- 2) quench
- 3) ingest
- 4) secrete

**Correct Answer:** secrete

**Candidate Answer:** quench

**QID : 84** - Select the word with the correct spelling.

**Options:**

- 1) bargundy
- 2) panacea
- 3) revolver
- 4) cantinue

**Correct Answer:** panacea

**Candidate Answer:** bargundy

**QID : 85** - In the following question, the sentence given with blank to be filled in with an appropriate word. Select the correct alternative out of the four and indicate it by selecting the appropriate option.

\_\_\_\_\_ and my younger brother went to the movies all by ourselves.

**Options:**

- 1) I
- 2) Mine
- 3) Myself
- 4) My own self

**Correct Answer:** I

**Candidate Answer:** I

**QID : 86** - Rearrange the parts of the sentence in correct order

**The truth about these**

**P-communities is that**

**Q-they deserve to die**

**R-dysfunctional, downscale**

**Options:**

- 1) PQR
- 2) QPR
- 3) RPQ
- 4) RQP

**Correct Answer:** RPQ

KnowledgePhilic.com

UPSC | SSC | Bank | Railway | Lic | Fci | DMRC

Downloaded From [www.KnowledgePhilic.com](http://www.KnowledgePhilic.com)

**Candidate Answer:** PQR

**QID : 87** - Improve the bracketed part of the sentence.

The unfortunate old man was knocked (**away by**) the rash driver.

**Options:**

- 1) out by
- 2) off by
- 3) by
- 4) no improvement

**Correct Answer:** out by

**Candidate Answer:** out by

**QID : 88** - In the following question, out of the four alternatives, select the alternative which is the best substitute of the phrase

**Something widely feared as a possible dangerous occurrence.**

**Options:**

- 1) spectre
- 2) beguile
- 3) monolith
- 4) canny

**Correct Answer:** spectre

**Candidate Answer:** beguile

**QID : 89** - In the following question, some part of the sentence may have errors. Find out which part of the sentence has an error and select the appropriate option. If a sentence is free from error, select 'No Error'.

**The landlord could not(A)/tell which of the servant(B)/broke the glass.(C)/No error(D)**

**Options:**

- 1) A
- 2) B
- 3) C
- 4) D

**Correct Answer:** B

**Candidate Answer:** D

**QID : 90** - Improve the bracketed part of the sentence.

One should get (**trained**) to prepare one's own breakfast.

**Options:**

- 1) habituated
- 2) used
- 3) prepared
- 4) no improvement

**Correct Answer:** used

**Candidate Answer:** used

**QID : 91** - In the following question, out of the four alternatives, select the alternative which best expresses the meaning of the idiom/phrase.

**Mrs. Vaijanthi teaches us literature.**

**Options:**

- 1) We have been taught literature by Mrs. Vaijanthi.
- 2) Literature is being taught by Mrs. Vaijanthi to us.
- 3) Literature is being taught to us by Mrs. Vaijanthi.
- 4) Literature is taught by Mrs. Vaijanthi to us.

**Correct Answer:** Literature is being taught to us by Mrs. Vaijanthi.

**Candidate Answer:** Literature is taught by Mrs. Vaijanthi to us.

**QID : 92** - Select the antonym of

**deep-seated**

**Options:**

- 1) chronic
- 2) temporary
- 3) inbred
- 4) subconscious

**Correct Answer:** temporary

**Candidate Answer:** temporary

**QID : 93** - In the following question, out of the four alternatives, select the alternative which best expresses the meaning of the idiom/phrase.

**Zero tolerance**

**Options:**

- 1) Accuracy is paramount
- 2) Non-acceptance of antisocial behaviour
- 3) No return without risk
- 4) No problem at all

**Correct Answer:** Non-acceptance of antisocial behaviour

**Candidate Answer:** Non-acceptance of antisocial behaviour

KnowledgePhilic.com

UPSC | SSC | Bank | Railway | Lic | Fci | DMRC

Downloaded From [www.KnowledgePhilic.com](http://www.KnowledgePhilic.com)

**QID : 94** - Rearrange the parts of the sentence in correct order.

**Do not be anxious about**  
**P-thanksgiving, present your requests to God**  
**Q-and petition, with**  
**R-anything, but in every situation, by prayer**

**Options:**

- 1) PRQ
- 2) PQR
- 3) QRP
- 4) RQP

**Correct Answer:** RQP

**Candidate Answer:** RQP

**QID : 95** - In the following question, out of the four alternatives, select the alternative which best expresses the meaning of the idiom/phrase.

**Variety is the spice of life**

**Options:**

- 1) New experiences make life more interesting
- 2) Experimentation may be risky
- 3) Life is very beautiful
- 4) There is no life without excitement

**Correct Answer:** New experiences make life more interesting

**Candidate Answer:** New experiences make life more interesting

**QID : 96** - In the following passage some of the words have been left out. Read the passage carefully and select the correct answer for the given blank out of the four alternatives.

**Potholes and \_\_\_\_\_ placed speed breakers of all shapes and sizes on city streets have become a health \_\_\_\_\_ for two-wheeler riders. From cuts and bruises, wounds, and a visit to the emergency room to serious and \_\_\_\_\_ back and neck-related complications, potholes have become an \_\_\_\_\_ for those on the road. Doctors report an increase in patients with injuries and serious bone-related \_\_\_\_\_ in the monsoon.**

**Potholes and \_\_\_\_\_ placed speed breakers**

**Options:**

- 1) haphazardly
- 2) accidentally
- 3) casually
- 4) randomly

**Correct Answer:** haphazardly

**Candidate Answer:** casually

KnowledgePhilic.com

UPSC | SSC | Bank | Railway | Lic | Fci | DMRC

**QID : 97** - In the following passage some of the words have been left out. Read the passage carefully and select the correct answer for the given blank out of the four alternatives.

**Potholes and \_\_\_\_\_ placed speed breakers of all shapes and sizes on city streets have become a health \_\_\_\_\_ for two-wheeler riders. From cuts and bruises, wounds, and a visit to the emergency room to serious and \_\_\_\_\_ back and neck-related complications, potholes have become an \_\_\_\_\_ for those on the road. Doctors report an increase in patients with injuries and serious bone-related \_\_\_\_\_ in the monsoon.**

**a health \_\_\_\_\_ for two-wheeler riders.**

**Options:**

- 1) risk
- 2) threat
- 3) danger
- 4) hazard

**Correct Answer:** hazard

**Candidate Answer:** risk

**QID : 98** - In the following passage some of the words have been left out. Read the passage carefully and select the correct answer for the given blank out of the four alternatives.

**Potholes and \_\_\_\_\_ placed speed breakers of all shapes and sizes on city streets have become a health \_\_\_\_\_ for two-wheeler riders. From cuts and bruises, wounds, and a visit to the emergency room to serious and \_\_\_\_\_ back and neck-related complications, potholes have become an \_\_\_\_\_ for those on the road. Doctors report an increase in patients with injuries and serious bone-related \_\_\_\_\_ in the monsoon.**

**to serious and \_\_\_\_\_ back and neck-related complications**

**Options:**

- 1) chronic
- 2) painful
- 3) hurtful
- 4) terrible

**Correct Answer:** chronic

**Candidate Answer:** chronic

[Downloaded From www.KnowledgePhilic.com](http://www.KnowledgePhilic.com)

**QID : 99** - In the following passage some of the words have been left out. Read the passage carefully and select the correct answer for the given blank out of the four alternatives.

**Potholes and \_\_\_\_\_ placed speed breakers of all shapes and sizes on city streets have become a health \_\_\_\_\_ for two-wheeler riders. From cuts and bruises, wounds, and a visit to the emergency room to serious and \_\_\_\_\_ back and neck-related complications, potholes have become an \_\_\_\_\_ for those on the road. Doctors report an increase in patients with injuries and serious bone-related \_\_\_\_\_ in the monsoon.**

**potholes have become an \_\_\_\_\_**

**Options:**

- 1) health risk
- 2) dangerous situation
- 3) imminent threat
- 4) epidemic

**Correct Answer:** imminent threat

**Candidate Answer:** health risk

**QID : 100** - In the following passage some of the words have been left out. Read the passage carefully and select the correct answer for the given blank out of the four alternatives.

**Potholes and \_\_\_\_\_ placed speed breakers of all shapes and sizes on city streets have become a health \_\_\_\_\_ for two-wheeler riders. From cuts and bruises, wounds, and a visit to the emergency room to serious and \_\_\_\_\_ back and neck-related complications, potholes have become an \_\_\_\_\_ for those on the road. Doctors report an increase in patients with injuries and serious bone-related \_\_\_\_\_ in the monsoon.**

**serious bone-related \_\_\_\_\_ in the monsoon.**

**Options:**

- 1) confusions
- 2) complications
- 3) complexities
- 4) difficulties

**Correct Answer:** complications

**Candidate Answer:** complications

# KnowledgePhilic.com

UPSC | SSC | Bank | Railway | Lic | Fci | DMRC

[Downloaded From www.KnowledgePhilic.com](http://www.KnowledgePhilic.com)