



Staff Selection Commission
(Government Of India)

REGISTRATION No. knowledgePhilic.com

EXAM DATE : 1-February-2017

EXAM NAME : SSC Examination 2016

TOTAL MARKS : 200

CANDIDATE NAME : knowledgePhilic.com

EXAM START TIME : 13:15:00

EXAM DURATION : 01:15 Hrs

TOTAL NO OF QUESTIONS : 100

QID : 101 - Select the related word/letters/number from the given alternatives.

Nephrology : Kidney :: Ichthyology : ?

दिए गए विकल्पों में से संबंधित शब्द/अक्षर/संख्या को चुनिए।

नेफ्रोलॉजी : गुर्दा :: मत्स्यविज्ञान : ?

Options:

- 1) Fish
मछली
- 2) Soil
मिट्टी
- 3) Algae
शैवाल
- 4) Insects
कीड़े

Correct Answer: Fish

मछली

Candidate Answer: [NOT ANSWERED]

QID : 102 - Select the related word/letters/number from the given alternatives.

AGREE : FGPIB :: RULES : ?

दिए गए विकल्पों में से संबंधित शब्द/अक्षर/संख्या को चुनिए।

AGREE : FGPIB :: RULES : ?

Options:

- 1) TJGSU
- 2) TGJWS
- 3) TGJSU
- 4) THJUS

Correct Answer: TGJWS

Candidate Answer: TGJWS

QID : 103 - Select the related word/letters/number from the given alternatives.

MUMBAI: UMBMIA :: GURUGRAM : ?

दिए गए विकल्पों में से संबंधित शब्द/अक्षर/संख्या को चुनिए।

MUMBAI: UMBMIA :: GURUGRAM : ?

Options:

- 1) RUGUMARG
- 2) UGURRGMA
- 3) UGURGRMA
- 4) UGRURGAM

Correct Answer: UGURRGMA

Candidate Answer: UGURRGMA

KnowledgePhilic.com

UPSC | SSC | Bank | Railway | Lic | Fci | DMRC

QID : 104 - Select the related word/letters/number from the given alternatives.

30 : 16 :: 24 : ?

दिए गए विकल्पों में से संबंधित शब्द/अक्षर/संख्या को चुनिए।

30 : 16 :: 24 : ?

Options:

1) 14

2) 13

3) 20

4) 25

Correct Answer: 13

Candidate Answer: 13

QID : 105 - Select the odd word/letters/number/number pair from the given alternatives.

दिए गए विकल्पों में से विषम शब्द/अक्षर/संख्या/संख्या युग्म को चुनिए।

Options:

1) Dog

कुत्ता

2) Cat

बिल्ली

3) Goat

बकरी

4) Lion

शेर

Correct Answer: Lion

शेर

Candidate Answer: Lion

शेर

KnowledgePhilic.com

QID : 106 - Select the odd word/letters/number/number pair from the given alternatives.

दिए गए विकल्पों में से विषम शब्द/अक्षर/संख्या/संख्या युग्म को चुनिए।

Options:

1) E5T

2) O9S

3) U3A

4) I7M

Correct Answer: U3A

Candidate Answer: O9S

QID : 107 - Select the odd word/letters/number/number pair from the given alternatives.

दिए गए विकल्पों में से विषम शब्द/अक्षर/संख्या/संख्या युग्म को चुनिए।

Options:

1) 862

2) 835

3) 439

4) 147

Correct Answer: 147

Candidate Answer: 147

QID : 108 - Select the odd word/letters/number/number pair from the given alternatives.

दिए गए विकल्पों में से विषम शब्द/अक्षर/संख्या/संख्या युग्म को चुनिए।

Options:

- 1) 45
- 2) 56
- 3) 55
- 4) 78

Correct Answer: 55**Candidate Answer:** 55**QID : 109** - A series is given with one term missing. Choose the correct alternative from the given ones that will complete the series.

MHZ, NIW, OKT, PNQ, ?

एक अनुक्रम दिया गया है, जिसमें से एक पद लुप्त है। दिए गए विकल्पों में से वह सही विकल्प चुनिए, जो अनुक्रम को पूरा करे।

MHZ, NIW, OKT, PNQ, ?

Options:

- 1) QNR
- 2) QRN
- 3) RNM
- 4) QNO

Correct Answer: QRN**Candidate Answer:** QRN**QID : 110** - A series is given with one term missing. Choose the correct alternative from the given ones that will complete the series.

CFE, ILK, ORQ, ?

एक अनुक्रम दिया गया है, जिसमें से एक पद लुप्त है। दिए गए विकल्पों में से वह सही विकल्प चुनिए, जो अनुक्रम को पूरा करे।

CFE, ILK, ORQ, ?

Options:

- 1) UXW
- 2) VYW
- 3) UYW
- 4) UXX

Correct Answer: UXW**Candidate Answer:** UXW**QID : 111** - A series is given with one term missing. Choose the correct alternative from the given ones that will complete the series.

14, 22, 33, 47, 64, ?

एक अनुक्रम दिया गया है, जिसमें से एक पद लुप्त है। दिए गए विकल्पों में से वह सही विकल्प चुनिए, जो अनुक्रम को पूरा करे।

14, 22, 33, 47, 64, ?

Options:

- 1) 81
- 2) 84
- 3) 92
- 4) 94

Correct Answer: 84**Candidate Answer:** 84

QID : 112 - In the following question, two statements are given each followed by two conclusions I and II. You have to consider the statements to be true even if they seem to be at variance from commonly known facts. You have to decide which of the given conclusions, if any, follows from the given statements.

Statement:

- (I) Retail shops increasingly want to retain potential buyers.
(II) 10 % of the customers are lost due to out of stock products.

Conclusions:

- (I) People don't find their sizes or specific color in stock and then they leave the store without any purchase.
(II) Retailers want maximum footfall to get converted into purchases.

निम्नलिखित प्रश्न में, दो कथन दिए गए हैं जिनके आगे दो निष्कर्ष I और II निकाले गए हैं। आपको मानना है कि कथन सत्य है चाहे वे सामान्यतः ज्ञात तथ्यों से भिन्न प्रतीत होते हों। आपको निर्णय करना है कि दिए गए निष्कर्षों में से कौन सा/कौन से निश्चित रूप से कथनों द्वारा सही निकाला जा सकता है/सकते हैं, यदि कोई हो।

कथन:

- (I) खुदरा दुकानें संभावित खरीदारों को बनाए रखना चाहती हैं।
(II) उत्पादों की अनुपलब्धता के चलते 10% ग्राहक घट रहे हैं।

निष्कर्ष:

- (I) लोगों को अगर अपने पसंदीदा रंग और आकार की वस्तु स्टॉक में नहीं मिलती तो वे बिना किसी खरीद के स्टोर से बाहर निकल जाते हैं।
(II) खुदरा विक्रेता अधिक से अधिक लोगों की आवाजाही चाहते हैं ताकि वह उन्हें खरीदार में बदल सकें।

Options:

- 1) Only conclusion II follows
केवल निष्कर्ष II लागू होता है।
2) Conclusion I and II both follow
निष्कर्ष I और II दोनों लागू होता है।
3) Neither I nor II follow
न निष्कर्ष I न ही II लागू होता है।
4) Only conclusion I follows
केवल निष्कर्ष I लागू होता है।

Correct Answer: Conclusion I and II both follow
निष्कर्ष I और II दोनों लागू होता है।

Candidate Answer: Only conclusion II follows
केवल निष्कर्ष II लागू होता है।

KnowledgePhilic.com

UPSC I SSC I Bank I Railway I Lic I Fci I DMRC

QID : 113 - A series is given with one term missing. Choose the correct alternative from the given ones that will complete the series.

Morning, Afternoon, Evening, ?

एक अनुक्रम दिया गया है, जिसमें से एक पद लुप्त है। दिए गए विकल्पों में से वह सही विकल्प चुनिए, जो अनुक्रम को पूरा करे।

सुबह, दोपहर, शाम, ?

Options:

- 1) Day
दिन
2) Week
सप्ताह
3) Year
वर्ष
4) Night
रात

Correct Answer: Night
रात

Candidate Answer: Night
रात

QID : 114 - A, B, C and X, Y, Z were sitting facing each other. A, B and C were facing south and X, Y and Z were facing north. X was left of Y but in front of A; Z was not at the left end and was not facing C. Who were at the left and right positions respectively?

A, B, C और X, Y, Z एक दूसरे के आमने-सामने बैठे हुए थे। A, B और C का मुँह दक्षिण की तरफ था और X, Y और Z का मुँह उत्तर की तरफ था। X, Y के बाएं था, किंतु A के सामने बैठा था; Z बाएं छोर के अंत में नहीं था और ना ही C के सामने था। बाएं और दाहिने स्थान पर क्रमशः कौन था?

Options:

1) B and Y

B और Y

2) C and X

C और X

3) B and Z

B और Z

4) A and X

A और X

Correct Answer: A and X

A और X

Candidate Answer: C and X

C और X

QID : 115 - Arrange the given words in the sequence in which they occur in the dictionary.

i. Drama

ii. Dramatical

iii. Dramaticism

iv. Dramality

v. Dramatise

निम्नलिखित शब्दों को शब्दकोश में आने वाले क्रम के अनुसार लिखें।

i. Drama

ii. Dramatical

iii. Dramaticism

iv. Dramality

v. Dramatise

Options:

1) i, iv, ii, iii, v

2) i, iv, ii, v, iii

3) i, iv, v, iii, ii

4) iv, i, v, iii, ii

Correct Answer: i, iv, ii, iii, v**Candidate Answer:** i, iv, ii, v, iii

KnowledgePhilic.com

UPSC I SSC I Bank I Railway I Lic I Fci I DMRC

QID : 116 - In a certain code language "GASTRIC" is written as "UCIREKT". How will "DECEIVE" be written in that code language?

किसी विशिष्ट कोड भाषा में "GASTRIC" को "UCIREKT" लिखा जाता है। इस कोड भाषा में "DECEIVE" को किस प्रकार लिखा जाएगा?

Options:

1) ACBCCTG

2) ACACCTG

3) EGFCGXK

4) BFCCTGL

Correct Answer: EGFCGXK**Candidate Answer:** EGFCGXK**QID : 117** -

In the following question, select the missing number from the given series.

निम्नलिखित प्रश्न में दिए गए विकल्पों में से लुप्त अंक ज्ञात कीजिए।

9	8	5
6	6	7
3	?	3
5	7	4

Options:

- 1) 9
- 2) 4
- 3) 8
- 4) 2

Correct Answer: 2**Candidate Answer:** [NOT ANSWERED]**QID : 118** - Which of the following interchanges in signs and numbers will make the given equation correct?

$$8 \times 6 + 4 = 52$$

चिन्हों और संख्याओं में निम्न में से कौन सा अंतर्विनियम दिए गए समीकरण को सही बना देगा?

$$8 \times 6 + 4 = 52$$

Options:

- 1) x and +, 8 and 52
x और +, 8 और 52
- 2) + and x, 6 and 4
+ और x, 6 और 4
- 3) x and +, 8 and 4
x और +, 8 और 4
- 4) + and x, 6 and 8
+ और x, 6 और 8

Correct Answer: x and +, 8 and 4

x और +, 8 और 4

Candidate Answer: [NOT ANSWERED]**QID : 119** - In the following question, which one set of letters when sequentially placed at the gaps in the given letter series shall complete it?

_cca_a_ca_ac_ab

निम्नलिखित प्रश्न में अक्षरों का कौन सा समूह खाली स्थानों पर क्रमवार रखने से दी गई अक्षर श्रृंखला को पूरा करेगा?

_cca_a_ca_ac_ab

Options:

- 1) abcabc
- 2) abcbb
- 3) abbcc
- 4) abccb

Correct Answer: abcabc**Candidate Answer:** abcabc**QID : 120** - From point A, Ram moves 100m in north-east direction, he again turns and moves 100m in south-east direction. He again turns and covers 100m south-west and finally covers 100m in north-west direction. In which direction is he now with respect to A?

A बिंदु से राम 100 मीटर उत्तर-पूर्व की ओर चलता है और फिर वह मुड़कर 100 मीटर दक्षिण-पूर्व की ओर चलता है। वह फिर मुड़ता है और 100 मीटर दक्षिण-पश्चिम की ओर चलता है और अन्त में 100 मीटर उत्तर-पश्चिम की ओर चलता है। वह अब बिंदु A से किस दिशा में है?

Options:

- 1) West
पश्चिम
- 2) South-west
दक्षिण-पश्चिम
- 3) At point A
A बिंदु पर
- 4) East
पूर्व

Correct Answer: At point A

A बिंदु पर

Candidate Answer: [NOT ANSWERED]

QID : 121 -

A word is represented by only one set of numbers as given in any one of the alternatives. The sets of numbers given in the alternatives are represented by two classes of alphabets as shown in the given two matrices. The columns and rows of Matrix-I are numbered from 0 to 4 and that of Matrix-II are numbered from 5 to 9. A letter from these matrices can be represented first by its row and next by its column, for example, 'K' can be represented by 10, 34 etc. and 'I' can be represented by 76, 88 etc. Similarly, you have to identify the set for the word 'LIGHT'.

एक शब्द केवल एक संख्या-समूह द्वारा दर्शाया गया है, जैसाकि विकल्पों में से किसी एक में दिया गया है। विकल्पों में दिए गए संख्या-समूह अक्षरों के दो वर्गों द्वारा दर्शाए गए हैं, जैसा कि नीचे दिए गए दो आव्यूहों में है। आव्यूह-I के स्तम्भ और पंक्ति की संख्या 0 से 4 में दी गईं और आव्यूह-II की 5 से 9 हैं। इन आव्यूहों से एक अक्षर का पहले उसकी पंक्ति और बाद में स्तम्भ संख्या द्वारा दर्शाया जा सकता है। उदाहरण के लिए 'K' को 10, 34 आदि द्वारा दर्शाया जा सकता है तथा 'I' को 76, 88 आदि द्वारा दर्शाया जा सकता है। इसी तरह से आपको प्रश्न में दिए शब्द 'LIGHT' के लिए समूह को पहचानना है।

Matrix-I
आव्यूह - I

	0	1	2	3	4
0	T	M	L	K	G
1	K	L	G	T	M
2	L	T	M	G	K
3	M	G	T	L	K
4	G	K	M	T	L

Matrix-II
आव्यूह - II

	5	6	7	8	9
5	F	R	I	A	H
6	I	A	F	H	R
7	R	I	H	F	A
8	A	H	R	I	F
9	H	F	A	R	I

Options:

- 1) 02, 65, 31, 58, 21
- 2) 20, 77, 12, 68, 13
- 3) 44, 87, 40, 95, 32
- 4) 33, 99, 04, 59, 43

Correct Answer: 33, 99, 04, 59, 43

Candidate Answer: 33, 99, 04, 59, 43

QID : 122 - Pointing a man, Suraj says, "He is the son of the sister of my father's wife". How is that man related to Suraj?

एक व्यक्ति की ओर संकेत करते हुए सूरज कहता है, "वह मेरे पिता की पत्नी की बहन का बेटा है।" वह व्यक्ति सूरज से कैसे संबंधित है?

Options:

- 1) Father
पिता
- 2) Brother
भाई
- 3) Cousin
मौसेरा भाई
- 4) Nephew
भांजा

Correct Answer: Cousin

मौसेरा भाई

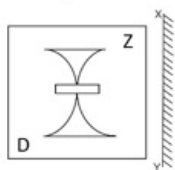
Candidate Answer: Cousin

मौसेरा भाई

QID : 123 -

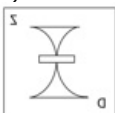
If a mirror is placed on the line XY, then which of the answer figures is the right image of the given figure?

यदि एक दर्पण को XY रेखा पर रखा जाए, तो दी गई उत्तर आकृतियों में से कौन सी आकृति प्रश्न आकृति की सही प्रतिबिम्ब होगी ?

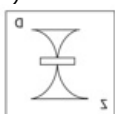


Options:

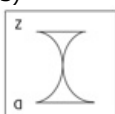
1)



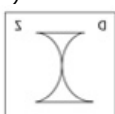
2)



3)



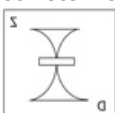
4)



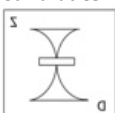
KnowledgePhilic.com

UPSC | SSC | Bank | Railway | Lic | Fci | DMRC

Correct Answer:



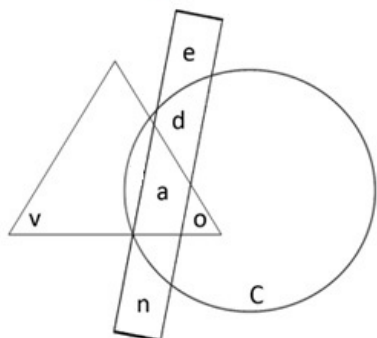
Candidate Answer:



QID : 124 -

Which of the following part is a part of both circle and triangle?

निम्न में से कौन सा भाग दोनों वृत्त और त्रिकोण का भाग है?



Options:

- 1) e
- 2) v
- 3) o
- 4) c

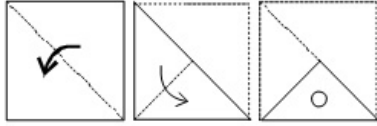
Correct Answer: o

Candidate Answer: o

QID : 125 -

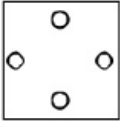
A piece of paper is folded and punched as shown below in the question figures. From the given answer figures, indicate how it will appear when opened.

नीचे के प्रश्न आकृतियों में दर्शाये अनुसार कागज को मोड़कर छेदने तथा खोलने के बाद वह किस उत्तर आकृति जैसा दिखाई देगा ?

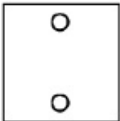


Options:

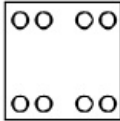
1)



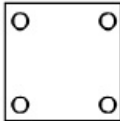
2)



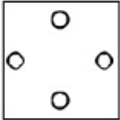
3)



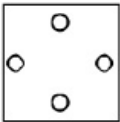
4)



Correct Answer:



Candidate Answer:



QID : 126 - Which of these is not a UNESCO World Heritage Site?

इनमें से कौन सा यूनेस्को का विश्व विरासत स्थल नहीं है?

KnowledgePhilic.com

UPSC | SSC | Bank | Railway | Lic | Fci | DMRC

Options:

1) Ajanta Caves, Maharashtra

अजंता की गुफाएँ, महाराष्ट्र

2) Red Fort, New Delhi

लाल किला, नई दिल्ली

3) Victoria Memorial, Kolkata

विक्टोरिया स्मारक, कोलकाता

4) Kaziranga Wildlife Sanctuary, Assam

काजीरंगा वन्यजीव अभयारण्य, असम

Correct Answer: Victoria Memorial, Kolkata

विक्टोरिया स्मारक, कोलकाता

Candidate Answer: Red Fort, New Delhi

लाल किला, नई दिल्ली

QID : 127 - Highest Civilian Honour received by Amitabh Bachchan is _____.

वह सर्वोच्च नागरिक सम्मान जो अमिताभ बच्चन को प्रदान किया गया है।

Options:

1) Padma Shri

पद्मश्री

2) Padma Bhushan

पद्म भूषण

3) Padma Vibhushan

पद्म विभूषण

4) Bharat Ratna

भारत रत्न

Correct Answer: Padma Vibhushan

पद्म विभूषण

Candidate Answer: Padma Bhushan

पद्म भूषण

KnowledgePhilic.com

QID : 128 - Which organ does detoxification and produces chemicals needed for digestion?

कौन सा अंग विषहरण करता है, और पाचन के लिए आवश्यक रसायनों को पैदा करता है?

Options:

1) Salivary glands

लार ग्रंथियाँ

2) Pancreas

अग्न्याशय

3) Thyroid gland

थायरॉइड ग्रंथि

4) Liver

यकृत

Correct Answer: Liver

यकृत

Candidate Answer: Pancreas

अग्न्याशय

QID : 129 - NaHCO_3 is chemical formula for _____. NaHCO_3 का रासायनिक सूत्र है।**Options:**

1) Borax

बोरेक्स

2) Vinegar

सिरका

3) Lime

चूना

4) Baking soda

बेकिंग सोडा

Correct Answer: Baking soda

बेकिंग सोडा

Candidate Answer: Baking soda

बेकिंग सोडा

QID : 130 - Which of the following elements has the lowest melting point?

निम्नलिखित तत्वों में से किसका गलनांक सबसे कम है?

Options:

1) Chromium

क्रोमियम

2) Hydrogen

हाइड्रोजन

3) Zinc

ज़िंक

4) Silver

सिल्वर

Correct Answer: Hydrogen

हाइड्रोजन

Candidate Answer: Hydrogen

हाइड्रोजन

QID : 131 - C Programming language was developed by _____.

सी प्रोग्रामिंग लैंग्वेज को _____ ने विकसित किया था।

Options:

1) Charles Babbage

चार्ल्स बेबेज

2) Larry Wall

लैरी वॉल

3) James Gosling

जेम्स गोस्लिंग

4) Dennis Ritchie

डेनिस रिची

Correct Answer: Dennis Ritchie

डेनिस रिची

Candidate Answer: [NOT ANSWERED]

QID : 132 - Which of these Indian Music Legends is the exponent of the instrument, Sitar?

इन भारतीय संगीत दिग्गजों में से सितार वादक कौन है?

Options:

1) Bhimsen Joshi

भौमसेन जोशी

2) Ravi Shankar

रवि शंकर

3) Amjad Ali Khan

अमजद अली खान

4) Alla Rakha

अल्ला रक्खा

Correct Answer: Ravi Shankar

रवि शंकर

Candidate Answer: [NOT ANSWERED]

QID : 133 - If demand curve for alphonso mangoes is $D = 25000 - 70P$ and supply curve is $S = 10000 + 80P$, find the equilibrium quantity?

यदि हापूस आम के लिए माँग वक्र $D = 25000 - 70P$ और आपूर्ति वक्र $S = 10000 + 80P$ है, तो संतुलन मात्रा कितनी है?

Options:

1) 18,000 units

18,000 इकाईयाँ

2) 2,000 units

2,000 इकाईयाँ

3) 1,800 units

1,800 इकाईयाँ

4) 200 units

200 इकाईयाँ

Correct Answer: 18,000 units

18,000 इकाईयाँ

Candidate Answer: 18,000 units

18,000 इकाईयाँ

QID : 134 - Match the characteristics with their market structure:

- (a) Price > MC in both short and long run
(b) Faces highly elastic demand

बाजार की संरचना के साथ उनकी विशेषताओं का मेल करें:

- (क) मूल्य > छोटी और लंबी दोनों अवधि में एमसी
(ख) अत्यधिक लोचदार मांग का सामना करती है।

Options:

1) (a) Monopolistic competition, (b) Pure competition

(क) एकाधिकार प्रतिस्पर्धा, (ख) शुद्ध प्रतिस्पर्धा

2) (a) Pure Monopoly, (b) Monopolistic competition

(क) शुद्ध एकाधिकार, (ख) एकाधिकार प्रतिस्पर्धा

3) (a) Pure competition, (b) Monopolistic competition

(क) शुद्ध प्रतियोगिता, (ख) एकाधिकार प्रतिस्पर्धा

4) (a) Oligopoly, (b) Pure competition

(क) अल्पाधिकार, (ख) शुद्ध प्रतियोगिता

Correct Answer: (a) Pure Monopoly, (b) Monopolistic competition

(क) शुद्ध एकाधिकार, (ख) एकाधिकार प्रतिस्पर्धा

Candidate Answer: [NOT ANSWERED]

QID : 135 - Anamalai Tiger Reserve is in which state?

अनामलाई टाइगर रिजर्व किस राज्य में है?

Options:

1) Telangana

तेलंगाना

2) Madhya Pradesh

मध्यप्रदेश

3) Tamil Nadu

तमिलनाडु

4) Kerala

केरल

Correct Answer: Tamil Nadu

तमिलनाडु

Candidate Answer: [NOT ANSWERED]

QID : 136 - Which is the most economical method of removing solid matter from water?

पानी में से ठोस पदार्थ को प्राप्त करने की सबसे किफायती विधि कौन सी है?

Options:

1) Using deactivated carbon

निष्क्रिय कार्बन का उपयोग करना

2) Electrolysis

विद्युत अपघटन

3) Distillation

आसवन

4) Sedimentation

अवसादन

Correct Answer: Sedimentation

अवसादन

Candidate Answer: Sedimentation

अवसादन

QID : 137 - What is the Capital of Telangana State?

तेलंगाना राज्य की राजधानी क्या है?

KnowledgePhilic.com

UPSC | SSC | Bank | Railway | Lic | Fci | DMRC

Options:

- 1) Hyderabad
हैदराबाद
- 2) Secunderabad
सिकन्दराबाद
- 3) Vijayanagara
विजयनगर
- 4) Visakhapatnam
विशाखापत्तनम

Correct Answer: Hyderabad

हैदराबाद

Candidate Answer: [NOT ANSWERED]**QID : 138** - Birbal was an advisor in the court of?

बीरबल किसकी अदालत में एक सलाहकार था?

Options:

- 1) Babur
बाबर
- 2) Akbar
अकबर
- 3) Aurangzeb
औरंगजेब
- 4) Jahangir
जहांगीर

Correct Answer: Akbar

अकबर

Candidate Answer: Akbar

अकबर

QID : 139 - Humayun's Tomb is located in _____.

हुमायूँ का मकबरा _____ में स्थित है।

Options:

- 1) Delhi
दिल्ली
- 2) Agra
आगरा
- 3) Gwalior
ग्वालियर
- 4) Jaipur
जयपुर

Correct Answer: Delhi

दिल्ली

Candidate Answer: Delhi

दिल्ली

QID : 140 - Assembly line was invented by

असेंबली लाइन का _____ द्वारा आविष्कार किया गया था।

Options:

- 1) Alexander Parkes
अलेक्जेंडर पार्कस
- 2) Luigi Palmieri
ल्यूइगी पाम्मैरी
- 3) Alexey Pajitnov
एलेक्सी पैजित्नोव
- 4) Ransom Eli Olds
रैनसम ऐली ओल्ड्स

Correct Answer: Ransom Eli Olds

रैनसम ऐली ओल्ड्स

Candidate Answer: [NOT ANSWERED]

KnowledgePhilic.com

UPSC | SSC | Bank | Railway | Lic | Fci | DMRC

QID : 141 - Instrument for measuring blueness of the sky or ocean is called _____.

आकाश या समुद्र की नीलिमा को मापने के यंत्र को _____ कहा जाता है।

Options:

- 1) Bathymeter
बेदीमीटर
- 2) Ceraunograph
सेरौनोग्राफ
- 3) Cyanometer
सायनोमीटर
- 4) Barometer
बैरोमीटर

Correct Answer: Cyanometer

सायनोमीटर

Candidate Answer: [NOT ANSWERED]

QID : 142 - Farad is unit of _____.

फैराड _____ की इकाई है।

Options:

- 1) Capacitance
केपेसिटेंस
- 2) Reactance
प्रतिक्रिया
- 3) Electric charge
विद्युत प्रभार
- 4) Electric conductance
विद्युत चालकता

Correct Answer: Capacitance

केपेसिटेंस

Candidate Answer: Capacitance

केपेसिटेंस

KnowledgePhilic.com

QID : 143 - Under which Article is the Union Public Service Commission of India established?

किस अनुच्छेद के तहत भारत के संघ लोक सेवा आयोग की स्थापना की गई है?

Options:

- 1) Article 315
अनुच्छेद 315
- 2) Article 250
अनुच्छेद 250
- 3) Article 300
अनुच्छेद 300
- 4) Article 52
अनुच्छेद 52

Correct Answer: Article 315

अनुच्छेद 315

Candidate Answer: [NOT ANSWERED]

QID : 144 - The Westminster parliamentary system was developed in _____.

वेस्टमिंस्टर संसदीय प्रणाली को _____ में विकसित किया गया था।

Options:

- 1) Spain
स्पेन
- 2) Australia
ऑस्ट्रेलिया
- 3) UK
यूके
- 4) USA
यूएसए

Correct Answer: UK

यूके

Candidate Answer: [NOT ANSWERED]

QID : 145 - Whose ear Mike Tyson bite in professional boxing match in 1997 for the WBA Heavyweight Championship?

डब्ल्यूबीए हैवीवेट चैम्पियनशिप के लिये 1997 की व्यावसायिक मुक्केबाजी के मैच में माईक टायसन ने किसका कान चबाया था?

Options:

- 1) James Douglas
जेम्स डगलस
- 2) Evander Holyfield
इवांडर होलीफील्ड
- 3) Riddick Bowe
रिडिक बोव
- 4) Michael Moorer
मायकल मूरर

Correct Answer: Evander Holyfield

इवांडर होलीफील्ड

Candidate Answer: [NOT ANSWERED]

QID : 146 - Who is the author of "India 2020: A Vision for the New Millennium"?

"इंडिया 2020: अ विजन फॉर अ न्यू मिलेनीअम" के लेखक कौन हैं

Options:

- 1) APJ Abdul Kalam
एपीजे अब्दुल कलाम
- 2) Shashi Tharoor
शशी थरूर
- 3) Narendra Modi
नरेंद्र मोदी
- 4) Arun Shourie
अरुण शोरी

Correct Answer: APJ Abdul Kalam

एपीजे अब्दुल कलाम

Candidate Answer: APJ Abdul Kalam

एपीजे अब्दुल कलाम

QID : 147 - Psidium guajava is the scientific name of _____

सिडियम गुआजावा _____ का वैज्ञानिक नाम है।

Options:

- 1) Guava
अमरुद
- 2) Mango
आम
- 3) Bamboo
बांस
- 4) Jack fruit
कटहल

Correct Answer: Guava

अमरुद

Candidate Answer: Guava

अमरुद

QID : 148 - In which year, RBI was nationalized?

भारतीय रिजर्व बैंक का राष्ट्रीकरण किस वर्ष किया गया?

Options:

- 1) 1939
- 2) 1949
- 3) 1959
- 4) 1969

Correct Answer: 1949

Candidate Answer: 1949

QID : 149 - Ottawa is the Capital City of _____.

ओटावा _____ की राजधानी है।

Options:

- 1) France
फ्रॉंस
- 2) Norway
नॉर्वे
- 3) Canada
कनाडा
- 4) Greece
ग्रीस

Correct Answer: Canada

कनाडा

Candidate Answer: Canada

कनाडा

QID : 150 - Which drug is used as a Blood Thinner?

रुधिर को पतला करने के रूप में किस दवा का प्रयोग किया जाता है?

Options:

- 1) Warfarin
वॉफरिन
- 2) Tramadol
ट्रैमाडोल
- 3) Azithromycin
एजिथ्रोमायसिन
- 4) Hydralazine
हाइड्रालेजिन

Correct Answer: Warfarin

वॉफरिन

Candidate Answer: [NOT ANSWERED]

QID : 151 - The value of x for which the expressions $15 - 7x$ and $15x + 7$ become equal is _____.

x का मान जिसके लिए व्यंजक $15 - 7x$ और $15x + 7$ बराबर हो जाते हैं, _____ है।

Options:

- 1) -4/11
- 2) 11/4
- 3) -11/4
- 4) 4/11

Correct Answer: 4/11

Candidate Answer: 4/11

QID : 152 - The largest 5 digit number exactly divisible by 95 is _____.

95 से पूरी तरह से विभाज्य होने वाली 5 अंकों की अधिकतम संख्या कौन सी है?

Options:

- 1) 99936
- 2) 99935
- 3) 99940
- 4) 99933

Correct Answer: 99940

Candidate Answer: 99940

QID : 153 - If $a:b = 3:8$, find the value of $(5a - 3b)/(2a + b)$.

यदि $a:b = 3:8$, तो $(5a - 3b)/(2a + b)$ का मान ज्ञात करें।

KnowledgePhilic.com

UPSC | SSC | Bank | Railway | Lic | Fci | DMRC

Options:

- 1) 9/14
- 2) 14/9
- 3) -9/14
- 4) -14/9

Correct Answer: -9/14**Candidate Answer:** -9/14**QID : 154** - If $5 - 3x < 4 - x$ and $5(2 - x) > 2 - 2x$, then x can take which of the following values?यदि $5 - 3x < 4 - x$ और $5(2 - x) > 2 - 2x$, तो x का मान क्या होगा?**Options:**

- 1) 0
- 2) -1
- 3) 1
- 4) 3

Correct Answer: 1**Candidate Answer:** [NOT ANSWERED]**QID : 155** - The average revenues of 9 consecutive years of a company is Rs 76 lakhs. If the average of first 5 years is Rs 71 lakhs and that of last 5 years is Rs 83 lakhs, find the revenue for the 5th year.

एक कंपनी का लगातार 9 साल का औसत राजस्व 76 लाख रु है। यदि पहले 5 वर्ष का औसत 71 लाख रु है और अंतिम 5 वर्षों का औसत 83 लाख रु है, तो पांचवें वर्ष का राजस्व ज्ञात कीजिये।

Options:

- 1) Rs 88 lakhs
88 लाख रु
- 2) Rs 84 lakhs
84 लाख रु
- 3) Rs 86 lakhs
86 लाख रु
- 4) Rs 82 lakhs
82 लाख रु

Correct Answer: Rs 86 lakhs

86 लाख रु

Candidate Answer: Rs 86 lakhs

86 लाख रु

KnowledgePhilic.com

UPSC I SSC I Bank I Railway I Lic I Fci I DMRC

QID : 156 - If $2x + 3y = 0$ and $3x - 4y = 34$, then $x - y =$ _____यदि $2x + 3y = 0$ और $3x - 4y = 34$ है, तो $x - y =$ _____**Options:**

- 1) 10
- 2) -10
- 3) 2
- 4) -2

Correct Answer: 10**Candidate Answer:** 10**QID : 157** - 5 hrs after a goods train passed a station, another train travelling at a speed of 70 km/hr following that goods train passed through that station. If after passing the station the train overtakes the goods train in 9 hours. What is the speed of the goods train?

एक मालगाड़ी के द्वारा स्टेशन पार करने के 5 घंटे बाद, उसका पीछा करते हुए एक और रेलगाड़ी ने 70 कि.मी./घंटा की गति से यात्रा करते हुए उसी स्टेशन को पार किया। यदि स्टेशन पार करने के 9 घंटे के बाद रेलगाड़ी मालगाड़ी से आगे निकल जाती है, तो मालगाड़ी की गति क्या होगी?

Options:

- 1) 45 km/hr
45 कि.मी./घंटा
- 2) 54 km/hr
54 कि.मी./घंटा
- 3) 67.5 km/hr
67.5 कि.मी./घंटा
- 4) 36 km/hr
36 कि.मी./घंटा

Correct Answer: 45 km/hr

45 कि.मी./घंटा

Candidate Answer: 45 km/hr

45 कि.मी./घंटा

QID : 158 - Marked price of an item is Rs 200. On purchase of 1 item discount is 22%, on purchase of 4 items discount is 33%. Rabia buys 5 items, what is the effective discount?

एक वस्तु का अंकित मूल्य 200 रु है। एक वस्तु की खरीद पर 22% छूट मिलती है, 4 वस्तु की खरीद पर 33% छूट मिलती है। राबिया 5 वस्तु खरीदती है, तो उसे कितनी प्रभावी छूट मिलेगी?

Options:

1) 35 percent

35 प्रतिशत

2) 30.8 percent

30.8 प्रतिशत

3) 34 percent

34 प्रतिशत

4) 20.4 percent

20.4 प्रतिशत

Correct Answer: 30.8 percent

30.8 प्रतिशत

Candidate Answer: 30.8 percent

30.8 प्रतिशत

QID : 159 - Find two numbers such that their mean proportion is 8 and third proportion is 64.

ऐसी दो संख्याएँ पता करो, जिनका माध्य अनुपात 8 है और तृतीय अनुपात 64 है।

Options:

1) 4 and 8

4 और 8

2) 8 and 16

8 और 16

3) 8 and 8

8 और 8

4) 4 and 16

4 और 16

Correct Answer: 4 and 16

4 और 16

Candidate Answer: [NOT ANSWERED]

QID : 160 - Akash is 3 times as good a workman as Baldev and therefore is able to finish a job in 40 days less than Baldev. Working together, they can finish it in _____.

आकाश, बलदेव से 3 गुना अधिक अच्छा कर्मचारी है और इसलिये वह किसी काम को बलदेव से 40 दिन कम में पूरा कर सकता है। दोनों साथ मिलकर वह काम _____ में पूरा कर सकते हैं।

Options:

1) 15 days

15 दिन

2) 60 days

60 दिन

3) 20 days

20 दिन

4) 10 days

10 दिन

Correct Answer: 15 days

15 दिन

Candidate Answer: 15 days

15 दिन

QID : 161 - At what rate of compound interest per annum will a sum of Rs 20000 become Rs 23328 in 2 years?

20000 रु की राशि प्रति वर्ष चक्रवृद्धि ब्याज की किस दर से 2 वर्षों में 23328 रु हो जाएगी?

KnowledgePhilic.com

UPSC | SSC | Bank | Railway | Lic | Fci | DMRC

Options:

- 1) 8 percent
8 प्रतिशत
2) 16 percent
16 प्रतिशत
3) 24 percent
24 प्रतिशत
4) 12 percent
12 प्रतिशत

Correct Answer: 8 percent

8 प्रतिशत

Candidate Answer: 8 percent

8 प्रतिशत

QID : 162 - ΔABC is similar to ΔPQR . Length of AB is 18 cm and length of the corresponding side PQ is 12 cm. If area of ΔABC is 324 sq cm, what is the area of ΔPQR ?

ΔABC , ΔPQR के समान है। AB की लम्बाई 18 से.मी. है, और इसकी संगत भुजा PQ की लम्बाई 12 से.मी. है। यदि ΔABC का क्षेत्रफल 324 वर्ग से.मी. है, तो ΔPQR का क्षेत्रफल ज्ञात करें।

Options:

- 1) 72 sq cm
72 वर्ग से.मी.
2) 144 sq cm
144 वर्ग से.मी.
3) 36 sq cm
36 वर्ग से.मी.
4) 487.5 sq cm
487.5 वर्ग से.मी.

Correct Answer: 144 sq cm

144 वर्ग से.मी.

Candidate Answer: 144 sq cm

144 वर्ग से.मी.

KnowledgePhilic.com

QID : 163 - What is the slope of the line perpendicular to the line passing through the points (8,-2) and (3,-1)?

(8,-2) और (3,-1) बिन्दुओं से गुजरने वाली रेखा के अभिलंब रेखा के ढाल को ज्ञात करें।

Options:

- 1) 5
2) 3/5
3) 5/3
4) 1/5

Correct Answer: 5**Candidate Answer:** 1/5

QID : 164 - A pentagonal prism has 15 edges. How many vertices does it have?

एक पंचभुज प्रिज्म के 15 किनारों हैं। उसके कितने शिरोबिंदु हैं?

Options:

- 1) 12
2) 10
3) 15
4) 20

Correct Answer: 10**Candidate Answer:** [NOT ANSWERED]

QID : 165 - The diameter of a circle is equal to the side of the square. What is the area of the square if the area of the circle is 49 π sq cm?

एक वृत्त का व्यास वर्ग की भुजा के बराबर है। वर्ग का क्षेत्रफल क्या है, यदि वृत्त का क्षेत्रफल 49 π वर्ग से.मी. है?

Options:

- 1) 196 sq cm
196 वर्ग से.मी.
- 2) 154 sq cm
154 वर्ग से.मी.
- 3) 124 sq cm
124 वर्ग से.मी.
- 4) 98 sq cm
98 वर्ग से.मी.

Correct Answer: 196 sq cm

196 वर्ग से.मी.

Candidate Answer: 154 sq cm

154 वर्ग से.मी.

QID : 166 - The radius of a hemisphere is 7 cm, find its volume?

एक गोलार्द्ध की त्रिज्या 7 से.मी. है। उसका आयतन ज्ञात करें।

Options:

- 1) 718.67 cubic cm
718.67 घन से.मी.
- 2) 1437.34 cubic cm
1437.34 घन से.मी.
- 3) 239.56 cubic cm
239.56 घन से.मी.
- 4) 359.34 cubic cm
359.34 घन से.मी.

Correct Answer: 718.67 cubic cm

718.67 घन से.मी.

Candidate Answer: 1437.34 cubic cm

1437.34 घन से.मी.

KnowledgePhilic.com

QID : 167 - 29 is 0.8% of?

29 किस संख्या का 0.8% है?

Options:

- 1) 3625
- 2) 1450
- 3) 7250
- 4) 10875

Correct Answer: 3625**Candidate Answer:** 3625

UPSC | SSC | Bank | Railway | Lic | Fci | DMRC

QID : 168 - If $\sin^{-1} \frac{5\pi}{3} = x$, then the value of x isयदि $\sin^{-1} \frac{5\pi}{3} = x$, तो x का मान क्या है?**Options:**

- 1) $-\frac{\sqrt{3}}{2}$
- 2) $\frac{\sqrt{3}}{2}$
- 3) -2
- 4) $-\frac{2}{\sqrt{3}}$

Correct Answer: $\frac{\sqrt{3}}{2}$ **Candidate Answer:** $\frac{\sqrt{3}}{2}$ **QID : 169** - If $(\tan A + \tan B)/(1 - \tan A \tan B) = x$, then the value of x isयदि $(\tan A + \tan B)/(1 - \tan A \tan B) = x$, तो x का मान क्या है?**Options:**

- 1) $\tan(A + B)$
- 2) $\tan(A - B)$
- 3) $\cot(A + B)$
- 4) $\cot(A - B)$

Correct Answer: $\tan(A + B)$

Candidate Answer: $\tan(A + B)$

QID : 170 - If $1/(\operatorname{cosec}A - \cot A) = x$, then the value of x is

यदि $1/(\operatorname{cosec}A - \cot A) = x$, तो x का मान क्या है?

Options:

1) $\operatorname{cosec}A + \cot A$

2) $\operatorname{cosec}A - \cot A$

3) $\operatorname{cosec}^2A + \cot^2A$

4) $\sqrt{[\operatorname{cosec}^2A + \cot^2A]}$

Correct Answer: $\operatorname{cosec}A + \cot A$

Candidate Answer: $\operatorname{cosec}A + \cot A$

QID : 171 - A vendor buys oranges at the rate of 5 for Rs 6 and sells at the rate of 2 for Rs 3. What will be the result?

एक विक्रेता 6 रु में 5 के हिसाब से संतरे खरीदता है और 3 रु में 2 के हिसाब से बेच देता है। इसका क्या परिणाम होगा?

Options:

1) 25 percent loss

25 प्रतिशत हानि

2) 25 percent gain

25 प्रतिशत लाभ

3) 20 percent gain

20 प्रतिशत लाभ

4) 20 percent loss

20 प्रतिशत हानि

Correct Answer: 25 percent gain

25 प्रतिशत लाभ

Candidate Answer: 25 percent loss

25 प्रतिशत हानि

KnowledgePhilic.com

QID : 172 -

Refer the below data table and answer the following Question.

नीचे दिये गए डेटा तालिका के आधार पर निम्नलिखित प्रश्न का उत्तर दें।

	Boys / लड़के	Girls / लड़कियाँ
Medical / मेडिकल	20	45
Engineering / इंजीनियरिंग	90	25

What percent students who chose Engineering are girls?

छात्रों में लड़कियों का प्रतिशत कितना है, जिन्होंने इंजीनियरिंग विषय चुना है?

Options:

1) 13.89

2) 21.74

3) 35.71

4) 27.78

Correct Answer: 21.74

Candidate Answer: 13.89

QID : 173 -

Refer the below data table and answer the following Question.

नीचे दिये गए डेटा तालिका के आधार पर निम्नलिखित प्रश्न का उत्तर दें।

	Cumulative production संचयी उत्पादन
January / जनवरी	300
February / फरवरी	500
March / मार्च	1080
April / अप्रैल	1630
May / मई	2030
June / जून	2320

How many cars were manufactured in the months of April and May?

मई और अप्रैल माह में कितनी कारें निर्मित हुई थीं?

Options:

- 1) 690
- 2) 1130
- 3) 3660
- 4) 950

Correct Answer: 950

Candidate Answer: 3660

KnowledgePhilic.com

QID : 174 -

Refer the below data table and answer the following Question.

नीचे दिये गए डेटा तालिका के आधार पर निम्नलिखित प्रश्न का उत्तर दें।

Day of the week सप्ताह का दिन	Distance jogged (in kms) दौड़ी गयी दूरी (किलोमीटर में)
Monday/ सोमवार	3.5
Tuesday / मंगलवार	3
Wednesday / बुधवार	2.5
Thursday / गुरुवार	5
Friday / शुक्रवार	2.5
Saturday / शनिवार	2
Sunday / रविवार	4.5

If 400 calories are burned by jogging 5km, how many calories were burnt in the given week?

यदि 5 कि.मी. दौड़ने से 400 कैलोरी की खपत होती है, तो दिए गए पूरे सप्ताह में कितनी कैलोरी की खपत हुई?

Options:

- 1) 1890 calories
1890 कैलोरी
- 2) 1840 calories
1840 कैलोरी
- 3) 1790 calories
1790 कैलोरी
- 4) 1740 calories
1740 कैलोरी

Correct Answer: 1840 calories

1840 कैलोरी

Candidate Answer: 1840 calories

1840 कैलोरी

QID : 175 -

Refer the below data table and answer the following Question.

नीचे दिये गए डेटा तालिका के आधार पर निम्नलिखित प्रश्न का उत्तर दें।

Items वस्तु	Yearly Expense in Rs lakhs लाख रुपये में वार्षिक खर्च
Raw Materials / कच्चा माल	6
Labour / श्रम	3
Rent / किराया	5
Interest / ब्याज	6
Taxes / कर	3

Rent and Taxes are what percent of total expenses?

किराया और कर कुल खर्च का कितना प्रतिशत है?

Options:

1) 27.53 percent

27.53 प्रतिशत

2) 34.78 percent

34.78 प्रतिशत

3) 20.28 percent

20.28 प्रतिशत

4) 42.03 percent

42.03 प्रतिशत

Correct Answer: 34.78 percent

34.78 प्रतिशत

Candidate Answer: 34.78 percent

34.78 प्रतिशत

KnowledgePhilic.com

UPSC | SSC | Bank | Railway | Lic | Fci | DMRC

QID : 176 - In the following question, out of the four alternatives, select the alternative which is the best substitute of the phrase.

To rummage about in a place or container in search of something.

Options:

1) to rake

2) to excavate

3) to ferret

4) to poke

Correct Answer: to ferret

Candidate Answer: to excavate

QID : 177 - In the following question, out of the four alternatives, select the alternative which best expresses the meaning of the idiom/phrase.

to buy a lemon

Options:

1) to purchase a vehicle that constantly gives problems

2) buying only half the recipe will not help you prepare the full dish

3) to purchase an insignificant thing which eventually becomes very useful

4) to buy stuff which you don't need

Correct Answer: to purchase a vehicle that constantly gives problems

Candidate Answer: to purchase an insignificant thing which eventually becomes very useful

QID : 178 - Select the antonym of

mere

Options:

1) unadorned

2) immense

3) sheer

4) blunt

Correct Answer: immense

Candidate Answer: sheer

QID : 179 - In the following question, some part of the sentence may have errors. Find out which part of the sentence has an error and select the appropriate option. If a sentence is free from error, select 'No Error'.

The population of Mumbai(A)/is greater than(B)/in any city in USA.(C)/No error(D)

Options:

- 1) A
- 2) B
- 3) C
- 4) D

Correct Answer: C

Candidate Answer: C

QID : 180 - In the following question, the sentence given with blank to be filled in with an appropriate word. Select the correct alternative out of the four and indicate it by selecting the appropriate option.

The bank _____ his house as he had failed to pay the instalments despite repeated warnings.

Options:

- 1) mobbed
- 2) confiscated
- 3) hijacked
- 4) captured

Correct Answer: confiscated

Candidate Answer: captured

QID : 181 - Rearrange the parts of the sentence in correct order:

**At one level,
P-the law in understanding
Q-such cases of violence
R-one senses the limits of**

Options:

- 1) RQP
- 2) PQR
- 3) RPQ
- 4) QRP

Correct Answer: RPQ

Candidate Answer: RPQ

KnowledgePhilic.com

UPSC I SSC I Bank I Railway I Lic I Fci I DMRC

QID : 182 - In the following question, some part of the sentence may have errors. Find out which part of the sentence has an error and select the appropriate option. If a sentence is free from error, select 'No Error'.

For a full week(A)/she enjoyed the benefits(B)/ of being a big sister.(C)/No error(D)

Options:

- 1) A
- 2) B
- 3) C
- 4) D

Correct Answer: D

Candidate Answer: C

QID : 183 - Select the synonym of

to ordain

Options:

- 1) to anoint
- 2) to retract
- 3) to veto
- 4) to void

Correct Answer: to anoint

Candidate Answer: [NOT ANSWERED]

QID : 184 - Select the synonym of

to stranded

Options:

- 1) to douse
- 2) to aground
- 3) to swamp
- 4) to inundate

Correct Answer: to aground

Candidate Answer: [NOT ANSWERED]

QID : 185 - Improve the bracketed part of the sentence.

All the allegations levelled (**over**) the poor watchman were found to be baseless.

Options:

- 1) upon
- 2) off
- 3) against
- 4) no improvement

Correct Answer: against

Candidate Answer: against

QID : 186 - Rearrange the parts of the sentence in correct order.

It is the right to

P-who see us at our most vulnerable

Q-the indiscretions of doctors

R-privacy that protects us from

Options:

- 1) QRP
- 2) QPR
- 3) PRQ
- 4) RQP

Correct Answer: RQP

Candidate Answer: RQP

QID : 187 - Select the antonym of

to comprise

Options:

- 1) to dispute
- 2) to embody
- 3) to span
- 4) to encompass

Correct Answer: to dispute

Candidate Answer: to dispute

QID : 188 - In the following question, out of the four alternatives, select the alternative which best expresses the meaning of the idiom/phrase.

to cast iron stomach

Options:

- 1) a very greedy person
- 2) to be able to eat or drink anything without any problems
- 3) to be indifferent to harsh words
- 4) to face so many difficulties in life that one now becomes immune to even poison

Correct Answer: to be able to eat or drink anything without any problems

Candidate Answer: to face so many difficulties in life that one now becomes immune to even poison

QID : 189 - In the following question, a sentence has been given in Active/Passive voice. Out of four alternatives suggested, select the one, which best expresses the same sentence in Passive/Active.

The event manager is making all the reservations.

Options:

- 1) All the reservations would be made by the event manager.
- 2) All the reservations are being made by the event manager.
- 3) All the reservations would have been made by the event manager.
- 4) All the reservations will have been made by the event manager.

Correct Answer: All the reservations are being made by the event manager.

Candidate Answer: All the reservations are being made by the event manager.

QID : 190 - Improve the bracketed part of the sentence.

"I am the only man in the world who (**can**) paint a picture so true to life," he said.

Options:

- 1) will
- 2) could
- 3) may
- 4) no improvement

Correct Answer: no improvement

Candidate Answer: no improvement

KnowledgePhilic.com

UPSC | SSC | Bank | Railway | LIC | FCI | DMRC

QID : 191 - In the following question, out of the four alternatives, select the alternative which is the best substitute of the phrase.

To sell (stocks or other securities or commodities) in advance of acquiring them, with the aim of making a profit when the price falls.

Options:

- 1) bilking
- 2) duping
- 3) conning
- 4) shorting

Correct Answer: shorting

Candidate Answer: [NOT ANSWERED]

QID : 192 - In the following question, a sentence has been given in Direct/Indirect speech. Out of the four alternatives suggested, select the one, which best express the same sentence in Indirect/Direct speech.

'Do you have anything to say on behalf of the accused?' said the judge finally.

Options:

- 1) The judge finally asked that if he had anything to say on behalf of the accused.
- 2) The judge finally ask that whether he had anything to say on behalf of the accused.
- 3) The judge finally asked that if he has anything to say on behalf of the accused.
- 4) The judge finally asked that if he has had anything to say on behalf of the accused.

Correct Answer: The judge finally ask that whether he had anything to say on behalf of the accused.

Candidate Answer: The judge finally asked that if he had anything to say on behalf of the accused.

QID : 193 - Select the word with the correct spelling.

Options:

- 1) amphybia
- 2) indanted
- 3) ancumber
- 4) levelled

Correct Answer: levelled

Candidate Answer: levelled

QID : 194 - In the following question, sentence given with blank is to be filled in with an appropriate word. Select the correct alternative out of the four and indicate it by selecting the appropriate option.

A large crowd _____ to get a glimpse of their favourite star.

Options:

- 1) gathered
- 2) rallied
- 3) clustered
- 4) compiled

Correct Answer: gathered

Candidate Answer: gathered

QID : 195 - Select the word with the correct spelling.

Options:

- 1) tidlers
- 2) thistees
- 3) pulchritude
- 4) tenderred

Correct Answer: pulchritude

Candidate Answer: [NOT ANSWERED]

QID : 196 - In the following passage, some of the words have been left out. Read the passage carefully and select the correct answer for the given blank out of the four alternatives.

In a strange _____, the production and the consumption of the event become cause for concern. _____ wonders whether newer forms of "non-caring" or violence are appearing. Somehow, silence, even _____, quietly suppresses a meditation on such events. _____ a professor, I can recollect the number of occasions when my students have cried as we discussed such events in class. _____, society seems so indifferent.

In a strange _____,

Options:

- 1) way
- 2) form
- 3) step
- 4) method

Correct Answer: way

Candidate Answer: way

QID : 197 - In the following passage, some of the words have been left out. Read the passage carefully and select the correct answer for the given blank out of the four alternatives.

In a strange _____, the production and the consumption of the event become cause for concern. _____ wonders whether newer forms of "non-caring" or violence are appearing. Somehow, silence, even _____, quietly suppresses a meditation on such events. _____ a professor, I can recollect the number of occasions when my students have cried as we discussed such events in class. _____, society seems so indifferent.

_____ wonders whether newer forms of "non-caring" or violence are appearing.

Options:

- 1) Anyone
- 2) One
- 3) Someone
- 4) Somebody

Correct Answer: One

Candidate Answer: One

QID : 198 - In the following passage, some of the words have been left out. Read the passage carefully and select the correct answer for the given blank out of the four alternatives.

In a strange _____, the production and the consumption of the event become cause for concern. _____ wonders whether newer forms of "non-caring" or violence are appearing. Somehow, silence, even _____, quietly suppresses a meditation on such events. _____ a professor, I can recollect the number of occasions when my students have cried as we discussed such events in class. _____, society seems so indifferent.

Somehow, silence, even _____, quietly suppresses a meditation on such events.

Options:

- 1) attention
- 2) bias
- 3) regard
- 4) indifference

Correct Answer: indifference

Candidate Answer: indifference

QID : 199 - In the following passage, some of the words have been left out. Read the passage carefully and select the correct answer for the given blank out of the four alternatives.

In a strange _____, the production and the consumption of the event become cause for concern. _____ wonders whether newer forms of "non-caring" or violence are appearing. Somehow, silence, even _____, quietly suppresses a meditation on such events. _____ a professor, I can recollect the number of occasions when my students have cried as we discussed such events in class. _____, society seems so indifferent.

_____ a professor,

Options:

- 1) Like
- 2) Alike
- 3) As
- 4) Being

Correct Answer: As

Candidate Answer: Being

QID : 200 - In the following passage, some of the words have been left out. Read the passage carefully and select the correct answer for the given blank out of the four alternatives.

In a strange _____, the production and the consumption of the event become cause for concern. _____ wonders whether newer forms of "non-caring" or violence are appearing. Somehow, silence, even _____, quietly suppresses a meditation on such events. _____ a professor, I can recollect the number of occasions when my students have cried as we discussed such events in class. _____, society seems so indifferent.

_____ society seems so indifferent.

Options:

- 1) Yet
- 2) Thus
- 3) Hence
- 4) So

Correct Answer: Yet

Candidate Answer: Yet